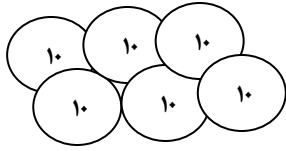
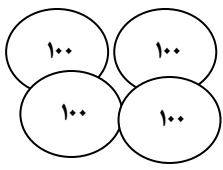


نام و نام خانوادگی : نام پدر آموزشگاه آزمون ریاضی نوبت دوم اردیبهشت ماه

۱- به شکل نگاه کنید و جای خالی را پر کنید.



00000
000

یکان دهگان صدگان

با عدد
با حروف

۲- جای خالی را عدد مناسب قرار دهید.

$$53 - 54 - \bigcirc - 56 - \bigcirc$$
$$118 - \bigcirc - 120 - \bigcirc$$

۳- در جای خالی عدد مناسب قرار دهید.

$$15 - 7 = \bigcirc \quad 14 - 6 = \bigcirc \quad 9 + 8 = \bigcirc \quad 7 + 9 = \bigcirc$$

۴- کم ترین عدد را پیدا کنید و با حروف بنویسید.

۴۰۶ - ۱۵۹ - ۵۴۳ - ۲۵۶ با حروف

۵- عددی بنویسید که صدگانش ۸ و یکانش ۵ باشد این عدد زوج است یا فرد؟

۶- اعداد زیر را با حروف و رقم بنویسید.

۷۱۹ نهصد و نود و سه

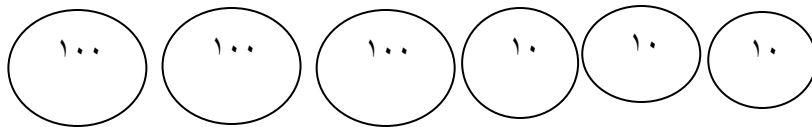
۷- محمد ساعت ۷ و نیم به مدرسه رفت و یک ساعت بعد به آنجا رسید چه ساعتی به آنجا رسیده است؟

۸- الگوها را ادامه دهید.

۱۰۰-۲۰۰ - -
۴۰- ۴۲- -

۹- چند ریال پول است؟

ریال



۱۰- ۵۷ میلی متر سانتی متر و میلی متر.

۵ سانتی متر میلی متر.

۱۱- دور اعداد زوج خط بکشید ..

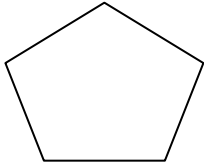
۷۲۳ - ۳۶۸ - ۴۱۲ - ۲۵۹

۱۲- جمع و تفریق زیر را انجام دهید از راه تکنیکی .

$$\begin{array}{r} - 720 \\ 318 \\ \hline \end{array}$$

$$\begin{array}{r} + 374 \\ 268 \\ \hline \end{array}$$


۱۳- نام شکل های زیر را بنویسید و جای خالی را پر کنید .



نام شکل :

تعداد ضلع :

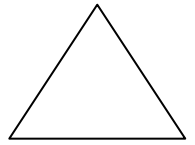
تعداد گوشه :



نام شکل :

تعداد ضلع :

تعداد گوشه :



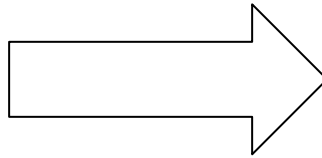
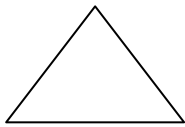
نام شکل :

تعداد ضلع :

تعداد گوشه :

۱۴- مادر زهرا ۴۵ ساله است و زهرا ۲۰ سال از او کوچک تر است . زهرا چند سال دارد ؟

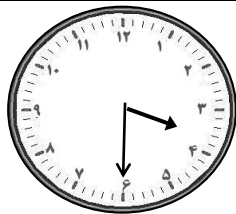
۱۵- خط تقارن شکل ها را بکشید طوری که شکل ها به دو قسمت مساوی تقسیم شود .



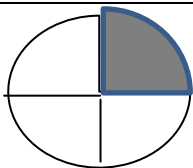
۷۶۹ ۵۴۸

۱۶- اعداد زیر با حذف دریکان و دهگان را به تقریب برسانید.

۱۶- ساعت چند است .



۱۷- عبارت ها را کامل کنید .



..... قسمت از قسمت رنگی است .

۱۸- جای خالی را پر کنید .



..... دسته تایی می شود

۱۹- در کیسه ای ۷ لوبیا قرمز و ۴ لوبیا سفید است . اگر بدون نگاه کردن لوبیایی را از کیسه بیرون بیاوریم .

شانس کدام لوبیا بیشتر است که بیرون بیاید ؟ چرا ؟

بازخورد توصیفی آموزگار نظر اولیا