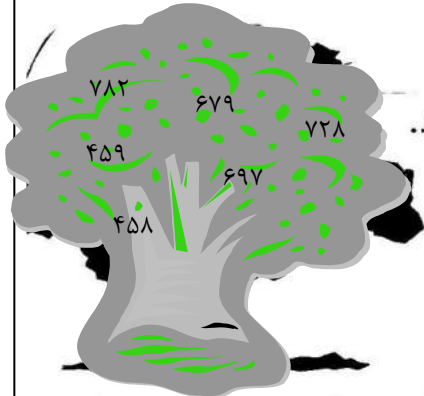


وضعیت فعلی شما در درس ریاضی اصلا مهم نیست،
یک معلم خصوصی حرفه ای و با تجربه میتواند به شما کمک کند تا بتوانید ریاضی را براحتی یاد بگیرید.
روزانه صدها دانش آموز با ثبت درخواست معلم خصوصی استادبانک میخواهند با بهترین معلم های ریاضی ایران کلاس خصوصی داشته باشند تا بتوانند ریاضی را بطور کامل یاد بگیرند و در امتحانات براحتی ۲۰ بگیرند.
شما نیاز دارید تا یک معلم خصوصی حرفه ای و با تجربه، سبک یادگیری شما را بشناسد و براساس پتانسیل های ذهنی شما، ریاضی را به شما تدریس کند.
استادبانک

بزرگترین و معتبرترین و محبوبترین سایت معلم خصوصی در ایران است
که به تمام فارسی زبانان در سرتاسر دنیا خدمات تدریس خصوصی ارائه میدهد.
معلمان متقاضی تدریس خصوصی بعد از ارسال درخواست ثبت نام در استادبانک، توسط تیم ارزیابی و داوری استادبانک از نظر کیفیت تدریس و سابقه تدریس بررسی و ارزیابی میشوند و تنها در صورت داشتن معیارهای لازم، به عضویت استادبانک در می آیند.
استادبانک سالانه ۱۳۰۰۰ از معلمان متقاضی تدریس خصوصی را رد میکند و تنها ۲۱۰ استاد هستند که میتوانند معیارهای لازم برای فعالیت در استادبانک را کسب کنند.
روند نظارت بر کیفیت تدریس اساتید بسیار سختگیرانه حتی بعد از عضویت در سامانه معلم خصوصی استادبانک نیز ادامه دارد تا تنها بهترین معلم های ریاضی که شاگردان از کیفیت تدریس آنها رضایت کامل را دارند، با ما فعالیت کنند.
شما میتوانید برای دیدن رزومه بهترین اساتید ریاضی استادبانک، همین الان در گوگل عبارت **معلم خصوصی ریاضی استادبانک** را جستجو کنید و وارد سایت استادبانک و در ادامه رزومه تک تک اساتید را به همراه قیمت هر جلسه کلاس خصوصی ریاضی را ببینید.



۱- با سه عدد (۴ و ۱ و ۵) هر چه می توانید عدد سه رقمی بنویسید.



۲- عددهای روی درخت را از کوچک به بزرگ مرتب کرده و بنویسید.

.....<.....<.....<.....<.....<.....

۳- با رقم‌های (۵ و ۶ و ۸) بزرگ‌ترین و کوچک‌ترین عدد سه رقمی را نوشته و اختلاف

آن‌ها را به دست آورید.

.....

-

.....

ب:

ک:

۴- عددهای زیر را از کوچک به بزرگ بنویسید.

۳۹۸ - ۶۰۲ - ۵۹۲ - ۵۰۹

.....

۵- اعداد زیر را به حروف بنویسید.

.....۳۹

.....۵۹۲

.....۴۰۹

.....۸۱۷

۶- اعداد زیر را به رقم بنویسید.

..... نود و سه

..... صد و بیست و هشت

..... دو بیست و دو

..... هفتصد و چهل و چهار

۷- یک عدد سه رقمی بنویسید که دهگان‌ش ۴ ، صدگان‌ش ۷ و یکان‌ش ۲ باشد . این عدد

را به حروف بنویسید.

۸- با توجه به شکل جدول را کامل کرده و عدد آن را به حروف بنویسید.

یکان	دهگان	صدگان
.....

۱۰۰

۱۰۰

۱۰۰

۱۰

۱۰

۱۰

۱۰

۱


۱

۱

۱

۱

۹- جاهای خالی را با عدد مناسب پر کنید.



۴ یکی و ۷ دهتایی می شود.....

۵ صدتایی و ۳ یکی می شود.....

۲ دهتایی و ۹ صدتایی می شود.....

۶ یکی و ۴ صدتایی و ۷ دهتایی می شود.....

۱۰- با ۳۵۰ شاخه گل مریم می توان دسته ی صدتایی و

دسته ی دهتایی درست کرد.



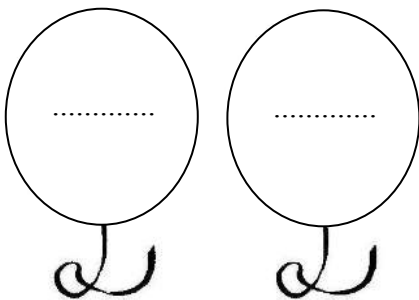
۱۱- عدد قبل و بعد هر یک از اعداد زیر را بنویسید.

..... ۵۲۱

..... ۷۰۶

۱۲- دو عدد بنویسید که صدگان یکی با یکان دیگری برابر

باشد.



۱۳- دور عددی که به ۳۰۰ نزدیک تر است را خط بکشید.

۱۲۹ - ۷۴۸ - ۲۹۷ - ۵۰۳ - ۲۱۴

۱۴- مرتبه ی صدگان در کدام یک از اعداد زیر بیشتر است.

○ ۲۷۸ ○ ۹۶ ○ ۵۰۲ ○ ۷۹۶

۱۵- در عدد ۵۱۸ ارزش مکانی کدام رقم بیشتر است؟

○ ۱ ○ ۵ ○ ۸

۱۶- در عدد ۲۴۹ کمترین ارزش مکانی را کدام رقم دارد؟

- ۹ ○ ۴ ○ ۲

۱۷- عدد قبل از ۷۴۰ کدام است؟

- ۷۰۴ ○ ۷۲۰ ○ ۷۳۹ ○ ۷۹۳

۱۸- در زیر هر عدد، عددی را بنویسید که صد تا بیشتر باشد.

۲۴۷	۶۸	۵۰۶	۷۹۱
--------------	-------------	--------------	--------------

۱۹- عددی سه رقمی بنویسید که یکان آن به اندازه‌ی تعداد چشم‌های شما، دهگان آن

به اندازه‌ی اعضای خانواده‌ی شما و صدگان آن به اندازه‌ی روزهای هفته باشد. این عدد را

به حروف هم بنویسید.

.....
-------	-------

۲۰- از ۸۰۹ تا ۸۴۲ را سه تا سه تا بشمار و بنویس.

.....

۲۱- از ۵۴۵ ، ۵ تا ۵ تا بشمار و تا ۶۰۵ بنویس.

.....

.....

۲۲- ده تا ده تا بشمارید و بنویسید.

۳۱۰-.....-.....-.....-.....-.....

۲۰۵-.....-.....-.....-.....-.....

۷۲۰-.....-.....-.....-.....-.....

۲۳- عبارات و اعداد درست را به هم وصل کنید.

- | | |
|-----|----------------------|
| ۹۹ | بزرگترین عدد سه رقمی |
| ۱۰۰ | کوچکترین عدد دو رقمی |
| ۹۹۹ | کوچکترین عدد سه رقمی |
| ۱۰ | بزرگترین عدد دو رقمی |

۲۴- ارزش مکانی ارقام خواسته شده را بنویسید.

۶ ۰ ۷

۵ ۲ ۸

۷ ۴ ۹



۲۵- با توجه به جدول سمت چپ، جدول سمت راست را کامل کنید.

صدتایی	دهتایی	یکی
۴	۵	۱۲
۶	۲۴	۷
۵	۳۵	۱۴
۳	۰	۳۸
۰	۴۸	۰
۱	۸۲	۵

→
→
→
→
→
→

یکان	دهگان	صدگان
.....
.....
.....
.....
.....
.....

۲۶- اعداد فرد بین دو عدد خواسته شده را بنویسید.

۳۳۷ - - - - - ۳۲۷

۷۱۳ - - - - - ۷۰۳

استادبانک به عنوان بزرگترین سایت تدریس خصوصی ایران مفتخر است که:
. بهترین بستر را برای با کیفیت ترین شیوه های آموزش و تدریس فراهم کرده است.
. قطب تدریس خصوصی کشور می باشد
. شرکت های دانش بنیان از جمله پیشرو ترین شرکت ها هستند که در اقتصاد
کشور سهم عظیمی دارند و استادبانک مفتخر است که از جمله بهترین های آنهاست.
. در سال ۹۶ به عنوان برترین شرکت رشد یافته در دانشگاه شریف شناخته شد.
. مجموعه استادبانک از جمله معتبرترین شرکت های فضای وب ایران و به عنوان
عضو رسمی اتحادیه کسب و کارهای مجازی از قابل اعتمادترین کسب و کارهای
آنلاین است.
. با فضایی کاملا آکادمیک در مرکز رشد دانشگاه شریف مستقر است.

