

ردیف	سئوالات
الف)	<p>بسمه تعالی</p> <p>نام و نام خانوادگی: _____</p> <p>کلاس: ۶/ _____</p> <p>نام درس: تعلیمات اجتماعی</p> <p>آموزش و پرورش منطقه ۲ تهران</p> <p>آزمون هماهنگ پایه ششم</p> <p>سال تحصیلی ۹۵-۹۶</p> <p>تاریخ: ۹۶/۳/۴</p> <p>زمان: ۷۰ دقیقه</p> <p>صفحه: ۱</p> <p>گزینه‌ی صحیح را انتخاب کنید.</p> <p>۱- پیامبر اکرم (ص) بدترین فرد میان دوستان را چه کسی می‌داند؟</p> <p>(۱) بخیل <input type="checkbox"/> (۲) دروغگو <input type="checkbox"/> (۳) سخن‌چین <input type="checkbox"/> (۴) تنبل <input type="checkbox"/></p> <p>۲- کدام یک از موارد زیر به آخرین مرحله‌ی تصمیم‌گیری اشاره دارد؟</p> <p>(۱) خوب فکر کنیم <input type="checkbox"/> (۲) نتیجه‌ی هر انتخاب را پیش‌بینی کنیم <input type="checkbox"/></p> <p>(۳) بهترین راه را انتخاب کنیم <input type="checkbox"/> (۴) مشورت کنیم <input type="checkbox"/></p> <p>۳- بیشتر منابع نفتی ایران در چه قسمت‌هایی از کشور وجود دارد؟</p> <p>(۱) جنوب و جنوب شرقی <input type="checkbox"/> (۲) جنوب و جنوب غربی <input type="checkbox"/></p> <p>(۳) شمال و شمال شرقی <input type="checkbox"/> (۴) غرب و جنوب غربی <input type="checkbox"/></p> <p>۴- پوشاک مردم در نواحی مختلف از چه نظر فرق نمی‌کند؟</p> <p>(۱) اندازه <input type="checkbox"/> (۲) شکل <input type="checkbox"/> (۳) جنس <input type="checkbox"/> (۴) رنگ <input type="checkbox"/></p>
ب)	<p>جواب درست را با علامت ✓ و جواب غلط را با ✗ مشخص کنید.</p> <p>(۱) انرژی‌های نو، آن دسته از منابع انرژی هستند که تمام می‌شوند <input type="checkbox"/></p> <p>(۲) کاخ عالی قاپو در شش طبقه ساخته شده و حدود پنجاه اتاق دارد <input type="checkbox"/></p> <p>(۳) کالاهای وارداتی ایران در دوره‌ی صفویه ابریشم، پارچه‌های زربفت، سنگ‌های قدیمی و خشکبار بود <input type="checkbox"/></p> <p>(۴) خرمشهر در سوم خرداد ۱۳۶۱ از جنگال دشمن آزاد شد <input type="checkbox"/></p>
ج)	<p>جاهای خالی را با کلمات مناسب پر کنید.</p> <p>۱- وابستگی زیاد از حد به دوست افراد را بر هم می‌زند.</p> <p>۲- به پیشروی آب دریاها در خشکی می‌گویند.</p>





<p>تاریخ: ۹۶/۳/۴ زمان: ۷۰ دقیقه صفحه: ۲</p>	<p>بسمه تعالی آموزش و پرورش منطقه ۲ تهران آزمون هماهنگ پایه ششم سال تحصیلی ۹۶-۹۵</p>	<p>نام و نام خانوادگی: کلاس: ۶/ نام درس: تعلیمات اجتماعی</p>
<p>ردیف</p>	<p>سئوالات</p>	
<p>۳- منابع گاز خانگی در استان قرار دارد.</p> <p>۴- به سرزمین هایی که استقلال سیاسی و اقتصادی نداشته باشند و تابع حکومت استعمارگر باشند، می گویند.</p>		
<p>۵)</p>	<p>پاسخ مناسب را انتخاب کنید.</p> <p>۱- در کشاورزی به بذر، کود و سم می گویند (سرمایه - مواد)</p> <p>۲- بزرگترین منبع ماهیان خاویاری در این دریا قرار دارد. (دریای خزر - دریای عمان)</p> <p>به هر صد سال می گویند. (قرن - دهه)</p> <p>۴- معروف ترین بیمارستان دوره اسلامی را عضالدوله بلعمی در این شهر بنا کرد. (اهواز - بغداد)</p>	
<p>ه)</p>	<p>به سئوالات زیر پاسخ دهید.</p> <p>۱- آقای محمدی به پرورش گل و گیاهان زینتی علاقه فراوانی دارد اما در منطقه زندگی او اختلاف دما در فصل های سال زیاد است، به نظر شما او چه روشی را باید برای کشت این گیاه انتخاب کند. دو دلیل انتخاب او را بنویسید.</p>	
<p>۲- چه عواملی موجب گسترش علوم و فنون در دوره اسلامی شد. (۲ مورد)</p>		
<p>۳- نقشه‌ی گردشگری چه نقشه‌ای است؟</p>		



نام و نام خانوادگی:	بسمه تعالی	تاریخ: ۹۶/۳/۲
کلاس: ۶/	آموزش و پرورش منطقه ۲ تهران	زمان: ۷۰ دقیقه
نام درس: تعلیمات اجتماعی	آزمون هماهنگ پایه ششم	صفحه: ۳
ردیف	سوالات	
	۴- شما وقتی می خواهید یک برنامه متعادل برای زندگی روزانه خود تنظیم کنید، چه مواردی را به اندازه کافی در آن می گنجانید؟ (۴ مورد)	
	۵- اروپاییان از طریق دریای مدیترانه و شمال آفریقا چه محصولاتی را از مسلمانان خریداری می کردند؟ (۴ مورد)	
	۶- تولید انبوه چیست؟	
	۷- شما به عنوان یک دوست خوب چه کارهایی برای دوستانتان انجام می دهید. (۲ مورد)	
	۸- چه عواملی موجب قدرتمندی اروپاییان شد؟ (۲ مورد)	
	۹- انواع روابط ایران با کشورهای همسایه را نام ببرید؟	



بسمه تعالی	
نام و نام خانوادگی:	آموزش و پرورش منطقه ۲ تهران
کلاس:	آزمون هماهنگ پایه ششم
نام درس: تعلیمات اجتماعی	سال تحصیلی ۹۵-۹۶
تاریخ: ۹۶/۳/۶	زمان: ۷۰ دقیقه
صفحه: ۴	سئوالات
ردیف	سئوالات
۱۰	چهار اثر تاریخی در اصفهان را نام ببرید؟
۱۱	با توجه به نقشه به سئوالات زیر پاسخ دهید.
	۱- نام کشورهای اطراف خلیج فارس را که با علامت ؟ مشخص شده است ، روی نقشه بنویسید؟
	۲- نام اقیانوسی که با علامت * مشخص شده است را بنویسید
	
	

مجموعه نهای

باستفاده از روش‌های تفویض اختیارات یا به سبب خرداد ۹۶

پاسخ سؤال های الف :

هر مورد ۵/۵ نمره در مجموع ۱ نمره

۱- نرینه ۳ سخن چین

۲- نرینه ۳ بهترین راه را انتخاب کنیم

۳- نرینه ۲ جنوب و جنوب غربی

۴- نرینه ۱ اندازه

پاسخ سؤال های ب : (درست و نادرست)

هر مورد ۵/۵ نمره در مجموع ۱ نمره

۱) نادرست (۲) درست

۲) نادرست (۳) نادرست

۳) درست (۴) درست

پاسخ سؤال های ج : (جاهای خالی)

هر مورد ۵/۵ نمره در مجموع ۱ نمره

۱- آرامش روانی

۲- خلیج

۳- خراسان رهنوی

۴- مستقره

پاسخ سؤال > : (سؤال انتخابی)

هر مورد ۵/۵ نمره در مجموع ۲ نمره

۱- مواد

۲- دریای خزر

۳- مرن

۴- بغداد

پاسخ سؤال های ه

(سؤال های تشریحی) در مجموع ۲ نمره

پاسخ سؤال ۱ - روش نگهداری

دلیل ۱- تنظیم بریا ، نور و رطوبت متناسب با نوع محصول

۲- سرکه خوبی در مصرف آب ۳- کشت انواع میوه ها و محصولات جا لیزی و ...

پاسخ سؤال ۲ -

هر مورد ۵/۵ نمره در مجموع ۱ نمره

۱- آموزه های دین اسلام

۲- نیازهای جدید مسلمانان

۳- ترمیم

۴- حمایت نرمانزویان از دانشمندان

۵- تجارت و بازرگانی

۶- طعنه سازی

پاسخ سؤال ۳

نقشه ای است که روی آن ، مکانی دیدنی ، آثار تاریخی نشان داده می شود .

نمره

پاسخ سؤال ۴

هر مورد ۵/۵ نمره در مجموع ۱ نمره

۱- استراحت و خواب

۲- درس خواندن

۳- عبادت کردن

۴- تفریحی و سرگرمی

پاسخ سؤال ۵ -

هر مورد ۱۵/۵ در مجموع ۱۰ امتزه
۱- شکر ۲- مژه ۳- کاعز ۴- قطب نما ۵- داروهای بیاضی ۶- آدون

پاسخ سؤال ۶ -

۱- کمک کردن به دوست در درس ها ۲- احترام به دوست ۳- بخشش خطاهای او
۴- وفاداری به دوست و...

پاسخ سؤال ۷

هر مورد ۱۵/۵ نمره در مجموع ۱۰ امتزه

۱- کمک کردن به دوست در درس ها ۲- احترام به دوست ۳- بخشش خطاهای او
۴- وفاداری به دوست و...

پاسخ سؤال ۸

(۴ مورد) هر مورد ۱۵/۵ نمره در مجموع ۱۰ امتزه

۱- انتقال علوم و فنون از جهان اسلام به اروپا ۲- تجارت و بازرگانی
۳- بسط علم و هنر ۴- اکتشافات حقیقی و آزمایشی و استفاده از آن

پاسخ سؤال ۹

(۴ مورد) هر مورد ۱۵/۵ نمره در مجموع ۱۰ امتزه

۱- بازرگانی - صنعتی

پاسخ سؤال ۱۰

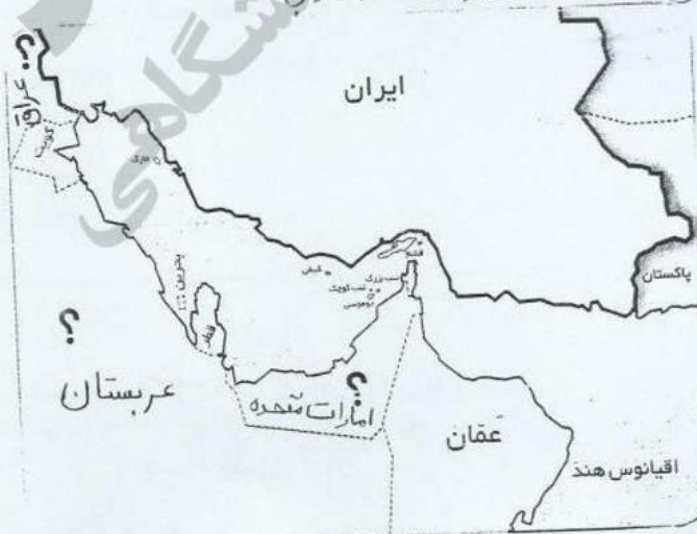
(۴ مورد) هر مورد ۱۵/۵ نمره در مجموع ۱۰ امتزه
۱- میدان امام (قدس عجلان) ۲- مسجد شیخ لطف الله ۳- مسجد امام (مسجد جامع عباسی)

پاسخ سؤال ۱۱ (نقشه)

هر مورد ۱۵/۵ نمره

۱- عراق ۲- عربستان ۳- امارات متحده عربی

احتیاط در حد



بازم بندی صرفاً جهت اطلاع خدمت
مگترم من باشد.



با درس نخواندن فرزندان چه کنیم؟ چه چیزی باعث می شود فرزند ما دچار افت تحصیلی شود؟ عوامل زیادی باعث می شوند، فرزند ما از درس بدش بیاید و از درس خواندن فراری باشد، یا حتی درس بخواند باز هم نمرات اش بالا نرود!

این مشکلات ساده نیستند، عوامل زیادی از جمله: خانواده، مدرسه، مشکلات اجتماعی و روانی خود دانش آموز و ... می توانند دخیل باشند. ما در مقالات زیر به تفصیل در رابطه با این عوامل صحبت کرده ایم و راه حل هایی را برای حل مشکل افت تحصیلی دانش آموزان ارائه کرده ایم.

با شناخت عوامل موثر بر افت تحصیلی و بی علاقگی نسبت به درس و از بین بردن آن ها، به فرزندتان کمک بزرگی کرده اید، او در مسیر پیشرفت و موفقیت حرکت خواهد کرد و با بروز دادن استعدادها و توانایی هایش به خودباوری می رسد.

[اینجا کلیک کنید تا مقاله "با افت تحصیلی فرزندم چه کنم؟" را بخوانید.](#)

[اینجا کلیک کنید تا مقاله "علت بی علاقگی فرزندم به درس چیست؟" را بخوانید.](#)

بعضی وقت ها متوجه می شویم که فرزند ما علی رقم سرعت یادگیری بالایی که دارد، از درس خواندن خوشش نمی آید! یا ممکن است در بعضی دروس مثل املا یا ریاضی یا اکثر درس هایش ضعیف باشد. او دوست ندارد تکالیفش را انجام دهد، نمراتش پایین هستند و خودش، معلمش و حتی شما هم باور کرده اید که او کندذهن است یا یادگیری پائینی دارد.

اما ممکن است اتفاقاً او باهوش و با استعداد باشد اما اختلال یادگیری داشته باشد! و شما از این قضیه بی خبر هستید. اختلال یادگیری مشکل پیچیده ای نیست و به راحتی قابل حل است، اما تشخیص آن برای پدر و مادر و معلمانی که آگاهی روانشناسی ندارند، سخت است. اختلال یادگیری باید به موقع شناسایی و درمان شود. در مقاله زیر مفصلاً در رابطه با آن صحبت کرده ایم، و راه حل هایی را ارائه داده ایم.

با شناخت انواع این اختلالات و رفع آن ها در فرزندتان او را از سردرگمی می رهانید و این تصور که دانش آموز تنبل یا کندذهنی است را برایش از بین می برید، او نمرات خود را بالا می برد و با بروز توانایی ها و دیدن موفقیت هایش، اعتماد به نفس و انگیزه اش نیز افزایش خواهد یافت.

[اینجا کلیک کنید تا مقاله "انواع اختلالات یادگیری" را بخوانید.](#)

چرا فرزند من خجالتی است؟ چه چیزی باعث شده او خود را ناتوان تر از دیگران ببیند و در یک جمع به خود اجازه ابراز وجود ندهد؟ این ها نشانه های خطرناکی از یک بزرگسالی منفعل و شکست خورده نیست؟ مقاله زیر به طور کامل به مقوله اعتماد به نفس در فرزندان شما و راه های تقویت آن می پردازد، با شناخت و بکار گیری آن ها می توانید به فرزندتان کمک کنید، در آینده از شخصیت بهتری برخوردار باشد.

[اینجا کلیک کنید تا مقاله "چطور عزت نفس از دست رفته فرزندمان را دوباره زنده کنیم؟" را بخوانید.](#)

کلاس های تقویتی گزینه های خیلی خوبی برای یادگیری بهتر، رفع اشکال و تقویت پایه درسی فرزندمان هستند، اما شکل برگزاری این کلاس ها به میزان زیادی در نتیجه آن ها موثر است، تعداد دانش آموزان، معلمی که به آن ها تدریس می کند، میزان تعاملی که شما به عنوان والدین با معلم دارید و...

ما در مقاله زیر به نقد و بررسی شکل برگزاری کلاس های تقویتی خصوصی و عمومی و تاثیری که هر کدام روی فرزند شما می گذارند، بحث کرده ایم. با کلیک روی لینک زیر، مقاله را بخوانید و بهترین شیوه برگزاری کلاس تقویتی را برای فرزندتان انتخاب کنید، تا بیشترین و مفیدترین نتیجه را دریافت کنید.

[اینجا کلیک کنید تا مقاله "کلاس خصوصی یا عمومی؛ کدام بهتر است؟" را بخوانید.](#)

در مقاله زیر لیستی از بهترین کتاب های کمک آموزشی پایه ششم ابتدایی را تهیه کرده ایم. می توانید بنا بر توضیحاتی که در مورد کتاب ها داده ایم، کتاب مورد نیاز فرزندتان را انتخاب کنید.

[اینجا کلیک کنید تا مقاله "کتاب های کمک درسی ششم دبستان" را بخوانید.](#)

استادبانک به عنوان بزرگترین سایت تدریس خصوصی ایران مفتخر است که:
• بهترین بستر را برای با کیفیت ترین شیوه های آموزش و تدریس فراهم کرده است.
• قطب تدریس خصوصی کشور می باشد
• شرکت های دانش بنیان از جمله پیشرو ترین شرکت ها هستند که در اقتصاد کشور سهم عظیمی دارند و استادبانک مفتخر است که از جمله بهترین های آنهاست.
• در سال ۹۶ به عنوان برترین شرکت رشد یافته در دانشگاه شریف شناخته شد.
• مجموعه استادبانک از جمله معتبرترین شرکت های فضای وب ایران و به عنوان عضو رسمی اتحادیه کسب و کارهای مجازی از قابل اعتمادترین کسب و کارهای آنلاین است.
• با فضایی کاملا آکادمیک در مرکز رشد دانشگاه شریف مستقر است.

