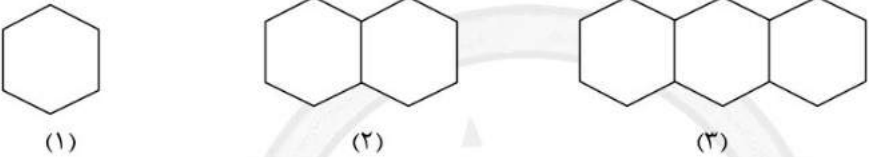



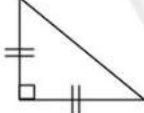
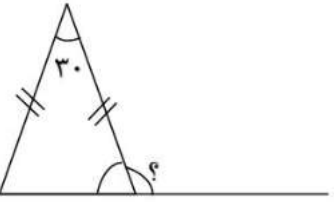
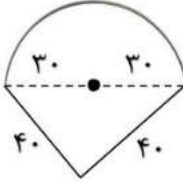

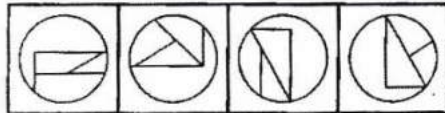
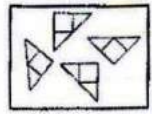





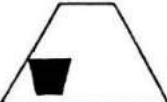


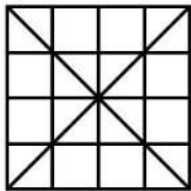


نام و نام خانوادگی :	بسمه تعالی	تاریخ : ۹۷/۰۲/۱۹
نام درس : تمامی دروس	اداره آموزش و پرورش شهرستان بابل	شماره :
پایه : پنجم	آمادگی و دبستان غیر دولتی هوشمند دخترانه مهرگان	تعداد سوال : ۴۵
<b>آزمون هفته</b>		
<b>** قرآن و هدیه **</b>		
۱- عبارت قرآنی « صِرَاطَ الَّذِينَ أَنْعَمْتَ عَلَيْهِمْ » چند حرف ناخوانا دارد؟ (الف) ۱ (ب) ۲ (ج) ندارد (د) ۳		
۲- کدام گزینه شکل صحیح خواندن عبارت قرآنی (( حم )) است؟ (الف) ح ، میم (ب) ح ، م (ج) ح ، م (د) ح ، میم		
۳- روز جمعه مخصوص چه کارهایی است؟ (الف) شادی با خانواده (ب) نظافت و پاکیزگی (ج) عبادت و نماز جمعه (د) همه ی موارد		
۴- آیه ی ۱۰۳ سوره ی آل عمران به چه موضوعی اشاره دارد؟ « وَأَعْتَصِمُوا بِحَبْلِ اللَّهِ جَمِيعاً وَ لَا تَفَرَّقُوا » (الف) رعایت عدل و انصاف (ب) متحد بودن و دوری از تفرقه (ج) صداقت و راستگویی (د) کمک به نیازمندان		
۵- آیه ی زیر به چه گروهی از افراد در روز قیامت اشاره دارد؟ « فَهُوَ فِي عِيشَةٍ رَاضِيَةٍ فِي جَنَّةٍ عَالِيَةٍ » ← « این ها در بهشتی عالی مرتبه زندگی کاملاً رضایت بخشی دارند. » (الف) بهشتیان (ب) دوزخیان (ج) جهنمیان (د) همه ی انسان ها		
<b>** مطالعات اجتماعی **</b>		
۶- کدامیک از شاعران زیر در دوره ی مغول و تیموریان زندگی نمی کرد؟ (الف) عطار نیشابوری (ب) مولوی (ج) سعدی (د) فردوسی		
۷- رصدخانه ی مراغه با همت ..... تأسیس شد. (الف) شاهرخ (ب) خواجه نصیرالدین توسی (ج) هلاکو (د) شیخ فضل الله همدانی		
۸- مسجد گوهرشاد مشهد به دستور گوهرشاد همسر ..... ساخته شد. (الف) چنگیز (ب) تیمور (ج) شاهرخ (د) هلاکو		
۹- مرقد مطهر امام موسی کاظم (ع) و امام محمد تقی (ع) در کدام شهر قرار دارد و این امامان بزرگوار به دست کدام حاکمان ظالم به شهادت رسیدند؟ (الف) بغداد - بنی امیه (ب) کاظمین عراق - بنی عباس (ج) کربلا - بنی امیه (د) کاظمین - بنی امیه		
۱۰- کدام پادشاه ترک تبار به هند لشکرکشی کرد و گنج های فراوانی را به غارت برد؟ (الف) سلطان محمدخوارزمشاه (ب) سلطان محمود غزنوی (ج) سلطان مسعود غزنوی (د) سلطان ملکشاه سلجوقی		
<b>** علوم **</b>		
۱۱- گیاهان انرژی لازم برای ساختن غذا را از ..... می گیرند. (الف) آب (ب) هوا (ج) نور خورشید (د) خاک		
۱۲- یکی از مواد اولیه برای غذاسازی گیاهان که به حالت گاز است ..... می باشد. (الف) اکسیژن (ب) مواد معدنی (ج) مواد آلی (د) کربن دی اکسید.		
۱۳- (( فتوسنتز )) یعنی چه؟ (الف) تبادل گاز در گیاه (ب) غذاسازی در گیاه (ج) تعرق گیاه (د) تبادل اکسیژن در گیاه		
۱۴- کدام عامل مانع فرسایش خاک می شود؟ (الف) احداث شهرهای جدید (ب) شخم زدن در جهت شیب زمین (ج) کاشت درختان (د) افزایش تعداد دام در مراتع		
۱۵- لوله های بسیار باریکی که آب را از ریشه به ساقه و برگ می برند چه نام دارند؟ (الف) آوند (ب) تار کشنده (ج) ساقه (د) دمبرگ		

۱۶- کار ریشه در گیاهان چیست؟ الف) جذب آب و مواد معدنی موجود در خاک ب) ریشه، گیاه را در خاک محکم نگه می دارد. ج) همه ی ریشه ها مسئول غذاسازی اند. د) گزیننه های الف و ب
۱۷- کدام عامل مهم ترین عامل خردشدن سنگ ها در نواحی بیابانی می باشند؟ الف) جانوران حفار ب) وزش طوفان ها ج) گرما و سرما د) یخ زدن آب
۱۸- در عمل غذاسازی گیاهان در مرحله ی پایانی چه موادی تولید می شود؟ الف) اکسیژن + کربن دی اکسید ب) کربن دی اکسید + آب ج) قند + آب د) قند + اکسیژن
<b>** ریاضی **</b>
۱۹- پوریا ساعت ۶:۲۵:۲۹ صبح از خانه بیرون رفت و ساعت ۳:۰۰:۱۶ بعدازظهر به خانه برگشت. او چه مدت بیرون از خانه بوده است؟ الف) ۷:۳۵:۴۷ (ب) ۳:۲۵:۱۳ (ج) ۸:۳۴:۴۷ (د) ۸:۳۴:۴۶
۲۰- در الگوی زیر شکل چهل و پنجم با چند پاره خط درست می شود؟ الف) ۲۰۰ ب) ۲۳۶ ج) ۲۲۵ د) ۵۲۵

۲۱- نسبت عرض به طول یک مستطیل ۲ به ۷ است. اگر محیط آن ۳۶ سانتی متر باشد مساحت آن چند سانتی مترمربع است؟ الف) ۵۶ (ب) ۲۲۶ (ج) ۱۸ (د) ۱۸۰
۲۲- نزدیک به ۷۰٪ از سطح زمین را آب ها پوشانده اند. اگر این مقدار ۳۵۰ میلیون کیلومتر باشد مساحت کل زمین تقریباً چند کیلومترمربع است؟ الف) ۸۵۰ (ب) ۵۰۰ (ج) ۳۰۰ (د) ۱۵۰۰
۲۳- در کدام شکل زیر تعداد خطوط تقارن با تعداد ضلع ها برابر نیست؟ الف)  (ب)  (ج)  (د) 
۲۴- اندازه ی زاویه ی خواسته شده چقدر است؟ الف) ۷۵ ب) ۱۵۰ ج) ۱۰۵ د) ۶۰

۲۵- محیط شکل زیر کدام است؟ الف) $94/2$ ب) $174/2$ ج) $168/4$ د) $58/4$

۲۶- مکعب مستطیلی به اندازه های ۳، ۵، ۸ سانتی متر داریم. اگر اندازه هایش را ۳ برابر کنیم حجم آن چند برابر می شود؟ الف) ۹ برابر (ب) ۲۷ برابر (ج) ۶ برابر (د) تغییری نمی کند.
۲۷- برای آبیاری گیاهان یک باغچه به روش قطره ای، روزانه $74/32$ لیتر آب مصرف می شود. در یک ماه چند لیتر آب مصرف می شود؟

این مقدار برابر با چند سی سی است؟	الف) ۳۳۳۹۶۰۰۰۰ (ب) ۲۲۲۹۶۰۰/۰۰ (ج) ۲۲۲۹۶۰ (د) ۱۶۳۹۶۰۰۰۰ (د)		
۲۸- برای نمایش تغییر بازار قیمت ماشین، کدام نمودار بهتر است؟	الف) ستونی (ب) تصویری (ج) خط شکسته (د) دایره ای		
۲۹- نسبت دو عدد ۱ به ۲ و میانگین آنها ۲۴ است. تفاضل دو عدد کدام گزینه است؟	الف) ۱۶ (ب) ۲۰ (ج) ۱۵ (د) ۱۴		
۳۰- معدل ۳ عدد $\frac{18}{5}$ می باشد. اگر عدد اولی $\frac{19}{5}$ و اختلاف دومی و سومی ۳ واحد باشد عدد کوچکتر چند است؟	الف) ۱۷ (ب) $\frac{17}{5}$ (ج) ۱۸ (د) $\frac{16}{5}$		
<b>** استعداد تحلیلی **</b>			
۳۱- از کنار هم قرار دادن شکل های تصویر X کدام تصویر تشکیل می شود؟			
			
(X)	(۱) (۲) (۳) (۴)		
۳۲- از کنار هم قرار دادن شکل های تصویر X کدام تصویر تشکیل می شود؟			
			
(X)	(۱) (۲) (۳) (۴)		
۳۳- از ۴ شکل داده شده در زیر کدام یک عیناً مانند شکل است؟			
			
(د)	(ج) (ب) (الف)		
۳۴- اشکال موجود است؟			
یک خاصیت مشترک دارند. این خاصیت در کدام یک از چهار شکل داده شده در زیر			
			
(د)	(ج) (ب) (الف)		
۳۵- تعداد مثلث های تصویر زیر چندتا است؟			
	الف) ۳۶ (ب) ۴۰ (ج) ۴۴ (د) ۴۸		

<b>* ادبیات *</b>	
۳۶- در عبارت زیر ( صفت ، فاعل ، مفعول ) به ترتیب کدام اند؟ « آن گاه سیمرغ پسر را برداشت و به پای کوه برد و به پدر سپرد. سام جوانی را دید زورمند که موهای سفید بلندش تا کمر آویخته بود.»	
الف) سیمرغ ، سام ، بلند	ب) بلند ، زورمند ، کمر
ج) سفید ، سام ، سیمرغ	د) زورمند ، سیمرغ ، جوانی
۳۷- کدام گزینه با بقیه هم خانواده نیست؟	
موفق	ب) توقف
ج) توفیق	د) موفقیت
۳۸- در کدام گزینه جمع و مفرد کلمات درست نیامده است؟	
الف) قلب و قلوب	ب) مسئله و مسائل
ج) عمیق و اعماق	د) اول و اوایل
۳۹- در بیت (درد عشقی کشیده ام که می‌رس / زهر هجری چشیده ام که می‌رس) نقش واژه های مشخص شده کدام است؟	
الف) مفعول - مفعول	ب) مفعول - متمم
ج) مضاف الیه - صفت	د) مفعول - نهاد
۴۰- تمام واژه های کدام گزینه ، پسوند یکسانی ندارد؟	
الف) خوابگاه - ایستگاه - دانشگاه	ب) سحرگاه - شامگاه - صبحگاه
ج) آرامگاه - شبانگاه - فرودگاه	د) قرارگاه - گردشگاه - درگاه
۴۱- در کدام گزینه هیچیک از ترکیب ها وصفی نیستند؟	
الف) باد پاییزی، بزرگراه، داستان های کهن	ب) شب بارانی، شهر گرگان، فرزند ایران
ج) باد بهار، پهنای دریا، تکلیف شب	د) سربازان کشور، مدافعان باغیرت، جنگل انبوه
۴۲- در کدام گزینه همه ی واژه ها با هم، هم خانواده نیستند؟	
الف) مسعود - سعد - سعید - سعدی	ب) خواهنده - خواستار - خواهش - خواسته
ج) تجلیل - جلال - مجلل - لجوج	د) عظمت - عظیم - عظم - معظّم
۴۳- در کدام گزینه غلط املایی وجود ندارد؟	
الف) ای خوان بزرگ، تو چرا فرار نمی کنی؟ تو چرا نمی ترسی؟	
ب) در دوره ی هلاکو و هنگام چیره گی مغول به ترتیب دانشمندان توجه کرد.	
ج) امکانات را برای جذب دانشمندان و ساختن رصدخانه ی بزرگ مراغه به کار گیرد.	
د) او می خاست یک مرکز علمی ایجاد کند اما برای این کار دشوار تصمیم عجیبی گرفت.	
۴۴- در کدام مصراع حرف پیوند یافت نمی شود؟	
الف) مزد آن گرفت جان برادر که کار کرد.	ب) تو نیکی می کن و در دجله انداز
ج) ازیرا ندارد برکس شکوه	د) ز کوشش به هر چیز خواهی رسید.
۴۵- بیت زیر از زبان کدام شخصیت شاهنامه گفته شده است؟	
«همان گه بیایم چو ابر سیاه / بی آزارت آرم بدین جایگاه»	
الف) سام	ب) زال
ج) سیمرغ	د) رستم



با درس نخواندن فرزندان چه کنیم؟ چه چیزی باعث می شود فرزند ما دچار افت تحصیلی شود؟ عوامل زیادی باعث می شوند، فرزند ما از درس بدش بیاید و از درس خواندن فراری باشد، یا حتی درس بخواند باز هم نمرات اش بالا نرود!

این مشکلات ساده نیستند، عوامل زیادی از جمله: خانواده، مدرسه، مشکلات اجتماعی و روانی خود دانش آموز و ... می توانند دخیل باشند. ما در مقالات زیر به تفصیل در رابطه با این عوامل صحبت کرده ایم و راه حل هایی را برای حل مشکل افت تحصیلی دانش آموزان ارائه کرده ایم.

با شناخت عوامل موثر بر افت تحصیلی و بی علاقه‌گی نسبت به درس و از بین بردن آن ها، به فرزندتان کمک بزرگی کرده اید، او در مسیر پیشرفت و موفقیت حرکت خواهد کرد و با بروز دادن استعدادها و توانایی هایش به خودباوری می رسد.

[اینجا کلیک کنید تا مقاله "با افت تحصیلی فرزندم چه کنم؟" را بخوانید.](#)

[اینجا کلیک کنید تا مقاله "علت بی علاقه‌گی فرزندم به درس چیست؟" را بخوانید.](#)

بعضی وقت ها متوجه می شویم که فرزند ما علی رقم سرعت یادگیری بالایی که دارد، از درس خواندن خوشش نمی آید! یا ممکن است در بعضی دروس مثل املا یا ریاضی یا اکثر درس هایش ضعیف باشد. او دوست ندارد تکالیفش را انجام دهد، نمراتش پایین هستند و خودش، معلمش و حتی شما هم باور کرده اید که او کندذهن است یا یادگیری پائینی دارد.

اما ممکن است اتفاقاً او باهوش و با استعداد باشد اما اختلال یادگیری داشته باشد! و شما از این قضیه بی خبر هستید. اختلال یادگیری مشکل پیچیده‌ای نیست و به راحتی قابل حل است، اما تشخیص آن برای پدر و مادر و معلمانی که آگاهی روانشناسی ندارند، سخت است. اختلال یادگیری باید به موقع شناسایی و درمان شود. در مقاله زیر مفصلاً در رابطه با آن صحبت کرده ایم، و راه حل هایی را ارائه داده ایم.

با شناخت انواع این اختلالات و رفع آن ها در فرزندتان او را از سردرگمی می رهانید و این تصور که دانش آموز تنبل یا کندذهنی است را برایش از بین می برید، او نمرات خود را بالا می برد و با بروز توانایی ها و دیدن موفقیت هایش، اعتماد به نفس و انگیزه اش نیز افزایش خواهد یافت.

[اینجا کلیک کنید تا مقاله "انواع اختلالات یادگیری" را بخوانید.](#)

چرا فرزند من خجالتی است؟ چه چیزی باعث شده او خود را ناتوان تر از دیگران ببیند و در یک جمع به خود اجازه ابراز وجود ندهد؟ این ها نشانه های خطرناکی از یک بزرگسالی منفعل و شکست خورده نیست؟ مقاله زیر به طور کامل به مقوله اعتماد به نفس در فرزندتان شما و راه های تقویت آن می پردازد، با شناخت و بکار گیری آن ها می توانید به فرزندتان کمک کنید، در آینده از شخصیت بهتری برخوردار باشد.

[اینجا کلیک کنید تا مقاله "چطور عزت نفس از دست رفته فرزندمان را دوباره زنده کنیم؟" را بخوانید.](#)

کلاس های تقویتی گزینه های خیلی خوبی برای یادگیری بهتر، رفع اشکال و تقویت پایه درسی فرزندمان هستند، اما شکل برگزاری این کلاس ها به میزان زیادی در نتیجه آن ها موثر است، تعداد دانش آموزان، معلمی که به آن ها تدریس می کند، میزان تعاملی که شما به عنوان والدین با معلم دارید و...

ما در مقاله زیر به نقد و بررسی شکل برگزاری کلاس های تقویتی خصوصی و عمومی و تاثیری که هر کدام روی فرزند شما می گذارند، بحث کرده ایم. با کلیک روی لینک زیر، مقاله را بخوانید و بهترین شیوه برگزاری کلاس تقویتی را برای فرزندتان انتخاب کنید، تا بیشترین و مفیدترین نتیجه را دریافت کنید.

[اینجا کلیک کنید تا مقاله "کلاس خصوصی یا عمومی؛ کدام بهتر است؟" را بخوانید.](#)

در مقاله زیر لیستی از بهترین کتاب های کمک آموزشی پایه پنجم ابتدایی را تهیه کرده ایم. می توانید بنا بر توضیحاتی که در مورد کتاب ها داده ایم، کتاب مورد نیاز فرزندتان را انتخاب کنید.

[اینجا کلیک کنید تا مقاله "کتاب های کمک درسی پنجم دبستان" را بخوانید.](#)

استادبانک به عنوان بزرگترین سایت تدریس خصوصی ایران مفتخر است که:  
• بهترین بستر را برای با کیفیت ترین شیوه های آموزش و تدریس فراهم کرده است.  
• قطب تدریس خصوصی کشور می باشد  
• شرکت های دانش بنیان از جمله پیشرو ترین شرکت ها هستند که در اقتصاد کشور سهم عظیمی دارند و استادبانک مفتخر است که از جمله بهترین های آنهاست.  
• در سال ۹۶ به عنوان برترین شرکت رشد یافته در دانشگاه شریف شناخته شد.  
• مجموعه استادبانک از جمله معتبرترین شرکت های فضای وب ایران و به عنوان عضو رسمی اتحادیه کسب و کارهای مجازی از قابل اعتمادترین کسب و کارهای آنلاین است.  
• با فضایی کاملا آکادمیک در مرکز رشد دانشگاه شریف مستقر است.

