

وضعیت فعلی شما در درس ریاضی اصلا مهم نیست!

یک معلم خصوصی حرفه ای و با تجربه میتواند به شما کمک کند تا بتوانید ریاضی را به راحتی یاد بگیرید. روزانه صدها دانش آموز با ثبت درخواست معلم خصوصی در استادبانک میخواهند با بهترین معلم های ریاضی ایران کلاس خصوصی داشته باشند تا بتوانند ریاضی را بطور کامل یادگیرند و در امتحانات براحتی ۲۰ بگیرند.

شما نیاز دارید تا یک معلم خصوصی حرفه ای و با تجربه، سبک یادگیری شما را بشناسد و براساس پتانسیل های ذهنی شما، ریاضی را به شما تدریس کند. استادبانک بزرگترین و معتبر ترین و محبوب ترین سایت معلم خصوصی در ایران است. که به تمام فارسی زبانان در سرتاسر دنیا خدمات تدریس خصوصی ارائه میدهد.

معلمان متقاضی تدریس خصوصی بعد از ارسال درخواست ثبت نام در استادبانک، توسط تیم ارزیابی و داوری استادبانک از نظر کیفیت تدریس و سابقه تدریس بررسی و ارزیابی می شوند و تنها در صورت داشتن معیارهای لازم، به عضویت استادبانک در می آیند.

استادبانک سالانه ۱۳۰۰۰ معلم متقاضی تدریس خصوصی را رد میکند و تنها ۲۱۰ نفر هستند که میتوانند معیارهای لازم برای فعالیت در استادبانک را کسب کنند. روند نظارت بر کیفیت تدریس اساتید بسیار سختگیرانه حتی بعد از عضویت در سامانه معلم خصوصی استادبانک نیز ادامه دارد تا تنها بهترین معلم های ریاضی که شاگردان از کیفیت تدریس آن ها رضایت کامل را دارند، با ما فعالیت کنند.

شما میتوانید برای دیدن رزومه بهترین اساتید ریاضی استادبانک، همین الان در گوگل عبارت معلم خصوصی ریاضی استادبانک را جستجو کنید و وارد سایت استادبانک و در ادامه رزومه تک تک اساتید را به همراه قیمت هر جلسه کلاس خصوصی ریاضی را ببینید.



نام و نام خانوادگی: کلاس سوم دبستان نبوت پسرانه ریاضی ۱۸ شماره دانش آموز:
آموزگار: محمدحسین امیدوار

۱- علامت $< = >$ قرار دهید.

۲۰ تا ۱۰۰ متر ۲۰۰۰ متر ۱ کیلومتر ۷۲۴ متر

۸ کیلومتر ۷ تا ۱۰۰ متر ۱۴۵ سانتی متر ۲ متر

۳۲۴۵ متر ۳ کیلومتر ۳۰۰ سانتی متر ۳ متر

۲- مقایسه کنید.

۷۰۰ - ۳۱۵ <input type="radio"/>	۳۱۵ + ۴۰۰ <input type="radio"/>	۳۷۰ + ۲۵۰ <input type="radio"/>	۷۹۰ - ۳۴۶ <input type="radio"/>	۷۲۵ + ۴۱ <input type="radio"/>	۸۹۲ - ۲۱۶ <input type="radio"/>
---------------------------------	---------------------------------	---------------------------------	---------------------------------	--------------------------------	---------------------------------

۳- در جاهای خالی کلمه‌ی کوچکتر یا بزرگتر بنویسید؟

عددهای سه رقمی از عددهای چهار رقمی..... هستند.

عددهای دو رقمی..... از عددهای سه رقمی هستند.

عدد ۱۰۰۰ از عدد ۹۵۸ : است.

عددهای یک رقمی از عددهای سه رقمی هستند.

عددی که تعداد رقم‌های آن بیش تر است است از عددی که تعداد

رقم‌های آن کم تر است.

۴- تساوی‌ها را کامل کنید.

$$۵۸۲ = ۲۹۵ + \dots + ۱۰۳ \quad ۵۸ + ۴۵ + ۳۰ = ۷۰ + \dots$$

$$۷۲۹ = ۱۰۰۰ - \dots \quad ۳۶ + ۴۰ + ۷۲ = \dots + ۸۰$$

۵- با دو عدد ۱۳۴۵ و ۱۳۰۵ دو نامساوی بنویسید.

می‌تونی با بهترین معلم های ریاضی ایران کلاس خصوصی داشته باشی.

کافیه تو گوگل جستجو کنی:

معلم خصوصی ریاضی استادبانک

نام و نام خانوادگی: کلاس سوم دبستان نبوت پسرانه ریاضی ۱۳ شماره دانش آموز: آموزگار: محمدحسین امیدوار

۱- اعداد زیر را به حروف بنویسید.
 ۳۲۴۵
 ۷۰۸۹
 ۲۳۵۷

۲- اعداد زیر را به رقم بنویسید.

پنج هزار و سیصد و نه ----- (.....)
 نه هزار و نه ----- (.....)
 هشت هزار و چهارصد و هفتاد و سه ----- (.....)
 شش هزار و شصت و شش ----- (.....)

۳- ۳ هزار تا و ۵ صدتا می شود.....

۴- کوچکترین عدد چهاررقمی که رقم‌هایش تکراری نباشد، کدام است؟

۱۲۳۴ ۱۰۳۴ ۱۰۲۳ ۱۰۲۱

۵- بزرگترین عدد چهار رقمی که رقم‌هایش تکراری نباشد، کدام است؟

۹۹۹۹ ۹۸۷۶ ۹۸۶۷ ۹۷۸۶

۶- اگر به بزرگترین عدد سه رقمی، یک واحد اضافه کنیم، چه عددی حاصل می‌شود؟

۱۰۰۰ ۹۹۹ ۱۰۰۰ ۹۹۹۹

۷- در یک عدد چهاررقمی، اولین رقم از سمت چپ چه نام دارد؟

یکان هزار یکان دهگان صدگان

۸- جاهای خالی را پر کنید.

۶۲۵۹ برابر است با ده‌تایی و هزارتایی و صدتایی و یکی

۷۰۰۸ برابر است با یکی و ده‌تایی و صدتایی و هزارتایی

۳ یکی و ۸ صدتایی و ۵ ده‌تایی و ۴ هزارتایی می‌شود.....

۵ یکی و ۲ ده‌تایی و ۷ صدتایی و ۹ هزارتایی می‌شود.....

۹- اعداد بین دو عدد را بنویسید.

۱۰۱۱ - - - - - - - - - - ۱۰۰۶

۱۳۱۴ - - - - - - - - - - ۱۳۰۹

۵۱۷۴ - - - - - - - - - - ۵۱۶۹

می‌تونی با بهترین معلم های ریاضی ایران کلاس خصوصی داشته باشی.

کافیه تو گوگل جستجو کنی:

معلم خصوصی ریاضی استادبانک

نام و نام خانوادگی: کلاس سوم دبستان نبوت پسرانه ریاضی ۱۴ شماره دانش آموز: آموزگار: محمدحسین امیدوار

- ۱۰- اختلاف بزرگترین عدد چهاررقمی و کوچکترین عدد چهاررقمی را به دست آورید.
- ۱۱- با اعداد ۶ و ۰ و ۸ و ۵ بزرگترین و کوچکترین عدد چهاررقمی را بنویسید و حاصل جمع آن ها را به دست آورید.
- ۱۲- کوچکترین عدد چهاررقمی که مرتبه‌ی صدگان آن ۶ باشد را بنویسید.
- ۱۳- بزرگترین عدد چهاررقمی که مرتبه‌ی یکان هزار آن ۷ باشد را بنویسید.
- ۱۴- دو عدد بعدی را بنویسید.
- ۳۰۲۶-.....-.....
۷۵۱۲-.....-.....
- ۱۰۰۸-.....-.....
۸۱۰۹-.....-.....
- ۵۱۰۹-.....-.....
۳۲۴۵-.....-.....
- ۱۵- دو عدد قبلی هر یک از اعداد را بنویسید.
- ۶۸۱۴ -.....-.....
۷۱۵۴ -.....-.....
- ۹۰۱۰ -.....-.....
۳۱۰۲ -.....-.....
- ۱۶- با توجه به عدد ۷۹۳۵:
الف) عدد را به حروف بنویسید.
ب) ارزش مکانی رقم ۹ چیست؟
ج) کدام رقم بیشترین ارزش مکانی را دارد؟
د) کدام رقم کمترین ارزش مکانی را دارد؟
- ۱۷- اعداد بعدی را ده تا ده تا بنویسید.
- ۱۰۶۰-.....-.....
۱۰۳۰-.....-.....
- ۷۴۲۸-.....-.....
- ۱۸- دو رقمی که ارزش بیش‌تری دارد، خط بکشید.
- ۷۵۹۱ ۶۸۲۴ ۱۳۰۷

می‌تونی با بهترین معلم های ریاضی ایران کلاس خصوصی داشته باشی.
کافیه تو گوگل جستجو کنی:
معلم خصوصی ریاضی استادبانک

نام و نام خانوادگی: کلاس سوم دبستان نبوت پسرانه ریاضی ۱۵ شماره دانش آموز: آموزگار: محمدحسین امیدوار

۱۹- اعداد بین ۳۰۱۲ و ۳۰۱۹ را روی محور بنویسید.



۲۰- اعداد زیر را از کوچک به بزرگ مرتب کرده و بنویسید.

۴۰۵۷ و ۴۷۵۰ و ۴۵۷۰ و ۴۰۷۵ <.....<.....<.....<.....

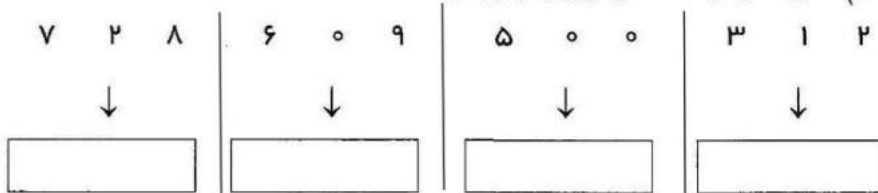
۹۰۰۲ و ۹۲۰۰ و ۸۹۷۶ و ۸۷۹۶ <.....<.....<.....<.....

۲۱- با عددهای ۵ و ۲ و ۹ و ۷ دو عدد چهار رقمی بنویسید که صدگان‌شان ۷ و دهگان‌شان ۲ باشد.

.....

۲۲- شما کتابی خرید و به فروشنده ۸ تا هزار تومانی، ۱۶ تا صدتومانی و ۹ تا ده تومانی داد. قیمت کتاب چند تومان بوده است؟

۲۳- هزار (۱۰۰۰) تا بیشتر از عددهای زیر را بنویسید.



۲۴- با رقم‌های ۴ و ۱ و ۰ و ۲ همه‌ی عددهای چهار رقمی کم‌تر از ۲۰۰۰ را بنویسید.

۲۵- ارزش مکانی رقم ۸ را در هر یک از عدد های زیر بنویسید.

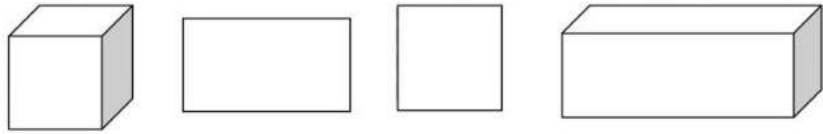
عدد	ارزش رقم ۸
۷۱۸۵	
۸۱۵۴	
۱۰۲۸	
۳۸۲۷	

می‌تونی با بهترین معلم های ریاضی ایران کلاس خصوصی داشته باشی.
کافیه تو گوگل جستجو کنی:

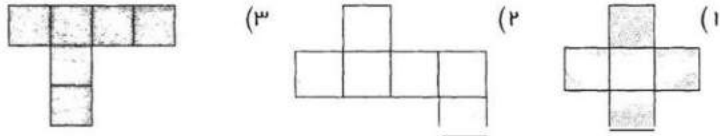
معلم خصوصی ریاضی استادبانک

نام و نام خانوادگی: کلاس سوم دبستان نبوت پسرانه ریاضی ۱۲ شماره دانش آموز: آموزگار: محمدحسین امیدوار


۱- نام شکل های زیر را بنویسید.



۲- کدام شکل گسترده ی یک مکعب است؟



۳- مکعب مستطیل زیر چند وجه دارد؟



۴- یک مکعب وجه، ضلع و رأس دارد.

۵- سه شی، نام ببرید که به شکل مکعب مستطیل باشد.

۶- گسترده ی یک مکعب را رسم کنید.

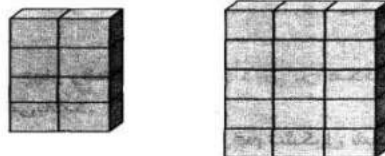
۷- کدام یک از اجسام زیر به شکل مکعب مستطیل می باشد.

قوطی کنسرو توپ آجر کلمی قند

۸- گسترده ی مکعب از مربع تشکیل شده است.

۳ ۴ ۵ ۶

۹- در شکل های زیر چند مکعب می بینید؟



۱۰- گسترده ی یک مکعب مستطیل را رسم کنید.

می تونی با بهترین معلم های ریاضی ایران کلاس خصوصی داشته باشی.

کافیه تو گوگل جستجو کنی:

معلم خصوصی ریاضی استادبانک

نام و نام خانوادگی: کلاس سوم دبستان نبوت پسرانه ریاضی ۱۶ شماره دانش آموز: آموزگار: محمدحسین امیدوار

۱- واحد مربوط به هر عبارت را به آن وصل کنید.

الف - بلندی پرده‌ی اتاق	ساتی‌متر
ب - فاصله‌ی تهران تا مشهد	میلی‌متر
ج - بلندی مداد مریم	متر
د - بلندی پاک کن مهرداد	کیلومتر

۲- جاهای خالی را با اعداد مناسب پر کنید.

۷ متر = ساتی‌متر ۱۰ تا صد متر می‌شود..... کیلومتر
 ۶۰۰۰ متر = کیلومتر ۷ کیلومتر = متر
 ۵۰۲۷ متر = کیلومتر و متر

۳- دو کانگورو با هم مسابقه دادند. اولی ۴ کیلومتر و دومی ۴۳۵۰ متر طی کرده‌اند. کدامیک مسافت بیشتری را پیموده است؟ چقدر؟




۴- دوچرخه‌سواری ۶ کیلومتر و ۷۵۰ متر از مسیری را طی کرده است. او چند متر طی کرده است؟



۵- برای اندازه‌گیری طول حیاط مدرسه از واحد و برای اندازه‌گیری طول کتاب ریاضی از واحد و برای اندازه‌گیری فاصله‌ی بین اصفهان - شیراز از واحدی به نام استفاده می‌کنیم.

۶- علی می‌خواهد از کوهستان حرکت کرده و به ده برسد. او چند کیلومتر و چند متر را باید طی کند؟



۷- مقایسه کنید و علامت (< = >) بگذارید.

۱ کیلومتر ۱۰ تا صد متر ۴ کیلومتر ۳۹۵۰ متر

می‌تونی با بهترین معلم های ریاضی ایران کلاس خصوصی داشته باشی.
 کافیه تو گوگل جستجو کنی:

معلم خصوصی ریاضی استادبانک

نام و نام خانوادگی: کلاس سوم دبستان نبوت پسرانه ریاضی ۱۷ شماره دانش آموز:
آموزگار: محمدحسین امیدوار


۸- جاهای خالی را پر کنید.

بلندی دیوار اتاق ۳..... است.


طول مداد رویا ۱۷..... است.

فاصله‌ی رشت تا انزلی ۳۵..... است.

۹- فاصله‌ی خانه مجید و محسن و احمد تا مدرسه به ترتیب ۱۰۶۳ متر و ۹۵۰ متر و یک کیلومتر است. اگر هر سه با هم و با یک سرعت به طرف مدرسه حرکت کنند. کدام یک زودتر به مدرسه می‌رسد؟ منزل کدام یک از مدرسه دورتر است؟



۱۰- فاصله‌ی مسجد تا خانه‌ی پدربزرگ ۲ کیلومتر و ۱۴۰ متر است. فاصله مسجد تا خانه‌ی پدر بزرگ چند متر است؟



۱۱- ۷۱۴۵ متر، چند کیلومتر و چند متر است؟ کیلومتر متر

۱۲- ۸ کیلومتر و ۲۹۵ متر روی هم چند متر است؟ متر

می‌تونی با بهترین معلم های ریاضی ایران کلاس خصوصی داشته باشی.
کافیه تو گوگل جستجو کنی:

معلم خصوصی ریاضی استادبانک

با درس نخواندن فرزندان چه کنیم؟ چه چیزی باعث می شود فرزند ما دچار افت تحصیلی شود؟ عوامل زیادی باعث می شوند، فرزند ما از درس بدش بیاید و از درس خواندن فراری باشد، یا حتی درس بخواند باز هم نمرات اش بالا نرود!

این مشکلات ساده نیستند، عوامل زیادی از جمله: خانواده، مدرسه، مشکلات اجتماعی و روانی خود دانش آموز و ... می توانند دخیل باشند. ما در مقالات زیر به تفصیل در رابطه با این عوامل صحبت کرده ایم و راه حل هایی را برای حل مشکل افت تحصیلی دانش آموزان ارائه کرده ایم.

با شناخت عوامل موثر بر افت تحصیلی و بی علاقه‌گی نسبت به درس و از بین بردن آن ها، به فرزندتان کمک بزرگی کرده اید، او در مسیر پیشرفت و موفقیت حرکت خواهد کرد و با بروز دادن استعدادها و توانایی هایش به خودباوری می رسد.

[اینجا کلیک کنید تا مقاله "با افت تحصیلی فرزندم چه کنم؟" را بخوانید.](#)

[اینجا کلیک کنید تا مقاله "علت بی علاقه‌گی فرزندم به درس چیست؟" را بخوانید.](#)

بعضی وقت ها متوجه می شویم که فرزند ما علی رقم سرعت یادگیری بالایی که دارد، از درس خواندن خوشش نمی آید! یا ممکن است در بعضی دروس مثل املا یا ریاضی یا اکثر درس هایش ضعیف باشد. او دوست ندارد تکالیفش را انجام دهد، نمراتش پایین هستند و خودش، معلمش و حتی شما هم باور کرده اید که او کندذهن است یا یادگیری پائینی دارد.

اما ممکن است اتفاقاً او باهوش و با استعداد باشد اما اختلال یادگیری داشته باشد! و شما از این قضیه بی خبر هستید. اختلال یادگیری مشکل پیچیده‌ای نیست و به راحتی قابل حل است، اما تشخیص آن برای پدر و مادر و معلمانی که آگاهی روانشناسی ندارند، سخت است. اختلال یادگیری باید به موقع شناسایی و درمان شود. در مقاله زیر مفصلاً در رابطه با آن صحبت کرده ایم، و راه حل هایی را ارائه داده ایم.

با شناخت انواع این اختلالات و رفع آن ها در فرزندتان او را از سردرگمی می رهانید و این تصور که دانش آموز تنبل یا کندذهنی است را برایش از بین می برید، او نمرات خود را بالا می برد و با بروز توانایی ها و دیدن موفقیت هایش، اعتماد به نفس و انگیزه اش نیز افزایش خواهد یافت.

[اینجا کلیک کنید تا مقاله "انواع اختلالات یادگیری" را بخوانید.](#)

چرا فرزند من خجالتی است؟ چه چیزی باعث شده او خود را ناتوان تر از دیگران ببیند و در یک جمع به خود اجازه ابراز وجود ندهد؟ این ها نشانه های خطرناکی از یک بزرگسالی منفعل و شکست خورده نیست؟ مقاله زیر به طور کامل به مقوله اعتماد به نفس در فرزندان شما و راه های تقویت آن می پردازد، با شناخت و بکار گیری آن ها می توانید به فرزندتان کمک کنید، در آینده از شخصیت بهتری برخوردار باشد.

[اینجا کلیک کنید تا مقاله "چطور عزت نفس از دست رفته فرزندمان را دوباره زنده کنیم؟" را بخوانید.](#)

کلاس های تقویتی گزینه های خیلی خوبی برای یادگیری بهتر، رفع اشکال و تقویت پایه درسی فرزندمان هستند، اما شکل برگزاری این کلاس ها به میزان زیادی در نتیجه آن ها موثر است، تعداد دانش آموزان، معلمی که به آن ها تدریس می کند، میزان تعاملی که شما به عنوان والدین با معلم دارید و...

ما در مقاله زیر به نقد و بررسی شکل برگزاری کلاس های تقویتی خصوصی و عمومی و تاثیری که هر کدام روی فرزند شما می گذارند، بحث کرده ایم. با کلیک روی لینک زیر، مقاله را بخوانید و بهترین شیوه برگزاری کلاس تقویتی را برای فرزندتان انتخاب کنید، تا بیشترین و مفیدترین نتیجه را دریافت کنید.

[اینجا کلیک کنید تا مقاله "کلاس خصوصی یا عمومی؛ کدام بهتر است؟" را بخوانید.](#)

در مقاله زیر لیستی از بهترین کتاب های کمک آموزشی پایه سوم ابتدایی را تهیه کرده ایم. می توانید بنا بر توضیحاتی که در مورد کتاب ها داده ایم، کتاب مورد نیاز فرزندتان را انتخاب کنید.

[اینجا کلیک کنید تا مقاله "کتاب های کمک درسی سوم دبستان" را بخوانید.](#)

استادبانک به عنوان بزرگترین سایت تدریس خصوصی ایران مفتخر است که:
بهترین بستر را برای با کیفیت ترین شیوه های آموزش و تدریس فراهم کرده است.
قطب تدریس خصوصی کشور می باشد
شرکت های دانش بنیان از جمله پیشرو ترین شرکت ها هستند که در اقتصاد
کشور سهم عظیمی دارند و استادبانک مفتخر است که از جمله بهترین های آنهاست.
در سال ۹۶ به عنوان برترین شرکت رشد یافته در دانشگاه شریف شناخته شد.
مجموعه استادبانک از جمله معتبرترین شرکت های فضای وب ایران و به عنوان
عضو رسمی اتحادیه کسب و کارهای مجازی از قابل اعتمادترین کسب و کارهای
آنلاین است.
با فضایی کاملا آکادمیک در مرکز رشد دانشگاه شریف مستقر است.

