

وضعیت فعلی شما در درس ریاضی اصلا مهم نیست!

یک معلم خصوصی حرفه ای و با تجربه میتواند به شما کمک کند تا بتوانید ریاضی را به راحتی یاد بگیرید. روزانه صدها دانش آموز با ثبت درخواست معلم خصوصی در استادبانک میخواهند با بهترین معلم های ریاضی ایران کلاس خصوصی داشته باشند تا بتوانند ریاضی را بطور کامل یادگیرند و در امتحانات براحتی ۲۰ بگیرند.

شما نیاز دارید تا یک معلم خصوصی حرفه ای و با تجربه، سبک یادگیری شما را بشناسد و براساس پتانسیل های ذهنی شما، ریاضی را به شما تدریس کند. استادبانک بزرگترین و معتبر ترین و محبوب ترین سایت معلم خصوصی در ایران است. که به تمام فارسی زبانان در سرتاسر دنیا خدمات تدریس خصوصی ارائه میدهد.

معلمان متقاضی تدریس خصوصی بعد از ارسال درخواست ثبت نام در استادبانک، توسط تیم ارزیابی و داوری استادبانک از نظر کیفیت تدریس و سابقه تدریس بررسی و ارزیابی می شوند و تنها در صورت داشتن معیارهای لازم، به عضویت استادبانک در می آیند.

استادبانک سالانه ۱۳۰۰۰ معلم متقاضی تدریس خصوصی را رد میکند و تنها ۲۱۰ نفر هستند که میتوانند معیارهای لازم برای فعالیت در استادبانک را کسب کنند. روند نظارت بر کیفیت تدریس اساتید بسیار سختگیرانه حتی بعد از عضویت در سامانه معلم خصوصی استادبانک نیز ادامه دارد تا تنها بهترین معلم های ریاضی که شاگردان از کیفیت تدریس آن ها رضایت کامل را دارند، با ما فعالیت کنند.

شما میتوانید برای دیدن رزومه بهترین اساتید ریاضی استادبانک، همین الان در گوگل عبارت معلم خصوصی ریاضی استادبانک را جستجو کنید و وارد سایت استادبانک و در ادامه رزومه تک تک اساتید را به همراه قیمت هر جلسه کلاس خصوصی ریاضی را ببینید.



آزمون دوره ای ریاضی

به نام خالق بکتا

فصل ۳-۲-۱

« آموزشگاه غیرانتفاعی همت / کلاس سوم »

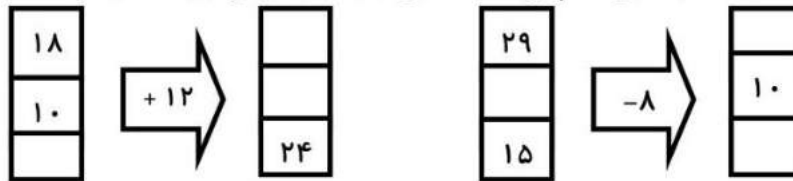
۱۳۹۵/۱۰/۸

ادریسی

۱- الگوهای شمارش رو به عقب را کامل کنید.

..... ، ۲۰، ۲۴، ۲۸ ، ۳۳، ۳۹، ۴۵

۲- با توجه به کاری که هر ماشین انجام می دهد ، ماشین ورودی و خروجی زیر را کامل کنید.



۳- جدول زیر را کامل کنید.

زمان	۱۴:۳۰	نوزده و ربع	۱۷:۴۵	۲۳:۵۵
بعد از ظهر	۴	۱:۳۰

۴. جاهای خالی را به شکل مناسب پر کنید.

- ۲۳۵۴ می شود یکی و ده تایی صدتایی و هزارتایی .

- بزرگترین عدد سه رقمی و کوچک ترین عدد چهار رقمی است .

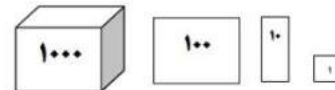
۵. با رقم های (۵ و ۶ و ۹ و ۰) چند عدد چهار رقمی می توان نوشت ؟ آن ها را بنویسد و کوچک ترین و

بزرگترین آن ها را مشخص نمایید .
..... ، ، ، ،

۶. با رسم شکل حاصل جمع و تفریق ها را به دست آورید.

$$۲۱۴۱ + ۲۱۳۴ =$$

$$۷۵۴۶ - ۲۲۳۵ =$$



۷. مقایسه ($< = >$) کنید.


$$\frac{4}{9} \text{ واحد و } \frac{1}{9} \text{ واحد} \quad \square \quad 3 \text{ واحد و } \frac{5}{9} \text{ واحد}$$

$$2 \text{ واحد و } \frac{3}{5} \text{ واحد} \quad \square \quad 2 \text{ واحد و } \frac{1}{5} \text{ واحد}$$

۸. کسر مربوط به هر شکل را بنویسید.



۱۰. برای شکل زیر سه کسر مساوی بنویسید.



$$\dots = \dots = \dots$$

۱۱. عدد های داده شده را به صورت تقریبی روی محور نشان دهید.



$$\frac{3}{4} \text{ واحد مانده به } 3$$



$$\frac{5}{8} \text{ واحد بعد از عدد } 2$$

۱۲. جاهای خالی را با کلمه مناسب پر کنید.

- بهترین وسیله برای رسم دایره است .
- هر گاه مخرج دو کسر مساوی باشد ، کسری بزرگتر است که صورت آن باشد .
- هر مستطیل دارای چهار زاویه است .
- ربع یعنی ، ثلث یعنی ، نیم یعنی
- برای تشخیص زاویه راست از استفاده می کنیم .

نظر معلم :

.....

به نام خدا پایه سوم مدرسه نیکان نام و نام خانوادگی

جاهای خالی را با کلمه های مناسب کامل کنید
۱- حاصل ضرب هر عدد در صفر برابر است با

۲- جای نوبت سوزن پرگار است.

۳- زاویه مساحت است.

۴- مساحت هر مستطین برابر است با حاصل ضرب اندازه های و آن.

جواب صحیح را با علامت (X) مشخص کنید.

۱- یک ساعت دقیقه است.

۳۰ دقیقه ۲۰ دقیقه ۵۰ دقیقه ۶۰ دقیقه

۲- جواب تقسیم را می گویند.

حاصل ضرب باقی مانده خارج قسمت حاصل جمع

۳- دو خط که همدیگر را قطع نکنند، دو خط می گویند.

متقاطع متوازی راست پاره خط

۴- اگر قطر دایره ای ۱۸ سانتی متر باشد شعاع این دایره چند سانتی متر است؟

۸ ۶ ۵ ۹

عدد ۸۴۵۰ را با حروف بنویسید.

با حروف این عدد چند رقمی است؟

رقم ۴ در چه مرتبه ای از ارزش مکانی قرار دارد؟

۲- جاهای خالی را با عدد مناسب کامل کنید؟

$(4 \times 10) + (3 \times 8) = 2 \times \square$

$10 \times 4 \times 4 = \square$

$\square \times 12 = 140$

$1 \times \square = 21$

$2 \times 3 \times 10 = \square$

$9 \times 30 = \square$

$25 \div 5 = \square$

$8 \div 9 = \square$

$10 \div 4 = \square$

۳- حاصل ضرب های زیر را بدست آورید؟

۴۳

۶۵

$\times 3$

$\times 6$


می تونی با بهترین معلم های ریاضی ایران کلاس خصوصی داشته باشی.

کافیه تو گوگل جستجو کنی:


معلم خصوصی ریاضی استادبانک

به نام خدا	مدرسه نیکان	پایه سوم	نام و نام خانوادگی
------------	-------------	----------	--------------------


۴- خط تقارن شکل را مشخص کنید.



۵- ساعت را با عملیات بخوانید.




۶- تساوی محور زیر را بنویسید.



۷- شکل استوانه را رسم کنید.

۸- اتوبوسی ساعت ۹ صبح از اصفهان حرکت کرد و ساعت ۴ بعد از ظهر به تهران رسید. این اتوبوس چند ساعت در راه بوده است؟

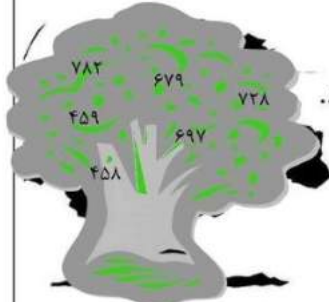
۹- حوضی داریم به شکل مربع که هر ضلع آن ۸ متر است محیط و مساحت این حوض را حساب کنید؟



می‌تونم با بهترین معلم های ریاضی ایران کلاس خصوصی داشته باشم.
کافیه تو گوگل جستجو کنی:
معلم خصوصی ریاضی استادبانک

نام و نام خانوادگی: کلاس سوم دبستان نبوت پسرانه ریاضی ۱ شماره دانش آموز: آموزگار: محمدحسین امیدوار

۱- با سه عدد (۴ و ۱ و ۵) هر چه می توانید عدد سه رقمی بنویسید.



۲- عددهای روی درخت را از کوچک به بزرگ مرتب کرده و بنویسید.

.....<.....<.....<.....<.....<.....

۳- با رقم‌های (۵ و ۶ و ۸) بزرگ‌ترین و کوچک‌ترین عدد سه رقمی را نوشته و اختلاف آن‌ها را به دست آورید.

.....

.....

.....

ب:

.....

ک:

۴- عددهای زیر را از کوچک به بزرگ بنویسید.

.....

۳۹۸ - ۶۰۲ - ۵۹۲ - ۵۰۹

۵- اعداد زیر را به حروف بنویسید.

.....۵۹۲

.....۳۹

.....۸۱۷

.....۴۰۹

۶- اعداد زیر را به رقم بنویسید.

..... صد و بیست و هشت

..... نود و سه

..... هفتصد و چهل و چهار

..... دویست و دو

۷- یک عدد سه رقمی بنویسید که دهگان‌ش ۴، صدگان‌ش ۷ و یکان‌ش ۲ باشد. این عدد

را به حروف بنویسید.

۸- با توجه به شکل جدول را کامل کرده و عدد آن را به حروف بنویسید.

۱۰۰	۱۰۰	۱۰۰	۱۰	۱۰	۱۰	۱۰	صدگان	دهگان	یکان
						
			۱	۱	۱	۱			

می‌تونی با بهترین معلم های ریاضی ایران کلاس خصوصی داشته باشی.

کافیه تو گوگل جستجو کنی:

معلم خصوصی ریاضی استادبانک

نام و نام خانوادگی: کلاس سوم دبستان نبوت پسرانه ریاضی ۲ شماره دانش آموز: آموزگار: محمدحسین امیدوار



۹- جاهای خالی را با عدد مناسب پر کنید.

۴ یکی و ۷ دهتایی می‌شود.....

۵ صدتایی و ۳ یکی می‌شود.....

۲ دهتایی و ۹ صدتایی می‌شود.....

۶ یکی و ۴ صدتایی و ۷ دهتایی می‌شود.....

۱۰- با ۳۵۰ شاخه گل مریم می‌توان دسته‌ی صدتایی و

دسته‌ی دهتایی درست کرد.



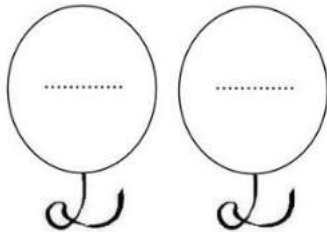
۱۱- عدد قبل و بعد هر یک از اعداد زیر را بنویسید.

..... ۵۲۱

..... ۷۰۶

۱۲- دو عدد بنویسید که صدگان یکی با یکان دیگری برابر

باشد.



۱۳- دور عددی که به ۳۰۰ نزدیک تر است را خط بکشید.

۱۲۹ - ۷۴۸ - ۲۹۷ - ۵۰۳ - ۲۱۴

۱۴- مرتبه‌ی صدگان در کدام یک از اعداد زیر بیشتر است.

۲۷۸ ۹۶ ۵۰۲ ۷۹۶

۱۵- در عدد ۵۱۸ ارزش مکانی کدام رقم بیشتر است؟

۱ ۵ ۸

می‌تونی با بهترین معلم های ریاضی ایران کلاس خصوصی داشته باشی.

کافیه تو گوگل جستجو کنی:

معلم خصوصی ریاضی استادبانک

نام و نام خانوادگی: کلاس سوم دبستان نبوت پسرانه ریاضی ۳ شماره دانش آموز: آموزگار: محمدحسین امیدوار

۱۶- در عدد ۲۴۹ کمترین ارزش مکانی را کدام رقم دارد؟

۲ ۴ ۹

۱۷- عدد قبل از ۷۴۰ کدام است؟

۷۹۳ ۷۳۹ ۷۲۰ ۷۰۴

۱۸- در زیر هر عدد، عددی را بنویسید که صد تا بیشتر باشد.

۲۴۷	۶۸	۵۰۶	۷۹۱
--------------	-------------	--------------	--------------

۱۹- عددی سه رقمی بنویسید که یکان آن به اندازه‌ی تعداد چشم‌های شما، دهگان آن

به اندازه‌ی اعضای خانواده‌ی شما و صدگان آن به اندازه‌ی روزهای هفته باشد. این عدد را

به حروف هم بنویسید.

.....
-------	-------

۲۰- از ۸۰۹ تا ۸۴۲ را سه تا سه تا بشمار و بنویس.

.....

۲۱- از ۵۴۵، ۵ تا ۵ تا بشمار و تا ۶۰۵ بنویس.

.....

.....

۲۲- ده تا ده تا بشمارید و بنویسید.

۳۱۰-.....

۲۰۵-.....

۷۲۰-.....

می‌تونی با بهترین معلم‌های ریاضی ایران کلاس خصوصی داشته باشی.

کافیه تو گوگل جستجو کنی:

معلم خصوصی ریاضی استادبانک

نام و نام خانوادگی: کلاس سوم دبستان نبوت پسرانه ریاضی ۴ شماره دانش آموز: آموزگار: محمدحسین امیدوار

۲۳- عبارات و اعداد درست را به هم وصل کنید.

۹۹	بزرگترین عدد سه رقمی
۱۰۰	کوچکترین عدد دو رقمی
۹۹۹	کوچکترین عدد سه رقمی
۱۰	بزرگترین عدد دو رقمی

۲۴- ارزش مکانی ارقام خواسته شده را بنویسید.

۶ ۰ ۷	۵ ۲ ۸	۷ ۴ ۹
↓	↓	↓
<input type="text"/>	<input type="text"/>	<input type="text"/>

۲۵- با توجه به جدول سمت چپ، جدول سمت راست را کامل کنید.

صدتایی	دهتایی	یکی	→	صدگان	دهگان	یکان
۴	۵	۱۲	→
۶	۲۴	۷	→
۵	۳۵	۱۴	→
۳	۰	۳۸	→
۰	۴۸	۰	→
۱	۸۲	۵	→

۲۶- اعداد فرد بین دو عدد خواسته شده را بنویسید.

۳۲۷ - - - - - ۳۳۷

۷۰۳ - - - - - ۷۱۳

می تونی با بهترین معلم های ریاضی ایران کلاس خصوصی داشته باشی.
کافیه تو گوگل جستجو کنی:

معلم خصوصی ریاضی استادبانک

نام و نام خانوادگی: کلاس سوم دبستان نبوت پسرانه ریاضی ۵ شماره دانش آموز: آموزگار: محمدحسین امیدوار

۲۷- اعداد زوج بین دو عدد خواسته شده را بنویسید.

۶۳۸ - - - - - ۶۲۸

۹۱۲ - - - - - ۹۰۲

۲۸- با رقم‌های (۰ و ۴ و ۲) کوچکترین و بزرگترین عدد سه رقمی را بنویسید.

بزرگترین
↓

کوچکترین
↓

.....

.....

۲۹- سه عدد بنویسید که دهگان و صدگان یکسان داشته باشند

۳۰- بزرگترین عدد سه رقمی که تمام رقم‌هایش زوج باشد را بنویسید.

۳۱- ۹ صدتایی و ۲ یکی برابر با صدتایی و ۱۰ دهتایی و ۲ یکی است.

○۸ ○۹ ○۲ ○۱

۳۲- سومین عدد قبل از ۶۵۱ چند است؟

○۶۴۷ ○۶۴۸ ○۶۴۹ ○۶۵۰

۳۳- ۷۵ یعنی ۱۵ یکی و دهتایی

۳۴ - ۲۴ یکی و ۷ ده تایی می شود

می‌تونی با بهترین معلم های ریاضی ایران کلاس خصوصی داشته باشی.
کافیه تو گوگل جستجو کنی:
معلم خصوصی ریاضی استادبانک

با درس نخواندن فرزندان چه کنیم؟ چه چیزی باعث می شود فرزند ما دچار افت تحصیلی شود؟ عوامل زیادی باعث می شوند، فرزند ما از درس بدش بیاید و از درس خواندن فراری باشد، یا حتی درس بخواند باز هم نمرات اش بالا نرود!

این مشکلات ساده نیستند، عوامل زیادی از جمله: خانواده، مدرسه، مشکلات اجتماعی و روانی خود دانش آموز و ... می توانند دخیل باشند. ما در مقالات زیر به تفصیل در رابطه با این عوامل صحبت کرده ایم و راه حل هایی را برای حل مشکل افت تحصیلی دانش آموزان ارائه کرده ایم.

با شناخت عوامل موثر بر افت تحصیلی و بی علاقه‌گی نسبت به درس و از بین بردن آن ها، به فرزندتان کمک بزرگی کرده اید، او در مسیر پیشرفت و موفقیت حرکت خواهد کرد و با بروز دادن استعدادها و توانایی هایش به خودباوری می رسد.

[اینجا کلیک کنید تا مقاله "با افت تحصیلی فرزندم چه کنم؟" را بخوانید.](#)

[اینجا کلیک کنید تا مقاله "علت بی علاقه‌گی فرزندم به درس چیست؟" را بخوانید.](#)

بعضی وقت ها متوجه می شویم که فرزند ما علی رقم سرعت یادگیری بالایی که دارد، از درس خواندن خوشش نمی آید! یا ممکن است در بعضی دروس مثل املا یا ریاضی یا اکثر درس هایش ضعیف باشد. او دوست ندارد تکالیفش را انجام دهد، نمراتش پایین هستند و خودش، معلمش و حتی شما هم باور کرده اید که او کندذهن است یا یادگیری پائینی دارد.

اما ممکن است اتفاقاً او باهوش و با استعداد باشد اما اختلال یادگیری داشته باشد! و شما از این قضیه بی خبر هستید. اختلال یادگیری مشکل پیچیده‌ای نیست و به راحتی قابل حل است، اما تشخیص آن برای پدر و مادر و معلمانی که آگاهی روانشناسی ندارند، سخت است. اختلال یادگیری باید به موقع شناسایی و درمان شود. در مقاله زیر مفصلاً در رابطه با آن صحبت کرده ایم، و راه حل هایی را ارائه داده ایم.

با شناخت انواع این اختلالات و رفع آن ها در فرزندتان او را از سردرگمی می رهانید و این تصور که دانش آموز تنبل یا کندذهنی است را برایش از بین می برید، او نمرات خود را بالا می برد و با بروز توانایی ها و دیدن موفقیت هایش، اعتماد به نفس و انگیزه اش نیز افزایش خواهد یافت.

[اینجا کلیک کنید تا مقاله "انواع اختلالات یادگیری" را بخوانید.](#)

چرا فرزند من خجالتی است؟ چه چیزی باعث شده او خود را ناتوان تر از دیگران ببیند و در یک جمع به خود اجازه ابراز وجود ندهد؟ این ها نشانه های خطرناکی از یک بزرگسالی منفعل و شکست خورده نیست؟ مقاله زیر به طور کامل به مقوله اعتماد به نفس در فرزندتان شما و راه های تقویت آن می پردازد، با شناخت و بکار گیری آن ها می توانید به فرزندتان کمک کنید، در آینده از شخصیت بهتری برخوردار باشد.

[اینجا کلیک کنید تا مقاله "چطور عزت نفس از دست رفته فرزندمان را دوباره زنده کنیم؟" را بخوانید.](#)

کلاس های تقویتی گزینه های خیلی خوبی برای یادگیری بهتر، رفع اشکال و تقویت پایه درسی فرزندمان هستند، اما شکل برگزاری این کلاس ها به میزان زیادی در نتیجه آن ها موثر است، تعداد دانش آموزان، معلمی که به آن ها تدریس می کند، میزان تعاملی که شما به عنوان والدین با معلم دارید و...

ما در مقاله زیر به نقد و بررسی شکل برگزاری کلاس های تقویتی خصوصی و عمومی و تاثیری که هر کدام روی فرزند شما می گذارند، بحث کرده ایم. با کلیک روی لینک زیر، مقاله را بخوانید و بهترین شیوه برگزاری کلاس تقویتی را برای فرزندتان انتخاب کنید، تا بیشترین و مفیدترین نتیجه را دریافت کنید.

[اینجا کلیک کنید تا مقاله "کلاس خصوصی یا عمومی؛ کدام بهتر است؟" را بخوانید.](#)

در مقاله زیر لیستی از بهترین کتاب های کمک آموزشی پایه سوم ابتدایی را تهیه کرده ایم. می توانید بنا بر توضیحاتی که در مورد کتاب ها داده ایم، کتاب مورد نیاز فرزندتان را انتخاب کنید.

[اینجا کلیک کنید تا مقاله "کتاب های کمک درسی سوم دبستان" را بخوانید.](#)

استادبانک به عنوان بزرگترین سایت تدریس خصوصی ایران مفتخر است که:
بهترین بستر را برای با کیفیت ترین شیوه های آموزش و تدریس فراهم کرده است.
قطب تدریس خصوصی کشور می باشد
شرکت های دانش بنیان از جمله پیشرو ترین شرکت ها هستند که در اقتصاد
کشور سهم عظیمی دارند و استادبانک مفتخر است که از جمله بهترین های آنهاست.
در سال ۹۶ به عنوان برترین شرکت رشد یافته در دانشگاه شریف شناخته شد.
مجموعه استادبانک از جمله معتبرترین شرکت های فضای وب ایران و به عنوان
عضو رسمی اتحادیه کسب و کارهای مجازی از قابل اعتمادترین کسب و کارهای
آنلاین است.
با فضایی کاملا آکادمیک در مرکز رشد دانشگاه شریف مستقر است.

