

وضعیت فعلی شما در درس ریاضی اصلا مهم نیست!

یک معلم خصوصی حرفه ای و با تجربه میتواند به شما کمک کند تا بتوانید ریاضی را به راحتی یاد بگیرید. روزانه صدها دانش آموز با ثبت درخواست معلم خصوصی در استادبانک میخواهند با بهترین معلم های ریاضی ایران کلاس خصوصی داشته باشند تا بتوانند ریاضی را بطور کامل یادگیرند و در امتحانات براحتی ۲۰ بگیرند.


شما نیاز دارید تا یک معلم خصوصی حرفه ای و با تجربه، سبک یادگیری شما را بشناسد و براساس پتانسیل های ذهنی شما، ریاضی را به شما تدریس کند. استادبانک بزرگترین و معتبر ترین و محبوب ترین سایت معلم خصوصی در ایران است. که به تمام فارسی زبانان در سرتاسر دنیا خدمات تدریس خصوصی ارائه میدهد.

معلمان متقاضی تدریس خصوصی بعد از ارسال درخواست ثبت نام در استادبانک، توسط تیم ارزیابی و داوری استادبانک از نظر کیفیت تدریس و سابقه تدریس بررسی و ارزیابی می شوند و تنها در صورت داشتن معیارهای لازم، به عضویت استادبانک در می آیند.

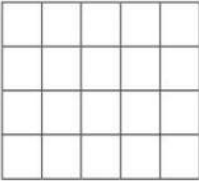

استادبانک سالانه ۱۳۰۰۰ معلم متقاضی تدریس خصوصی را رد میکند و تنها ۲۱۰ نفر هستند که میتوانند معیارهای لازم برای فعالیت در استادبانک را کسب کنند. روند نظارت بر کیفیت تدریس اساتید بسیار سختگیرانه حتی بعد از عضویت در سامانه معلم خصوصی استادبانک نیز ادامه دارد تا تنها بهترین معلم های ریاضی که شاگردان از کیفیت تدریس آن ها رضایت کامل را دارند، با ما فعالیت کنند.

شما میتوانید برای دیدن رزومه بهترین اساتید ریاضی استادبانک، همین الان در گوگل عبارت معلم خصوصی ریاضی استادبانک را جستجو کنید و وارد سایت استادبانک و در ادامه رزومه تک تک اساتید را به همراه قیمت هر جلسه کلاس خصوصی ریاضی را ببینید.



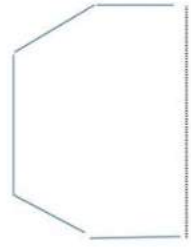


تاریخ	رسمه تعالی	
نام و نام خانوادگی:		
نام آموزگار:		
آزمون ریاضی پایه سوم		
<b>دستور کار الف) درست یا نادرست بودن جملات را با « مشخص کن.</b>		
۱- بزرگ ترین عدد چهار رقمی ۱۰۰۰ می باشد. ص <input type="radio"/> غ <input type="radio"/>		
۲- به جواب تقریب حاصل تفریق می گوئیم ... ص <input type="radio"/> غ <input type="radio"/>		
<b>دستور کار ب) گزینه ی صحیح را با علامت « مشخص کن .</b>		
۳- از هر گوشه ی ۵ ضلعی ..... قطر می گذرد.		
<input type="radio"/> ۱ قطر	<input type="radio"/> ۲ قطر	<input type="radio"/> ۵ قطر
۴- خارج قسمت تقسیم $32 \div 4 =$ کدام عدد است ؟		
<input type="radio"/> ۴	<input type="radio"/> ۶	<input type="radio"/> ۸
۵- مثلثی که دو ضلع هم اندازه داشته باشد مثلث ..... نام دارد .		
<input type="radio"/> متساوی الساقین	<input type="radio"/> متساوی الاضلاع	<input type="radio"/> مختلف الاضلاع
<b>دستور کار ج) جمله های ناقص زیر را با کلمات مناسب کامل کن.</b>		
۶- بهترین وسیله برای کشیدن و تشخیص گوشه ی راست ..... می باشد .		
۷- وسیله ای که با آن جرم اجسام را اندازه می گیریم ..... نام دارد .		
۸- فاصله ی دو شهر اهواز - اراک را با واحدی به نام ..... اندازه می گیرند .		
<b>دستور کار د) به سوالات زیر پاسخ بده.</b>		
۹- عدد <u>          </u> چهار رقمی را با رقم بنویس.		
$6 \times 6$ <input type="radio"/>	$8 \times 4$ <input type="radio"/>	۱۰- مقایسه کن.
$6000 - 4050$ <input type="radio"/>	$1865 + 135$ <input type="radio"/>	$400$ تا صد متر <input type="radio"/> $4$ کیلومتر
۱۱- محمد می خواهد باز شده ی یک مکعب را رسم کند . او مقداری از آن را کشیده است . به محمد کمک کن تا باز شده ی مکعب را کامل کند .		
		

می تونی با بهترین معلم های ریاضی ایران کلاس خصوصی داشته باشی.  
کافی تو گوگل جستجو کنی:  
معلم خصوصی ریاضی استادبانک

<p style="text-align: center;">بسمه تعالی</p> <p style="text-align: center;">آزمون ریاضی پایه سوم ابتدایی</p> <p>نام و نام خانوادگی:..... تاریخ: ۹۵/۲/۲۱ معلم: شاطریان</p>	
<p>۱ در جای خالی عدد مناسب بنویس .</p> $6 \times 14 = (6 \times 10) + (6 \times \quad)$ $30 \times \quad = 2700$	۱
<p>۲ ربع شکل را رنگ بزن.</p> <p>چه کسری رنگی است؟.....</p> <p>چه کسری رنگی نیست؟.....</p> 	۲
<p>۳ هواپیمایی در یک دقیقه ۹ کیلومتر راه را طی می کند، در یک ساعت چند کیلومتر راه را طی می کند؟</p>	۳
<p>۴ مساحت شکل را به دست آور.</p> 	۴
<p>۵ اندازه ی عرض مستطیلی ۱۶ سانتی متر و طول آن ۳ برابر عرض است.</p> <p>الف) طول مستطیل چند سانتی متر است؟.....</p> <p>ب) مساحت مستطیل چند سانتی متر مربع است؟.....</p>	۵
<p>۶ اگر قیمت ۷ خودکار ۴۲ تومان باشد، قیمت ۵۲۰ خودکار چند تومان می شود؟</p>	۶
<p>۷ ۱۳ یکی ، ۶ ده تایی ، ۲۴ صدتایی و ۴ هزار تایی می شود.....</p> <p>به حروف.....</p>	۷
<p>۸ کیانا از گل فروشی ۵۷ شاخه گل خرید و آن ها را به طور مساوی داخل ۹ گلدان گذاشت. داخل هر گلدان چند شاخه گل گذاشته است؟ چند شاخه گل باقی مانده است؟</p>	۸

<p>۹ روشنک ۳۶ عدد مهره ی رنگی دارد. ربع آن ها را به دوستش سارا داد . چند مهره به سارا داده است و چند مهره برای خودش باقی مانده است؟</p>	
<p>۱۰ مساحت قسمت رنگ شده را به دست آورید.</p> 	
<p>۱۱ محیط مثلث متساوی الساقین رابه دست آورید که اندازه هر ساق آن ۲۳ سانتی متر باشد و ضلع سوم آن ۱۰ سانتی متر باشد؟</p>	
<p>۱۲ کتابخانه ی دبستان امیرکبیر ۸ طبقه دارد در هر طبقه ۲ ردیف و در هر ردیف ۱۰ جلد کتاب گذاشته اند. در این کتابخانه چند جلد کتاب است؟</p>	
<p>۱۳ می خواهیم با سیمی به طول ۳۱ سانتی متر یک مربع بسازیم با چند سانتی متر آن می شود مربع ساخت و چند سانتی متر را باید برید؟</p>	
<p>۱۴ نام شکل های زیر را بنویسید.</p> 	

صفحه اول	<b>بسمه تعالی</b>		نام و نام خانوادگی
سال تحصیلی: ۹۳-۹۲	دبستان غیر دولتی بهرام العلوم		نام پدر:
تاریخ -	موضوع: ارزشیابی ریاضی	مدت: دقیقه	پایه تحصیلی: سوم
	۱- عدد ۶۸۷۲ را با حروف بنویسید؟ ارزش مکانی کدام عدد بیشتر است؟		
	۲- با توجه به محور عددهای داده شده را به صورت تقریبی نشان دهید؟ <div style="text-align: center;">  </div>		
	۳- یک را از چند طرف می توان روی کاغذ قرار داد و دور آن خط کشید؟ <div style="text-align: center;">  </div>		
	۴- تقارن را تعریف کنید و تقارن شکل داده شده را کامل کنید؟ <div style="text-align: center;">  </div>		
	۵- تمام عددهای سه رقمی را بنویسید که رقم یکان آن ۰ و ۵ و ۷ و رقم دهگان ۹ و رقم صدگان ۴ و ۸ باشد.		
	۶- باز شده هر عدد را بنویسید؟ $7110 =$ $8205 =$		
	۷- جمع و تفریق های داده شده به واحد ریال هستند آن ها را به تومان تبدیل کنید؟ $524 + 2370 =$ $7600 - 2600 =$		
	۸- در جاهای خالی عدد مناسب را بنویسید؟ عدد..... یعنی ۳ یکی ۴ ده تایی صفر صد تایی ۵ هزار تایی		
	۹- ۲۷۰۰ گرم یعنی..... کیلوگرم و..... گرم ۳ کیلوگرم ۲۵۰ گرم یعنی..... گرم		

۱۰- با توجه به عددهای خروجی و کاری که ماشین انجام می دهد عددهای ورودی را بنویسید؟

	+ ۱۷	۳۸			- ۵	۲۰
		۵۹				۲۷
		۱۱۸				۱۳۵

۱۱- با رقم های ۲ و ۳ و ۴ چند عدد سه رقمی می توان نوشت؟

بزرگترین و کوچکترین آن ها را مشخص کنید؟

۱۲- با رسم شکل حاصل جمع و تفریق داده شده را بدست آورید

$$۲۳۱۴ + ۱۲۵۲ =$$

$$۴۳۷۵ - ۲۱۵۳ =$$

۱۳- بهترین وسیله برای کشیدن دایره ..... است.

فرق قطر و شعاع را بنویسید؟

۱۴- یک مثلث ..... زاویه دارد و یک مستطیل ..... زاویه راست دارد

۱۵- علامت  $< = >$  قرار دهید .

$$\frac{۲}{۵} \bigcirc \frac{۱}{۲}$$

$$\frac{۱}{۳} \bigcirc \frac{۲}{۶}$$

۱۶- امروز شنبه اولین روز ماه است تا آخر این ماه شنبه چه روزهایی از ماه هستند؟

۱۷- اتوبوسی ساعت ۷ صبح از تهران به سوی تبریز حرکت کرد بعد از ۱۰ ساعت به تبریز رسید. اتوبوس چه

زمانی به تبریز رسید؟ ( به دو صورت بنویسید )

۱۸- در یک مدرسه دانش آموزان در صف های ۱۰ نفری ایستاده اند ۱۰ صف ۱۰ نفری درست شده

است در کنار آنها نیز ۷ نفر ایستاده اند در این مدرسه چند دانش آموز در صف ایستاده اند؟

**موفق باشید**

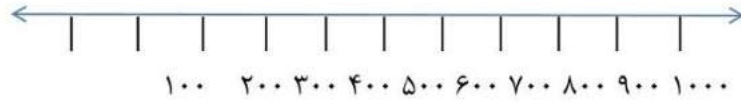
می تونی با بهترین معلم های ریاضی ایران کلاس خصوصی داشته باشی.

کافیه تو گوگل جستجو کنی:

معلم خصوصی ریاضی استادبانک


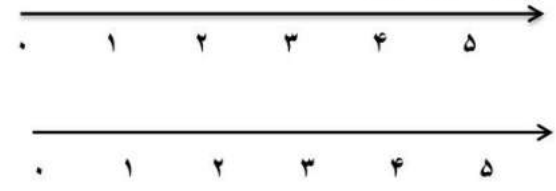


می‌تونن با بهترین معلم های ریاضی ایران کلاس خصوصی داشته باشن.  
کافیه تو گوگل جستجو کنی:  
معلم خصوصی ریاضی استادبانک



می تونی با بهترین معلم های ریاضی ایران کلاس خصوصی داشته باشی.  
کافیه تو گوگل جستجو کنی:  
معلم خصوصی ریاضی استادبانک



آرزو	<b>بسمه تعالی</b>
	نام و نام خانوادگی : _____ تاریخ : دیماه ۹۴
	آزمون عملکرد : ریاضی پایه ی : سوم دبستان : شیخ صدوق
	۱- هر دست قاشق ۶ قاشق است . ۳ دست قاشق چند قاشق می شود؟
	۲- مسئله ی زیر را با توجه به راه حل کامل کنید . ---- مسافر در راه ایستاده اند . اگر هر تاکسی --- مسافر سوار کند . این مسافرها با چند تاکسی می توانند به مقصد برسند؟ $20 \div 4 = \dots$
۳- تقسیم رو به رو را روی محور نشان دهید . $10 \div 2 = \dots$	
	
۴ - با توجه به پرانتزها جاهای خالی را پر کن . $(2+5) \times (2+1) = \dots \times \dots = \dots$ $(3+4) + (2 \times 3) = \dots + \dots = \dots$	
۵- عبارت های زیر را روی محور نشان دهید. 	

می تونی با بهترین معلم های ریاضی ایران کلاس خصوصی داشته باشی.  
 کافیه تو گوگل جستجو کنی:  
 معلم خصوصی ریاضی استادبانک

با درس نخواندن فرزندان چه کنیم؟ چه چیزی باعث می شود فرزند ما دچار افت تحصیلی شود؟ عوامل زیادی باعث می شوند، فرزند ما از درس بدش بیاید و از درس خواندن فراری باشد، یا حتی درس بخواند باز هم نمرات اش بالا نرود!

این مشکلات ساده نیستند، عوامل زیادی از جمله: خانواده، مدرسه، مشکلات اجتماعی و روانی خود دانش آموز و ... می توانند دخیل باشند. ما در مقالات زیر به تفصیل در رابطه با این عوامل صحبت کرده ایم و راه حل هایی را برای حل مشکل افت تحصیلی دانش آموزان ارائه کرده ایم.

با شناخت عوامل موثر بر افت تحصیلی و بی علاقه‌گی نسبت به درس و از بین بردن آن ها، به فرزندتان کمک بزرگی کرده اید، او در مسیر پیشرفت و موفقیت حرکت خواهد کرد و با بروز دادن استعدادها و توانایی هایش به خودباوری می رسد.

[اینجا کلیک کنید تا مقاله "با افت تحصیلی فرزندم چه کنم؟" را بخوانید.](#)

[اینجا کلیک کنید تا مقاله "علت بی علاقه‌گی فرزندم به درس چیست؟" را بخوانید.](#)

بعضی وقت ها متوجه می شویم که فرزند ما علی رقم سرعت یادگیری بالایی که دارد، از درس خواندن خوشش نمی آید! یا ممکن است در بعضی دروس مثل املا یا ریاضی یا اکثر درس هایش ضعیف باشد. او دوست ندارد تکالیفش را انجام دهد، نمراتش پایین هستند و خودش، معلمش و حتی شما هم باور کرده اید که او کندذهن است یا یادگیری پائینی دارد.

اما ممکن است اتفاقاً او باهوش و با استعداد باشد اما اختلال یادگیری داشته باشد! و شما از این قضیه بی خبر هستید. اختلال یادگیری مشکل پیچیده‌ای نیست و به راحتی قابل حل است، اما تشخیص آن برای پدر و مادر و معلمانی که آگاهی روانشناسی ندارند، سخت است. اختلال یادگیری باید به موقع شناسایی و درمان شود. در مقاله زیر مفصلاً در رابطه با آن صحبت کرده ایم، و راه حل هایی را ارائه داده ایم.

با شناخت انواع این اختلالات و رفع آن ها در فرزندتان او را از سردرگمی می رهانید و این تصور که دانش آموز تنبل یا کندذهنی است را برایش از بین می برید، او نمرات خود را بالا می برد و با بروز توانایی ها و دیدن موفقیت هایش، اعتماد به نفس و انگیزه اش نیز افزایش خواهد یافت.

[اینجا کلیک کنید تا مقاله "انواع اختلالات یادگیری" را بخوانید.](#)

چرا فرزند من خجالتی است؟ چه چیزی باعث شده او خود را ناتوان تر از دیگران ببیند و در یک جمع به خود اجازه ابراز وجود ندهد؟ این ها نشانه های خطرناکی از یک بزرگسالی منفعل و شکست خورده نیست؟ مقاله زیر به طور کامل به مقوله اعتماد به نفس در فرزندان شما و راه های تقویت آن می پردازد، با شناخت و بکار گیری آن ها می توانید به فرزندتان کمک کنید، در آینده از شخصیت بهتری برخوردار باشد.

[اینجا کلیک کنید تا مقاله "چطور عزت نفس از دست رفته فرزندمان را دوباره زنده کنیم؟" را بخوانید.](#)

کلاس های تقویتی گزینه های خیلی خوبی برای یادگیری بهتر، رفع اشکال و تقویت پایه درسی فرزندمان هستند، اما شکل برگزاری این کلاس ها به میزان زیادی در نتیجه آن ها موثر است، تعداد دانش آموزان، معلمی که به آن ها تدریس می کند، میزان تعاملی که شما به عنوان والدین با معلم دارید و...

ما در مقاله زیر به نقد و بررسی شکل برگزاری کلاس های تقویتی خصوصی و عمومی و تاثیری که هر کدام روی فرزند شما می گذارند، بحث کرده ایم. با کلیک روی لینک زیر، مقاله را بخوانید و بهترین شیوه برگزاری کلاس تقویتی را برای فرزندتان انتخاب کنید، تا بیشترین و مفیدترین نتیجه را دریافت کنید.

[اینجا کلیک کنید تا مقاله "کلاس خصوصی یا عمومی؛ کدام بهتر است؟" را بخوانید.](#)

در مقاله زیر لیستی از بهترین کتاب های کمک آموزشی پایه سوم ابتدایی را تهیه کرده ایم. می توانید بنا بر توضیحاتی که در مورد کتاب ها داده ایم، کتاب مورد نیاز فرزندتان را انتخاب کنید.

[اینجا کلیک کنید تا مقاله "کتاب های کمک درسی سوم دبستان" را بخوانید.](#)

استادبانک به عنوان بزرگترین سایت تدریس خصوصی ایران مفتخر است که:  
بهترین بستر را برای با کیفیت ترین شیوه های آموزش و تدریس فراهم کرده است.  
قطب تدریس خصوصی کشور می باشد  
شرکت های دانش بنیان از جمله پیشرو ترین شرکت ها هستند که در اقتصاد  
کشور سهم عظیمی دارند و استادبانک مفتخر است که از جمله بهترین های آنهاست.  
در سال ۹۶ به عنوان برترین شرکت رشد یافته در دانشگاه شریف شناخته شد.  
مجموعه استادبانک از جمله معتبرترین شرکت های فضای وب ایران و به عنوان  
عضو رسمی اتحادیه کسب و کارهای مجازی از قابل اعتمادترین کسب و کارهای  
آنلاین است.  
با فضایی کاملا آکادمیک در مرکز رشد دانشگاه شریف مستقر است.

