

وضعیت فعلی شما در درس ریاضی اصلا مهم نیست!

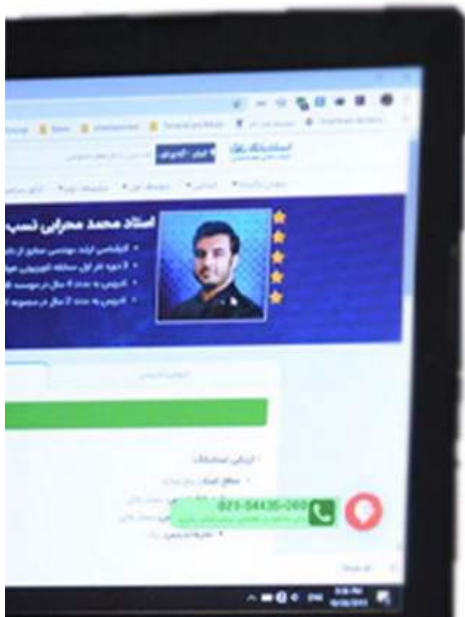
یک معلم خصوصی حرفه ای و با تجربه میتواند به شما کمک کند تا بتوانید ریاضی را به راحتی یاد بگیرید. روزانه صدها دانش آموز با ثبت درخواست معلم خصوصی در استادبانک میخواهند با بهترین معلم های ریاضی ایران کلاس خصوصی داشته باشند تا بتوانند ریاضی را بطور کامل یاد بگیرند و در امتحانات بر راحتی ۲۰ بگیرند.

شما نیاز دارید تا یک معلم خصوصی حرفه ای و با تجربه، سبک یادگیری شما را بشناسد و براساس پتانسیل های ذهنی شما، ریاضی را به شما تدریس کند. استادبانک بزرگترین و معتبر ترین و محبوب ترین سایت معلم خصوصی در ایران است. که به تمام فارسی زبانان در سرتاسر دنیا خدمات تدریس خصوصی ارائه میدهد.

معلمان متقاضی تدریس خصوصی بعد از ارسال درخواست ثبت نام در استادبانک، توسط تیم ارزیابی و داوری استادبانک از نظر کیفیت تدریس و سابقه تدریس بررسی و ارزیابی می شوند و تنها در صورت داشتن معیارهای لازم، به عضویت استادبانک در می آیند.

استادبانک سالانه ۱۳۰۰۰ معلم متقاضی تدریس خصوصی را رد میکند و تنها ۲۱۰ نفر هستند که میتوانند معیارهای لازم برای فعالیت در استادبانک را کسب کنند. روند نظارت بر کیفیت تدریس اساتید بسیار سختگیرانه حتی بعد از عضویت در سامانه معلم خصوصی استادبانک نیز ادامه دارد تا تنها بهترین معلم های ریاضی که شاگردان از کیفیت تدریس آن ها رضایت کامل را دارند، با ما فعالیت کنند.

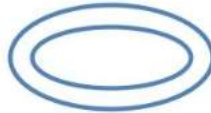
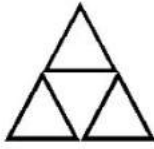
شما میتوانید برای دیدن رزومه بهترین اساتید ریاضی استادبانک، همین الان در گوگل عبارت معلم خصوصی ریاضی استادبانک را جستجو کنید و وارد سایت استادبانک و در ادامه رزومه تک تک اساتید را به همراه قیمت هر جلسه کلاس خصوصی ریاضی را ببینید.



نام و نام خانوادگی: ..... دبستان: ..... آزمون ریاضی تاریخ: ..... / ..... / .....



کدام شکل ها به قسم های مساوی تقسیم شده است ؟ علامت  $\times$  بگذار .



ی	د	ص
---	---	---

عددی سه رقمی بنویس که  $۷$  صدتایی و  $۸$  ده تایی داشته باشد . در جدول قرار بده

بارقم: ..... باحروف: .....

عدد را در مربع قرار بده ، ده تاده تا بشمار و جاهای خالی را پر کن .



..... - ..... - ..... - ..... - ..... - ..... - ..... - .....



با توجه به شکل رو به رو به سؤالات زیر پاسخ بده .

شکل به ..... قسمت مساوی تقسیم شده است .

..... قسمت از ..... قسمت مساوی این شکل سیاه است .

..... قسمت از ..... قسمت مساوی این شکل سفید است .



مسئله : کتاب داستان آروین  $۲۳۰$  صفحه دارد . او  $۱۸۰$  صفحه از کتاب داستانش را خوانده است . آروین چند صفحه از

کتاب داستانش را نخوانده است ؟

قدّ دانیال  $۱۲۹$  سانتی متر و قدّ محمد  $۱۳۱$  سانتی متر است . قدّ هر دو نفر چند سانتی متر است ؟

می تونی با بهترین معلم های ریاضی ایران کلاس خصوصی داشته باشی.

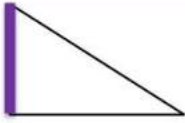
کافیه تو گوگل جستجو کنی:

معلم خصوصی ریاضی استادبانک

در شمارش ۸ تا ۸ تا ، عدد بعد از ۲۴ چه عددی است ؟

- الف) ۱۶ (ب) ۳۲ (ج) ۲۸ (د) ۴۰

در شکل رو به رو خطی که پر رنگ شده است چه نام دارد ؟



- الف) ضلع (ب) گوشه (ج) تقارن (د) نقطه

در یک کیسه ۸ مهره ی آبی و ۵ مهره ی قرمز انداخته ایم . اگر بدون این که به داخل کیسه نگاه کنیم یک مهره بیرون بیاوریم احتمال این که آن مهره آبی باشد بیشتر است یا قرمز ؟ چرا ؟

پارسا ربع ساعت صبحانه خورد و بعد از آن ۵ دقیقه مسواک زد . این دو کار او چند دقیقه طول کشیده است ؟

- الف) ۱۵ دقیقه (ب) ۲۵ دقیقه (ج) ۲۰ دقیقه (د) ۳۰ دقیقه

بزرگترین عدد سه رقمی که یکان آن ۷ باشد . کدام عدد است ؟

- الف) ۹۷۸ (ب) ۹۹۷ (ج) ۷۸۹ (د) ۸۹۷

عدد ۷۸ تقریباً به کدام عدد نزدیک تر است ؟

- الف) ۷۵ (ب) ۸۰ (ج) ۹۰ (د) ۷۰

گسترده (فرابندی)

$$\begin{array}{r} 154 \\ + 599 \\ \hline \end{array}$$

$$\begin{array}{r} 666 \\ - 578 \\ \hline \end{array}$$

جمع و تفریق های زیر را به صورت کوتاه و گسترده پاسخ انجام بده .

کوتاه (تکنیکی)

$$\begin{array}{r} 466 \\ + 239 \\ \hline \end{array}$$

$$\begin{array}{r} 814 \\ - 323 \\ \hline \end{array}$$

کامل کن . ۳ سانتی متر و ۶ میلی متر برابر است با ..... میلی متر .

هر کدام از اعداد زیر را به خانه ی مربوط به خود وصل کن .



۴۱

۳۴۵

۱۳۶

۹۲

۱۸

۶۷



تعداد هر قسمت را با کامل کردن جاهای خالی مشخص کن .



..... تا ..... تایی می شود .....




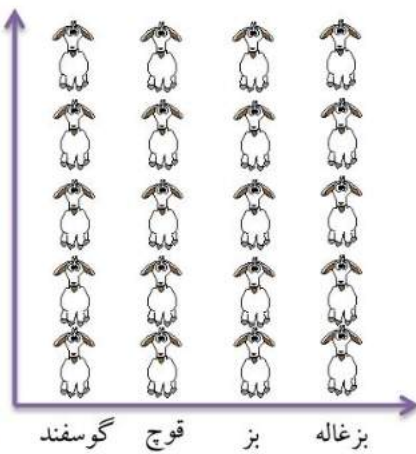
..... تا ..... تایی می شود .....



..... تا ..... تایی می شود .....



آمار حیوانات موجود در یک مزرعه در جدول زیر آمده است . ابتدا تعداد تقریبی حیوانات را به دست آورده و جدول را کامل کن .  
اگر هر ۱۰ حیوان را با  نشان دهیم . نمودار زیر را کامل کن . ( رنگ بز )



نام حیوان	گوسفند	قوچ	بز	بزغاله
تعداد حیوان	۴۶	۲۱	۳۸	۱۷
تعداد تقریبی				

### بازخورد آموزگار :

می تونی با بهترین معلم های ریاضی ایران کلاس خصوصی داشته باشی.  
کافیه تو گوگل جستجو کنی:  
معلم خصوصی ریاضی استادبانک

با درس نخواندن فرزندان چه کنیم؟ چه چیزی باعث می شود فرزند ما دچار افت تحصیلی شود؟ عوامل زیادی باعث می شوند، فرزند ما از درس بدش بیاید و از درس خواندن فراری باشد، یا حتی درس بخواند باز هم نمرات اش بالا نرود!

این مشکلات ساده نیستند، عوامل زیادی از جمله: خانواده، مدرسه، مشکلات اجتماعی و روانی خود دانش آموز و ... می توانند دخیل باشند. ما در مقالات زیر به تفصیل در رابطه با این عوامل صحبت کرده ایم و راه حل هایی را برای حل مشکل افت تحصیلی دانش آموزان ارائه کرده ایم.

با شناخت عوامل موثر بر افت تحصیلی و بی علاقگی نسبت به درس و از بین بردن آن ها، به فرزندان کمک بزرگی کرده اید، او در مسیر پیشرفت و موفقیت حرکت خواهد کرد و با بروز دادن استعدادها و توانایی هایش به خودباوری می رسد.

[اینجا کلیک کنید تا مقاله "با افت تحصیلی فرزندم چه کنم؟" را بخوانید.](#)

[اینجا کلیک کنید تا مقاله "علت بی علاقگی فرزندم به درس چیست؟" را بخوانید.](#)

بعضی وقت ها متوجه می شویم که فرزند ما علی رقم سرعت یادگیری بالایی که دارد، از درس خواندن خوشش نمی آید! یا ممکن است در بعضی دروس مثل املا یا ریاضی یا اکثر درس هایش ضعیف باشد. او دوست ندارد تکالیفش را انجام دهد، نمراتش پایین هستند و خودش، معلمش و حتی شما هم باور کرده اید که او کندذهن است یا یادگیری پائینی دارد.

اما ممکن است اتفاقاً او باهوش و با استعداد باشد اما اختلال یادگیری داشته باشد! و شما از این قضیه بی خبر هستید. اختلال یادگیری مشکل پیچیده ای نیست و به راحتی قابل حل است، اما تشخیص آن برای پدر و مادر و معلمانی که آگاهی روانشناسی ندارند، سخت است. اختلال یادگیری باید به موقع شناسایی و درمان شود. در مقاله زیر مفصلاً در رابطه با آن صحبت کرده ایم، و راه حل هایی را ارائه داده ایم.

با شناخت انواع این اختلالات و رفع آن ها در فرزندان او را از سردرگمی می رهانید و این تصور که دانش آموز تنبل یا کندذهنی است را برایش از بین می برید، او نمرات خود را بالا می برد و با بروز توانایی ها و دیدن موفقیت هایش، اعتماد به نفس و انگیزه اش نیز افزایش خواهد یافت.

[اینجا کلیک کنید تا مقاله "انواع اختلالات یادگیری" را بخوانید.](#)

چرا فرزند من خجالتی است؟ چه چیزی باعث شده او خود را ناتوان تر از دیگران ببیند و در یک جمع به خود اجازه ابراز وجود ندهد؟ این ها نشانه های خطرناکی از یک بزرگسالی منفعل و شکست خورده نیست؟ مقاله زیر به طور کامل به مقوله اعتماد به نفس در فرزندان شما و راه های تقویت آن می پردازد، با شناخت و بکار گیری آن ها می توانید به فرزندان کمک کنید، در آینده از شخصیت بهتری برخوردار باشد.

[اینجا کلیک کنید تا مقاله "چطور عزت نفس از دست رفته فرزندان را دوباره زنده کنیم؟" را بخوانید.](#)

کلاس های تقویتی گزینه های خیلی خوبی برای یادگیری بهتر، رفع اشکال و تقویت پایه درسی فرزندان هستند، اما شکل برگزاری این کلاس ها به میزان زیادی در نتیجه آن ها موثر است، تعداد دانش آموزان، معلمی که به آن ها تدریس می کند، میزان تعاملی که شما به عنوان والدین با معلم دارید و...

ما در مقاله زیر به نقد و بررسی شکل برگزاری کلاس های تقویتی خصوصی و عمومی و تاثیری که هر کدام روی فرزند شما می گذارند، بحث کرده ایم. با کلیک روی لینک زیر، مقاله را بخوانید و بهترین شیوه برگزاری کلاس تقویتی را برای فرزندان انتخاب کنید، تا بیشترین و مفیدترین نتیجه را دریافت کنید.

[اینجا کلیک کنید تا مقاله "کلاس خصوصی یا عمومی؛ کدام بهتر است؟" را بخوانید.](#)

در مقاله زیر لیستی از بهترین کتاب های کمک آموزشی پایه دوم ابتدایی را تهیه کرده ایم. می توانید بنا بر توضیحاتی که در مورد کتاب ها داده ایم، کتاب مورد نیاز فرزندان را انتخاب کنید.

[اینجا کلیک کنید تا مقاله "کتاب های کمک درسی دوم دبستان" را بخوانید.](#)

استادبانک به عنوان بزرگترین سایت تدریس خصوصی ایران مفتخر است که:  
• بهترین بستر را برای با کیفیت ترین شیوه های آموزش و تدریس فراهم کرده است.  
• قطب تدریس خصوصی کشور می باشد  
• شرکت های دانش بنیان از جمله پیشرو ترین شرکت ها هستند که در اقتصاد کشور سهم عظیمی دارند و استادبانک مفتخر است که از جمله بهترین های آنهاست.  
• در سال ۹۶ به عنوان برترین شرکت رشد یافته در دانشگاه شریف شناخته شد.  
• مجموعه استادبانک از جمله معتبرترین شرکت های فضای وب ایران و به عنوان عضو رسمی اتحادیه کسب و کارهای مجازی از قابل اعتمادترین کسب و کارهای آنلاین است.  
• با فضایی کاملاً آکادمیک در مرکز رشد دانشگاه شریف مستقر است.

