

وضعیت فعلی شما در درس ریاضی اصلا مهم نیست!

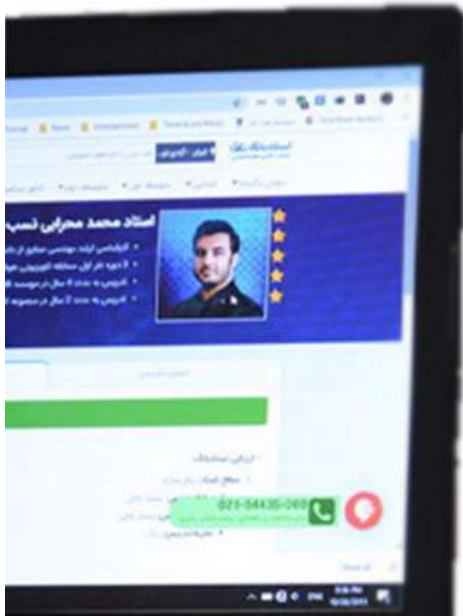
یک معلم خصوصی حرفه ای و با تجربه میتواند به شما کمک کند تا بتوانید ریاضی را به راحتی یاد بگیرید. روزانه صدها دانش آموز با ثبت درخواست معلم خصوصی در استادبانک میخواهند با بهترین معلم های ریاضی ایران کلاس خصوصی داشته باشند تا بتوانند ریاضی را بطور کامل یاد بگیرند و در امتحانات براحتی ۲۰ بگیرند.

شما نیاز دارید تا یک معلم خصوصی حرفه ای و با تجربه، سبک یادگیری شما را بشناسد و براساس پتانسیل های ذهنی شما، ریاضی را به شما تدریس کند. استادبانک بزرگترین و معتبر ترین و محبوب ترین سایت معلم خصوصی در ایران است. که به تمام فارسی زبانان در سرتاسر دنیا خدمات تدریس خصوصی ارائه میدهد.



معلمان متقاضی تدریس خصوصی بعد از ارسال درخواست ثبت نام در استادبانک، توسط تیم ارزیابی و داوری استادبانک از نظر کیفیت تدریس و سابقه تدریس بررسی و ارزیابی می شوند و تنها در صورت داشتن معیارهای لازم، به عضویت استادبانک در می آیند.

استادبانک سالانه ۱۳۰۰۰ معلم متقاضی تدریس خصوصی را رد میکند و تنها ۲۱۰ نفر هستند که میتوانند معیارهای لازم برای فعالیت در استادبانک را کسب کنند. روند نظارت بر کیفیت تدریس اساتید بسیار سختگیرانه حتی بعد از عضویت در سامانه معلم خصوصی استادبانک نیز ادامه دارد تا تنها بهترین معلم های ریاضی که شاگردان از کیفیت تدریس آن ها رضایت کامل را دارند، با ما فعالیت کنند.

شما میتوانید برای دیدن رزومه بهترین اساتید ریاضی استادبانک، همین الان در گوگل عبارت معلم خصوصی ریاضی استادبانک را جستجو کنید و وارد سایت استادبانک و در ادامه رزومه تک تک اساتید را به همراه قیمت هر جلسه کلاس خصوصی ریاضی را ببینید.


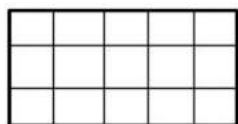





بسمه تعالی
آزمون ریاضی پایه ی دوم نوبت دوم (اردیبهشت ماه) آموزشگاه :
نام و نام خانوادگی : کلاس : دوم

| سوال | شرح سوال | | | | | | | | | | | | | | | | | | | | |
|-------|--|-------|--------|------------|--------|---------|-------|------|-------|-------|-------|---|-----|----|----|-----------|---|---|---|---|------------|
| ۱ | جاهای خالی را کامل کن . <table border="1" style="display: inline-table; margin-right: 20px;"> <tr> <td>یکان</td> <td>دهگان</td> <td>صدگان</td> </tr> <tr> <td>.....</td> <td>.....</td> <td>.....</td> </tr> </table> ۸۳۲ <table border="1" style="display: inline-table; margin-left: 20px;"> <tr> <td>یکان</td> <td>دهگان</td> </tr> <tr> <td>.....</td> <td>.....</td> </tr> </table> ۵۹ | یکان | دهگان | صدگان | | | | یکان | دهگان | | | | | | | | | | | | |
| یکان | دهگان | صدگان | | | | | | | | | | | | | | | | | | | |
| | | | | | | | | | | | | | | | | | | | | | |
| یکان | دهگان | | | | | | | | | | | | | | | | | | | | |
| | | | | | | | | | | | | | | | | | | | | | |
| ۲ | حاصل جمع های زیر را بدست بیاور . $۸ + ۱۰ + ۳۰ + ۵ + ۵ = \dots\dots\dots$ $۲۰ + ۱۵ + ۳۰ + ۵ + ۱۵ = \dots\dots\dots$ | | | | | | | | | | | | | | | | | | | | |
| ۳ | در جای خالی عدد مناسب بنویس . الف (۵۲ به چه عددی نزدیک تر است ؟ ۴۰ یا ۵۰ ؟) ب (۷۹ به چه عددی نزدیک تر است ؟ ۷۰ یا ۸۰ ؟) | | | | | | | | | | | | | | | | | | | | |
| ۴ | ساعت چند است ؟ بنویس . <div style="display: flex; justify-content: space-around; align-items: center;"> <div style="text-align: center;">  ساعت و دقیقه </div> <div style="text-align: center;">  ساعت و دقیقه </div> </div> | | | | | | | | | | | | | | | | | | | | |
| ۵ | اشکال زیر را رسم کن و تعداد ضلع ها و گوشه های هر یک را بنویس . <table border="1" style="width: 100%; text-align: center;"> <thead> <tr> <th>دایره</th> <th>مثلث</th> <th>مربع</th> <th>مستطیل</th> <th>رسم شکل</th> </tr> </thead> <tbody> <tr> <td> </td> <td> </td> <td> </td> <td> </td> <td> </td> </tr> <tr> <td> </td> <td> </td> <td> </td> <td> </td> <td>تعداد ضلع</td> </tr> <tr> <td> </td> <td> </td> <td> </td> <td> </td> <td>تعداد گوشه</td> </tr> </tbody> </table> | دایره | مثلث | مربع | مستطیل | رسم شکل | | | | | | | | | | تعداد ضلع | | | | | تعداد گوشه |
| دایره | مثلث | مربع | مستطیل | رسم شکل | | | | | | | | | | | | | | | | | |
| | | | | | | | | | | | | | | | | | | | | | |
| | | | | تعداد ضلع | | | | | | | | | | | | | | | | | |
| | | | | تعداد گوشه | | | | | | | | | | | | | | | | | |
| ۶ | کیسه ها را بشمار و بنویس چند ریال است . <div style="display: flex; justify-content: space-around; align-items: center;"> <div style="text-align: center;"> <table border="1" style="margin-bottom: 5px;"> <tr><td>۱۰۰</td><td>۱۰۰</td><td>۱۰۰</td></tr> <tr><td>۱۰</td><td>۱۰</td><td>۱۰</td><td>۱۰</td><td>۱۰</td></tr> <tr><td>۱</td><td>۱</td><td>۱</td></tr> </table> ریال </div> <div style="text-align: center;"> <table border="1" style="margin-bottom: 5px;"> <tr><td>۱۰۰</td></tr> <tr><td>۱۰</td><td>۱۰</td><td>۱۰</td></tr> <tr><td>۱</td><td>۱</td><td>۱</td><td>۱</td></tr> </table> ریال </div> </div> | ۱۰۰ | ۱۰۰ | ۱۰۰ | ۱۰ | ۱۰ | ۱۰ | ۱۰ | ۱۰ | ۱ | ۱ | ۱ | ۱۰۰ | ۱۰ | ۱۰ | ۱۰ | ۱ | ۱ | ۱ | ۱ | |
| ۱۰۰ | ۱۰۰ | ۱۰۰ | | | | | | | | | | | | | | | | | | | |
| ۱۰ | ۱۰ | ۱۰ | ۱۰ | ۱۰ | | | | | | | | | | | | | | | | | |
| ۱ | ۱ | ۱ | | | | | | | | | | | | | | | | | | | |
| ۱۰۰ | | | | | | | | | | | | | | | | | | | | | |
| ۱۰ | ۱۰ | ۱۰ | | | | | | | | | | | | | | | | | | | |
| ۱ | ۱ | ۱ | ۱ | | | | | | | | | | | | | | | | | | |
| ۷ | اعداد زیر را به رقم و حروف بنویس . پانصد و هفتاد ششصد و نود و یک | | | | | | | | | | | | | | | | | | | | |
| ۸ | حسین ۴۰۰ ریال و مجید ۳۰۰ ریال را در صندوق انداختند . آن ها با هم چند ریال در صندوق انداخته اند ؟ | | | | | | | | | | | | | | | | | | | | |
| ۹ | خط های زیر را با خط کش اندازه بگیر و بنویس چند میلی متر است . <div style="display: flex; justify-content: space-around; align-items: center;"> <div style="text-align: center;"> <hr style="width: 150px; border: 1px solid black;"/> میلی متر </div> <div style="text-align: center;"> <hr style="width: 150px; border: 1px solid black;"/> میلی متر </div> </div> | | | | | | | | | | | | | | | | | | | | |

می تونی با بهترین معلم های ریاضی ایران کلاس خصوصی داشته باشی.

کافیست تو گوگل جستجو کنی:
معلم خصوصی ریاضی استادبانک

| ۱۰ | با عدد های ۹، ۲، ۵ تا می توانی اعداد ۳ رقمی بنویسی و دور آن هایی که یکان آن ها ۲ است خط بکش . | | | | | | | | | | | | | | | | | | | | | |
|--------------|--|---------|---------|---------|---------|-----------|-----|-----------|-------|-------|-------|-------|-------|-------|-------|--------------|-------|-------|-------|-------|-------|-------|
| ۱۱ | <p>حاصل جمع و تفریق های زیر را بدست بیاور .</p> <table border="0" style="width: 100%;"> <tr> <td style="text-align: center;">تکنیکی</td> <td style="text-align: center;">تکنیکی</td> <td style="text-align: center;">فرایندی</td> <td style="text-align: center;">فرایندی</td> </tr> <tr> <td style="text-align: center;">۴۲۸</td> <td style="text-align: center;">۵۹۲</td> <td style="text-align: center;">۴۹۲</td> <td style="text-align: center;">۶۵۱</td> </tr> <tr> <td style="text-align: center;">- ۱۱۹</td> <td style="text-align: center;">+ ۲۲۱</td> <td style="text-align: center;">- ۲۵۱</td> <td style="text-align: center;">+ ۲۳۲</td> </tr> <tr> <td style="text-align: center;">.....</td> <td style="text-align: center;">.....</td> <td style="text-align: center;">.....</td> <td style="text-align: center;">.....</td> </tr> </table> | تکنیکی | تکنیکی | فرایندی | فرایندی | ۴۲۸ | ۵۹۲ | ۴۹۲ | ۶۵۱ | - ۱۱۹ | + ۲۲۱ | - ۲۵۱ | + ۲۳۲ | | | | | | | | | |
| تکنیکی | تکنیکی | فرایندی | فرایندی | | | | | | | | | | | | | | | | | | | |
| ۴۲۸ | ۵۹۲ | ۴۹۲ | ۶۵۱ | | | | | | | | | | | | | | | | | | | |
| - ۱۱۹ | + ۲۲۱ | - ۲۵۱ | + ۲۳۲ | | | | | | | | | | | | | | | | | | | |
| | | | | | | | | | | | | | | | | | | | | | | |
| ۱۲ | <p>عدد ها را مقایسه کن و علامت مناسب $< = >$ بگذار .</p> <p style="text-align: center;"> $۱۰۰ + ۳۰۰$ ○ $۲۰۰ + ۲۰۰$ $۲۰۰ + ۷$ ○ ۲۲۰ ۳۱۶ ○ ۴۱۵ </p> | | | | | | | | | | | | | | | | | | | | | |
| ۱۳ | <p>با توجه به عبارت نوشته شده ، شکل را رنگ بزن .</p> <p style="text-align: center;"> ۲ قسمت از ۴ قسمت  ۶ قسمت از ۱۵ قسمت </p>  | | | | | | | | | | | | | | | | | | | | | |
| ۱۴ | <p>در جعبه ی مداد رنگی ۲ مداد قرمز ، ۵ مداد آبی و ۳ مداد سبز وجود دارد .</p> <p>چه کسری از مداد ها قرمز است ؟</p> <p>چه کسری از مداد ها آبی است ؟</p> <p>چه کسری از مداد ها سبز است ؟</p>  | | | | | | | | | | | | | | | | | | | | | |
| ۱۵ | <p>تعداد دانش آموزان شرکت کننده در رشته های ورزشی یک باشگاه به صورت زیر است .</p> <table border="1" style="width: 100%; text-align: center;"> <thead> <tr> <th>رشته</th> <th>والیبال</th> <th>بسکتبال</th> <th>فوتبال</th> <th>کاراته</th> <th>شنا</th> <th>ژیمناستیک</th> </tr> </thead> <tbody> <tr> <td>تعداد</td> <td>۶۳</td> <td>۴۸</td> <td>۳۳</td> <td>۳۴</td> <td>۳۸</td> <td>۲۱</td> </tr> <tr> <td>تعداد تقریبی</td> <td>.....</td> <td>.....</td> <td>.....</td> <td>.....</td> <td>.....</td> <td>.....</td> </tr> </tbody> </table> <p>ابتدا تعداد تقریبی دانش آموزان را بنویس و نمودار را با نشان دادن هر ۱۰ نفر با شکل <input type="checkbox"/> کامل کن .</p> <div style="text-align: right;">  </div> <div style="text-align: center; margin-top: 20px;">  </div> | رشته | والیبال | بسکتبال | فوتبال | کاراته | شنا | ژیمناستیک | تعداد | ۶۳ | ۴۸ | ۳۳ | ۳۴ | ۳۸ | ۲۱ | تعداد تقریبی | | | | | | |
| رشته | والیبال | بسکتبال | فوتبال | کاراته | شنا | ژیمناستیک | | | | | | | | | | | | | | | | |
| تعداد | ۶۳ | ۴۸ | ۳۳ | ۳۴ | ۳۸ | ۲۱ | | | | | | | | | | | | | | | | |
| تعداد تقریبی | | | | | | | | | | | | | | | | | | | | | | |

پازخورد معلم

نیاز به تلاش بیشتر

می تونی با بهترین معلم های ریاضی ایران کلاس خصوصی داشته باشی.
کافیه تو گوگل جستجو کنی:
معلم خصوصی ریاضی استادبانک

ارزشیابی توصیفی

با درس نخواندن فرزندان چه کنیم؟ چه چیزی باعث می شود فرزند ما دچار افت تحصیلی شود؟ عوامل زیادی باعث می شوند، فرزند ما از درس بدش بیاید و از درس خواندن فراری باشد، یا حتی درس بخواند باز هم نمرات اش بالا نرود!

این مشکلات ساده نیستند، عوامل زیادی از جمله: خانواده، مدرسه، مشکلات اجتماعی و روانی خود دانش آموز و ... می توانند دخیل باشند. ما در مقالات زیر به تفصیل در رابطه با این عوامل صحبت کرده ایم و راه حل هایی را برای حل مشکل افت تحصیلی دانش آموزان ارائه کرده ایم.

با شناخت عوامل موثر بر افت تحصیلی و بی علاقتی نسبت به درس و از بین بردن آن ها، به فرزندان کمک بزرگی کرده اید، او در مسیر پیشرفت و موفقیت حرکت خواهد کرد و با بروز دادن استعدادها و توانایی هایش به خودباوری می رسد.

با افت تحصیلی فرزندم چه کنم؟

علت بی علاقتی فرزندم به درس چیست؟

بعضی وقت ها متوجه می شویم که فرزند ما علی رقم سرعت یادگیری بالایی که دارد، از درس خواندن خوشش نمی آید! یا ممکن است در بعضی دروس مثل املا یا ریاضی یا اکثر درس هایش ضعیف باشد. او دوست ندارد تکالیفش را انجام دهد، نمراتش پایین هستند و خودش، معلمش و حتی شما هم باور کرده اید که او کندذهن است یا یادگیری پائینی دارد.

اما ممکن است اتفاقاً او باهوش و با استعداد باشد اما اختلال یادگیری داشته باشد! و شما از این قضیه بی خبر هستید. اختلال یادگیری مشکل پیچیده ای نیست و به راحتی قابل حل است، اما تشخیص آن برای پدر و مادر و معلمانی که آگاهی روانشناسی ندارند، سخت است. اختلال یادگیری باید به موقع شناسایی و درمان شود. در مقاله زیر مفصلاً در رابطه با آن صحبت کرده ایم، و راه حل هایی را ارائه داده ایم.

با شناخت انواع این اختلالات و رفع آن ها در فرزندان او را از سردرگمی می رهانید و این تصور که دانش آموز تنبل یا کندذهنی است را برایش از بین می برید، او نمرات خود را بالا می برد و با بروز توانایی ها و دیدن موفقیت هایش، اعتماد به نفس و انگیزه اش نیز افزایش خواهد یافت.

انواع اختلالات یادگیری

چرا فرزند من خجالتی است؟ چه چیزی باعث شده او خود را ناتوان تر از دیگران ببیند و در یک جمع به خود اجازه ابراز وجود ندهد؟ این ها نشانه های خطرناکی از یک بزرگسالی منفعل و شکست خورده نیست؟ مقاله زیر به طور کامل به مقوله اعتماد به نفس در فرزندان شما و راه های تقویت آن می پردازد، با شناخت و بکار گیری آن ها می توانید به فرزندان کمک کنید، در آینده از شخصیت بهتری برخوردار باشد.

چطور عزت نفس از دست رفته فرزندان را دوباره زنده کنیم؟

کلاس های تقویتی گزینه های خیلی خوبی برای یادگیری بهتر، رفع اشکال و تقویت پایه درسی فرزندان هستند، اما شکل برگزاری این کلاس ها به میزان زیادی در نتیجه آن ها موثر است، تعداد دانش آموزان، معلمی که به آن ها تدریس می کند، میزان تعاملی که شما به عنوان والدین با معلم دارید و...

ما در مقاله زیر به نقد و بررسی شکل برگزاری کلاس های تقویتی خصوصی و عمومی و تاثیری که هر کدام روی فرزند شما می گذارند، بحث کرده ایم. با کلیک روی لینک زیر، مقاله را بخوانید و بهترین شیوه برگزاری کلاس تقویتی را برای فرزندان انتخاب کنید، تا بیشترین و مفیدترین نتیجه را دریافت کنید.

کلاس خصوصی یا عمومی؛ کدام بهتر است؟

در مقاله زیر لیستی از بهترین کتاب های کمک آموزشی پایه دوم ابتدایی را تهیه کرده ایم. می توانید بنا بر توضیحاتی که در مورد کتاب ها داده ایم، کتاب مورد نیاز فرزندان را انتخاب کنید.

کتاب های کمک درسی دوم دبستان

استادبانک به عنوان بزرگترین سایت تدریس خصوصی ایران مفتخر است که:
بهترین بستر را برای با کیفیت ترین شیوه های آموزش و تدریس فراهم کرده است.
قطب تدریس خصوصی کشور می باشد
شرکت های دانش بنیان از جمله پیشرو ترین شرکت ها هستند که در اقتصاد
کشور سهم عظیمی دارند و استادبانک مفتخر است که از جمله بهترین های آنهاست.
در سال ۹۶ به عنوان برترین شرکت رشد یافته در دانشگاه شریف شناخته شد.
مجموعه استادبانک از جمله معتبرترین شرکت های فضای وب ایران و به عنوان
عضو رسمی اتحادیه کسب و کارهای مجازی از قابل اعتمادترین کسب و کارهای
آنلاین است.
با فضایی کاملا آکادمیک در مرکز رشد دانشگاه شریف مستقر است.

