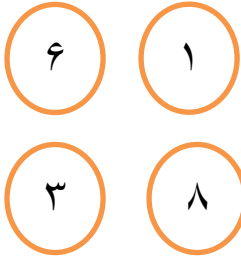


به نام خالق هستی

سال تحصیلی

سؤالات ریاضی پایه دوم



۱ - در شکل رو به رو چهار عدد می بینی حاصل جمع کدام جفت از

این اعداد برابر ۷ می شود؟

با این دو رقم چند عدد دو رقمی می توان نوشت آن ها را بنویس؟

حاصل تفریق کدام جفت از این اعداد برابر ۷ می شود؟

با این دو رقم چند عدد دو رقمی می توان نوشت آن ها را بنویس؟

حاصل جمع کدام جفت از این اعداد برابر ۱۴ و حاصل تفریق شان برابر ۲ می شود؟

با این دو رقم چند عدد دو رقمی می توان نوشت آن ها را بنویس؟

۲ - مرغی ۴ تا جوجه دارد . این مرغ چند روز قبل ۹ تا تخم گذاشت .

امروز ۳ تا از تخم ها ترک خوردند و جوجه ها از آن بیرون آمدند . حالا این مرغ چند جوجه دارد؟

۳ - مریم ۸ ساعت در شبانه روز می خوابد و ۶ ساعت مطالعه می کند . او در شبانه روز چند ساعت می تواند

اوقات فراغت داشته باشد؟

۴ - عددهای دو رقمی را به هم و عدد های یک رقمی را به هم وصل کن و علامت بدست آمده را بنویس .

۷۸

۱۳

۵

۹

۵ - به کارت های زیر نگاه کن و به سؤالات پاسخ بده .



با کارت های مثلث چند عدد دو رقمی می توان نوشت آن ها را بنویس ؟

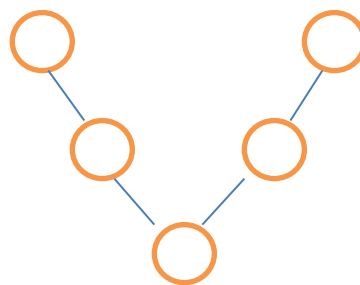
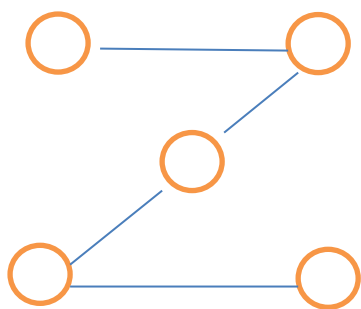
با کارت های مستطیل چند عدد دو رقمی می توان نوشت آن ها را بنویس ؟

با دوکارت های دایره و شش ضلعی چند عدد دو رقمی می توان نوشت آن ها را بنویس ؟

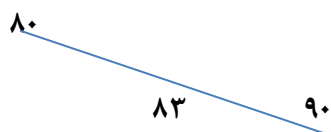
با دو کارت های شش ضلعی ولوزی چند عدد دو رقمی می توان نوشت آن ها را بنویس ؟

با سه کارت های شش ضلعی ولوزی ودایره چند عدد دو رقمی می توان نوشت آن ها را بنویس ؟

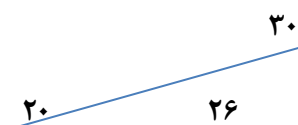
۶ - دایره ها را با اعداد ۱-۲-۳-۴-۵ به گونه ای پر کن که جمع اعداد روی هر خط در شکل سمت چپ برابر ۷ و جمع اعداد روی هر خط در شکل سمت راست برابر ۱۰ باشد .



۷ - عدد های وسط به کدام عدد نزدیک تر است . آن را رنگ کن



۵۰ ۵۵ ۶۰



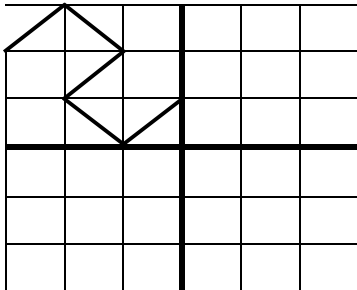
۸- جدول زیر را با اعداد ۱ تا ۹ پر کن که جمع هر سطر و هر ستون برابر عددی باشد که کنار آن سطر و ستون نوشته شده است.

۴		۷	۱۴
			۱۹
۹		۳	۱۴
۱۸	۹	۱۸	

۹- عدد های زیر را از کوچک به بزرگ مرتب کن سپس حروف بالای آن را پیش هم بگذار و رمز را پیدا کن .

ی ن ب ت ا ا س ای ر ز
۷۵ - ۴۸ - ۷۹ - ۱۰۰ - ۸۹ - ۳۴ - ۹۶ - ۱۹ - ۲۱ - ۶۴

۱۰- نیمه ی دیگر شکل را با توجه به خط تقارن کامل کن .



۱۱- - امید ساعت ۷:۳۵ از خانه خارج می شود او ۱۵ دقیقه بعد به مدرسه می رسد . امید ساعت چند به مدرسه می رسد ؟ (ساعت را بکش)



۱۲ - با رقم های ۴ - ۸ - ۶ دو عدد سه رقمی بنویس که صدگان آن ۸ باشد .

۱۳ - اعداد زیر را به رقم و به حروف بنویس و اعدادی که یکان مساوی دارند را با خط کش به هم وصل کن .

چهار صد و سی و نه : ☆ ☆ : صد و سی و سه

دویست و بیست : ☆ ☆ : ۳۰۹

۶۶۳ : ☆ ☆ : ۶۰۰

۱۴ - من چه عددی هستم ؟ یکانم کوچک ترین عدد یک رقمی و دهگانم بزرگ ترین عدد یک رقمی و صدگانم سه تا کم تر از دهگانم است . مرا به رقم و حروف بنویس .

با رقم های من دو عدد سه رقمی دیگر بنویس .

۱۵ - یک عدد سه رقمی بنویس که بین اعداد ۱۶۰ و ۱۷۰ باشد به طوری که یکان آن از دهگانش بزرگ تر باشد .

۱۶ - محمد ۶ بسته ده تایی و ۹ یکی مداد داشت . او دو بسته ده تایی و ۵ یکی مداد را به دوستش داد . حالا محمد چند مداد دارد ؟ محمد ۱۲ تا از مداد ها را هم خودش مصرف کرد . حالا برای او چند تا باقی مانده است ؟

۱۷ - مسئله زیر را با استفاده از دو راه که یاد گرفته ای حل کن .

مریم در روز تولدش ۲۸ شیرینی در داخل ظرفی که ۳۴ شیرینی داشت گذاشت . حالا در ظرف شیرینی چند تا شیرینی است ؟ (راهی را که بهتر است بیان کن و بنویس)

راه دوم

راه اول

۱۸- احمد یک سکه ی ۲۵۰ ریالی و سه سکه ی ۱۰۰ ریالی و دو سکه ی ۵۰ ریالی و یک سکه ی ۵ ریالی داشت .

الف (سکه ها را با شکل نشان بده .

ب (بگو احمد چند ریال پول دارد .


۱۹- عدد مقابل را در جدول ارزش مکانی قرار داده و با شکل نشان بده . ۳۶۹

ارزش کدام رقم بیش تر است ؟

۲۰- چهار ضلعی بکش که ضلع های آن دو به دو با هم مساوی باشد .

خط تقارن آن را رسم کن و بنویس چند خط تقارن دارد ؟

۲۱- جمله های مربوط به شکل ها را به هم وصل کن .



به مربع شباهت دارد و هر چهار ضلعش برابر است .

سه گوشه و سه ضلع دارد .

هر چهار ضلع آن با هم برابر است .


۲۲- کدام یک از وسایل کلاس شما شکل دایره و کدام به شکل مستطیل است ؟

نام آن ها را جلوی شکل ها بنویس .

: ○

: □

۲۳- اگر ساعت ۵ و ربع باشد سه ساعت قبل ساعت چند بوده است ؟ روی شکل نشان بده .



۲۷۵ ریال

۲۴ - با توجه به قیمت کتاب سکه های لازم را جدا کن ؟



۲۵ - تفریق ۸ - ۱۴ را با چوب خط یا محور می توانی انجام داد . آن را انجام بده . (حل کن)

۲۶ - برای جمع مقابل یک محور بکش و حاصل آن را بنویس . $60 + 30 =$

۲۷ - قبل و بعد عدد های زیر را بنویس .

۱۵۵ - - - - ۱۵۱ - - - -

کم ترین و بیش ترین عدد را بنویس .

کم ترین : بیش ترین :

۲۸ - اندازه ی مداد ت و کتاب کار فارسی را بگیر و بگو چند سانتی متر و چند میلی متر است

مداد :

کتاب کار فارسی :

۲۹ - از عدد صفر خط کش قسمت های کوچک را بشمار و به سؤالات زیر پاسخ بده .

هفتمین قسمت یعنی میلی متر

۱۴ میلی متر یعنی سانتی متر و میلی متر

۳۸ میلی متر یعنی سانتی متر و میلی متر

۵ سانتی متر و ۲ میلی متر یعنی میلی متر