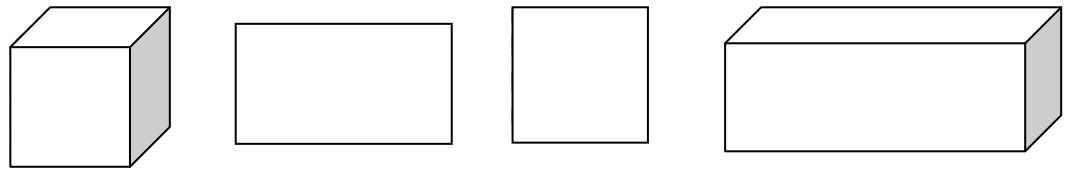
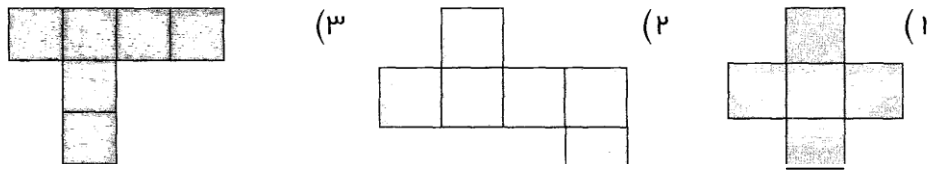



۱- نام شکل های زیر را بنویسید.



۲- کدام شکل گسترده ی یک مکعب است؟



۳- مکعب مستطیل زیر چند وجه دارد؟



۴- یک مکعب وجه، ضلع و رأس دارد.

۵- سه شیء نام ببرید که به شکل مکعب مستطیل باشد.

۶- گسترده ی یک مکعب را رسم کنید.

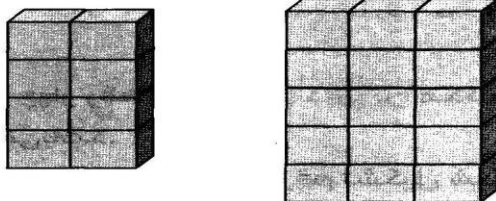
۷- کدام یک از اجسام زیر به شکل مکعب مستطیل می باشد.

قوطی کنسرو توپ آجر کلمه ی قند

۸- گسترده ی مکعب از مربع تشکیل شده است.

۳ ۴ ۵ ۶

۹- در شکل های زیر چند مکعب می بینید؟



۱۰- گسترده ی یک مکعب مستطیل را رسم کنید.