



۱- جمع یا تفریق مربوط به هر شکل را بنویسید.






۲- جمع‌های زیر را مانند نمونه انجام دهید.

$$7 + 6 = 10 + 3 = 13$$

$$6 + 7 =$$

$$5 + 8 =$$

$$9 + 4 =$$

$$4 + 7 =$$

$$8 + 9 =$$

۳- در جاهای خالی عدد مناسب بنویسید.

$$9 + 6 = (9 + 1) + \bigcirc$$

$$\bigcirc + 3 = 9 - 2$$

۴- حاصل جمع‌های زیر را بنویسید.

$$5 + 0 = \dots\dots\dots$$

$$6 + 6 = \dots\dots\dots$$

$$8 + 7 = \dots\dots\dots$$

$$9 + 2 = \dots\dots\dots$$

۵- حاصل جمع‌های زیر را به دست آورید.

$$\begin{array}{r} 5 \quad 2 \\ + \quad 3 \quad 8 \\ \hline \end{array}$$

$$\begin{array}{r} 9 \quad 5 \\ + \quad 2 \quad 4 \\ \hline \end{array}$$

$$\begin{array}{r} 2 \quad 5 \quad 7 \\ + \quad 3 \quad 6 \\ \hline \end{array}$$

$$\begin{array}{r} 6 \quad 4 \quad 0 \\ + \quad 3 \quad 0 \quad 0 \\ \hline \end{array}$$

$$\begin{array}{r} 5 \quad 0 \quad 9 \\ + \quad 1 \quad 2 \quad 8 \\ \hline \end{array}$$

$$\begin{array}{r} 3 \quad 4 \quad 0 \\ + \quad 3 \quad 7 \\ \hline \end{array}$$

۶- در  $\bigcirc$  علامت + یا - بگذارید.

$$7 \bigcirc 5 = 12$$

$$9 \bigcirc 4 = 5$$

$$6 \bigcirc 8 = 14$$

$$5 \bigcirc 3 = 8$$

$$14 \bigcirc 6 = 8$$

$$17 \bigcirc 9 = 8$$

۷- برای هر جمع دو تفریق بنویسید.

$$6 \quad 8 \quad \dots\dots\dots \quad \dots\dots\dots$$

$$2 \quad 4 \quad 5 \quad \dots\dots\dots \quad \dots\dots\dots$$

$$+2 \quad 4 \quad \dots\dots\dots \quad \dots\dots\dots$$

$$+ \quad 7 \quad 6 \quad \dots\dots\dots \quad \dots\dots\dots$$

$$\dots\dots\dots \quad \dots\dots\dots$$

$$\dots\dots\dots \quad \dots\dots\dots$$

۸- جاهای خالی را با اعداد مناسب پر کنید.

$$7 \quad 2 \quad 8$$

$$2 \quad 0 \quad 9$$

$$1 \quad \bigcirc \quad 8$$

$$+ \quad \bigcirc \quad 3 \quad 4$$

$$+ \quad \bigcirc \quad 7$$

$$+ \quad 2 \quad \bigcirc$$

$$9 \quad \bigcirc \quad \bigcirc$$

$$\bigcirc \quad 5 \quad \bigcirc$$

$$\bigcirc \quad 2 \quad 0$$

۹- در جاهای خالی عدد مناسب بنویسید.

$$3 \quad 0 \quad 0$$

$$5 \quad 2 \quad 1$$

$$8 \quad 0 \quad 6$$

$$- \quad 2 \quad \bigcirc$$

$$- \quad \bigcirc \quad 4 \quad 9$$

$$- \quad \bigcirc \quad 4 \quad 8$$

$$\bigcirc \quad \bigcirc \quad 3$$

$$1 \quad \bigcirc \quad \bigcirc$$

$$6 \quad \bigcirc \quad \bigcirc$$

۱۰- برای تفریق زیر شکل بکشید و آن را حل کنید.

$$18 - 12 =$$

۱۱- تفریق کنید.

$$\begin{array}{r} ۸۰۱ \\ - ۲۵۴ \\ \hline \end{array}$$

$$\begin{array}{r} ۵۲۱ \\ - ۳۰۸ \\ \hline \end{array}$$

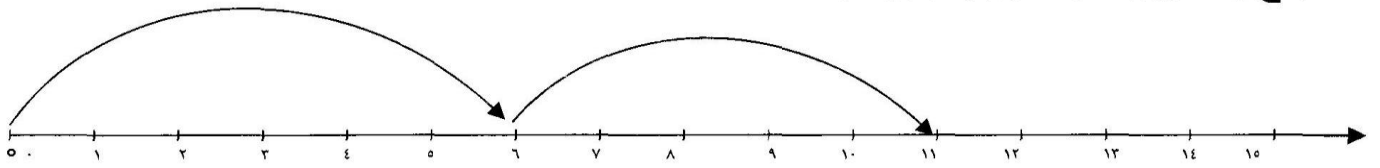
$$\begin{array}{r} ۷۴۲ \\ - ۳۰۳ \\ \hline \end{array}$$

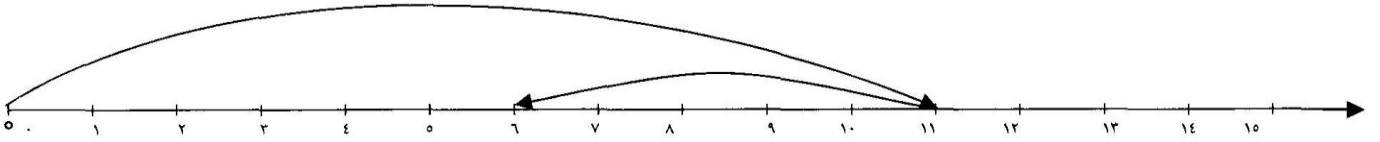
۱۲- تساوی‌های زیر را روی محور نشان دهید.

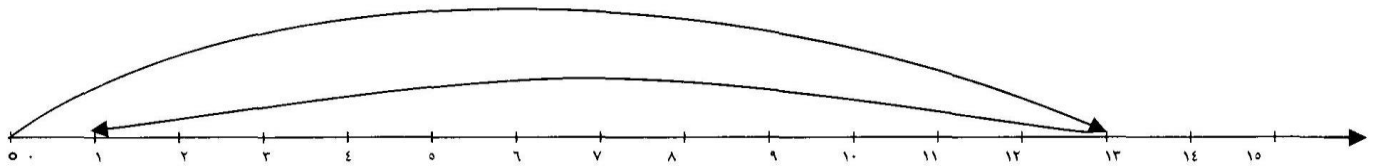
$$۵ + ۷ =$$

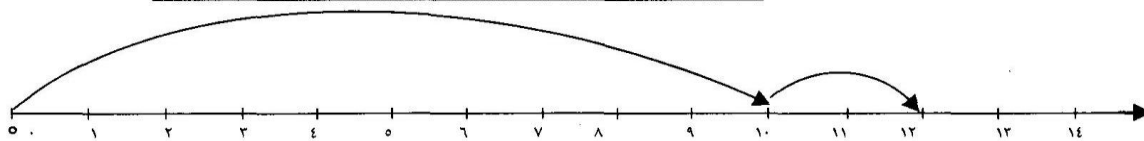

$$۱۳ - ۵ =$$


۱۳- جمع یا تفریق هر محور را بنویسید.









۱۴ - در جاهای خالی، عددهای مناسب بنویسید.

صدگان	دهگان	یکان
۵	۳	۲

→

صدتایی	دهتایی	یکی
۴	.....	۲

صدگان	دهگان	یکان
۶	۴	۵

→

صدتایی	دهتایی	یکی
۶	۳	.....

۱۵ - کدام عدد زیر برابر است با ۵ دهتایی به علاوه ۷ دهتایی.

- ۱۲۰۰۰     
  ۱۲۰۰     
  ۱۲۰     
  ۱۲

۱۶ - حاصل جمع بزرگترین عدد دو رقمی و کوچکترین عدد سه رقمی کدام است؟

- ۹۹۹۹     
  ۱۹۹۹     
  ۱۰۹۹     
  ۱۹۹

۱۷ - مجموع روزهای تابستان و پاییز چند روز است؟

- ۱۸۹     
  ۱۸۶     
  ۱۸۳     
  ۱۸۰

۱۸ - مسئله‌ای بنویسید که راه حل آن عبارت روبه‌رو باشد، سپس آن را حل کنید.

$$۳۲۵ - ۱۷۸ =$$



۱۹ - چوپانی ۸۷ گوسفند داشت، ۵۲ گوسفند دیگر را نیز به او دادند تا

برای چرا به چراگاه ببرد. این چوپان حالا چند گوسفند دارد؟

۲۰ - دیروز ۷۲۸ نفر از نمایشگاه کتابی بازدید کردند. امروز ۲۰۹ نفر

دیگر از این نمایشگاه بازدید کردند. روی هم چند نفر از نمایشگاه بازدید کرده‌اند؟

۲۱- علی برای خرید یک کتاب ۸۰۰ تومانی ۲۴۵ تومان کم دارد پول علی چند تومان است؟



۲۲- زهرا ۳۵۰ تومان برای خرید یک دوغ و ۴۲۰ تومان برای خرید یک کلوچه پرداخت



کرد. او روی هم چند تومان برای دوغ و کلوچه پرداخت کرده است؟

۲۳- در مزرعه‌ای ۱۴۸ جوجه اردک زندگی می‌کردند، ۹۵ تای آنها را برای فروش به بازار



بردند. چند جوجه اردک در مزرعه باقی مانده است؟

۲۴- اتوبوسی ۲۹ مسافر داشت. از این تعداد ۱۴ نفر پیاده و ۵ نفر دیگر سوار شدند. این



اتوبوس اکنون چند مسافر دارد؟

۲۵- وزن رضا ۲۵ کیلوگرم است. وزن مادرش ۵۰ کیلوگرم از او بیشتر است. آن دو روی



هم چند کیلوگرم وزن دارند؟

نام و نام خانوادگی:

کلاس سوم دبستان نبوت پسرانه ریاضی ۱۱ شماره دانش آموز:

آموزگار: محمدحسین امیدوار

۲۶- تفریق‌های زیر را انجام دهید و بعد، درستی هر یک را امتحان کنید.

$$\begin{array}{r} 7 \quad 2 \quad 5 \\ -6 \quad 0 \quad 2 \\ \hline \end{array}$$

$$\begin{array}{r} 4 \quad 2 \quad 8 \\ -1 \quad 3 \quad 9 \\ \hline \end{array}$$

$$\begin{array}{r} 3 \quad 2 \quad 8 \\ - \quad 9 \quad 6 \\ \hline \end{array}$$

$$\begin{array}{r} 9 \quad 0 \quad 9 \\ -1 \quad 6 \quad 7 \\ \hline \end{array}$$

۲۷- عدد اول تفریقی ۳۵۶ و باقی‌مانده‌ی آن ۲۳۲ است. عدد دوم این تفریق را به دست آورید و درستی آن را امتحان کنید.

۲۸- باقی‌مانده‌ی تفریقی ۵۱ است. عدد دوم آن ۳۴ است. عدد اول را به دست آورید.

۲۹- تفاوت دو عدد ۷۲۵ و ۵۷۲ را به دست آورید.