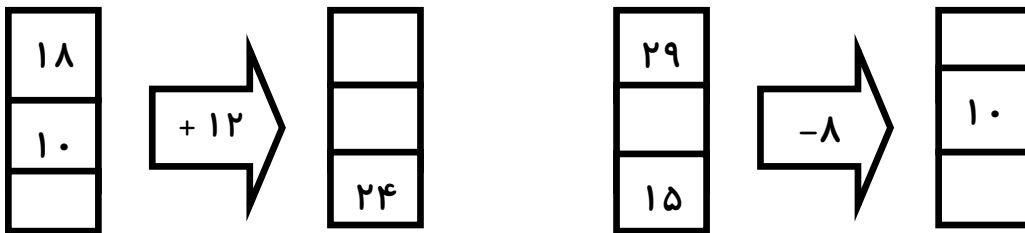


۱- الگوهای شمارش رو به عقب را کامل کنید.

..... ، ..... ، ..... ، ..... ، ..... ، ۳۳ ، ۳۹ ، ۴۵

..... ، ..... ، ..... ، ..... ، ..... ، ۲۰ ، ۲۴ ، ۲۸

۲- با توجه به کاری که هر ماشین انجام می دهد ، ماشین ورودی و خروجی زیر را کامل کنید.



۳- جدول زیر را کامل کنید.

زمان	۱۴:۳۰	.....	نوزده و ربع	۱۷:۴۵	.....	۲۳:۵۵
بعد از ظهر	.....	۴	.....	.....	۱:۳۰	.....

۴. جاهای خالی را به شکل مناسب پر کنید.

- ۲۳۵۴ می شود ..... یکی و ..... ده تایی ..... صدتایی و ..... هزارتایی .

- بزرگترین عدد سه رقمی ..... و کوچک ترین عدد چهار رقمی ..... است .

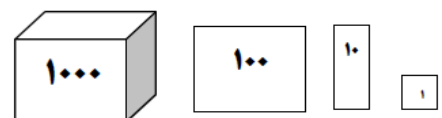
۵. با رقم های ( ۵ و ۶ و ۹ و ۰ ) چند عدد چهار رقمی می توان نوشت ؟ آن ها را بنویسد و کوچک ترین و

بزرگترین آن ها را مشخص نمایید .  
..... ، ..... ، ..... ، ..... ، ..... ، .....

۶. با رسم شکل حاصل جمع و تفریق ها را به دست آورید.

$$۲۱۴۱ + ۲۱۳۴ =$$


$$۷۵۴۶ - ۳۲۳۵ =$$




۷. مقایسه (< = >) کنید .

$$\begin{array}{l} ۴ واحد و \frac{۱}{۹} واحد \quad \square \quad ۳ واحد و \frac{۵}{۹} واحد \\ ۲ واحد و \frac{۳}{۵} واحد \quad \square \quad ۲ واحد و \frac{۱}{۵} واحد \end{array}$$

۸. کسر مربوط به هر شکل را بنویسید.




۱۰. برای شکل زیر سه کسر مساوی بنویسید.



..... = ..... = .....

۱۱. اعداد داده شده را به صورت تقریبی روی محور نشان دهید.



۱۲. جاهای خالی را با کلمه مناسب پر کنید.

- بهترین وسیله برای رسم دایره ..... است .
- هر گاه مخرج دو کسر مساوی باشد ، کسری بزرگتر است که صورت آن ..... باشد .
- هر مستطیل دارای چهار زاویه ..... است .
- ربع یعنی ..... ، ثلث یعنی ..... ، نیم یعنی .....
- برای تشخیص زاویه راست از ..... استفاده می کنیم .

..... نظر معلم : .....

.....