

# استادبانک



نمونه سوالات همراه با جواب و

گام به گام کتاب‌های درسی

به طور کامل رایگان در

اپلیکیشن استادبانک

به جمع ده‌ها هزار کاربر اپلیکیشن رایگان استادبانک پیوندید.

[لینک دریافت اپلیکیشن نمونه سوالات استادبانک \(کلیک کنید\)](#)

\* برای مشاهده نمونه سوالات دانلود شده به صفحه بعد مراجعه کنید.

۱- با مرور متن درس، منابع دست اول و دست دوم تاریخ ایران باستان را که در این درس به آنها اشاره شده است، فهرست کنید.

« پاسخ »

۱- کتیبه‌ی بیستون ۲- منشور کوروش ۳- تاریخ مردم ایران قبل از اسلام

۲- به نظر شما ایران در دوران حکومت هخامنشیان، به لحاظ قدرت سیاسی - نظامی چه جایگاهی در جهان آن روز داشت؟

« پاسخ »

اگر چه هخامنشیان از لشکرکشی به یونان، موفقیت نظامی چندانی به دست نیاوردند، اما دولت - شهرهای یونانی تا زمان تسلط مقدونیان بر آن کشور، همچنان حکومت ایران را به عنوان بزرگ‌ترین قدرت جهانی شناختند و به آن احترام می‌گذاشتند. حکومت هخامنشی نیز نقش فعالی را در روابط دولت - شهرهای یونانی، به خصوص در جریان جنگ‌های پلپونزی ایفا کرد. در زمان داریوش سوم، سلسله‌ی هخامنشی به پایان رسید اما میراث و یادگاری‌های هخامنشیان در آیین کشورداری و فنون سیاست، شیوه‌های عمرانی، اقتصادی و تجاری ساخت بناهای باشکوه، ابداع هنرهای جهانی و مداراجویی فرهنگی و دینی در تاریخ ایران و جهان فراموش نشد. هخامنشیان، ایران را به نخستین حکومت بزرگ جهانی تبدیل کردند. به واسطه‌ی تدبیر و سیاست شاهان هخامنشی بود که ایرانیان به تأثیرگذارترین مردم در جهان متمدن و شناخته شده‌ی آن روزگار تبدیل شدند.

۳- چرا مورخان و پژوهشگران، اهمیت فوق‌العاده‌ای برای نقش و عملکرد داریوش بزرگ در تاریخ ایران قائل هستند؟

« پاسخ »

پس از مرگ مشکوک کمبوجیه، داریوش یکم که از شاخه‌ی دیگر خاندان هخامنشی بود با همراه تعدادی از سران خاندان‌های بزرگ پارسی، گئومات‌مُغ و دیگر شورشیان و مدعیان قدرت را سرکوب کرد و بر تخت شاهی نشست. داریوش بزرگ پس از فرونشاندن شورش‌های داخلی و برقراری آرامش و امنیت در سرتاسر شاهنشاهی هخامنشی، به شرق لشکرکشی کرد و قسمت‌هایی از غرب و شمال غرب هند را به قلمرو خود افزود. او همچنین به منظور دفع حملات قبایل صحراگرد سکایی، به مناطق دوردستی در شمال دریای سیاه و جنوب روسیه کنونی لشکرکشی کرد. اهمیت و شهرت فوق‌العاده‌ی داریوش بزرگ در تاریخ ایران به خاطر اقدامات اساسی و کم‌نظیری بود که برای ایجاد تشکیلات نوین اداری، نظامی و اقتصادی، انجام داد. تأسیس سپاه جاویدان، احداث جاده‌ی شاهی و برپایی کاخ‌ها و بناهای مجلل، به ویژه در شوش و تخت جمشید، از جمله اقدام‌های مهم این پادشاه بزرگ است. در واقع داریوش، اصول و شیوه‌ای از کشورداری را بنیاد نهاد که نه تنها در دوره‌ی هخامنشیان، بلکه تا قرن‌ها بعد، همچنان پابرجا بود و زمینه‌ی اقتصادی و شکوفایی تمدن ایران را فراهم آورد.

۴- اهمیت فتح بابل را برای حکومت تازه تأسیس هخامنشی شرح دهید.

« پاسخ »

یکی از انسانی‌ترین و شکوه‌مندترین فتوحات تاریخ جهان، فتح مسالمت‌آمیز بابل توسط کورش بزرگ در سال ۵۳۹ ق.م است. مؤسس سلسله‌ی هخامنشی بدون جنگ و خونریزی وارد بابل شد. بابل یکی از بزرگ‌ترین شهرهای آن روزگار به شمار می‌رفت و مردمان و اقوامی با خاستگاه اجتماعی و فرهنگی گوناگون در آنجا می‌زیستند. این شهر از نظر داشتن بناها و پرستش‌گاه‌ها باشکوه، مراکز اقتصادی ثروتمند، نهادهای سیاسی و اداری متعدد و در اختیار داشتن راه‌های ارتباطی با سرزمین‌های دور و نزدیک، اهمیت فراوان داشت و تسلط بر آن برای هر فرمانروایی بسیار مهم و مطلوب بود.

۵- چه عاملی زمینه‌ساز اتحاد قابل پراکنده‌ی مادی و تأسیس حکومت ماد شد؟

« پاسخ »

قبایل گوناگون ماد از جمله اقوام آریایی بودند که در بخش وسیعی از مناطق غربی و مرکزی ایران استقرار یافتند و در کنار بومیان ساکن این مناطق به زندگی پرداختند. آشور در آن زمان حکومت نسبتاً نیرومندی در شمال بین‌النهرین بود که برای به دست آوردن فلزات، سنگ‌های قیمتی و غنایم دیگر، دائماً به سرزمین‌های همسایه، از جمله نواحی غربی ایران هجوم می‌آورد. یورش‌ها و غارت‌گرهای پیاپی آشوریان، زمینه‌ی اتحاد قبایل پراکنده‌ی ماد را فراهم آورد. از این‌رو، رؤسای این قبایل، یکی از بزرگان مادی به نام دَهِیوِک که به اشتباه دیاکو می‌خوانند، را به پادشاهی برگزیدند. دَهِیوِک شهر هگمتانه یا اکباتان (همدان امروزی) را بنا کرد و مرکز حکومت خود قرار داد.

۶- با استفاده از جدول شاهان هخامنشی که دبیر محترم در اختیار شما قرار می‌دهد، نمودار خط‌زمان دوران هخامنشی را ترسیم کنید.

« پاسخ »

پاسخ به عهده‌ی دانش‌آموز

۷- الف) منظور نویسنده از «اسلحه‌ی طلایی» چیست؟

ب) به نظر شما چرا با وجود حمایت حکومت هخامنشی از اسپارت در جنگ‌های پلوپونزی، ایرانیان نمی‌خواستند این جنگ‌ها غالب و مغلوبی داشته باشد؟  
بررسی شواهد و مدارک؛ اسلحه‌ی طلایی

«... در حالی که جنگ‌های پلوپونزی [جنگ‌های داخلی یونان] به اوج شدت رسیده بود، اسپارت می‌کوشید تا برای از بین بردن حریف نیرومند خویش، آتن، از طلای داریوش [دوم] استفاده کند. اما داریوش می‌دانست از طلاهای خویش چگونه باید هم‌چون یک حربه‌ی سیاسی استفاده نماید. در عین حال می‌دانست که حفظ نوعی موازنه در بین حریفان جنگ پلوپونزی... برای ایران سودمندتر خواهد بود... از این رو،... طلای ایران را طوری به آن‌ها می‌رسانید که جنگ به درازا کشد و غالب و مغلوبی معلوم نشود. حاصل این سیاست موازنه، آن شد که اشتغال حریفان در منازعات پلوپونزی، به ایران فرصت داد تا شهرهای یونانی آسیای صغیر را دوباره به انقیاد خویش درآورد، پادگان‌های ایرانی را در آن‌جاها مستقر سازد و حتی مالیات‌های معوق را بازستاند.»

« پاسخ »

الف) پاسخ به عهده‌ی دانش‌آموز  
ب) زیرا این، خود جنگ‌های بعدی را از طرف مغلوب یا غالب انجام می‌شد و ادامه می‌یافت.

۸- با توجه به مطالبی که در درس ۶ درباره‌ی دولت - شهرهای یونانی خواندید، درباره‌ی علل و عوامل جنگ‌های یونان و ایران در دوره‌ی هخامنشیان با هم گفت‌وگو کنید.

« پاسخ »

پاسخ به عهده‌ی دانش‌آموز

۹- متن‌های زیر را بخوانید و احساس و درک خود را از شخصیت و اندیشه‌ی آشوربانیپال و کورش بزرگ در چند سطر بنویسید.

مقایسه‌ی اندیشه و رفتار دو کشورگشا: آشوربانیپال، فرمانروای آشور و کورش بزرگ، پادشاه ایران  
متن ۱: ترجمه‌ی بخشی از متن سنگ‌نوشته‌ی آشوربانیپال پس از فتح شوش، پایتخت ایلام:

«من، شوش شهر بزرگ و مقدس را به خواست خدایان آشور گشودم. من وارد کاخ‌های معبد شوش شدم و هر آنچه از سیم و زر و مال فراوان بود، همه را به غنیمت برداشتم. من همه‌ی آجرهای زیگورات شوش را که با سنگ لاجورد تزیین شده بود، شکستم. من تمامی معابد ایلام را با خاک یکسان کردم، شهر شوش را به ویرانه‌ای تبدیل کردم و بر زمینش نمک پاشیدم. من همه‌ی دختران و زنان را به اسارت گرفتم. از این پس، دیگر کسی، صدای شادی مردم و سمّ اسبان را در ایلام نخواهد شنید.»

متن ۲: ترجمه‌ی بخشی از متن منشور کورش:

سطر ۲۳. همه‌ی مردم گام‌های مرا با شادمانی پذیرفتند. در بارگاه پادشاه بابل بر تخت شهریاری نشستم. مردوک [خدای بزرگ بابل] دل‌های پاک مردم بابل را متوجه من کرد، زیرا من او را ارجمند و گرامی داشتم.

سطر ۲۴. سپاه بزرگ من به صلح و آرامی وارد بابل شد. نگذاشتم رنج و آزاری به مردم این شهر و این سرزمین وارد آید.

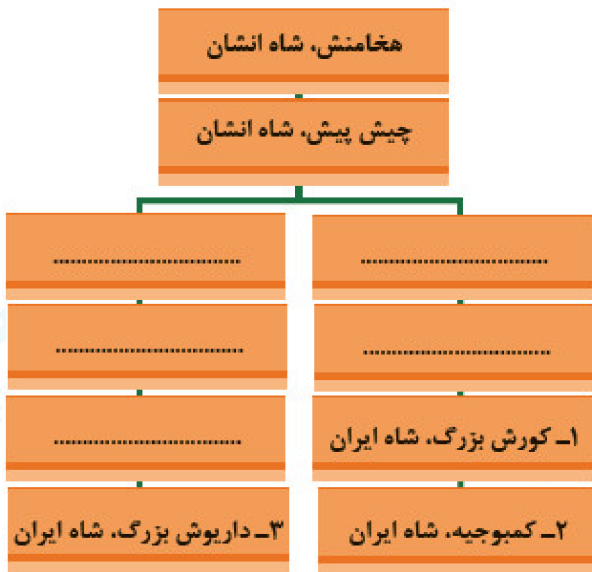
سطر ۲۵. وضع داخلی بابل و جایگاه‌های مقدسش قلب مرا تکان داد... من برای صلح کوشیدم. نبونید [شاه بابل]، مردم درمانده‌ی بابل را به بردگی کشیده بود، کاری که در خور شأن آنان نبود.

سطر ۲۶. من برده‌داری را برانداختم. به بدبختی‌های آنان پایان بخشیدم. فرمان دادم که همه مردم در پرسش خدای خود آزاد باشند و آنان را نیازارند. فرمان دادم که هیچ‌کس اهالی شهر را از هستی ساقط نکند. مردوک از کردار نیکمن خشنود شد.

« پاسخ »

پاسخ به عهده‌ی دانش آموز

۱۰- الف) ماخذ متن‌های شماره‌ی ۱ و ۲، از منابع دست اول تاریخ ایران باستان است یا منابع دست دوم؟ چرا؟  
 ب) با توجه به متن‌های زیر، شجره‌نامه‌ی کورش و داریوش هخامنشی را کامل کنید.



## بررسی شواهد و مدارک

**متن ۱:** شجره‌نامه‌ی کورش به نقل از منشور وی:

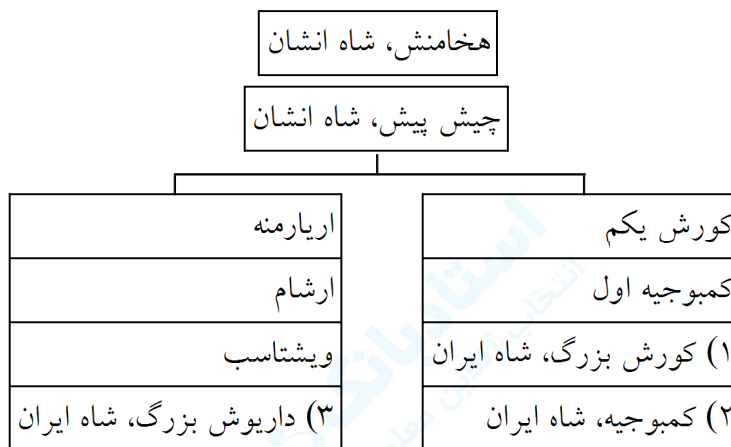
«... منم کورش، شاه بزرگ، شاه توانمند، شاه بابل، شاه سومر و آگد، شاه چهارگوشه‌ی جهان؛ پسر کمبوجیه، شاه بزرگ، شاه انشان، نوه‌ی کورش (یکم)، شاه بزرگ، شاه انشان، نیره‌ی چیش پیش، شاه بزرگ، شاه انشان،...»

**متن ۲:** داریوش بزرگ در سنگ‌نوشته‌ی بیستون، اجداد خود را این گونه معرفی می‌نماید:

«داریوش شاه می‌گوید: پدر من ویشتاسب، پدر ویشتاسب ارشام، پدر ارشام، آریازمده، پدر آریازمده، چیش پیش، پدر چیش پیش، هخامنش است. داریوش شاه می‌گوید: بدین جهت ما هخامنشی خوانده می‌شویم که از دیرگاهان اصیل هستیم.»

« پاسخ »

الف) منابع دست اول چون دقیقاً از همان زمان هستند و از کسی نقل نشده‌اند و وضع آن زمان را بیان می‌کند.  
 ب)



۱۱- کدام سرزمین در زمان حکومت کمبوجیه به تصرف ایران درآمد؟

- (۱) بابل (۲) یونان (۳) مصر (۴) فینیقیه

« پاسخ »

گزینه ۳ پاسخ صحیح است. در زمان پادشاهی کمبوجیه، پسر و جانشین کورش بزرگ، مصر به تصرف هخامنشیان درآمد.

۱۲- درباره‌ی مهاجرت اقوام آریایی، کدام فرضیه مورد قبول تعداد قابل توجهی از باستان‌شناسان و مورخان قرار گرفته است؟

- (۱) گروهی از آریاییان به هند مهاجرت کردند و گروه دیگری در اروپا ساکن شدند.
- (۲) اقوام آریایی پس از ورود به فلات ایران در علفزارهای واقع در شمال شرق فلات ایران و جنوب روسیه مستقر شدند.
- (۳) گروهی از آریاییان از غرب فلات ایران به هندوستان رفتند.
- (۴) مادها، پارت‌ها و پارس‌ها به سمت مرکز و غرب فلات ایران پیشروی کردند و در مناطق مختلف آن مستقر شدند.

## « پاسخ »

گزینه ۴ پاسخ صحیح است. براساس فرضیه‌ای که مورد قبول تعداد قابل توجهی از باستان‌شناسان و مورخان قرار گرفته، اقوام آریایی در حدود ۱۵۰۰ ق.م. وارد فلات ایران شدند. گروهی از آنان به سمت مرکز و غرب این فلات پیشروی کردند و در مناطق مختلف آن مستقر شدند، مادی‌ها، پارسی‌ها و پارتی‌ها از جمله‌ی آنان بودند. بررسی سایر گزینه‌ها:

- (۱) آریاییان گروهی از اقوام هند و اروپایی بودند که از زمان‌های بسیار کهن و به تدریج در فلات ایران و شبه‌قاره‌ی هند مستقر شدند و خود را آریایی نامیدند، بنابراین کاربرد واژه‌ی آریایی برای دیگر اقوام هند و اروپایی، به‌جز ایرانیان و هندیان درست نیست.
- (۲) عده‌ای از مورخان احتمال می‌دهند که اقوام هند و اروپایی، نخست (یعنی پیش از مهاجرت آریایی‌ها) در علفزارهای واقع در شمال شرق فلات ایران و جنوب روسیه در حوالی دریاچه‌ی آرال می‌زیسته‌اند.
- (۳) گروهی از اقوام آریایی از شرق فلات ایران به هندوستان رفتند.

۱۳- شهر «شوش» پایتخت کدام یک از سلسله‌های ایران در دوره‌ی باستان بوده است؟

- (۱) هخامنشیان
- (۲) ساسانیان
- (۳) سلوکیان
- (۴) اشکانیان

## « پاسخ »

گزینه ۱ پاسخ صحیح است. اسکندر در سه نبرد، سپاه هخامنشی را شکست داد و پس از آن، شوش، یکی از پایتخت‌های هخامنشیان را تسخیر کرد.

۱۴- «بیانیه یا منشور کوروش» که نماد فرهنگ انسانی و مدارا جویانه‌ی ایرانیان است، کدام واقعه‌ی مهم دوران کوروش کبیر را شرح می‌دهد؟

- (۱) تسلط بر آسیای صغیر
- (۲) فتح صلح‌آمیز سرزمین بابل
- (۳) پایان حکومت مادها
- (۴) جنگ با یونانیان

## « پاسخ »

گزینه ۲ پاسخ صحیح است. کوروش فرمان داد تا ماجرای فتح صلح‌آمیز بابل را بر لوحی استوانه‌ای از گل رُس به زبان بابلی بنویسند. این لوح که در سال ۱۸۷۹ م./ ۱۲۵۸ ش. در بابل کشف شد، هم‌اکنون در موزه‌ی بریتانیا در لندن نگهداری می‌شود و به «منشور کوروش» معروف است.

۱۵- کدام گزینه از وقایع دوره‌ی حکومت «خشایارشا» پادشاه هخامنشی است؟

- (۱) جنگ‌های پلوپونزی
- (۲) جنگ ماراتن با یونانیان
- (۳) فرونشاندن شورش مصر و بابل
- (۴) حمله‌ی اسکندر مقدونی

« پاسخ »

گزینه ۳ پاسخ صحیح است. خشایارشا، پسر و جانشین داریوش، پس از فرونشاندن شورش‌های مصر و بابل، به یونان لشکر کشید.

۱۶- اصلی‌ترین دلیل جنگ‌ها و کشمکش‌های طولانی میان دولت - شهرهای یونانی و امپراتوری هخامنشی در قرن ۵ ق.م چه بود؟

- (۱) رقابت برای تسلط بر منطقه‌ی آسیای صغیر
- (۲) کمک ایران به اسپارت در جنگ‌های پلوپونزی
- (۳) یاری رساندن آتنی‌ها به شورش دولت - شهر ملطیه و آتش زدن سارد
- (۴) تلاش دولت - شهرهای یونانی برای گسترش نفوذ و سلطه‌ی اقتصادی و فرهنگی خود

« پاسخ »

گزینه ۱ پاسخ صحیح است. رقابت دولت - شهرهای یونانی با حکومت هخامنشیان برای تسلط بر منطقه‌ی آسیای صغیر، موجب بروز کشمکش‌های طولانی و جنگ‌های بزرگی میان دو طرف در قرن ۵ ق.م شد.

۱۷- «بیانیه یا منشور کورش» که نماد فرهنگ انسانی و مداراجویانه‌ی ایرانیان است، کدام واقعه‌ی مهم دوران کورش کبیر را شرح می‌دهد؟

- (۱) تسلط بر آسیای صغیر
- (۲) فتح سرزمین بابل
- (۳) پایان حکومت مادها
- (۴) جنگ با یونانیان

« پاسخ »

گزینه ۲ پاسخ صحیح است. کورش فرمان داد تا ماجرای فتح صلح آمیز بابل را بر لوحی استوانه‌ای از گِل رُس به زبان بابلی بنویسند. این لوح که در سال ۱۸۷۹ م / ۱۲۵۸ ش. در بابل کشف شد، هم‌اکنون در موزه‌ی بریتانیا در لندن نگهداری می‌شود و به «منشور کورش» معروف است.

۱۸- کدام گزینه، شاهان هخامنشی فاتح هر سرزمین را به درستی نشان می‌دهد؟

- (۱) بابل: خشایارشا - مصر: کمبوجیه - غرب و شمال‌غرب هند: کورش بزرگ
- (۲) بابل: کورش بزرگ - مصر: خشایارشا - لیدی و آسیای صغیر: داریوش بزرگ
- (۳) غرب و شمال‌غرب هند: داریوش یکم - لیدی و آسیای صغیر: کورش بزرگ - مصر: کمبوجیه
- (۴) بابل: کورش بزرگ - غرب و شمال‌غرب هند: کمبوجیه - لیدی و آسیای صغیر: داریوش بزرگ

« پاسخ »

گزینه ۳ پاسخ صحیح است. داریوش یکم قسمت‌هایی از غرب و شمال‌غرب هند را به قلمرو خود افزود. فاتح بابل، لیدی و آسیای صغیر کورش بزرگ است. کمبوجیه مصر را فتح کرد.



۱۹- کدام مورد از ویژگی‌های بیابانه یا منشور کوروش که سمبل و نشانی از فرهنگ انسانی و مداراجویانه‌ی ایرانیان است، می‌باشد؟

- (۱) لوحی استوانه‌ای از گِل رُس است که به فرمان کوروش، ماجرای فتح صلح‌آمیز بابل به زبان فارسی باستان بر آن نوشته شده است.
- (۲) در بابل کشف شده و هم‌اکنون در موزه‌ی متروپولیتن نیویورک نگهداری می‌شود.
- (۳) نسخه‌ی اصلی این منشور در مقر سازمان ملل متحد در نیویورک به نمایش گذاشته شده است.
- (۴) متن آن به ابتکار سازمان ملل متحد به شش زبان رسمی این نهاد جهانی ترجمه شد.

« پاسخ »

گزینه ۴ پاسخ صحیح است. بررسی سایر گزینه‌ها:

- (۱) لوحی استوانه‌ای از گِل رُس است که به فرمان کوروش، ماجرای فتح صلح‌آمیز بابل به زبان بابلی بر آن نوشته شده است.
- (۲) در بابل کشف شده و هم‌اکنون در موزه‌ی بریتانیا در لندن نگهداری می‌شود.
- (۳) نسخه‌ی بدلی این منشور در مقر سازمان ملل متحد در نیویورک به نمایش گذاشته شده است.

۲۰- کدام پادشاه هخامنشی در هنگام لشکرکشی به یونان در نبرد دریایی سالامیس شکست خورد؟  
 (۱) داریوش سوم (۲) خشایارشا (۳) داریوش یکم (۴) اردشیر سوم

« پاسخ »

گزینه ۲ پاسخ صحیح است. خشایارشا، پسر و جانشین داریوش، پس از فرونشاندن شورش‌های مصر و بابل، به یونان لشکر کشید و آن را تصرف کرد، اما در نبرد دریایی در تنگه‌ی سالامیس توفیقی به دست نیاورد.

۲۱- در نظام اداری داریوش یکم، «دیوان شاهی» کدام وظیفه را به عهده داشت؟

- (۱) آموزش زبان‌ها و خط‌های رایج در سرزمین‌های تابعه‌ی هخامنشیان به دبیران و منشیان دولتی
- (۲) نگارش، تنظیم، ثبت و نگهداری نامه‌ها، اسناد و نوشته‌های دولتی
- (۳) نظارت دقیق و کامل بر عملکرد مقام‌ها و مأموران دولتی در پایتخت و شهرهای
- (۴) تربیت قضات شاهی و برگزاری دادگاه در پایتخت و سایر ایالت‌ها

« پاسخ »

گزینه ۲ پاسخ صحیح است. دیوان شاهی وظیفه‌ی مهم نگارش، تنظیم، ثبت و نگهداری نامه‌ها، اسناد و نوشته‌های دولتی را برعهده داشت.

۲۲- در زمان کدام شاه هخامنشی، مصر از زیر سلطه‌ی هخامنشیان خارج شد؟  
 (۱) کمبوجیه (۲) داریوش سوم (۳) اردشیر سوم (۴) اردشیر دوم

« پاسخ »

گزینه ۴ پاسخ صحیح است. اردشیر دوم به عیاشی و راحت‌طلبی مشهور بود. در دوران فرمانروایی او مصر از سیطره‌ی هخامنشیان خارج شد.

۲۳- کدام پادشاه هخامنشی، با دستیابی به قدرت نظامی، نیروی ویژه ده هزار نفری به نام سپاه جاویدان تشکیل داد؟  
(۱) خشایارشا (۲) داریوش یکم (۳) کورش (۴) کمبوجیه

« پاسخ »

گزینه ۲ پاسخ صحیح است. داریوش یکم

۲۴- دهیوک (یاکو) کدام شهر را پس از رسیدن به پادشاهی، مرکز حکومت خود قرار دادند؟  
(۱) هگمتانه (۲) پاسارگاد (۳) انشان (۴) شوش

« پاسخ »

گزینه ۱ پاسخ صحیح است. دهیوک هگمتانه را مرکز حکومت خود قرار داد.

۲۵- نخستین کاخ بزرگ آپادانا، در ابتدای پادشاهی داریوش به عنوان پایتخت اداری هخامنشیان، در کدام ناحیه بنا گردید؟  
(۱) انشان (۲) شوش (۳) پاسارگاد (۴) نقش رستم

« پاسخ »

گزینه ۲ پاسخ صحیح است. داریوش یکم در ابتدای حکومتش دستور داد کاخی بزرگ به نام آپادانا در شهر شوش به عنوان پایتخت اداری حکومت هخامنشی ساخته شود.

۲۶- کدام گزینه درباره خشایارشا صحیح است؟

(۱) بسیاری از افراد خاندان هخامنشی را به قتل رساند.

(۲) در نبرد سالامیس با یونانیان ناموفق بود.

(۳) با حمله به محل سکونت بردیاری، او را به قتل رساند.

(۴) شهر سارد، پایتخت لیدی و تمامی آسیای صغیر را فتح کرد.

« پاسخ »

گزینه ۳ پاسخ صحیح است. خشایارشا، پسر و جانشین داریوش، پس از فرونشاندن شورش‌های مصر و بابل، به یونان لشکر کشید و آتن را تصرف کرد.

۲۷- در دوره کدام دولت در ایران، انزان یا انشان در استان فارس، پایتخت بود؟

(۱) هخامنشی (۲) ایلام (۳) اشکانی (۴) ماد

« پاسخ »

گزینه ۲ پاسخ صحیح است. در دوره پادشاهان ایلام انشان در استان فارس پایتخت بود.

۲۸- کدام پادشاه هخامنشی در نبرد دریایی سالامیس، با یونانیان توفیقی به دست نیاورد؟  
 (۱) خشایارشا (۲) کمبوجیه (۳) داریوش (۴) اردشیر دوم

« پاسخ »

گزینه ۱ پاسخ صحیح است. خشایار آتن را تصرف کرد. اما در نبرد دریایی در تنگه سالامین توفیقی به دست نیاورد.

۲۹- از نتایج عمده و مهم تصرف سارد، پایتخت دولت لیدی در آسیای صغیر توسط کوروش هخامنشی، کدام است؟  
 (۱) تسلیم دولت شهرهای یونان (۲) دستیابی به ثروت هنگفت  
 (۳) تسلیم صلح‌آمیز دولت بابل (۴) برقراری امنیت در سرتاسر شاهنشاهی هخامنشی

« پاسخ »

گزینه ۲ پاسخ صحیح است. کوروش با لشگرکشی به آسیای صغیر، حکومت لیدی و سایر دولت شهرهای آنجا را شکست داد و در نتیجه این فتوحات حکومت هخامنشیان به ثروت هنگفتی دست یافت.

۳۰- کدامیک از گزینه‌های زیر از اقدامات هووخشتر، پادشاه قدرتمند ماد می‌باشد؟  
 (۱) سپاه منظم و کارآمدی از قبایل مختلف ماد، پارس و ... تشکیل داد.  
 (۲) با شکست حکومت لیدی، شهر سارد را به تصرف خود درآورد.  
 (۳) برای همیشه به حاکمیت بابلیان در بین‌النهرین پایان داد.  
 (۴) زمینه‌ی اتحاد قبایل پراکنده‌ی ماد را فراهم آورد.

« پاسخ »

گزینه ۱ پاسخ صحیح است. حکومت ماد در زمان فرمانروایی هووخشتر، سومین پادشاه مادی، به اوج قدرت رسید. این فرمانروا با تشکیل سپاه منظم و کارآمدی از قبایل مختلف ماد، پارس و ... قدرت خود را بر مناطق وسیعی از ایران تثبیت کرد. بررسی سایر گزینه‌ها:  
 (۲) از اقدامات کوروش هخامنشی است.  
 (۳) هووخشتر به حاکمیت آشوریان پایان داد.  
 (۴) مربوط به زمان دهیوک است.

۳۱- داریوش بزرگ در اواخر پادشاهی خود با کدام بحران روبه‌رو شد و علت این امر چه بود؟  
 (۱) شورش دولت‌شهرهای آسیای صغیر - ناخشنودی آتنی‌ها از تسلط ایران بر سواحل دریای اژه و دریای سیاه و آسیای صغیر

(۲) جنگ با یونانیان - اعتقاد دولت‌شهرهای یونانی به دخالت ایران در مسائل آنها  
 (۳) شورش دولت‌شهرهای آسیای صغیر - علاقه یونانی‌ها به تسلط بر برخی از نواحی آسیای صغیر  
 (۴) جنگ با یونانیان - ناخشنودی آتنی‌ها از تسلط ایران بر سواحل شرقی دریای اژه و آسیای صغیر

« پاسخ »

گزینه ۴ پاسخ صحیح است. داریوش بزرگ در اواخر دوره پادشاهی خود با دشواری‌هایی در غرب قلمرو خود روبه‌رو شد که در نهایت به بروز جنگ با یونانیان انجامید. دولت - شهرهای یونانی، مخصوصاً آتن، از تسلط بر آسیای صغیر و سواحل شرقی دریای اژه ناخشنود بودند.

۳۲- جانشین کورش که بود و چه سرزمینی را تصرف کرد و نتیجه‌ی این فتح چه بود؟

- (۱) داریوش - بابل - همسایگی با یونان
- (۲) کمبوجیه - مصر - رسیدن به شهرهای آسیای صغیر
- (۳) کمبوجیه - مصر - گسترش متصرفات هخامنشیان تا قاره آفریقا
- (۴) داریوش - جنوب روسیه - رسیدن به سواحل دریای سیاه

« پاسخ »

گزینه ۳ پاسخ صحیح است. در زمان پادشاهی کمبوجیه، پسر و جانشین کورش بزرگ، مصر به تصرف هخامنشیان درآمد. مصر، کشوری بزرگ و با تمدنی کهن و باشکوه بود. با فتح این سرزمین، قلمرو هخامنشیان به قاره آفریقا نیز گسترش یافت و به نهایت وسعت و عظمت خود رسید.

- ۳۳- حکومت ماد در زمان فرمانروایی کدام پادشاه به اوج قدرت رسید و اولین اقدام وی چه بود؟
- (۱) هورخشتر - اتحاد با حکومت بابل علیه آشور
  - (۲) آستیاگ - اتحاد قبایل پراکنده‌ی ماد
  - (۳) هورخشتر - تشکیل سپاه منظم و کارآمد
  - (۴) دیاکو - تشکیل سپاه منظم و کارآمد

« پاسخ »

گزینه ۳ پاسخ صحیح است. حکومت ماد در زمان فرمانروایی هورخشتر، سومین پادشاه مادی به اوج قدرت رسید. وی نخست با تشکیل سپاه منظم و کارآمدی از قبایل مختلف ماد، پارس و ... قدرت خود را بر مناطق وسیعی از ایران تثبیت کرد.

۳۴- خاندان هخامنشی از زمان ..... به بعد دچار تفرقه درونی شد و ..... از وقایع ابتدای زمامداری وی بود.

- (۱) داریوش سوم - آغاز جنگ‌های پلوپونزی در یونان
- (۲) اردشیر سوم - قدرت‌گیری اسکندر در مقدونیه و حمله به شهرهای مرزی ایران
- (۳) داریوش سوم - به قتل رسیدن تعدادی از بزرگان هخامنشی به شهرهای مرزی ایران
- (۴) اردشیر دوم - شورش کورش کوچک در آسیای صغیر

« پاسخ »

گزینه ۴ پاسخ صحیح است. خاندان هخامنشی از زمان پادشاهی اردشیر دوم که از ۴۰۴ تا ۳۵۸ ق.م حکومت می‌کرد، دچار تفرقه درونی شد. در ابتدای زمامداری او، برادرش کورش کوچک در آسیای صغیر سر به شورش برداشت و با سپاهی از مزدوران یونانی راهی پایتخت گردید.

۳۵- منشور کورش به چه زبانی نوشته شده است و در کدام منطقه کشف شد و در کجا نگهداری می‌شود؟

- (۱) میخی - بابل - موزه لوور فرانسه
- (۲) بابلی - بابل - موزه بریتانیا در لندن
- (۳) بابلی - تخت جمشید - مقر سازمان ملل
- (۴) میخی - تخت جمشید - موزه ایران باستان

« پاسخ »

گزینه ۲ پاسخ صحیح است. کورش فرمان داد تا ماجرای فتح صلح‌آمیز بابل را بر لوحی استوانه‌ای از گل رُس به زبان بابیل بنویسند. این لوح که در سال ۱۸۷۹ م / ۱۲۵۸ ش. در بابل کشف شد، هم‌اکنون در موزه بریتانیا در لندن نگهداری می‌شود و به «منشور کورش» معروف است.


۳۶- کدام گزینه به ترتیب با تصاویر هماهنگ است؟



(د)



(ج)



(ب)



(الف)

- (۱) نقش برجسته داریوش بزرگ - آرامگاه کورش بزرگ - آرامگاه داریوش سوم - دروازه ملل
- (۲) دروازه ملل - آرامگاه داریوش سوم - آرامگاه کورش بزرگ - نقش برجسته داریوش بزرگ
- (۳) نقش برجسته داریوش بزرگ - آرامگاه داریوش سوم - آرامگاه کورش بزرگ - دروازه ملل
- (۴) دروازه ملل - آرامگاه کورش بزرگ - آرامگاه داریوش سوم - نقش برجسته داریوش بزرگ

« پاسخ »

گزینه ۲ پاسخ صحیح است.

(الف) دروازه ملل، نماد حکومت جهانی هخامنشیان در تخت جمشید

(ب) آرامگاه داریوش سوم - تخت جمشید

(ج) آرامگاه کورش بزرگ بنیان‌گذار حکومت هخامنشیان - پاسارگاد

(د) نقش برجسته داریوش بزرگ - تخت جمشید

۳۷- به ترتیب چه تعداد از موارد زیر صحیح و غلط می‌باشد؟

(الف) دولت - شهرهای یونانی تا زمان تسلط رومیان بر آن کشور، همچنان حکومت ایران را به عنوان بزرگترین قدرت جهانی می‌شناختند و به آن احترام می‌گذاشتند.

(ب) در دوران فرمانروایی اردشیر دوم مصر از سیطره هخامنشیان خارج شد.

(ج) اسکندر در سه نبرد حران، گرانکوس و گوگمل، سپاه هخامنشی را شکست داد.

(ه) داریوش منظور دفع حملات قبایل صحراگرد سکایی، به مناطق دوردستی در جنوب دریای سیاه و شمال روسیه کنونی کشرکشی کرد.

(۴) دو - سه

(۳) سه - دو

(۲) یک - چهار

(۱) چهار - دو

« پاسخ »

گزینه ۲ پاسخ صحیح است. تشریح عبارت‌های نادرست:

(الف) دولت - شهرهای یونانی تا زمان تسلط مقدونیان بر آن کشور، همچنان حکومت ایران را به عنوان بزرگترین قدرت جهانی می‌شناختند و به آن احترام می‌گذاشتند.

(ج) اسکندر در سه نبرد گرانیکوس، ایسوس و گوگمل سپاه هخامنشی را شکست داد.

(د) خشایارشا در نبرد دریایی تنگه سالامیس توفیقی به دست نیاورد. یونانیان درباره پیروزی خود در این نبرد و نبرد ماراتن بزرگ‌نمایی بسیار کردند.

(ه) داریوش به منظور دفع حملات قبایل صحراگرد سکایی، به مناطق دوردستی در شمال دریای سیاه و جنوب روسیه کنونی کشرکشی کرد.

- ۳۸- کدام گزینه به ترتیب پاسخ صحیح سؤال‌های زیر می‌باشد؟
- الف) چه کسی پس از مرگ کمبوجیه مدعی قدرت شد؟  
ب) آتنی‌ها کدام شهر یونانی‌نشین آسیای صغیر را تشویق به شورش علیه هخامنشیان در دوران حکومت داریوش نمودند؟  
ج) خشایارشا پس از فرونشاندن شورش کدام مناطق به یونان لشکر کشید؟  
۱) الف) داریوش یکم ب) ملطیه ج) کرت و مصر  
۲) الف) گوماته مغ ب) میلئوس ج) مصر و بابل  
۳) الف) گوماته مغ ب) کرت ج) مصر و بین‌النهرین  
۴) الف) داریوش یکم ب) اسپارت ج) بابل و سارد

## « پاسخ »

- گزینه ۲ پاسخ صحیح است.
- الف) پس از مرگ مشکوک کمبوجیه، داریوش یکم که از شاخه دیگر خاندان هخامنشی بود با همراهی تعدادی از سران خاندان‌های بزرگ پارسی، گوماته مغ و دیگر شورشیان و مدعیان قدرت را سرکوب کرد.  
ب) آتنی‌ها یکی از شهرهای یونانی‌نشین آسیای صغیر به نام میلئوس (ملطیه) را تشویق به شورش علیه هخامنشیان کردند.  
ج) خشایارشا، پسر و جانشین داریوش پس از فرونشاندن شورش‌های مصر و بابل، به یونان لشکر کشید.

- ۳۹- کدام مورد از اقدامات زیر مربوط به دوران حکومت داریوش اول نمی‌باشد؟
- ۱) تأسیس سپاه حاویدان- احداث جاده شاهی  
۲) برپایی کاخ‌ها و بناهای مجلل در شوش و تخت جمشید - اقدامات اساسی در جهت ایجاد تشکیلات نوین اقتصادی  
۳) اقدامات اساسی در جهت ایجاد تشکیلات نوین اداری و نظامی - تسخیر بابل، بین‌النهرین، سوریه و فلسطین  
۴) احداث جاده شاهی - افزودن قسمت‌هایی از غرب و شمال غرب هند به قلمرو هخامنشیان

## « پاسخ »

- گزینه ۳ پاسخ صحیح است. در دوران کورش هخامنشی، بابل تسخیر شد و در پی تسخیر آن، تمامی بین‌النهرین و نیز سرزمین‌های سوریه، فلسطین و فنیقیه (لبنان امروزی) تحت فرمان هخامنشیان درآمد.

۴۰- کدام گزینه به ترتیب در رابطه با سؤال‌های زیر صحیح است؟

الف) عبارت مقابل در ارتباط با کدام پادشاه هخامنشی است؟ «او در ابتدای حکومتش به قتل عام افراد خاندان سلطنتی پرداخت و کسانی را که احتمال می‌داد ادعای شاهی کنند به قتل رساند. او پادشاهی جاه‌طلب و جنگ‌جو بود و مصر را دوباره ضمیمه قلمرو هخامنشی کرد»

ب) کدام هخامنشی اصول و شیوه‌ای از کشورداری را بنیان نهاد که نه تنها در دوره هخامنشیان، بلکه تا قرن‌ها بعد، همچنان پایرجا بود.

- (۱) الف) اردشیر دوم ب) کورش بزرگ  
(۲) الف) اردشیر بابکان ب) انوشیروان  
(۳) الف) خشایارشا ب) داریوش سوم  
(۴) الف) اردشیر سوم ب) داریوش اول

« پاسخ »

گزینه ۴ پاسخ صحیح است.

الف) اردشیر سوم، پسر و جانشین اردشیر دوم در ابتدای حکومتش به قتل عام افراد خاندان سلطنتی پرداخت و کسانی را که احتمال می‌داد ادعای شاهی کنند به قتل رساند. او پادشاهی جاه‌طلب و جنگ‌جو بود و مصر را دوباره ضمیمه قلمرو هخامنشی کرد.

ب) داریوش اول، اصول و شیوه‌ای از کشورداری را بنیان نهاد که نه تنها در دوره هخامنشیان بلکه تا قرن‌ها بعد، همچنان پایرجا بود.

۴۱- «نبرد گرانیکوس» به کدام جنگ در تاریخ ایران باستان اشاره دارد؟

- (۱) جنگ شاپور اول ساسانی با سپاهیان امپراتوری روم  
(۲) نبرد دریایی ایران با دولت - شهرهای یونانی در زمان خشایارشا  
(۳) یکی از سه جنگ اسکندر با داریوش سوم هخامنشی  
(۴) نبرد سپاهیان کراسوس رومی با سورنا سردار ایرانی ارد دوم

« پاسخ »

گزینه ۳ پاسخ صحیح است. در زمان داریوش سوم هخامنشی، اسکندر با سپاهی بسیار قوی، آموزش دیده و تشنه‌ی قتل و غارت به ایران تاخت. اسکندر در سه نبرد (گرانیکوس، ایسوس و گوگمل) سپاه هخامنشی را شکست داد.

۴۲- در نتیجه‌ی فرمان داریوش به یکی از اهالی آسیای صغیر برای کشف مسیرهای آبی، کدام مسیر برای نخستین بار شناسایی شد؟

- (۱) مسیر میان سند تا اقیانوس هند  
(۲) مسیر دریایی میان ایران و مصر  
(۳) مسیر میان ایران و هند از طریق خلیج فارس و اقیانوس هند  
(۴) مسیر دریایی میان هند و مصر

« پاسخ »

گزینه ۴ پاسخ صحیح است. داریوش بزرگ، پادشاه هخامنشی در جریان لشکرکشی به هندوستان، وقتی که به رود سند رسید، یکی از اهالی آسیای صغیر به نام اسکیلان را مأمور کشف مسیرهای آبی کرد. وی مسیر رود سند را تا اقیانوس هند ادامه داد و سپس با عبور از دریای سرخ به مصر رسید. در نتیجه‌ی این سفر، برای نخستین بار مسیر دریایی میان هند و مصر شناسایی شد.

- ۴۳- پس از جنگ‌های ایران و یونان، حکومت هخامنشی چه رفتاری را با دولت - شهرهای یونانی در پیش گرفت؟
- (۱) یونانیان را به عنوان بزرگ‌ترین قدرت جهانی به رسمیت شناخت.
  - (۲) با همه‌ی دولت - شهرهای یونان از جمله آتن، روابط تجاری و فرهنگی برقرار کرد.
  - (۳) از دشمنان دیگر یونانیان مانند امپراتوری روم، برای مقابله با یونانیان کمک گرفت.
  - (۴) نقش فعالی را در روابط دولت - شهرهای یونانی، به خصوص در جریان جنگ‌های پلوپونزی ایفا کرد.

## « پاسخ »

گزینه ۴ پاسخ صحیح است. اگر چه هخامنشیان از لشکرکشی به یونان، موفقیت نظامی چندان به دست نیاوردند، اما دولت - شهرهای یونانی تا زمان تسلط مقدونیان بر آن کشور، همچنان حکومت ایران را به عنوان بزرگ‌ترین قدرت جهانی می‌شناختند و به آن احترام می‌گذاشتند. حکومت هخامنشی نیز نقش فعالی را در روابط دولت - شهرهای یونانی، به خصوص در جریان جنگ‌های پلوپونزی ایفا کرد.

- ۴۴- «داریوش بزرگ»، با کدام هدف به مناطق دوردست جنوب روسیه‌ی کنونی لشکرکشی کرد؟

- (۱) دستیابی به راه‌های تجاری دریای سیاه
- (۲) گسترش قلمرو ایران به مناطق شرقی اروپا
- (۳) دفع حملات قبایل صحراگرد سکایی
- (۴) تنبیه قبایلی که به تحریک آتنی‌ها شورش کرده بودند

## « پاسخ »

گزینه ۳ پاسخ صحیح است. داریوش بزرگ پس از فرونشاندن شورش‌های داخلی و برقراری آرامش و امنیت در سرتاسر شاهنشاهی هخامنشی، به شرق لشکرکشی کرد و قسمت‌هایی از غرب و شمال غرب هند را به قلمرو خود افزود. او هم‌چنین به منظور دفع حملات قبایل صحراگرد سکایی، به مناطق دوردستی در شمال دریای سیاه و جنوب روسیه‌ی کنونی لشکرکشی کرد.

- ۴۵- در پی تسخیر «بابل» به دست کورش بزرگ، کدام‌یک از سرزمین‌های زیر تحت فرمان هخامنشیان درآمد؟

- (۱) مصر
- (۲) فلسطین
- (۳) آسیای صغیر
- (۴) هند

## « پاسخ »

گزینه ۲ پاسخ صحیح است. در پی تسخیر بابل، تمامی بین‌النهرین و نیز سرزمین‌های سوریه، فلسطین و فنیقیه (لبنان امروزی)، تحت فرمان هخامنشیان درآمد.



۴۶- کدام گزینه از اقدامات «هووخشتر» پادشاه قدرتمند ماد است؟

- ۱) زمینه‌ی اتحاد قبایل پراکنده‌ی ماد را فراهم آورد.
- ۲) برای همیشه به حاکمیت بابلیان در بین‌النهرین پایان داد.
- ۳) با شکست حکومت لیدی، شهر سارد را به تصرف درآورد.
- ۴) سپاه منظم و کارآمدی از قبایل مختلف ماد، پارس و ... تشکیل داد.

« پاسخ »

گزینه ۴ پاسخ صحیح است. حکومت ماد در زمان فرمانروایی هووخشتر، سومین پادشاه مادی به اوج قدرت رسید. این فرمانروا با تشکیل سپاه منظم و کارآمدی از قبایل مختلف ماد، پارس و ... قدرت خود را بر مناطق وسیعی از ایران تثبیت کرد.

۴۷- کدام مورد از اقدامات داریوش بزرگ نیست و با مرگ کدام پادشاه، سلسله‌ی هخامنشیان به پایان رسید؟

- ۱) تصرف سارد پایتخت لیدی و ایجاد تشکیلات نوین اداری - داریوش سوم
- ۲) تصرف سارد پایتخت لیدی و ایجاد تشکیلات نوین اداری - اردشیر سوم
- ۳) تأسیس سپاه جاویدان، احداث جاده‌ی شاهی - داریوش سوم
- ۴) تأسیس سپاه جاویدان، احداث جاده‌ی شاهی - اردشیر سوم

« پاسخ »

گزینه ۱ پاسخ صحیح است. شهرت فوق‌العاده‌ی داریوش بزرگ به خاطر اقدامات اساسی و کم‌نظیری بود که برای ایجاد تشکیلات نوین اداری، نظامی و اقتصادی انجام داد. تأسیس سپاه جاویدان، احداث جاده‌ی شاهی و برپایی کاخ‌ها و بناهای مجلل به ویژه در شوش و تخت جمشید از جمله اقدام‌های مهم این پادشاه بزرگ است. با مرگ داریوش سوم سلسله‌ی هخامنشی به پایان رسید.  
تذکر: تصرف سارد توسط «کوروش» انجام شد.

۴۸- از شکوهمندترین فتوحات تاریخ جهان چه فتحی را می‌توان نام برد و حکومت هخامنشیان با کدام اقدام کوروش با دولت - شهرهای یونان همسایه شد؟

- ۱) فتح بابل توسط کوروش - با از میان برداشتن آستیاگ
- ۲) فتح سارد توسط کوروش - با تصرف تمامی آسیای صغیر
- ۳) فتح بابل توسط کوروش - با تصرف تمامی آسیای صغیر
- ۴) فتح سارد توسط کوروش - با از میان برداشتن آستیاگ

« پاسخ »

گزینه ۳ پاسخ صحیح است. یکی از انسانی‌ترین و شکوهمندترین فتوحات تاریخ جهان فتح مسالمت‌آمیز بابل توسط کوروش بزرگ است. کوروش با لشکرکشی به آسیای صغیر و شکست حکومت لیدی و سایر دولت - شهرهای آنجا تمامی آسیای صغیر را به تصرف خود درآورد و در نتیجه‌ی این فتوحات با دولت - شهرهای یونانی همسایه شد.

۴۹- رؤسای قبایل ماد چه کسی را به منصب پادشاهی انتخاب کردند و دلیل اتحاد قبایل پراکنده‌ی ماد با یک‌دیگر چه بود؟  
(۱) آستیگ - یورش و غارت‌گری‌های پیاپی آشوریان (۲) آستیگ - ترس از حمله‌ی دولت‌شهرهای یونان  
(۳) دهیوک - ترس از حمله‌ی دولت‌شهرهای یونان (۴) دهیوک - یورش و غارت‌گری‌های پیاپی آشوریان

« پاسخ »

گزینه ۴ پاسخ صحیح است. رؤسای قبایل ماد، یکی از بزرگان مادی به نام دهیوک که به اشتباه دیاکو می‌خوانند را به پادشاهی برگزیدند. به دلیل یورش‌ها و غارت‌گری‌های پیاپی آشوریان زمینه‌ی اتحاد قبایل پراکنده‌ی ماد فراهم آمد.

۵۰- نبردهایی که طی آن اسکندر، سپاه هخامنشی را شکست داد چه نام داشت و در زمان کدام پادشاه، مصر از قلمرو هخامنشیان خارج شد؟

(۱) گرانیکوس و گوگمل - اردشیر سوم  
(۲) گرانیکوس و گوگمل - اردشیر دوم  
(۳) گرانیکوس و سالامیس - اردشیر سوم  
(۴) گرانیکوس و سالامیس - اردشیر دوم

« پاسخ »

گزینه ۲ پاسخ صحیح است. اسکندر در سه نبرد گرانیکوس، ایسوس و گوگمل، سپاه هخامنشی را شکست داد. در دوران فرمانروایی اردشیر دوم مصر از سیطره‌ی هخامنشیان خارج شد.

۵۱- از اقدامات مهم کمبوجیه به چه امری می‌توان اشاره نمود و سردار شجاع ایرانی که در دوران هخامنشیان به مقابله با سپاه مقدونی پرداخت که بود؟

(۱) تصرف مصر - گئومات  
(۲) فتح یونان - آریوبرزن  
(۳) فتح یونان - گئومات  
(۴) تصرف مصر - آریوبرزن

« پاسخ »

گزینه ۴ پاسخ صحیح است. در زمان پادشاهی کمبوجیه مصر به تصرف هخامنشیان درآمد که با فتح این سرزمین قلمرو هخامنشیان به قاره‌ی آفریقا نیز گسترش یافت و به نهایت وسعت و عظمت خود رسید. سردار شجاع ایرانی که در برابر سپاه مقدونی از خود رشادت نشان داد آریوبرزن نام داشت.

۵۲- نبردی که در زمان داریوش بزرگ بین هخامنشیان و یونان درگرفت چه نام داشت و حکومت هخامنشی از زمان چه کسی دچار تفرقه‌ی درونی شد؟

(۱) سالامیس - داریوش سوم (۲) سالامیس - اردشیر دوم (۳) ماراتن - اردشیر دوم (۴) ماراتن - داریوش سوم

« پاسخ »

گزینه ۳ پاسخ صحیح است. داریوش در مقابل شورش آتنی‌ها تصمیم بر تنبیه آنان گرفت و با سپاه خود وارد خاک یونان شد و در جایی به نام ماراتن موضع گرفت. خاندان هخامنشی از زمان پادشاهی اردشیر دوم دچار تفرقه‌ی درونی شد.

۵۳- اوج قدرت حکومت ماد در زمان که بود و کدام گزینه در مورد داریوش سوم نادرست است؟

- (۱) هوخشتر - آخرین فرمانروای هخامنشی که پس از اردشیر سوم بر تخت نشست.
- (۲) هوخشتر - پادشاهی جاه طلب و جنگجو بود و مصر را دوباره ضمیمه‌ی قلمرو هخامنشی کرد.
- (۳) آستیاگ - آخرین فرمانروای هخامنشی که پس از اردشیر سوم بر تخت نشست.
- (۴) آستیاگ - پادشاهی جاه طلب و جنگجو بود و مصر را دوباره ضمیمه‌ی قلمرو هخامنشی کرد.

« پاسخ »

گزینه ۲ پاسخ صحیح است. حکومت ماد در زمان فرمانروایی هوخشتر به اوج قدرت رسید. اردشیر سوم پادشاهی جاه طلب و جنگجو بود و مصر را دوباره ضمیمه‌ی قلمرو هخامنشی کرد.

۵۴- در ایران، بنیان‌گذاری نخستین حکومت آریایی از آن کلام قوم است و مرکز حکومت مادها چه نام دارد؟  
 (۱) ماد - اکباتان (۲) پارس - اکباتان (۳) ماد - شوش (۴) پارس - شوش

« پاسخ »

گزینه ۱ پاسخ صحیح است. مادی‌ها بنیان‌گذار نخستین حکومت آریایی در ایران شناخته شده‌اند. هگمتانه یا اکباتان (همدان امروزی) مرکز حکومت مادها می‌باشد.

۵۵- در ارتباط با میراث هخامنشی در جهان باستان، کدام مورد صحیح نمی‌باشد؟

- (۱) با مرگ داریوش سوم سلسله‌ی هخامنشی به پایان رسید.
- (۲) میراث و یادگاری هخامنشیان در آیین کشورداری، سیاست، عمران، اقتصاد و تجارت در تاریخ ایران و جهان فراموش نشد.
- (۳) سلسله‌ی هخامنشی در ابداع هنرهای جهانی و مداراجویی فرهنگی و دینی در آسیای آن روز، حرف اول را می‌زد.
- (۴) هخامنشیان ایران را به نخستین حکومت بزرگ جهانی تبدیل کردند.

« پاسخ »

گزینه ۳ پاسخ صحیح است. هخامنشیان در ابداع هنرهای جهانی و مداراجویی فرهنگی و دینی در تاریخ ایران و جهان، فراموش نشدنی هستند.

۵۶- اسکندر در سه نبرد ..... و ..... و ..... سپاه هخامنشی را شکست داد و پس از آن ..... یکی از پایتخت‌های هخامنشیان را تسخیر کرد. با وجود دلاوری و رشادت ..... سپاهیان مقدونی و یونانی به ..... رسیدند و آنرا به آتش کشیدند.

- (۱) گرانیکوس - ماراتن - گوگمل - شوش - اردشیر دوم - پاسارگاد
- (۲) گرانیکوس - ایسوس - گوگمل - شوش - آریو برزن - تخت جمشید
- (۳) پلوپونز - ایسوس - ماراتن - سارد - اردشیر سوم - هگمتانه
- (۴) ماراتن - ایسوس - گرانیکوس - لیدی - آریو برزن - تخت جمشید

« پاسخ »

گزینه ۲ پاسخ صحیح است.

- ۵۷- در حالی که جنگ‌های ..... جنگ‌های داخلی یونان به اوج شدت رسیده بود ..... می‌کوشید تا برای از بین بردن حریف نیرومند خویش ..... از ..... استفاده کند.
- (۱) ماراتن - اسپارت - ایران - اسلحه‌های یونان  
(۲) پلوپونز - اسپارت - آتن - طلای داریوش دوم  
(۳) گرانیکوس - آتن - اسپارت - نقشه‌های جنگی  
(۴) گوگمل - آتن - ایران - اسلحه‌های اسکندر مقدونی

« پاسخ »

گزینه ۲ پاسخ صحیح است.

- ۵۸- در ارتباط با انحطاط و فروپاشی هخامنشیان کدام گزینه صحیح نمی‌باشد؟
- (۱) خاندان هخامنشی از زمان پادشاهی اردشیر دوم که از ۴۰۴ تا ۳۵۸ ق. م حکومت می‌کرد، دچار تفرقه‌ی درونی شد.  
(۲) اردشیر دوم در ابتدای حکومتش به قتل عامل افراد خاندان سلطنتی پرداخت.  
(۳) اردشیر سوم در آستانه‌ی حمله اسکندر مقدونی به ایران به دست یکی از خدمتکاران کاخ شاهی به قتل رسید.  
(۴) داریوش سوم آخرین فرمانروای هخامنشی بود.

« پاسخ »

گزینه ۲ پاسخ صحیح است. اردشیر سوم پسر و جانشین اردشیر دوم در ابتدای حکومتش به قتل عامل افراد خاندان سلطنتی پرداخت.

- ۵۹- خاندان هخامنشی از زمان پادشاهی ..... که از ..... حکومت می‌کرد دچار تفرقه‌ی درونی شد.
- (۱) داریوش اول - ۵۰۵ تا ۴۵۵ ق. م  
(۲) کمبوجیه - ۵۷۰ تا ۵۳۵ ق. م  
(۳) خشایارشا - ۴۲۰ تا ۴۰۵ ق. م  
(۴) اردشیر دوم - ۴۰۴ تا ۳۵۸ ق. م

« پاسخ »

گزینه ۴ پاسخ صحیح است.

- ۶۰- مورخان یونان باستان و تاریخ‌دانان جدید اورپایی کدام جنگ یونان و ایران را با آب و تاب فراوان نقل کرده‌اند؟
- (۱) ماراتن  
(۲) پلوپونزی  
(۳) حمله‌ی کورس به یونان  
(۴) جنگ خشایارشا با یونانیان

« پاسخ »

گزینه ۱ پاسخ صحیح است.