

استادبانک



نمونه سوالات همراه با جواب و

گام به گام کتاب‌های درسی

به طور کامل رایگان در

اپلیکیشن استادبانک

به جمع ده‌ها هزار کاربر اپلیکیشن رایگان استادبانک پیوندید.

[لینک دریافت اپلیکیشن نمونه سوالات استادبانک \(کلیک کنید\)](#)

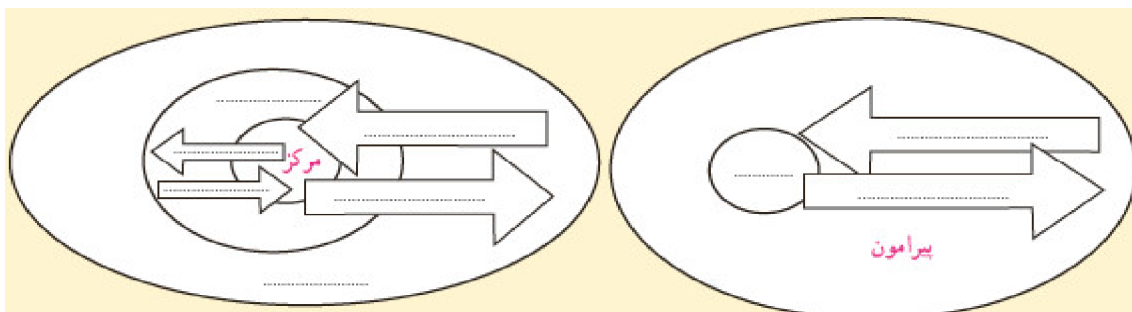
* برای مشاهده نمونه سوالات دانلود شده به صفحه بعد مراجعه کنید.

۱- از طرح نقشه کشورهای جهان استفاده کنید. سپس، کشورهای عضو اوپک را روی نقشه معین و رنگ آمیزی کنید. عنوان نقشه را بنویسید و راهنمای مناسب برای آن طراحی کنید.


« پاسخ »



۲- روی مدل مرکز - پیرامون، جاهای خالی را با کلمات مناسب پر کنید.



« پاسخ »



۳- آیا کشورهای محصور در خشکی نیز از تجارت و حمل و نقل دریایی بهره‌مند می‌شوند و به آن نیاز دارند؟ چطور؟

« پاسخ »

کشورهای محصور در خشکی مانند افغانستان و مغولستان به حمل و نقل دریایی نیاز دارند به طور غیرمستقیم از آن بهره می‌برند ولی به راحتی این کار انجام نمی‌شود. کالاهای موردنیاز این کشورها ابتدا وارد بنادر کشورهای همسایه شده و سپس از طریق پرداخت حق ترانزیت کالاها از داخل کشور همسایه وارد کشور محصور در خشکی می‌شود و ...

۴- چه موقع می‌توان گفت که یک منطقه‌ی آزاد تجاری در دستیابی به اهداف خود موفق بوده است؟

« پاسخ »

زمانی که یک منطقه آزاد تجاری موجب رونق اقتصادی و افزایش صادرات کشور شود.

۵- آیا این اتحادیه‌های منطقه‌ای فقط اهداف اقتصادی دارند؟

« پاسخ »

خیر، مبادلات علمی و فناوری، فرهنگی و امنیت سیاسی و ثبات سیاسی از دیگر اهداف کشورها می‌باشد که با هم متحد می‌شوند و ...

۶- چه عواملی موجب می‌شود که این کشورها با یکدیگر اتحادیه‌ای تشکیل بدهند؟

« پاسخ »

کشورها برای رشد و توسعه اقتصادی‌شان به یکدیگر نیاز دارند و برای پیشرفت باید با هم متحد شوند و ...

۷- کدام هدف در همه‌ی اتحادیه‌های اقتصادی - تجاری، مشترک است؟

« پاسخ »

کاهش تعرفه‌های تجاری و بهبود شرایط اقتصادی و اجتماعی اعضا و افزایش سطح رفاه زندگی مردم و ...

مجموعه سوالات استادبانک

۸- متن زیر را مطالعه کنید و فعالیت زیر را انجام دهید.
الف) عبارت‌ها را به‌طور مناسب، به هم مربوط کنید:

موقعیت جغرافیایی	اتحادیه منطقه‌ای
(امریکای جنوبی)	(نفتا)
(آسیای جنوب شرقی)	(اگو)
(آسیای غربی)	(آسه آن)
(امریکای شمالی و مرکزی)	

ب) ایران عضو کدام یک از این اتحادیه‌ها است؟ چند عضو این اتحادیه را نام ببرید. دو هدف این اتحادیه را بنویسید.

اهداف عمده	کشورهای عضو	سال تأسیس و مقر اصلی	نام اتحادیه منطقه‌ای	نقشه قلمرو کشورهای عضو
<ul style="list-style-type: none"> - حذف تدریجی موانع تجاری در منطقه - برنامه توسعه حمل و نقل و ارتباطات - بین کشورهای عضو - بهبود شرایط توسعه اقتصادی و افزایش سطح زندگی و رفاه مردم منطقه - تدوین برنامه‌های مشترک فرهنگی و میادلات فرهنگی 	ایران، پاکستان، ترکیه، افغانستان، جمهوری آذربایجان، قزاقستان، ازبکستان، ترکمنستان، تاجیکستان، قرقیزستان	۱۹۶۴ میلادی تهران (ایران)	اگو (ECO) / سازمان همکاری‌های اقتصادی Economic Cooperation Organization	
<ul style="list-style-type: none"> - پایین آوردن تعرفه‌های تجاری بین کشورهای عضو - تشویق اعضا به همکاری و میادلت اطلاعات علمی، اقتصادی، فنی و فرهنگی - امنیت و ثبات سیاسی در منطقه جنوب شرقی آسیا - توسعه فرهنگی و گردشگری 	تایلند، اندونزی، مالزی، سنگاپور، فیلیپین، برونئی، ویتنام، لائوس، میانمار، کامبوج	۱۹۶۷ میلادی جاکارتا (اندونزی)	آسه آن (ASEAN) / اتحادیه کشورهای جنوب شرقی آسیا Association of Southeast Asian Nations	
<ul style="list-style-type: none"> - برداشته شدن محدودیت‌های تجارت و سرمایه‌گذاری بین سه کشور در یک دوره زمانی - برداشته شدن تعرفه‌های کشاورزی و خواربار - امکان سرمایه‌گذاری آمریکا و کانادا در مکزیک 	کانادا، ایالات متحده آمریکا، مکزیک	۱۹۹۴ میلادی اتاوا (کانادا)	نفتا (NAFTA) / سازمان تجارت آزاد امریکای شمالی North American Free Trade Agreement	

« پاسخ »

(الف)

(امریکای جنوبی)	(نفتا)
(آسیای جنوب شرقی)	(اگو)
(آسیای غربی)	(آسه آن)

(Note: Red lines in the original image indicate that the correct matches are: (امریکای جنوبی) - (آسه آن), (آسیای جنوب شرقی) - (اگو), and (آسیای غربی) - (نفتا).)

۹- با توجه به سیاست‌های اقتصاد مقاومتی، به نظر شما واردات کدام کالاها به کشور باید محدود یا ممنوع شود؟ دلیل بیاورید.

« پاسخ »

باید سعی شود صادرات کشور افزایش یابد افزایش واردات بی‌رویه به ضرر اقتصاد کشور است با افزایش صادرات درآمد کشور افزایش یافته و موجب رونق اقتصادی می‌شود و با افزایش واردات بی‌رویه کالاها مخصوصاً کالاهای غیرضروری موجب رکود اقتصادی شده و افزایش بیکاری می‌شود و ...
البته باید سعی شود صادرات مواد خام کاهش یابد و بیش‌تر محصولات ساخته شده صادر گردد و ...

۱۰- به نظر شما، یک کشور چگونه می‌تواند جایگاه خود را در مدل مرکز - پیرامون ارتقا دهد و از وابستگی به مرکز رها شود؟

« پاسخ »

- کشورها می‌توانند به روش‌های زیر از وابستگی خارج شوند:
- افزایش ارتباطات سیاسی و اقتصادی و فرهنگی کشور با دیگر کشورهای جهان
 - تدوین برنامه‌های بلندمدت و میان‌مدت برای توسعه کشور
 - استفاده از نیروهای جوان و خلاق در اداره کشور
 - توجه زیاد به برنامه‌های آمایش سرزمین برای توسعه کشور
 - استفاده از درآمدهای کشور در آبادانی داخل کشور و عدم توجه به ایجاد تنش و درگیری در منطقه
 - استفاده از انرژی‌های نو و پاک در کشور مانند انرژی خورشیدی
 - توجه به محیط زیست کشور که زیرساخت توسعه کشور می‌باشد و حفظ محیط زیست کشور
 - توسعه فعالیت‌هایی که به آب کم‌تری نیاز دارد.
 - توسعه فعالیت‌های گردشگری داخلی و خارجی که از طریق درآمد زیادی به دست می‌آید و ...

۱۱- ویژگی‌های کشورهای مرکز و پیرامون و نیمه‌پیرامون را در جدول دسته‌بندی کنید.

« پاسخ »

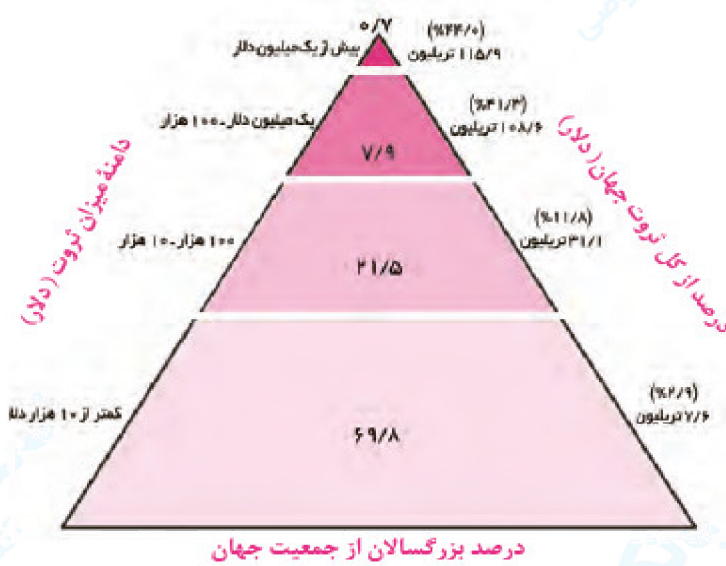
کشورهای مرکز	کشورهای نیمه‌پیرامون	کشورهای پیرامون
۱- این کشورها مانند یک قطب آهن‌ربا عمل می‌کنند و بخش عمده‌ای از سود و ثروت جهان را دریافت و جذب می‌کنند.	۱- این کشورها از نظر اقتصادی از کشورهای پیرامون قوی‌ترند اما هنوز از نظر قدرت اقتصادی به کشورهای مرکز نرسیده‌اند.	۱- کشورهای پیرامون عمدتاً تولیدکننده و صادرکننده مواد اولیه و خام‌اند.
۲- آنها حتی به صدور سرمایه، یعنی سرمایه‌گذاری در دیگر نواحی جهان می‌پردازند.	۲- این کشورها بین کشورهای مرکز و پیرامون نقش واسطه‌بازی می‌کنند و ساختار اقتصادی و اجتماعی آن‌ها دچار تغییرات و تحولات صنعتی و فناورانه شده است.	۲- این کشورها از نظر توسعه صنعتی و فناوری‌های نوین و در سطح پایین‌تری قرار دارند.
۳- از ویژگی‌های کشورهای مرکز، برخورداری از صنایع نو و خدمات پیشرفته، فناوری بالا و نیروی ماهر و متخصص، و زیرساخت‌های مناسب برای توسعه اقتصادی مانند حمل و نقل پیشرفته و سطح بالای زندگی و رفاه اجتماعی است.		۳- این کشورها که به واردات کالاهای صنعتی از مرکز وابسته‌اند، بازار خوبی نیز برای تولیدات آن‌ها هستند و بنابراین، سود هنگفتی نصیب کشورهای مرکز می‌کنند.
۴- کشورهای مرکز، مواد خام را با قسمت ارزان‌تر از کشورهای پیرامون به دست می‌آورند و کالاهای ساخته شده صنعتی را با سود بیش‌تر به آن‌ها می‌فروشند.		۴- از دیگر ویژگی‌های کشورهای پیرامون، کمبود نیروی کار ماهر و متخصص و زیرساخت‌ها و تجهیزات لازم برای توسعه صنعتی است.
۵- کشورهای مرکز هم‌چنین از طریق سرمایه‌گذاری یا شرکت‌های چندملیتی از نیروی کار ارزان‌قیمت کشورهای پیرامون استفاده می‌کنند.		

۱۲- همفکری کنید و نمودار را بخوانید.

الف) هر ضلع نمودار نشان‌دهنده‌ی چه موضوعی است؟

ب) چهار بخش هرم را با یکدیگر مقایسه و تفسیر کنید.

پ) تفاوت قاعده و رأس هرم را بیان کنید.



نمودار توزیع ثروت در جمعیت بزرگسال جهان - گزارش آکسفام به نقل از مؤسسه تحقیقاتی کردیت سونیس ۲۰۱۵ میلادی.

(منظور از ثروت، دارایی افراد است نه درآمد؛ ثروت یعنی هر آنچه قابلیت فروش و تبدیل شدن به پول را دارد.)

« پاسخ »

الف) هر ضلع نمودار نشان‌دهنده موضوعات زیر است:

درصد از کل ثروت جهان

درصد بزرگسالان از جمعیت جهان

دامنه میزان ثروت (دلار)

ب) چهار بخش هرم عبارتست از:

کمتر از ۱۰ هزار دلار

۱۰۰۰۰۰ تا ۱۰۰۰۰۰۰ دلار

۱۰۰۰۰۰۰ تا ۱۰۰۰۰۰۰۰ دلار

بیش از ۱۰۰۰۰۰۰۰ دلار

پ) در رأس هرم درصد از کل ثروت جهان و دامنه میزان ثروت جهان افزایش می‌یابد ولی در قاعده هرم درصد از کل ثروت جهان و دامنه میزان ثروت جهان کاهش می‌یابد.

به عبارت دیگر با حرکت از قاعده هرم به رأس هرم درصد از کل ثروت جهان و دامنه میزان ثروت جهان افزایش می‌یابد و بالعکس.

۱۳- به نظر شما، آیا باید در اقلام صادراتی و وارداتی کشور ما تغییری ایجاد شود؟ چرا و چگونه؟ نظر خود را با دلیل بیان کنید.

« پاسخ »

اقلام صادراتی کشور تغییری نکرده است یعنی کشور ما بیش تر نفت خام صادر کرد هاست ولی اقلام وارداتی تغییرات زیادی کرده و انواع کالاها که شاید بیش تر آنها مورد نیاز کشور هم نباشد وارد کشور می شود. تنوع اقلام وارداتی بسیار زیاد شده است. کافی است به محیط اطراف خود نگاه کنید و ببینید وسایلی که در اطراف مان می بینیم از دیگر کشورها مخصوصاً چین وارد کشور شده است.

۱۴- با راهنمایی معلم، پرس و جو کنید: مهم ترین اقلام صادراتی و وارداتی کشور ایران در سال گذشته چه بوده است؟

« پاسخ »

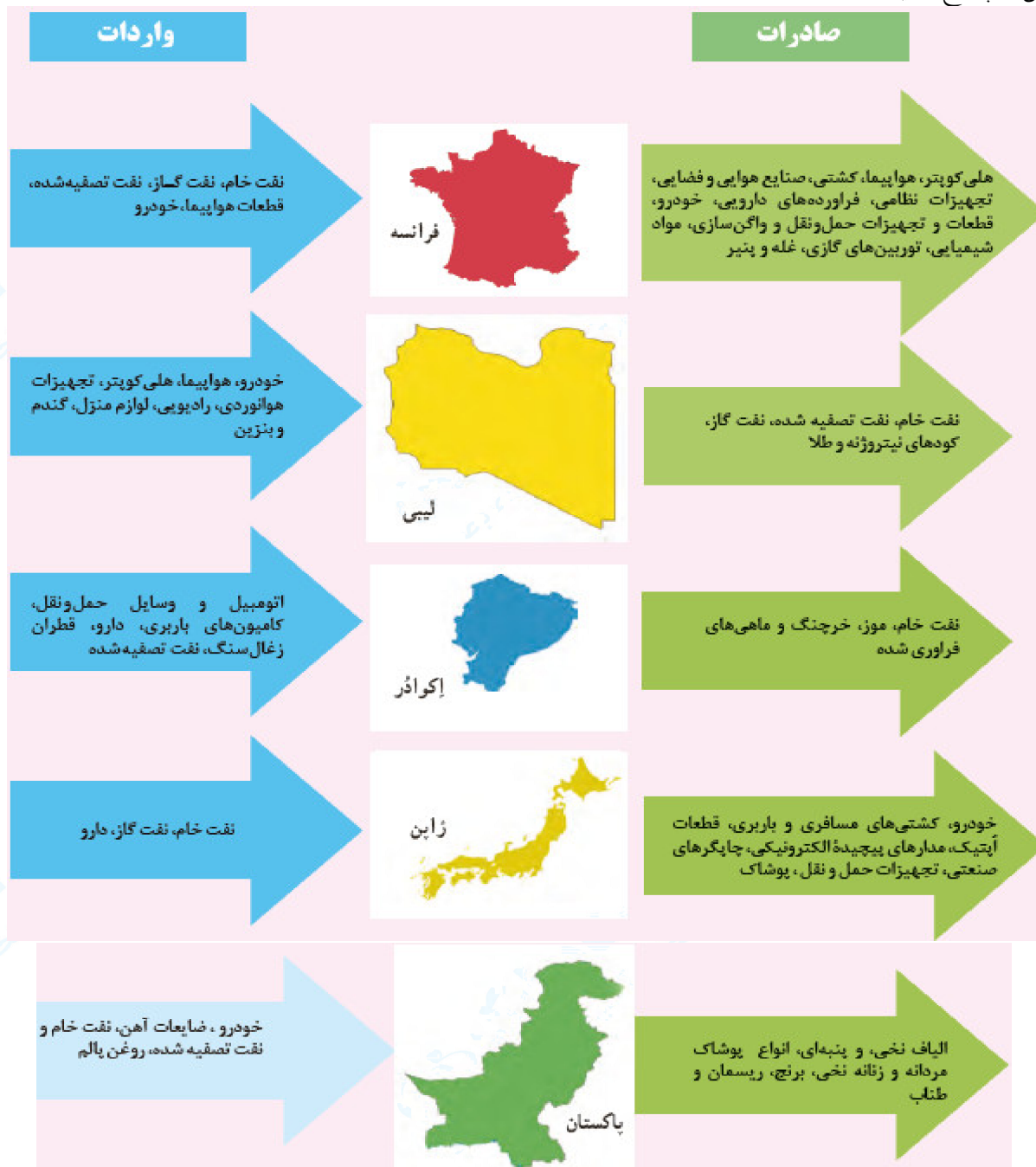
مهم ترین صادرات ایران نفت خام، پسته و فرش می باشد و متأسفانه در ده های اخیر واردات کالا به کشور بسیار زیاد شده است و مشکلات زیادی را برای کشور ایجاد کرده است.

۱۵- به کالاهای مصرفی در محیط زندگی خود توجه کنید و تعدادی از کالاهایی را که تمام یا بخشی از آنها در کشورهای دیگر تولید و سپس به کشور ما وارد شده اند نام ببرید.

« پاسخ »

مانند تلفن همراه، تلویزیون های ال ای دی، کامپیوتر و خودروها

۱۶- در این نمودار، مهم‌ترین اقلام صادراتی و وارداتی پنج کشور را در چند سال اخیر مشاهده می‌کنید. آنرا مطالعه کنید و به پرسش‌ها پاسخ دهید.



- چرا هریک از این کشورها به وارد کردن این اقلام نیاز دارد؟ صادر کردن این اقلام برای هر کشور چه ضرورتی دارد؟ توضیح دهید.
- الف) از نظر اقلام صادراتی بین کشورها چه تفاوت عمده‌ای مشاهده می‌کنید؟ به نظر شما کدام اقلام صادراتی سودآوری بیشتری دارند؟ چرا؟
ب) آیا می‌توانید این پنج کشور را به دو گروه جداگانه تقسیم کنید؟ چگونه؟

« پاسخ »

- کشورها برای توسعه اقتصادی خود و افزایش رفاه در جامعه نیازمند به صادرات کالا و واردات کالا می‌باشند و ...
- الف) بعضی از اقلام صادراتی مواد خام می‌باشد مانند نفت و بعضی از اقلام صادراتی کالاهای ساخته شده صنعتی است مانند هواپیما و صنایع فضایی. به نظر می‌رسد درآمد حاصل از صادرات محصولات صنعتی خیلی بیشتر از صدور مواد خام می‌باشد. کشورهای پیشرفته بیشتر محصولات صنعتی صادر می‌کنند و کشورهای در حال توسعه بیشتر مواد خام صادر می‌کنند.

۱۷- علت تشکیل سازمان «اوپک» چه بود؟

- ۱) جلوگیری از آسیب‌پذیری ناشی از کاهش قیمت نفت در بازار جهانی
- ۲) برقراری روابط اقتصادی در جهت صادرات کالا و خدمات به یک‌دیگر
- ۳) ایجاد شوک اقتصادی در کشورهای دیگر در جهت تأمین رفاه اقتصادی کشور خود
- ۴) افزایش میزان تقاضا برای نفت، در بازارهای بین‌المللی

« پاسخ »

گزینه ۱ پاسخ صحیح است. در بین کشورهای صادرکننده مواد خام و منابع انرژی، برخی کشورهای صادرکننده نفت و گاز برای دفاع از منافع خود و جلوگیری از آسیب‌پذیری ناشی از کاهش قیمت نفت در بازار جهانی، با یک‌دیگر متحد شده و سازمان «اوپک» را به وجود آوردند.

۱۸- کشور آمریکا پس از جنگ جهانی دوم، برای بهره‌برداری از منابع سرزمین‌های دیگر و جلوگیری از گسترش کمونیسم وارد چه مرحله‌ای شد؟

- ۱) صدور سرمایه
- ۲) جذب منابع کشورها
- ۳) غارت مواد اولیه کشورها
- ۴) گسترش شرکت‌های چندملیتی

« پاسخ »

گزینه ۱ پاسخ صحیح است. کشور آمریکا پس از جنگ جهانی دوم، برای بهره‌برداری از منابع سرزمین‌های دیگر و هم‌چنین جلوگیری از گسترش کمونیسم، وارد مرحله‌ی تازه‌ای شد و آن مرحله‌ی صدور سرمایه (علاوه بر صدور کالا) بود.

۱۹- کدام عامل خسارت‌های زیادی به کشورهای سرمایه‌داری صنعتی زد؟

- ۱) گسترش جنگ سرد در جهان
- ۲) گسترش استعمار و استثمار در جهان
- ۳) گسترش کمونیسم در جهان
- ۴) جنگ‌های جهانی اول و دوم

« پاسخ »

گزینه ۴ پاسخ صحیح است. جنگ‌های جهانی اول و دوم خسارت‌های زیادی به کشورهای سرمایه‌داری صنعتی زد.

۲۰- کدام قرن‌ها، «عصر اکتشافات جغرافیایی و پیشرفت دریانوردی» در جهان به شمار می‌آیند؟

- ۱) ۱۵ - م ۱۶ م
- ۲) ۱۴ - م ۱۵ م
- ۳) ۱۶ - م ۱۷ م
- ۴) ۱۵ - م ۱۷ م

« پاسخ »

گزینه ۱ پاسخ صحیح است. با ورود به عصر اکتشافات جغرافیایی و پیشرفت در دریانوردی در قرن‌های پانزدهم و شانزدهم میلادی، اروپاییان به سرزمین‌های نو در آمریکا و اقیانوسیه دست یافتند.

۲۱- در «اقتصاد جهانی»، تجارت بر مبنای کدام مورد صورت می‌گیرد؟

- (۱) افزایش یا کاهش قیمت
- (۲) نوع محصولات تجاری
- (۳) ارزش یک پول معین
- (۴) وجود شرکت‌های چندملیتی

« پاسخ »

گزینه ۳ پاسخ صحیح است. منظور از اقتصاد جهانی، تجارت بین‌المللی کالاها و خدمات است که بر مبنای ارزش یک پول معین صورت می‌گیرد.

۲۲- اتحادیه‌های منطقه‌ای «نفتا» و «اگو» به ترتیب در کدام مناطق جهان قرار دارند؟

- (۱) آمریکای شمالی و مرکزی - آسیای غربی
- (۲) آمریکای شمالی - آسیای شرقی
- (۳) آمریکای مرکزی - آسیای جنوب شرقی
- (۴) آمریکای مرکزی و جنوبی - آسیای جنوب غربی

« پاسخ »

گزینه ۱ پاسخ صحیح است.
نفتا ← آمریکای شمالی و مرکزی
اگو ← آسیای غربی

۲۳- همی گزینه‌ها در مورد «شرکت‌های چندملیتی» درست هستند، به جز:

- (۱) نقش مهمی در تجارت جهانی دارند و می‌توانند انحصار تولید یک کالا را در دست بگیرند.
- (۲) به تشویق شرکت‌های محلی برای سرمایه‌گذاری در سایر مناطق جهان می‌پردازند.
- (۳) طراحی و فناوری علمی اصلی تولید آنان، در کشورهای پیشرفته صنعتی قرار دارد.
- (۴) شعبات خود را به شکل شرکت‌های وابسته در کشورهای دیگر ایجاد می‌کنند.

« پاسخ »

گزینه ۲ پاسخ صحیح است. شرکت‌های چندملیتی از شرکت‌های محلی در کشور میزبان برای تولید یا فروش کالا و خدمات خود استفاده می‌کنند.

۲۴- شروع گسترش شرکت‌های چندملیتی به چه زمانی برمی‌گردد و این شرکت‌ها برای فروش کالاها و خدمات خود به دیگر کشورها چه می‌کنند؟

- (۱) پیش از جنگ جهانی اول - ایجاد شعبه‌هایی از کارخانه‌های مونتاژ یا شرکت‌های وابسته
- (۲) پیش از جنگ جهانی اول - فشار برحکومت‌ها با دخالت‌های نظامی
- (۳) پس از جنگ جهانی دوم - ایجاد شعبه‌هایی از کارخانه‌های مونتاژ یا شرکت‌های وابسته
- (۴) پس از جنگ جهانی دوم - فشار برحکومت‌ها با دخالت‌های نظامی

« پاسخ »

گزینه ۳ پاسخ صحیح است. گسترش شرکت‌های چندملیتی، پس از جنگ جهانی دوم اتفاق افتاد. این شرکت‌ها، شعبه‌هایی نظیر کارخانه‌های مونتاژ یا شرکت‌های وابسته در کشورهای دیگر ایجاد می‌کنند تا بتوانند کالاها و خدمات خود را در آن کشورها تولید کنند و به فروش برسانند.

- ۲۵- با توجه به عملکرد شرکت‌های چند ملیتی، کدام مطلب به درستی بیان شده است؟
- (۱) شرکت‌های چند ملیتی به سرمایه‌گذاری و ایجاد کارخانه‌های مونتاژ در کشورهای مادر علاقه‌مندند.
 - (۲) طراحی و فناوری علمی اصلی تولید شرکت‌های چند ملیتی در کشورهای دیگر انجام می‌شود.
 - (۳) فعالیت شرکت‌های چند ملیتی در کشورهای مرکز و نیمه پیرامون، ارزان‌تر و آسان‌تر تمام می‌شود.
 - (۴) شرکت‌های چند ملیتی از شرکت‌های محلی در کشورهای میزبان، برای تولید یا فروش کالا استفاده می‌کنند.

« پاسخ »

گزینه ۴ پاسخ صحیح است. این شرکت‌ها به سرمایه‌گذاری در کشورهای کمتر توسعه یافته علاقه‌مندند و فعالیت آن‌ها در این کشورها آسان‌تر و ارزان‌تر انجام می‌شود. همچنین طراحی و فناوری علمی تولید شرکت‌های چند ملیتی در کشور مادر صورت می‌گیرد.

- ۲۶- در گزاره زیر، پیامد موارد مشخص شده مطابق با قواعد اقتصاد جهانی، کدام است؟
- «کشور A در سال ۱۳۵۹، برای افزایش میزان صادرات و بیشتر شدن مقدار آن از واردات، به یکی از اتحادیه‌های اقتصادی و تجاری در منطقه خود پیوست.»

- (۱) کسری تجاری - پایین آمدن تعرفه‌های تجاری بین کشورها
- (۲) موازنه تجاری مثبت - وضع تعرفه‌های گمرکی و مالیات بر کالاهای وارداتی
- (۳) بهبود استانداردهای زندگی و رفاه - کاهش دادن یا برداشتن مالیات‌ها و تعرفه‌های گمرکی
- (۴) رونق و توسعه اقتصادی - حذف یا ممنوعیت موقت واردات برخی کالاها در دوره زمانی معین

« پاسخ »

گزینه ۳ پاسخ صحیح است. اگر ارزش صادرات یک کشور بیشتر از واردات آن باشد (موازنه تجاری مثبت)، آن کشور می‌تواند از راه سودی که به دست می‌آورد، استانداردهای زندگی و رفاه را در کشور خود بهبود ببخشد. اتحادیه‌های تجاری اقتصادی منطقه‌ای، میان کشورهای همسایه شکل می‌گیرد. کشورهای عضو این اتحادیه‌ها براساس موافقت‌نامه‌هایی که امضا می‌کنند، سعی می‌کنند مالیات‌ها و تعرفه‌های گمرکی را بین خودشان کاهش دهند یا بردارند.

۲۷- کدام گزینه با عبارت مقابل آن همخوانی دارد؟

- ۱) خرید و فروش کالاها و خدماتی که نیازها یا خواسته‌های ما را برآورده می‌کنند. (اقتصاد جهانی)
- ۲) تجارت بین‌المللی کالاها و خدمات بر مبنای ارزش یک پول معین (تجارت)
- ۳) یکی از فعالیت‌های مهم بخش خدمات است که در اقتصاد جهان نقش مهمی دارد. (تجارت)
- ۴) اصطلاحاً به نوعی کشاورزی گفته می‌شود که کارخانه‌هایی برای تبدیل، بسته‌بندی و توزیع محصولات معمولاً در کنار مزارع غله تجاری در بازارهای مصرف پدید می‌آید. (کشاورزی تجاری)

« پاسخ »

گزینه ۳ پاسخ صحیح است. تشریح گزینه‌های دیگر:

- گزینه ۱ «۱»: تجارت خرید و فروش کالاها و خدماتی است که نیازها یا خواسته‌های ما را برآورده می‌کنند.
- گزینه ۲ «۲»: منظور از اقتصاد جهانی، تجارت بین‌المللی کالاها و خدمات است که بر مبنای ارزش یک پول معین صورت می‌گیرد.
- گزینه ۴ «۴»: کشاورزی که معمولاً در کنار مزارع، کارخانه‌هایی برای تبدیل، بسته‌بندی و توزیع محصولات در بازارهای مصرف پدید می‌آید که در اصطلاح به آن‌ها «کش و صنعت» می‌گویند.

۲۸- با توجه به موقعیت و وضعیت شرکت توپوتا کدام گزینه نادرست است و کشورهای که اقتصاد آن‌ها به‌طور عمده مبتنی بر صدور مواد اولیه و خام و همچنین تولید و صدور انواع کالاهای کارخانه‌ای می‌باشد، از چه نظر به دو گروه اصلی تقسیم شده‌اند؟

- ۱) دفتر مرکزی این شرکت در کره جنوبی می‌باشد و این شرکت گاهی اوقات انحصار تولید یک کالا را در دست می‌گیرد و کارخانه‌های داخلی کشورها را از دور رقابت خارج می‌کند - نوع غالب محصولات اقتصادی
- ۲) دفتر مرکزی این شرکت در کره جنوبی می‌باشد و این شرکت‌ها از شرکت‌های محلی در کشورهای میزبان تنها برای فروش کالای خود استفاده می‌کند - نوع غالب محصولات اقتصادی
- ۳) دفتر مرکزی این شرکت در ژاپن می‌باشد و صنایع و بانک‌های این کشور به همراه ایالات متحده آمریکا و اروپای شرقی در هفتاد سال اخیر در یک مناطق جهان سرمایه‌گذاری کرده‌اند - مبادلات تجاری جهانی
- ۴) دفتر مرکزی این شرکت در ژاپن می‌باشد و شعبه اصلی این شرکت‌ها در کشورهای پیشرفته صنعتی (مادر) است و طراحی و فناوری علمی اصلی تولید در کشور مادر صورت می‌گیرد - نوع غالب مبادلات اقتصادی

« پاسخ »

- گزینه ۳ پاسخ صحیح است. شرکت توپوتا که در ژاپن واقع شده است، یک شرکت چندملیتی است و بانک‌ها و صنایع این کشور در هفتاد سال اخیر به همراه بانک‌ها و صنایع ایالات متحده آمریکا و اروپای غربی به شکل قابل توجهی در دیگر مناطق جهان، سرمایه‌گذاری کرده‌اند.
- کشورهایی که اقتصاد آن‌ها مبتنی بر تولید و صدور مواد اولیه و انواع کالاهای کارخانه‌ای و صنعتی می‌باشد. بر اساس نوع غالب مبادلات و صدور مواد اولیه و انواع کالاهای کارخانه‌ای و صنعتی می‌باشد. بر اساس نوع غالب مبادلات اقتصادی (مبادلات تجاری جهانی) به دو گروه اصلی تقسیم شده‌اند.

۲۹- امروزه برای پی بردن به وضعیت نابرابر نواحی در اقتصاد جهانی باید به چه عاملی توجه کنیم و به چه دلیل سازمان اوپک به وجود آمد و کشورهای سرمایه‌داری به چه دلیل وارد مرحله صدور سرمایه شدند؟

(۱) بیشینه تعامل و روابط اقتصادی - برای دفاع کشورهای صادرکننده نفت و گاز از منافع خود - به علت بهره‌برداری از منابع سرزمین‌های دیگر و جلوگیری از گسترش کمونیسم.

(۲) بیشینه تعامل و روابط اقتصادی - به منظور جلوگیری از آسیب‌پذیری از کاهش قیمت نفت در بازار جهانی - به علت بهره‌برداری از منابع سرزمین‌های دیگر و گسترش شرکت‌های چند ملیتی

(۳) درآمد و رفاه کشورها برحسب شاخص توسعه انسانی - برای دفاع کشورهای صادرکننده نفت و گاز از منافع خود - به علت جلوگیری از گسترش کمونیسم. و گسترش شرکت‌های چند ملیتی

(۴) درآمد و رفاه کشورها برحسب شاخص توسعه انسانی - به منظور جلوگیری از آسیب‌پذیری از کاهش قیمت نفت در بازار جهانی - به علت ایجاد کارخانه‌های مونتاژ در دیگر نقاط جهان و بهرکشی از آنان

« پاسخ »

گزینه ۱ پاسخ صحیح است. برای آن‌که به وضعیت نابرابر نواحی در اقتصاد جهانی امروز پی ببریم، باید به بیشینه تعامل و روابط اقتصادی در جهان توجه کنیم.

برخی از کشورهای صادرکننده نفت و گاز برای دفاع از منافع خود و جلوگیری از آسیب‌پذیری ناشی از کاهش قیمت نفت در بازار جهانی، با یکدیگر متحد شده و سازمان «اوپک» را به وجود آورده‌اند.

کشورهای سرمایه‌داری و در رأس آن‌ها آمریکا برای بهره‌برداری از منابع سرزمین‌های دیگر و همچنین جلوگیری از گسترش کمونیسم، وارد مرحله تازه‌ای شدند و آن مرحله صدور سرمایه بود.

۳۰- نفت خام از مهم‌ترین الام وارداتی کدام کشورها است؟

(۱) لیبی - فرانسه (۲) ژاپن - پاکستان (۳) اکوادور - تایلند (۴) اندونزی - لیبی

« پاسخ »

گزینه ۲ پاسخ صحیح است. نفت خام از مهم‌ترین اقلام وارداتی ژاپن، پاکستان و فرانسه است.

۳۱- کدام گزینه نقش مهمی در «تجارت جهانی» دارد؟

(۱) کشورهای فراملی و فراملی (۲) شرکت‌های چندملیتی
(۳) کشورهای فدرال و تک‌ساختی (۴) شرکت‌های کشت و صنعت مرکزی

« پاسخ »

گزینه ۲ پاسخ صحیح است. شرکت‌های چندملیتی نقش مهمی در تجارت جهانی دارند.

۳۲- کدام گزینه از خصوصیات «کشورهای پیرامونی» است؟

- ۱) عمدتاً تولیدکننده و صادرکننده مواد اولیه و خام‌اند و از نظر توسعه‌ی صنعتی و فناوری نوین در سطح پایین‌تری قرار دارند.
- ۲) کشورهایی که از نظر اقتصادی از همه‌ی کشورها قوی‌تر و دارای صنعت قوی هستند.
- ۳) کشورهای توسعه‌یافته‌ی صنعتی که از نظر درآمد و ثروت، بالاترین موقعیت را دارند.
- ۴) کشورهایی که از صنایع نو و خدمات پیشرفته، فناوری بالا و نیروی ماهر و متخصص برخوردار هستند.

« پاسخ »

گزینه ۱ پاسخ صحیح است. کشورهای پیرامونی عمدتاً تولیدکننده و صادرکننده‌ی مواد اولیه و خام‌اند و از نظر توسعه‌ی صنعتی و فناوری‌های نوین در سطح پایین‌تری قرار دارند.

۳۳- به چه نوع کشتی‌ای، «فله‌بر» می‌گویند؟

- ۱) کشتی‌ای که کانتینر و خودرو حمل می‌کند.
- ۲) کشتی‌ای که تانکر و شناورهای جنگی حمل می‌کند.
- ۳) کشتی‌ای که غلات، زغال و سنگ آهن حمل می‌کند.
- ۴) کشتی‌ای که تانکر، خودرو و کالاهای اساسی حمل می‌کند.

« پاسخ »

گزینه ۳ پاسخ صحیح است. کشتی‌های فله‌بر، غلات، زغال، سنگ آهن و سیمان حمل می‌کنند.

۳۴- همه موارد از اقدامات کشورها، برای رونق و توسعه اقتصادی است، به جز:

- ۱) تشکیل اتحادیه‌های اقتصادی - تجاری منطقه‌ای
- ۲) افزایش صدور مواد خام و اولیه و تشکیل مناطق آزاد تجاری
- ۳) ممنوع کردن واردات برخی کالاها در دوره‌های زمانی خاص
- ۴) وضع تعرفه‌های گمرکی و مالیات بر کالاهای وارداتی

« پاسخ »

گزینه ۲ پاسخ صحیح است. افزایش صدور مواد خام اولیه سبب وابستگی اقتصادی یک کشور خواهد شد.

۳۵- مفهوم اقتصاد جهانی در کدام گزینه به درستی بیان شده است؟

- ۱) تجارت بین‌المللی اطلاعات و خدمات بر مبنای قدرت یک پول معین
- ۲) تجارت بین‌المللی کالاها و خدمات بر مبنای ارزش یک پول معین
- ۳) فعالیت بین‌المللی اطلاعات و خدمات بر مبنای قدرت یک پول معین
- ۴) فعالیت بین‌المللی کالاها و خدمات بر مبنای ارزش یک پول معین

« پاسخ »

گزینه ۲ پاسخ صحیح است. منظور از اقتصاد جهانی، تجارت بین‌المللی کالاها و خدمات است که بر مبنای ارزش یک پول معین صورت می‌گیرد.

- ۳۶- چند کشور همسایه و نزدیک به هم، برای رسیدن به کدام هدف یا هدف‌ها، اتحادیه اقتصادی «نفتا» را تشکیل داده‌اند؟
- (۱) کاهش مالیات و تعرفه‌های گمرکی
 - (۲) استفاده از نیروی کار ارزان و مبادله‌ی کالا و انرژی
 - (۳) استفاده از راه‌ها و بنادر یک دیگر برای توسعه‌ی اقتصادی
 - (۴) جلوگیری از آسیب‌پذیری ناشی از کاهش قیمت نفت در بازار جهانی

« پاسخ »

گزینه ۱ پاسخ صحیح است. به طور کلی اتحادیه‌های اقتصادی - تجاری منطقه‌ای، میان کشورهای همسایه شکل می‌گیرد. کشورهای عضو این اتحادیه‌ها بر اساس موافقت‌نامه‌هایی که امضاء می‌کنند، سعی دارند مالیات‌ها و تعرفه‌های گمرکی را بین خودشان کاهش یا حتی بردارند نفتا فقط نام یک اتحادیه است.

- ۳۷- شاخص توسعه‌ی انسانی در یک کشور را کدام عامل‌ها در نظر می‌گیرند؟
- (۱) متوسط عمر، بهداشت، آموزش، تفریح، شغل
 - (۲) درآمد، رفاه، امید به زندگی، سواد، آموزش
 - (۳) درصد باسوادی، راه‌ها و وسایل ارتباطی، درآمد، بهداشت
 - (۴) تعداد دانشجویان، درصد باسوادی، درصد بیکاری، متوسط طول عمر

« پاسخ »

گزینه ۲ پاسخ صحیح است. یکی از ملاک‌های سنجش و مقایسه کشورها، شاخص توسعه‌ی انسانی است که عوامل آن عبارت هستند از درآمد، رفاه، امید به زندگی یا متوسط طول عمر، سواد و آموزش و ...

- ۳۸- با پایان یافتن دوره‌ی استعمار کهن، کشورهای مستعمره از سلطه‌ی کدام موارد رهایی پیدا کردند؟
- (۱) قدرت نظامی، اشغال سرزمین
 - (۲) نابرابری اقتصادی، قدرت نظامی
 - (۳) اشغال سرزمین، نابرابری اقتصادی
 - (۴) وابستگی سیاسی، وابستگی اقتصادی

« پاسخ »

گزینه ۱ پاسخ صحیح است. پس از جنگ‌های جهانی اول و دوم نهضت‌های استقلال‌طلبانه در کشورهای مستعمره بیش‌تر شد و به تدریج کشورهای مستعمره به استقلال دست یافتند و به عضویت سازمان ملل متحد درآمدند. بدین ترتیب دوره‌ی استعمار کهن که در آن قدرت نظامی و اشغال سرزمین‌ها اهمیت ویژه‌ای داشت به پایان رسید.

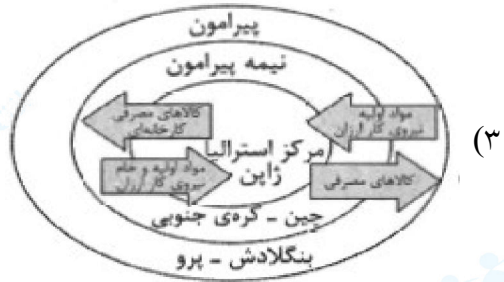
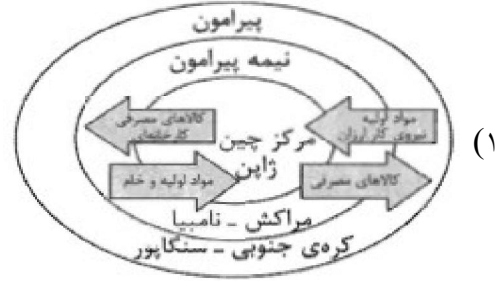
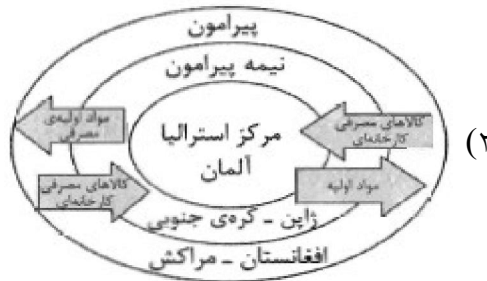
- ۳۹- منظور از اقتصاد جهانی کدام است؟

- (۱) تبادل محصولات صنعتی، منابع معدنی خام و محصولات کشاورزی چند کشور را با هم گویند.
- (۲) تجارت بین‌المللی کالاها و خدمات که بر مبنای ارزش یک پول معین صورت می‌گیرد.
- (۳) تبادل کالاهای ساخته شده با منابع خام بین کشورها یا مناطقی از یک کشور را گویند.
- (۴) تجارت بین‌المللی کالاهای ساخته شده و منابع خام و انرژی که از کشوری به کشور دیگر انجام گیرد.

« پاسخ »

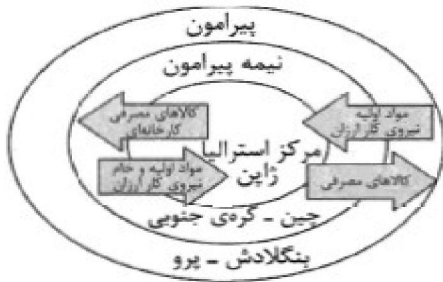
گزینه ۲ پاسخ صحیح است. منظور از اقتصاد جهانی، تجارت بین‌المللی کالاها و خدمات است که بر مبنای ارزش یک پول معین صورت می‌گیرد.

۴۰- کدام شکل در مورد روابط بین کشورهای «مرکز، پیرامون و نیمه پیرامون» صحیح است؟



« پاسخ »

گزینه ۳ پاسخ صحیح است.



۴۱- در نظام سرمایه‌داری جهانی، به ترتیب کدام کشورها «نیمه پیرامون»، «پیرامون» و «مرکزی» هستند؟

- (۱) سنگاپور - ژاپن - کانادا
 (۲) مراکش - انگلستان - فرانسه
 (۳) کره جنوبی - پرو - استرالیا
 (۴) چین - آلمان - مکزیک

« پاسخ »

گزینه ۳ پاسخ صحیح است. کشورهای نیمه پیرامون ← کره جنوبی، سنگاپور و چین
 کشورهای پیرامون ← افغانستان، بنگلادش، مراکش، نامبیا، پرو و نیکاراگوئه
 کشورهای مرکزی ← ژاپن، استرالیا، کشورهای آمریکای شمالی و اروپای غربی

۴۲- اتحادیه‌ی منطقه‌ای نفتا مربوط به کدام موقعیت جغرافیایی در جهان است؟

- (۱) آمریکای جنوبی
 (۲) آسیای جنوب شرقی
 (۳) آسیای غربی
 (۴) آمریکای شمالی و مرکزی

« پاسخ »

گزینه ۴ پاسخ صحیح است. اتحادیه‌ی منطقه‌ای نفتا مربوط به آمریکای شمالی و مرکزی (کانادا، ایالات متحده و مکزیک) است.

- ۴۳- کدام گزینه از کشورهای نیمه‌پیرامون اقتصادی در جهان در دو دهه‌ی اخیر هستند؟
(۱) پرو و نیکاراگوئه (۲) کره‌ی جنوبی و سنگاپور (۳) کانادا و مکزیک (۴) تایوان و چین

« پاسخ »

گزینه ۲ پاسخ صحیح است. از جمله کشورهای نیمه‌پیرامون اقتصادی در جهان در دو دهه‌ی اخیر می‌توان به کره‌ی جنوبی، سنگاپور و چین اشاره کرد.

- ۴۴- کدام گزینه، موضوع اقتصاد جهانی را به طور کامل بیان کرده است؟
(۱) ارزش صادرات یک کشور بر واردات آن بیش‌تر باشد.
(۲) تجارت بین‌المللی کالاها و خدمات که بر مبنای ارزش یک پول معین باشد.
(۳) خرید و فروش کالاها و خدمات که نیازها و خواسته‌های ما را برآورده می‌کنند.
(۴) بالا بردن درآمد سرانه‌ی کشور و تولید ناخالص داخلی که مبنای اقتصاد جهانی است.

« پاسخ »

گزینه ۲ پاسخ صحیح است. منظور از اقتصاد جهانی، تجارت بین‌المللی کالاها و خدمات است که بر مبنای ارزش یک پول معین صورت می‌گیرد.

- ۴۵- کدام گزینه نقش مهمی در تجارت جهانی دارد؟
(۱) زمین‌داران بزرگ
(۲) واردکنندگان و صادرکنندگان کالا
(۳) شرکت‌های چندملیتی
(۴) اتحادیه‌ی بزرگ صنعتی و صنعتی

« پاسخ »

گزینه ۳ پاسخ صحیح است. شرکت‌های چندملیتی نقش مهمی در تجارت جهانی دارند.

- ۴۶- علت تشکیل سازمان اوپک چه بود؟
(۱) جلوگیری از آسیب‌های کاهش قیمت نفت در بازار جهانی
(۲) برقراری روابط اقتصادی در جهت صادرات کالا و خدمات به یک‌دیگر
(۳) ایجاد شوک اقتصادی در کشورهای دیگر در جهت تأمین رفاه اقتصادی کشور خود
(۴) افزایش میزان تقاضا برای نفت، در بازارهای بین‌المللی

« پاسخ »

گزینه ۱ پاسخ صحیح است. در بین کشورهای صادرکننده‌ی مواد خام و منابع انرژی، برخی کشورهای صادرکننده‌ی نفت و گاز برای دفاع از منافع خود و جلوگیری از آسیب‌پذیری ناشی از کاهش قیمت نفت در بازار جهانی، با یک‌دیگر متحد شده و سازمان اوپک را به وجود آوردند.

- ۴۷- کدام گزینه مربوط به وقایع کشورهای مستعمره، پس از جنگ جهانی اول و دوم است؟
- (۱) ایجاد کارخانه‌های مونتاژ
 - (۲) عقب افتادن از نظر علم و فناوری صنعتی
 - (۳) افزایش نهضت‌های استقلال‌طلبانه
 - (۴) افزایش غارت استعمارگران

« پاسخ »

گزینه ۳ پاسخ صحیح است. پس از جنگ جهانی اول و دوم نهضت‌های استقلال‌طلبانه در کشورهای مستعمره بیش‌تر شد.

- ۴۸- بزرگ‌ترین شبکه‌ی دادوستد جهانی تا چه قرنی شکل گرفت و از طریق چه مسیری شرق و غرب جهان آن روز را دربرمی‌گرفت؟

- (۱) قرن ۱۵ - آفریقا تا اروپا
- (۲) قرن ۱۴ - جاده‌ی ابریشم تا آمریکای جنوبی
- (۳) قرن ۱۴ - اقیانوس اطلس تا کناره‌ی دریای مدیترانه
- (۴) قرن ۱۵ - چین در شرق تا اروپا در کنار دریای مدیترانه

« پاسخ »

گزینه ۴ پاسخ صحیح است. شبکه‌ی راه‌های به هم پیوسته‌ی جاده‌ی ابریشم که تا قرن پانزدهم میلادی شکل گرفت، بزرگ‌ترین شبکه‌ی دادوستد جهانی بود که از طریق مسیرهای طولانی، شرق و غرب جهان آن روز را از چین در شرق آسیا تا اروپا در کنار دریای مدیترانه دربرمی‌گرفت.

- ۴۹- قلب صنایع فضای مجازی جهان در کجا قرار دارد؟

- (۱) جنوب شرقی ایالت فلوریدا در کشور آمریکا
- (۲) جنوب شرقی سانفرانسیسکو در ایالت کالیفرنیا در کشور آمریکا
- (۳) جنوب شهر اتاوا در کشور کانادا
- (۴) نزدیک بندر نیویورک در شرق ایالات متحده‌ی آمریکا

« پاسخ »

گزینه ۲ پاسخ صحیح است. دره‌ی سیلیکون از اولین و مهم‌ترین نواحی صنایع نو و دارای فناوری پیشرفته در جهان است و به آن قلب صنایع فضای مجازی جهان نیز می‌گویند. این دره در جنوب شرقی سانفرانسیسکو در ایالت کالیفرنیا قرار دارد.

- ۵۰- کشور آمریکا پس از جنگ جهانی دوم، برای بهره‌برداری از منابع سرزمین‌های دیگر و جلوگیری از گسترش کمونیسم وارد چه مرحله‌ای شد؟

- (۱) صدور سرمایه
- (۲) جذب منابع کشورها
- (۳) غارت مواد اولیه‌ی کشورها
- (۴) گسترش شرکت‌های چندملیتی

« پاسخ »

گزینه ۱ پاسخ صحیح است. کشور آمریکا پس از جنگ جهانی دوم، برای بهره‌برداری از منابع سرزمین‌های دیگر و جلوگیری از گسترش کمونیسم وارد مرحله‌ی تازه‌ای شد و آن صدور سرمایه (علاوه بر صدور کالا) بود.