

استادبانک



نمونه سوالات همراه با جواب و

گام به گام کتاب‌های درسی

به طور کامل رایگان در

اپلیکیشن استادبانک

به جمع ده‌ها هزار کاربر اپلیکیشن رایگان استادبانک پیوندید.

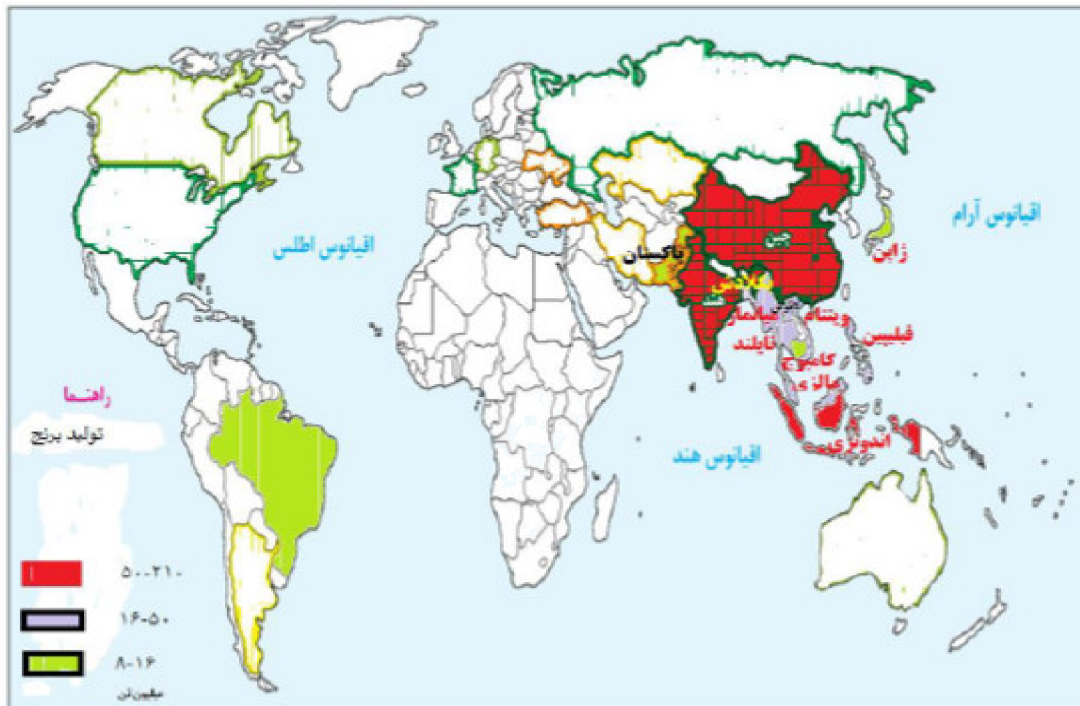
[لینک دریافت اپلیکیشن نمونه سوالات استادبانک \(کلیک کنید\)](#)

* برای مشاهده نمونه سوالات دانلود شده به صفحه بعد مراجعه کنید.

۱- طرح نقشه کشورهای جهان را در نظر بگیرید و با راهنمایی معلم و استفاده از اطلاعات جدول، نقشه‌ی کشورهای عمده‌ی تولیدکننده‌ی برنج را تهیه و رنگ‌آمیزی کنید. میزان تولید و رتبه‌ی کشورها را از زیاد به کم با به کار بردن طیفی از رنگ‌ها و طراحی راهنمای مناسب نمایش دهید.

ردیف	کشور	میزان تولید (میلیون تن)
۱	چین	۲۰۲
۲	هند	۱۵۵
۳	اندونزی	۶۵
۴	بنگلادش	۵۰
۵	ویتنام	۴۲
۶	تایلند	۳۴
۷	برمه	۳۲
۸	فیلیپین	۱۶
۹	برزیل	۱۳/۵
۱۰	پاکستان	۹/۲
۱۱	کامبوج	۸/۸
۱۲	ژاپن	۸/۴

« پاسخ »



۲- در صورتی که در شهر یا منطقه‌ی محل زندگی‌تان پارک علم و فناوری وجود دارد، به همراه معلم خود از آن بازدید کنید و مشاهدات خود را به صورت گزارشی کوتاه بنویسید.

« پاسخ »

پاسخ به عهده دانش‌آموز

۳- پرس و جو کنید: مهم‌ترین فعالیت‌هایی که در پارک‌های علم و فناوری ایران صورت می‌گیرد، کدام‌اند؟ شرایط ورود پژوهشگران جوان به این پارک‌ها چیست و چگونه می‌توانند در آنجا فعالیت کنند؟

« پاسخ »

خدمات عمومی: اسکان، دسترسی به تلفن و دورنگار، کارپردازی و خدمات دبیرخانه‌ای، امکان استفاده از اتاق‌های کنفرانس، تجهیزات دیداری و شنیداری و سرویس رفت و آمد.

خدمات اطلاع‌رسانی: کتابخانه، اینترنت، مراکز اطلاع‌رسانی و نرم‌افزارهای مهندسی

خدمات مشاوره‌ای و آموزشی: مشاوره‌های مدیریتی، مالی و بازرگانی، خدمات حسابداری و حقوقی، برگزاری سمینار و یا دوره‌های آموزشی موردنیاز برای شرکت‌های نوپا.

خدمات فنی و تخصصی: ارائه خدمات فنی مهندسی، استفاده از امکانات آزمایشگاهی و کارگاهی نظیر آزمایشگاه صنایع غذایی، بیوتکنولوژی، شیمی، مواد و سرامیک، برق و الکترونیک، مکانیک، کارگاه ماشین ابزار و پایلوت‌های تولید محدود.

خدمات مالی و اعتباری: تسهیل امکان استفاده از اعتبارات خدماتی و تحقیقاتی، شناسایی منابع مالی و جذب سرمایه‌گذاران، تسهیل در جذب اعتبارات مصوب طرح‌ها و پروژه‌های تحقیقاتی.

ثبت اختراعات: در پارک‌ها و شهرک‌های علمی و فناوری این امکان به سادگی فراهم است که حاصل ابداعات و نوآوری‌های پژوهشگران به نام خود آنان ثبت و حقوق آنان محفوظ بماند. و ...

۴- ویژگی‌های صنایع پیشرفته را بیان کنید.

« پاسخ »

تعریف صنایع پیشرفته: صنایع دارای فناوری پیچیده در بسترهای محصول، فرآیند و ماشین‌آلات که دانش فنی، نوآوری، خلاقیت، تحقیق و توسعه و نیروی انسانی متخصص سهم قابل توجهی در ایجاد و توسعه آن دارد. ارزش افزوده بالا و نرخ سریع تغییرات فناوری از ویژگی‌های بارز آن می‌باشد.

- ۱- فناوری‌های زیستی (غذایی، کشاورزی دامی و گیاهی، صنعتی محیط زیست، زیست فناوری مولکولی)
- ۲- فناوری نانو (محصولات و مواد)
- ۳- اپتیک، فوتونیک (مواد، قطعات و سامانه‌ها)
- ۴- الکترونیک، کنترل و سخت‌افزارهای رایانه‌ای
- ۵- فناوری اطلاعات و ارتباطات و نرم‌افزارهای کامپیوتری
- ۶- تجهیزات پیشرفته ساخت، تولید و آزمایشگاهی
- ۷- داروهای پیشرفته
- ۸- وسایل، ملزومات و تجهیزات پزشکی
- ۹- هوافضا (پرنده‌ها، ماهواره‌ها، موشک‌ها)
- ۱۰- انرژی‌های نو (تجدیدپذیر)

۵- در محل زندگی خود، چند نمونه از کالاها یا خدماتی را که محصول صنایع پیشرفته و نو هستند، شناسایی کنید و نام ببرید.

« پاسخ »

پاسخ به عهده دانش‌آموز

۶- یکی از ابزارهای کشورهای سلطه‌گر، تحریم‌های غذایی و دارویی است. به نظر شما کشورها برای مقابله با این ظلم از چه راهکارهایی استفاده کنند؟ چند پیشنهاد ارائه کنید.

« پاسخ »

تعامل با یکدیگر - حذف دلار از معاملات تجاری

۷- درباره‌ی وضعیت گرسنگی و مرگ‌ومیر کودکان در یمن، اطلاعاتی از اینترنت گردآوری و در کلاس بیان کنید. وظیفه ما در این زمینه چیست؟ توضیح دهید.

« پاسخ »

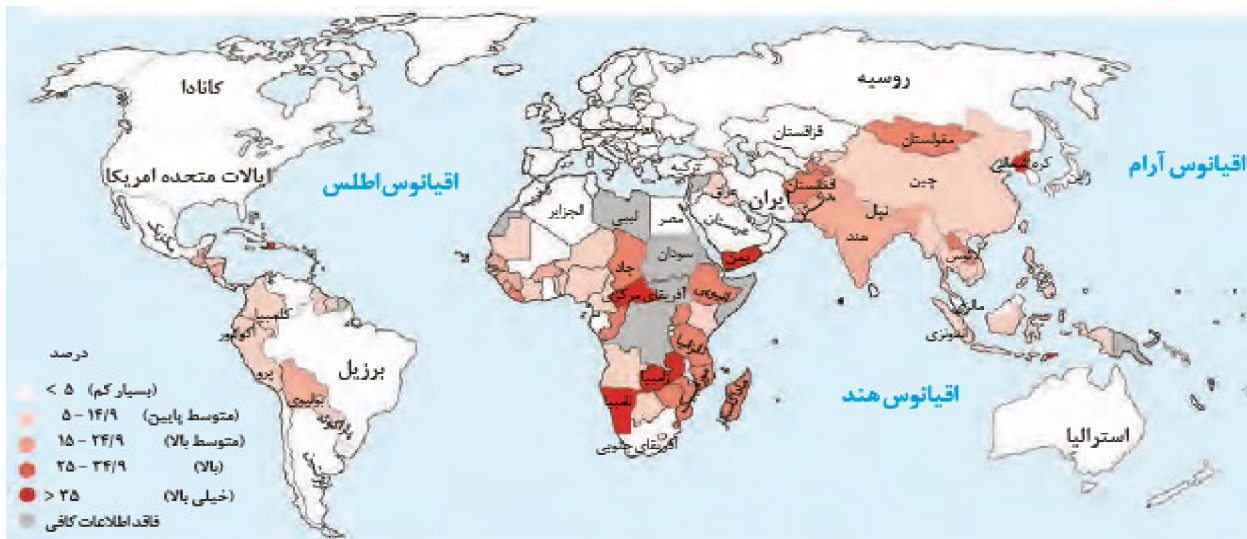
پاسخ به عهده دانش‌آموز

۸- روز جهانی غذا (۱۶ اکتبر، ۲۴ مهرماه) را در تقویم پیدا کنید. تحقیق کنید چرا این روز را چنین نام‌گذاری کرده‌اند.

« پاسخ »

روز جهانی غذا سالروزی مقارن شانزدهم اکتبر است که به افتخار تأسیس سازمان فائو در سال ۱۹۴۵ نام‌گذاری شده و در سراسر جهان گرامی داشته می‌شود. این روز توسط بسیاری از سازمان‌های مرتبط با امنیت غذایی، از جمله برنامه جهانی غذا و صندوق بین‌المللی توسعه کشاورزی نیز جشن گرفته می‌شود.

۹- با توجه به نقشه‌ی زیر و راهنمای آن، کشورها را از نظر سوء تغذیه مقایسه و نقشه را تفسیر کنید.



میزان سوء تغذیه در جمعیت جهان. گزارش فائو (۲۰۱۶-۲۰۱۴ م)

« پاسخ »

بیشتر کشورهایی که دچار سوء تغذیه می‌باشند در قاره آفریقا قرار دارند مانند آفریقای مرکزی و زامبیا و نامیبیا. در جنوب شبه جزیره عربستان به دلیل وقوع جنگ داخلی مشکل سوء تغذیه به وجود آمده است و ...

۱۰- با همفکری با دوستانتان، راه‌حل‌های پیشنهادی اعم از راه‌حل‌های بنیادی و راه‌حل‌های موقت و فوری خود را برای حل بحران گرسنگی جهان روی یک برگه کاغذ فهرست کنید. سپس پیشنهادهایتان را در کلاس مطرح و نقد کنید.

« پاسخ »

پاسخ به عهده دانش‌آموز

۱۱- تعدادی از محصولات استوایی، مانند موز و آناناس را که در بازار وجود دارد شناسایی کنید. نام کشور تولیدکننده‌ی این محصولات را روی برچسب آن‌ها بیابید. درباره‌ی شرکت چندملیتی تولیدکننده‌ی آن‌ها اطلاعاتی از اینترنت گردآوری کنید و نتیجه را در کلاس گزارش دهید.

« پاسخ »

پاسخ به عهده دانش‌آموز

۱۲- برخی معتقدند که بیش‌تر محصولاتی که در مزارع تک‌محصولی و خاص تولید و به کشورهای مختلف صادر می‌شوند، عمدتاً غیرضروری و لوکس هستند و می‌توان به جای آن‌ها محصولات غذایی پرورش داد. نظر شما در این باره چیست؟

« پاسخ »

شرکت‌های چندملیتی تولید محصولاتی را به عهده می‌گیرند که برایشان درآمد و سود زیادی داشته باشد و ما که در این کشور در حال توسعه هستیم نمی‌توانیم نظری بدهیم

۱۳- بخشی از کتاب «صد سال تنهایی» اثر گابریل گارسیا مارکز، نویسنده‌ی مشهور آمریکای لاتین، به موضوع بهره‌کشی یک شرکت چندملیتی آمریکایی که در کلمبیا و سایر کشورهای آمریکای لاتین فعالیت می‌کرد، پرداخته است. گزیده‌ی متن کتاب را بخوانید و برداشت خود را از آن توضیح دهید. به موضوع رابطه‌ی شرکت چندملیتی با مردم و با حکومت کشور میزبان توجه کنید.

« پاسخ »

شرت موز یکی از شرکت‌های چندملیتی است که آقای براوان مدیر آن بود و به کارگران شرکت موز ستم‌های زیادی می‌کرد از جمله دادن کوپن به جای دستمزد به کارگران و

۱۴- ایران از واردکنندگان عمده‌ی برنج است. برای افزایش تولید برنج در کشور و کاهش واردات آن چه می‌توان کرد؟

« پاسخ »

امکان کشت برنج در ایران در آینده کم‌خواه شد به دلیل مشکل کمبود آب و خشکسالی. اساساً کشت برنج در نواحی داخلی کشور کار درستی نیست. این محصول آب زیادی مصرف می‌کند و نباید در داخل فلات ایران توسعه کشت برنج داشته باشیم. در مناطق شمالی کشور با برنامه‌ریزی‌های درست می‌توان میزان تولید برنج را افزایش داد و ...

۱۵- چندگونه‌ی معروف برنج ایرانی را نام ببرید.

« پاسخ »

برنج طارم و برنج دم سیاه و ...

۱۶- به نظر شما، چرا مردم کشور ما مصرف برنج ایرانی را به برنج‌های وارداتی ترجیح می‌دهند؟

« پاسخ »

کیفیت برنج ایرانی از نظر پخت، مزه، بوی خوش و سالم بودن خیلی بهتر از برنج‌های وارداتی می‌باشد.

۱۷- وضعیت ایران را از نظر تولید گندم در جهان چگونه ارزیابی می‌کنید؟

« پاسخ »

ایران یکی از کشورهای تولیدکننده گندم در جهان به حساب می‌آید ولی کشورها هنوز بخشی از گندم موردنیاز را وارد می‌کند.

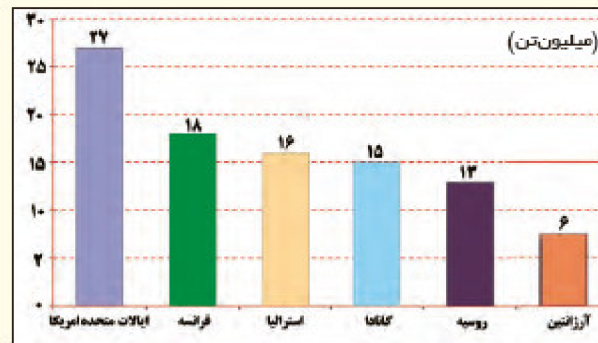
۱۸- میزان تولید و صدور برنج و گندم را در رتبه‌های اول و آخر جداول و نمودارها مقایسه کنید. چه نتیجه‌ای می‌گیرید؟

ردیف	کشور	تولید گندم (میلیون تن)	مصرف گندم (میلیون تن)
۱	چین	۱۲۲	۱۲۳
۲	هند	۹۴	۹۳
۳	امریکا	۵۸	۲۴
۴	روسیه	۵۲	۳۵
۵	فرانسه	۳۹	۱۸
۶	کانادا	۳۸	۱۸
۷	آلمان	۲۵	۱۵
۸	پاکستان	۲۴	۲۳
۹	استرالیا	۲۳	۶
۱۰	اکراین	۲۳	۱۱

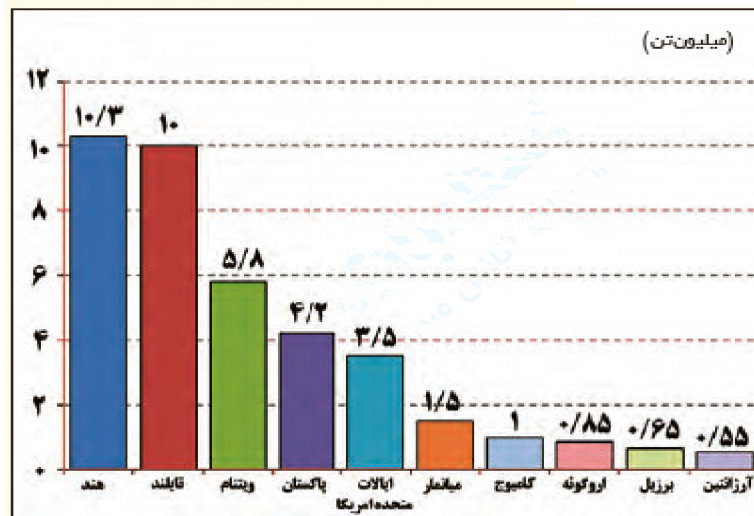
تولیدکنندگان عمده برنج جهان (۲۰۱۳-۲۰۱۲ میلادی)

ردیف	کشور	میزان تولید (میلیون تن)
۱	چین	۲۰۲
۲	هند	۱۵۵
۳	اندونزی	۶۵
۴	بنگلادش	۵۰
۵	ویتنام	۴۲
۶	تایلند	۳۴
۷	میانمار (برمه)	۳۲
۸	فیلیپین	۱۶
۹	برزیل	۱۳/۵
۱۰	پاکستان	۹/۲
۱۱	کامبوج	۸/۸
۱۲	ژاپن	۸/۴

مهم‌ترین صادرکنندگان گندم (۲۰۱۳ میلادی) گزارش شورای جهانی غلات



مهم‌ترین صادرکنندگان برنج (۲۰۱۳ میلادی)



« پاسخ »

کشورهای چین و هند در تولید دو محصول گندم و برنج رتبه اول و دوم را در جهان دارا هستند. به استثنای کشورهای چین و هند و پاکستان، کشورهایی که تولیدکننده برنج هستند، تولیدکننده گندم نمی‌باشند.

۱۹- با استفاده از داده‌های نمودارها، صادرات کدام غله در جهان بیش‌تر است؟ چرا؟

« پاسخ »

گندم بیش‌تر است. اساساً مهم‌ترین غله در دنیا گندم می‌باشد زیرا در اغلب کشورها قابل کشت می‌باشد و مهم‌ترین محصول غذایی کشورها محسوب می‌شود.

۲۰- با آن‌که چین بزرگ‌ترین تولیدکننده‌ی گندم جهان است، در نمودار صادرکنندگان این غله دیده نمی‌شود؛ چرا؟

« پاسخ »

کشورهای چین و هند بیش‌تر محصولات تولید گندم خود را به دلیل جمعیت بسیار زیاد مصرف می‌کنند.

۲۱- کدام کشورها هم در تولید گندم و هم برنج رتبه‌ی اول و دوم جهان را به خود اختصاص داده‌اند؟

« پاسخ »

چین و هند

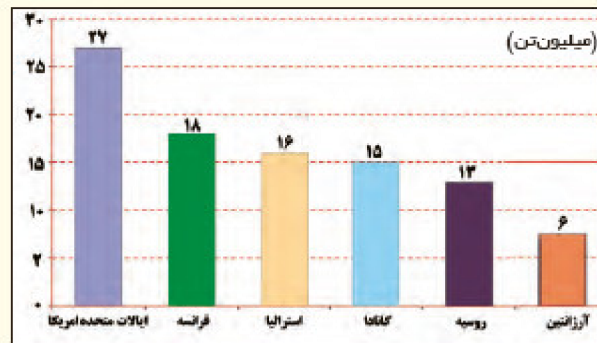
۲۲- با توجه به جداول تولیدکنندگان برنج و گندم، بین قاره‌های تولیدکننده این دو محصول چه تفاوتی وجود دارد؟ با استفاده از داده‌های جدول‌ها توضیح دهید.

ردیف	کشور	تولید گندم (میلیون تن)	مصرف گندم (میلیون تن)
۱	چین	۱۲۲	۱۲۳
۲	هند	۹۴	۹۳
۳	امریکا	۵۸	۲۴
۴	روسیه	۵۲	۳۵
۵	فرانسه	۳۹	۱۸
۶	کانادا	۳۸	۱۸
۷	آلمان	۲۵	۱۵
۸	پاکستان	۲۴	۲۳
۹	استرالیا	۲۳	۶
۱۰	اکراین	۲۳	۱۱

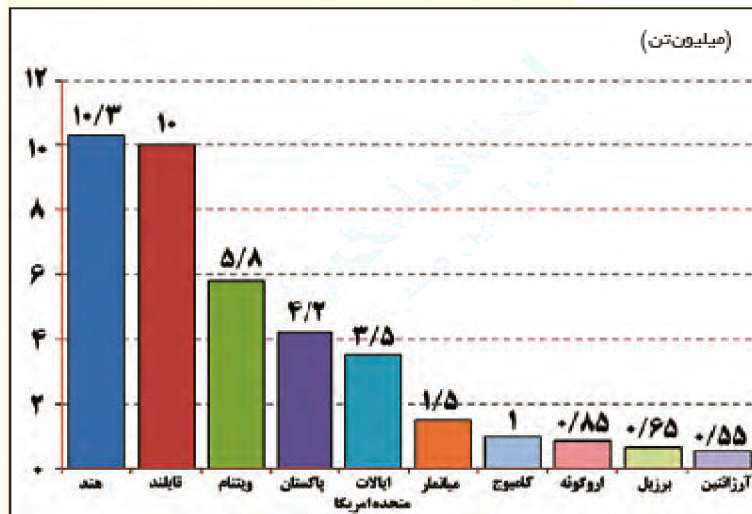
تولیدکنندگان عمده برنج جهان (۲۰۱۳-۲۰۱۲ میلادی)

ردیف	کشور	میزان تولید (میلیون تن)
۱	چین	۲۰۲
۲	هند	۱۵۵
۳	اندونزی	۶۵
۴	بنگلادش	۵۰
۵	ویتنام	۴۲
۶	تایلند	۳۴
۷	میانمار (برمه)	۳۲
۸	فیلیپین	۱۶
۹	برزیل	۱۳/۵
۱۰	پاکستان	۹/۲
۱۱	کامبوج	۸/۸
۱۲	ژاپن	۸/۴

مهم‌ترین صادرکنندگان گندم (۲۰۱۳ میلادی) گزارش شورای جهانی غلات



مهم‌ترین صادرکنندگان برنج (۲۰۱۳ میلادی)



« پاسخ »

از نظر پراکندگی جغرافیایی برنج بیشتر در جنوب، جنوب شرق و شرق آسیا تولید می‌شود ولی گندم در بیشتر کشورهای تولید می‌شود.

۲۳- فعالیت‌های بخش کشاورزی علاوه بر تأمین مواد غذایی، نیازهای بخش صنعت را نیز برطرف می‌کند. دست کم سه محصول کشاورزی مرتبط با بخش صنعت را نام ببرید؛ مثال: ابریشم.

« پاسخ »

- ۱- شیر و محصولات لبنی ماده اولیه برای صنایع غذایی است.
- ۲- دانه‌های روغنی مانند سویا ماده اولیه برای صنایع تولید روغن‌های خوراکی است.
- ۳- پنبه ماده اولیه برای صنایع ریسندگی و بافندگی است.

۲۴- یک مورد از محاسن و معایب هریک از انواع کشاورزی معیشتی و تجاری را بیان کنید.

« پاسخ »

معایب	محاسن	نوع شیوه کشت
وجود خطرهای زیاد برای دام‌ها و شبان‌ها در مسیر کوچ	تامین گوشت و لبنیات	گله‌داری شبانی
تخریب جنگل‌ها	تامین محصولات غذایی ساکنان حاشیه جنگل	کشت نوبتی (کوچنده)
مصرف آب زیاد	تامین غذای میلیاردها نفر در جهان از جمله چین و هند	کشت برنج آبی (غرقابی)
کم بودن میزان تولید محصول	تامین انواع محصولات زراعی موردنیاز مردم در روستا	کشت غله روستایی و دامداری
استفاده از وسایل ابتدایی و کم بودن تولید محصول	تامین مواد غذایی مردمان ساکنان نواحی استوایی	زراعت بدوی ساکن
تخریب شدید محیط زیست	تولید زیاد محصول کشاورزی	کشت غله تجاری
تخریب شدید محیط زیست	تولید زیاد محصولات دامی	دامداری تجاری
تخریب شدید محیط زیست	تولید بسیار زیاد محصول کشاورزی و صادرات آن به اغلب کشورهای جهان	پلانتیشن
تخریب شدید محیط زیست	تولید زیاد محصولات باغی مانند زیتون	باغداری تجاری
تخریب شدید محیط زیست	تولید زیاد محصولات کشاورزی	کشاورزی مدیترانه‌ای
تخریب شدید محیط زیست	تولید زیاد محصولات دامی	گله‌داری مزرعه‌ای

۲۵- به نظر شما، آیا امروزه فراهم کردن مواد غذایی مانند میوه و سبزیجات، گوشت قرمز، مرغ، تخم مرغ و لبنیات برای ساکنان شهرها از طریق کشاورزی معیشتی (غیرتجاری) در روستاها امکان پذیر است؟ درباره چند نمونه از محصولات کشاورزی و دامی که روزانه مصرف می کنید، پرس و جو کنید. این محصولات در کدام نوع کشاورزی تولید شده و به دست شما رسیده اند؟

« پاسخ »

روستاها نمی توانند به تنهایی مواد غذایی شهرها را تأمین کنند علت آن افزایش بی رویه جمعیت شهرها می باشد و افزایش نیاز شهرهای بزرگ به مواد غذایی بیشتر تر و روستاها با کشاورزی از طریق غیرتجاری توان تأمین نیازهای روزافزون شهرهای پرجمعیت را ندارند.

۲۶- در هریک از تصاویر زیر، کدام نوع کشاورزی معیشتی نشان داده شده است؟



انواع کشاورزی معیشتی (غیر تجاری)

« پاسخ »



کشت برنج آبی (غرقابی): تراسبندی مزارع برنج در آسیای موسمی روی دامنه‌های ملایم و مزارع کم‌وسعت اما پرمحصول، مانند مزارع برنج فیلیپین، تایلند و ...



کشت غله‌ی روستایی و دامداری: در نواحی سرد و خشک آسیا، دره‌های رودها در جنوب غربی آسیا و قسمتی از اروپا، کشت غلات، ارزن، لوبیا، سیب‌زمینی و ... توسط خانوار روستایی و پرورش گاو و گوسفند



گله‌داری شبانی: چرای شبانی و کوچک افراد و دام‌ها به منظور یافتن آب و علوفه در استپ‌ها، مانند بخش‌هایی از عربستان، ایران، آسیای مرکزی و جنوب غربی آسیا، ساوانا و ...

۲۷- آیا ممکن است در آینده، انسان از وابستگی به محیطی طبیعی بی‌نیاز شود؟

« پاسخ »

انسان در هیچ زمان و دوره‌ای از فضاهای جغرافیایی و طبیعت نمی‌تواند بی‌نیاز شود. انسان بخشی از طبیعت است و وابستگی شدیدی به طبیعت دارد و خواهد داشت. در حقیقت به دلیل افزایش نیازهای روزافزون انسان وابستگی انسان به طبیعت هر روز زیادتر می‌شود و در اثر افزایش نیازهای انسان، تخریب محیط بیش‌تر انجام می‌شود.

۲۸- چرا شکل‌گیری نظام اقتصادی در جوامع، همواره به رابطه‌ی انسان و محیط طبیعی وابسته است؟

« پاسخ »

شکل‌گیری نظام‌های اقتصادی در خلاء انجام نمی‌شود بلکه در سطح زمین در جایی که انسان و طبیعت با هم در ارتباط هستند به وجود می‌آید.

۲۹- آیا همواره هر جامعه دارای یک نظام اقتصادی است؟ چرا؟

« پاسخ »

نظام‌های اقتصادی جوامع یکی نیست و در حال تغییر است. به دلیل افزایش نیازهای جوامع

۳۰- فعالیت‌های اقتصادی را که در تصاویر زیر می‌بینید به چند گروه یا بخش طبقه‌بندی کنید.



« پاسخ »

فعالیت‌ها را می‌توان به ۴ گروه تقسیم کرد:

- ۱- فعالیت‌های نوع اول (کشاورزی) ۲- فعالیت‌های نوع دوم (صنعت) ۳- فعالیت‌های نوع سوم (خدمات) ۴-
- فعالیت‌های نوع چهارم

۳۱- تصاویر زیر فعالیت‌های اقتصادی را در نواحی مختلف جهان نشان می‌دهد. هر تصویر کدام عنصر تعریف اقتصاد را نشان می‌دهد؟



« پاسخ »



صنعت (فعالیت های نوع دوم)

کشاورزی (فعالیت های نوع اول)



خدمات (فعالیت های نوع سوم)

خدمات (فعالیت های نوع سوم)

صنعت (فعالیت های نوع دوم)



فعالیت های نوع چهارم

خدمات (فعالیت های نوع سوم)

۳۲- کدام گزینه درباره عبارت‌های زیر است؟

- الف) بخش عمده غذای مردم این نواحی را غلات تشکیل می‌دهد.
 ب) بیشتر برنج دنیا در این نواحی کشت می‌شود.
 پ) این روش‌ها تولید کشاورزی را چند برابر افزایش داد.
 ۱) شمال غربی آسیا - آسیای شرقی - بذرهای اصلاح شده
 ۲) فیلیپین، مالزی - آمریکای مرکزی - کودهای شیمیایی
 ۳) آسیای، افریقایی - آسیای شرقی و جنوب شرقی - روش‌های علمی و ماشین‌آلات
 ۴) آسیای جنوب شرقی - آفریقا و آمریکا - بذرهای اصلاح شده و کودهای حیوانی

« پاسخ »

گزینه ۳ پاسخ صحیح است.

۳۳- خودکفایی فیلیپین در تولید برنج و ایجاد دامداری‌های تجاری در کنار مزارع غله تجاری، به ترتیب معلول چیست؟

- ۱) روی آوردن به کشت تک‌محصولی - استفاده بهینه از منابع آبی
 ۲) روی آوردن به کشت تک‌محصولی - استفاده از بقایای محصولات کشاورزی برای تغذیه دام‌ها
 ۳) انقلاب سبز - استفاده از بقایای محصولات کشاورزی برای تغذیه دام‌ها
 ۴) انقلاب سبز - استفاده بهینه از منابع آبی

« پاسخ »

گزینه ۳ پاسخ صحیح است. از دهه ۱۹۷۰ میلادی با انقلاب سبز، برخی کشورها موفق شدند تولید کشاورزی خود را به چند برابر افزایش دهند که از جمله این کشورها می‌توان به فیلیپین و پاکستان اشاره کرد که در زمینه تولید برنج به خودکفایی رسیدند.
 - ممکن است دامداری‌های تجاری در کنار مزارع بزرگ غله تجاری ایجاد شوند و از بقایای محصولات کشاورزی برای تغذیه دام استفاده کنند.

۳۴- در کدام مورد ارتباط میان فعالیت اقتصادی و نوع آن به درستی بیان شده است؟

- ۱) استخراج سنگ آهن ← نوع اول، عرضه مواد غذایی در فروشگاه ← نوع سوم، تبدیل نیشکر به حبه قند ← نوع دوم
 ۲) تولید و تصفیه نمک ← نوع اول، زراعت و باغداری ← نوع اول، اتصال قطعات بدنه اتومبیل ← نوع دوم
 ۳) ارائه خدمات در مجتمع‌های رفاهی ← نوع سوم، تهیه و تولید محصولات غذایی ← نوع اول، پردازش اطلاعات ← نوع چهارم
 ۴) صید ماهی ← نوع اول، تبدیل چرم به کیف ← نوع دوم، حمل و نقل ← نوع چهارم

« پاسخ »

گزینه ۱ پاسخ صحیح است.

استخراج معادن ← فعالیت اقتصادی نوع اول است.
 عرضه مواد غذایی در فروشگاه ← فعالیت اقتصادی نوع سوم است.
 تبدیل نیشکر به قند ← فعالیت اقتصادی نوع دوم است.

۳۵- کدام جمله با مفهوم «پلانتیشن» مطابقت بیشتری دارد؟

- (۱) به مزارع تک محصولی تخصصی گفته می‌شود که توسط شرکت‌های آمریکایی و اروپایی اداره می‌شوند.
- (۲) به مزارع نواحی استوایی گفته می‌شود که در نزدیکی ساحل دریاها واقع شده‌اند.
- (۳) زمین‌های وسیع کشاورزی که به تولید یک محصول خاص اختصاص دارند.
- (۴) به محصولات استوایی مانند آناناس، موز و قهوه گفته می‌شود که در مزارع وسیع پرورش داده می‌شوند.

« پاسخ »

گزینه ۳ پاسخ صحیح است. مفهوم پلانتیشن به زمین‌های وسیع کشاورزی گفته می‌شود که به تولید یک محصول خاص اختصاص پیدا کرده‌اند.

۳۶- کدام مورد، نمونه‌هایی از فعالیت‌های نوع سوم را بیان می‌کند؟

- (۱) جمع‌آوری اطلاعات - تولید کالاهای ضروری - امور درمانی - خرید و فروش
- (۲) امور آموزشی - پژوهش و تحقیق امور پزشکی - تجارت
- (۳) خرید و فروش کالا - حمل و نقل - پردازش اطلاعات - امور آموزشی
- (۴) تجارت - امور قضایی - حمل و نقل - بانکداری

« پاسخ »

گزینه ۴ پاسخ صحیح است. در فعالیت‌های نوع سوم، انواعی از خدماتی به دیگران ارائه می‌شود. مانند حمل و نقل، بانکداری، امور پزشکی، قضایی، خرید و فروش، تجارت و ...

۳۷- چند مورد از عبارات زیر بیانگر ویژگی‌های صنایع نو محسوب می‌شود؟

- ایجاد پارک‌های علمی و فناوری، نقش موثری در گسترش این صنایع دارد.
 - با فعالیت‌های اقتصادی نوع چهارم ارتباط نزدیکی دارند.
 - معمولاً موجب پیدایش برج‌های عظیم با طراحی و معماری مشابهی در شهرها شده‌اند.
 - تولید انواع روبات و مهندسی پزشکی از جمله این نوع صنایع محسوب می‌شود.
- (۱) ۱ (۲) ۲ (۳) ۳ (۴) ۴

« پاسخ »

گزینه ۳ پاسخ صحیح است. گسترش پارک‌های علمی و فناوری، ارتباط نزدیک با فعالیت‌های نوع چهارم و تولید انواع روبات و مهندسی پزشکی از جمله ویژگی‌های صنایع نو محسوب می‌شود. پیدایش برج‌های عظیم مربوط به بخش خدمات است.

۳۸- با توجه به نقشه، در کدام قسمت جهان «محصولات پلانتیشن» کشت می‌شود؟



(۱) الف (۲) ب (۳) ج (۴) د

« پاسخ »

گزینه ۱ پاسخ صحیح است. محصولات استوایی در مزارعی که به پلانتیشن معروف است، پرورش داده می‌شود. مزارع محصولات خاص نواحی گرم و مرطوب استوایی در کشورهای مجاور استوا در قاره‌های آسیا، آفریقا و آمریکای جنوبی قرار دارند.

۳۹- کدام گزینه به ترتیب درست (ص) یا نادرست (غ) بودن عبارتهای زیر را در مورد «کشت غله‌ی تجاری» به درستی نشان می‌دهد؟

(الف) ۴۰ درصد تولید ذرت جهان در کشور روسیه و آمریکا است.

(ب) در کشورهای آسیایی و آفریقایی، بخش عمده‌ی غذای مردم را غلات تشکیل می‌دهد.

(ج) بیش‌تر برنج دنیا در قاره‌ی آسیای شرقی و جنوب شرقی کشت می‌شود.

(د) معمولاً از بقایای برداشت غلات برای خوراک دام استفاده می‌شود.

(۱) غ - ص - ص - غ (۲) ص - غ - ص - ص (۳) غ - ص - ص - ص (۴) ص - ص - ص - ص

« پاسخ »

گزینه ۱ پاسخ صحیح است. بررسی عبارت نادرست:

(الف) ۴۰٪ تولید ذرت جهان در ایالات متحده‌ی آمریکا است.

۴۰- کدام گزینه کشورهای مهم دارای «کشت گندم بالای ۹۰ میلیون تن» را به درستی نشان می‌دهد؟

(۱) روسیه - استرالیا (۲) چین - هند (۳) آلمان - ترکیه (۴) کانادا - فرانسه

« پاسخ »

گزینه ۲ پاسخ صحیح است. چین و هند بین ۹۰ تا ۱۴۰ میلیون تن تولید گندم دارند.

۴۱- با توجه به نقشه، کدام قسمت‌ها از مهم‌ترین نواحی صنعتی جهان هستند؟



- (۱) الف - د (۲) ج - ب (۳) ج - و (۴) د - ب

« پاسخ »

گزینه ۱ پاسخ صحیح است. مهم‌ترین نواحی صنعتی جهان: ۱- آمریکای شمالی ۲- اروپای غربی ۳- شرق، جنوب و جنوب شرقی آسیا ۴- روسیه و اروپای شرقی

۴۲- در کدام گزینه به ترتیب مثالی برای فعالیت‌های اقتصادی «نوع سوم»، «نوع دوم» و «نوع اول» آورده شده است؟

- (۱) امور آموزشی - تولیدات لباس - خرید و فروش
(۲) حمل و نقل - صید ماهی - تجارت
(۳) خرید و فروش - تولید کفش - استخراج معدن
(۴) تولیدات صنایع - زراعت - خرید و فروش

« پاسخ »

گزینه ۳ پاسخ صحیح است. فعالیت‌های نوع سوم (خدمات) ← حمل و نقل، خرید و فروش، تجارت و امور آموزشی و ...

فعالیت‌های نوع دوم (صنعت) ← تولید کفش، لباس و صنایع
فعالیت‌های نوع اول (کشاورزی) ← استخراج معدن، صید ماهی و دام‌پروری

۴۳- با توجه به طبقه‌بندی فعالیت‌های اقتصادی، نوع فعالیت موارد «الف»، «ب»، «ج» و «د» را مشخص کنید.

- الف - استخراج سنگ از معدن
ب - حمل و نقل سنگ به سمت کارخانه‌ها
ج - ساخت کاشی در کارخانه
د - خرید و فروش کاشی‌ها در بازار

- (۱) الف - نوع اول ب - نوع سوم ج - نوع دوم د - نوع سوم
(۲) الف - نوع دوم ب - نوع سوم ج - نوع سوم د - نوع دوم
(۳) الف - نوع دوم ب - نوع سوم ج - نوع سوم د - نوع سوم
(۴) الف - نوع اول ب - نوع دوم ج - نوع دوم د - نوع سوم

« پاسخ »

گزینه ۱ پاسخ صحیح است. مورد (الف) به دلیل استخراج مواد خام یا محصول زمین یا دریا از نوع اول است. مورد (ب) به دلیل خدمات حمل و نقل محصولات از نوع سوم، مورد (ج) به دلیل تولید و تغییر شکل یک محصول به کاشی و فرآورده‌ها از نوع دوم. و مورد (د) به دلیل خرید و فروش کالاها از نوع سوم محسوب می‌شوند.

- ۴۴- پاسخ گزاره‌های زیر دربارهٔ بخش صنعت، به ترتیب، کدام است؟
- الف) از مهم‌ترین نواحی صنعتی شرق، جنوب و جنوب شرقی آسیا است.
 ب) ناحیهٔ صنعتی ایالات متحده از این کوه‌ها گسترش یافته است.
 ج) مهم‌ترین نواحی صنعتی اروپا در این بخش قاره واقع شده‌اند.
 د) نواحی صنعتی ایالات متحده بیشتر در این قسمت قرار گرفته‌اند.
- (۱) ژاپن - آند - غرب - شرق
 (۲) چین - آپالاش - شمال غرب - شمال شرق
 (۳) ژاپن - آپالاش - غرب - شمال شرق
 (۴) چین - آند - شمال غرب - شرق

« پاسخ »

گزینه ۲ پاسخ صحیح است. الف) ژاپن / ب) آپالاش / ج) غرب / د) شمال شرق

- ۴۵- کدام مورد، با توجه به «طبقه‌بندی فعالیت‌های اقتصادی»، منطبق با نمونه‌ای از «فعالیت‌های نوع اول» است؟
- (۱) انتقال مواد پتروشیمی به وسیله‌ی کشتی‌های فله‌بر
 (۲) جابه‌جایی گردشگران با استفاده از کشتی‌های کروز
 (۳) حمل کالاهای فاسدشدنی به وسیله حمل‌ونقل هوایی
 (۴) سم‌پاشی مزارع کشاورزی از طریق حمل‌ونقل هوایی

« پاسخ »

گزینه ۴ پاسخ صحیح است. فعالیت‌های اقتصادی نوع اول به فعالیت‌هایی گفته می‌شود که با استخراج و به دست آوردن مواد خام یا محصول از زمین یا دریا سروکار دارند؛ مانند زراعت، دام‌پروری، صید ماهی، جنگل‌داری و استخراج معدن.

- ۴۶- در کدام گزینه، هدف کشاورزی «معیشتی» به درستی بیان شده است؟
- الف) عرضه‌ی محصولات زراعی و دامی در بازارهای محلی
 ب) استفاده از اراضی وسیع محلی و تولید محصول در حد مصرف خانوار
 ج) کسب درآمد و اداره‌ی مزارع به صورت اتحادیه‌های بزرگ
 د) رفع نیاز خانوار و کسب سود اقتصادی در مقیاس محدود
- (۱) ب و ج
 (۲) ج و د
 (۳) الف و ب
 (۴) الف و د

« پاسخ »

گزینه ۴ پاسخ صحیح است. در کشاورزی معیشتی، تولید محصول یا پرورش دام بیش‌تر در حد مصرف خانوار کشاورز یا فروش محلی صورت می‌گیرد و میزان تولید و سود اقتصادی، کم است.

- ۴۷- چند مورد از جملات زیر در ارتباط با پلانٹیشن‌ها نادرست است؟
- الف) استفاده مداوم از کودها و آفت‌کش‌های شیمیایی، در پلانٹیشن‌ها به محیط‌زیست آسیب رسانده است.
- ب) بیشتر پلانٹیشن‌های نواحی استوایی در نزدیکی ساحل دریاها واقع شده است.
- پ) امروزه اکثر صاحبان مزارع پلانٹیشن، کشاورزان محلی هستند.
- ت) در کشت تک محصولی، خطر فرسایش و ضعیف شدن خاک زیاد است.
- ۱) دو (۲) سه (۳) چهار (۴) یک

« پاسخ »

- گزینه ۴ پاسخ صحیح است.
- پ) امروزه صاحبان اغلب مزارع تک محصولی تخصصی (پلانٹیشن‌ها) شرکت‌های بزرگ به ویژه شرکت‌های چندملیتی هستند.

- ۴۸- پاسخ هر یک از سؤال‌های زیر به ترتیب در کدام گزینه به درستی ذکر شده است؟
- الف) کدام مورد از جمله محصولات کشاورزی پلانٹیشن نمی‌باشد؟
- ب) کدام مورد جزء مناطقی نیست که مزارع محصولات خاص در آن وجود دارد؟
- ج) اولین پلانٹیشن‌های آمریکا در کدام قسمت این قاره احداث شدند؟
- ۱) الف) نخل روغنی ب) گرم و مرطوب استوایی ج) جنوب کانادا
- ۲) الف) قهوه ب) کشورهای مجاور استوا در آفریقا ج) جنوب ایالات متحده آمریکا
- ۳) الف) موز ب) کشورهای مجاور استوا در آفریقا ج) جنوب کانادا
- ۴) الف) نارنگی ب) کشورهای مجاور استوا در آمریکای شمالی ج) جنوب ایالات متحده آمریکا

« پاسخ »

- گزینه ۴ پاسخ صحیح است.
- الف) نارنگی از مرکبات است و جزء محصولات پلانٹیشن محسوب نمی‌شود.
- ب) آمریکای شمالی در مجاورت استوا نیست.
- ج) برخی از تاجران ثروتمند، مزارع پلانٹیشن را در جنوب ایالات متحده احداث کردند.

۴۹- صحیح یا غلط بودن هر یک از عبارتهای زیر در کدام گزینه به ترتیب به درستی مشخص شده است؟
الف) بخشی از فعالیتهای اقتصادی که فراهم کننده خدمات مربوط به جمع آوری و پردازش اطلاعات است، جزء فعالیتهای نوع سوم محسوب می شود.

ب) کشاورزی تجاری هم در کشورهای پیشرفته و هم در کشورهای کمتر توسعه یافته جهان رواج دارد.

پ) امنیت غذایی جزء اهداف و برنامه های مهم همه کشورهای محسوب می شود.

ت) شکل گیری نظام اقتصادی در جوامع، همواره به رابطه انسان و محیط طبیعی وابسته است.

ث) خرید و فروش، تجارت و مانند آن جزء فعالیتهای نوع دوم محسوب می شوند.

ج) از دهه ۱۹۸۰ میلادی، فعالیتهای اقتصادی به سه بخش عمده تقسیم شد.

(۱) غ - ص - غ - ص - ص - غ

(۲) ص - غ - غ - غ - غ - ص

(۳) غ - ص - ص - ص - غ - غ

« پاسخ »

گزینه ۳ پاسخ صحیح است.

الف) بخشی از فعالیتهای اقتصادی که فراهم کننده خدمات مربوط به جمع آوری و پردازش اطلاعات و فناوریهای اطلاعاتی و ارتباطی (ICT) و پژوهش و تحقیق و توسعه است مربوط به فعالیتهای نوع چهارم است.

ث) خرید و فروش، تجارت و مانند آن جزء فعالیتهای نوع سوم (خدمات) محسوب می شوند.

ج) از دهه ۱۹۸۰ میلادی یک بخش دیگر به بخشهای قبلی افزوده شد و فعالیتهای نوع چهارم، نام گرفت. به عبارت دیگر، امروزه فعالیتهای را به چهار گروه یا بخش تقسیم می کنند.

۵۰- به ترتیب هر یک از موارد زیر مرتبط با کدام نواحی کشاورزی در جهان است؟

الف) این نوع کشت به سرمایه بسیار نیاز دارد.

ب) میزان تولید محصول در این نوع کشت کم است.

پ) این نوع کشاورزی به دنبال رشد جمعیت در جهان گسترش یافته است.

ت) سود اقتصادی در این نوع کشت کم است.

(۱) معیشتی - تجاری - تجاری - معیشتی

(۲) معیشتی - تجاری - تجاری - معیشتی

(۳) تجاری - معیشتی - معیشتی - تجاری

(۴) تجاری - معیشتی - معیشتی - تجاری

« پاسخ »

گزینه ۴ پاسخ صحیح است.

الف) تجاری (ب) معیشتی (پ) تجاری (ت) معیشتی