

# استادبانک



نمونه سوالات همراه با جواب و

گام به گام کتاب‌های درسی

به طور کامل رایگان در

اپلیکیشن استادبانک

به جمع ده‌ها هزار کاربر اپلیکیشن رایگان استادبانک پیوندید.

[لینک دریافت اپلیکیشن نمونه سوالات استادبانک \(کلیک کنید\)](#)

\* برای مشاهده نمونه سوالات دانلود شده به صفحه بعد مراجعه کنید.

۱- همفکری کنید و با مراجعه به یک اطلس، دست کم دو نمونه مرزهای نواحی طبیعی را که با مرزهای اداری و سیاسی (در ایران یا جهان) منطبق نیستند، مشخص و در کلاس بیان کنید.

« پاسخ »

نمونه‌ی اول: مرزهای صحرای بزرگ آفریقا با نواحی سیاسی منطبق نیست و در بیش از ۱۰ کشور آفریقای شمالی قرار دارد.

نمونه‌ی دوم: مرز جنگل‌های استوایی با نواحی سیاسی منطبق نیست و این جنگل‌ها در کشورهایی مانند برزیل و اندونزی و کنگو قرار دارند.

نمونه‌ی سوم: مرز نواحی قوم پشتون که در دو کشور افغانستان و پاکستان قرار دارد.

نمونه‌ی چهارم: مرز بیابان لوت با مرز استان‌ها منطبق نیست و در استان‌های خراسان جنوبی و کرمان و سیستان و بلوچستان قرار دارند.

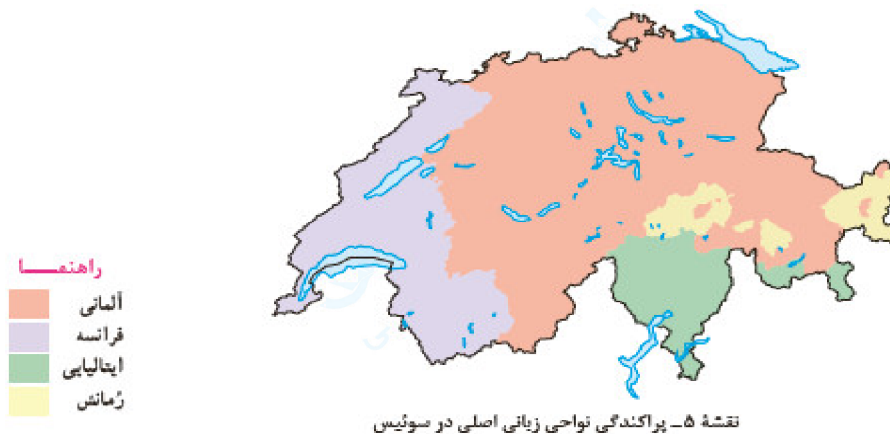
۲- با بررسی نقشه‌های ۱ تا ۷ درس اول، درباره‌ی وسعت و مرزهای نواحی چه می‌فهمید؟ توضیح دهید.

« پاسخ »

وسعت نواحی بسیار با هم متفاوت هستند. بعضی از نواحی پهناورند و بعضی از نواحی وسعت کمی دارند. مثلاً ناحیه بارشی داخلی بسیار وسیع‌تر از ناحیه‌ی بارشی خزر غربی است.

مرزها هم بسیار با هم متفاوتند. بعضی از مرزها، مرزهای انسانی هستند مانند مرز قومیت‌ها در افغانستان، مرز نواحی زبانی در سوئیس، مرز نواحی صنعتی در اروپا و مرز نواحی دینی در هند و بعضی از مرزها، مرزهای طبیعی هستند مانند مرز زیست‌بوم جنگل‌های تایگا و جنگل‌های استوایی، مرز بین انواع خاک در کانادا و مرز نواحی بارشی در ایران

۳- با استفاده از یک اطلس و مشاهده‌ی موقعیت نسبی کشور سوئیس و کشورهای مجاور آن، توضیح دهید چرا در سوئیس چهار ناحیه‌ی زبانی وجود دارد.



« پاسخ »

با توجه به نقشه متوجه می‌شویم که سوئیس در بین چهار کشور آلمان (شمال سوئیس)، فرانسه (در غرب سوئیس)، ایتالیا (در جنوب سوئیس) و رومانی (در شرق سوئیس) قرار دارد و این چهار کشور دارای زبان‌های آلمانی، فرانسوی، ایتالیایی و رومانش می‌باشند و کشور سوئیس کشور کوچکی است در بین این چهار کشور و با توجه به موقعیت جغرافیایی چهار کشور همسایه سوئیس در شمال و مرکز کشور سوئیس، زبان آلمانی و در غرب، زبان فرانسوی و در جنوب، زبان ایتالیایی و در شرق، زبان رومانیایی وجود دارد.

۴- به نظر شما، آیا می‌توانیم قاره‌ها (مثلاً قاره‌ی آسیا یا آفریقا) را یک ناحیه بدانیم؟ چرا؟ دلیل بیاورید و پاسخ خود را توضیح دهید.

« پاسخ »

اگر معیارهای طبیعی انتخاب کنیم قاره‌ها ناحیه محسوب نمی‌شوند. قاره‌ها یکپارچه نیستند و از نظر اقلیم و خاک و ویژگی‌های انسانی دارای وحدت و همگونی نسبی نمی‌باشند. ولی براساس بعضی از معیارهای اقتصادی می‌توان آن‌ها را ناحیه به حساب آورد. مثلاً آفریقا به دلیل عقب‌ماندگی اقتصادی که در همه قاره تقریباً مشاهده می‌شود را می‌توان یک ناحیه عقب‌مانده به حساب آورد.

۵- آیا لزوماً مرزهای نواحی طبیعی و انسانی با مرزهای اداری و سیاسی منطبق‌اند؟

« پاسخ »

مرزهای نواحی طبیعی و انسانی با مرزهای اداری و سیاسی منطبق نمی‌باشند زیرا مرزهای انسانی و طبیعی در زمین قابل مشاهده و مرزبندی نمی‌باشند.

۶- الف) در نقشه‌ی زیر، کشورهای افغانستان و پاکستان چگونه از هم جدا شده‌اند؟  
ب) کدام ناحیه‌ی انسانی در هر دو کشور گسترده شده است؟



« پاسخ »

الف) این دو کشور به وسیله مرزهای بین‌المللی از هم جدا شده‌اند.  
ب) ناحیه‌ی انسانی پشتون‌ها در هر دو کشور افغانستان و پاکستان قرار دارند.

۷- الف) در نقشه‌ی زیر، استان‌های سیستان و بلوچستان، کرمان و خراسانی جنوبی چگونه از هم جدا شده‌اند؟ (ب) کدام ناحیه‌ی طبیعی در این سه استان گسترده شده است؟



« پاسخ »

الف) این سه استان به وسیله‌ی مرزهای داخلی (مرز استان‌ها) از هم جدا شده‌اند.  
ب) بیابان لوت در هر سه استان قرار دارد.

۸- الف) با مطالعه‌ی متن ۴ (نواحی تحت تأثیر تصمیم‌گیری‌های سیاسی حکومت‌ها هستند) چه نکاتی را دریافتید؟ (ب) تصمیم‌های حکومتی ممکن است موجب حفظ، تغییر یا تخریب نواحی طبیعی و انسانی شود. برای هر یک، مثالی ارائه کنید.

« پاسخ »

الف) حکومت‌ها و تصمیم‌گیری‌های سیاسی به شدت بر نواحی تأثیر می‌گذارند.  
ب) تصمیم‌گیری حکومت‌ها موجب حفظ، تغییر یا تخریب نواحی طبیعی و انسانی می‌شود. مثلاً احداث سد‌های متعدد توسط دولت در ایران در طول چند دهه اخیر موجب ایجاد مشکلات فراوانی شده است و یا احداث صنایع فولاد در داخل کشور موجب خشک شدن رودها و دریاچه‌ها و تالاب‌ها شده‌اند و این فعالیت‌ها موجب تخریب نواحی طبیعی شده‌اند.

۹- الف) با مشاهده‌ی نقشه‌های طبیعی یک اطلس، توضیح دهید که احداث راه‌آهن در افغانستان و نپال دشوارتر است یا آلمان و فرانسه. چرا؟  
ب) با توجه به این موضوع، از تأثیر نواحی طبیعی بر فعالیت‌های انسانی چه برداشتی دارید؟

« پاسخ »

الف) احداث راه‌آهن در افغانستان و نپال به دلیل کوهستانی بودن این دو کشور کار بسیار مشکلی است ولی در آلمان و فرانسه به دلیل آن که بیشتر تر و سعتشان دشت‌ها می‌باشند احداث راه‌آهن کار آسان‌تری است.  
ب)؟؟

۱۰- تغییر در یک ناحیه‌ی طبیعی - مانند جنگل‌های بارانی آمازون - چه تأثیری بر سایر نواحی دارد؟

« پاسخ »

تخریب ناحیه جنگل‌های بارانی آمازون تأثیرات زیادی بر دیگر نواحی دارد. یکی از پیامدهای تخریب این جنگل‌ها افزایش دمای کره زمین است.

۱۱- آیا کنش متقابل و وابستگی نواحی در جهان امروز نسبت به گذشته شدت بیش‌تری یافته است؟ چرا؟

« پاسخ »

کنش متقابل و وابستگی نواحی در جهان امروز به دلیل گسترش ارتباطات و افزایش نیازهای انسان بیش‌تر شده است.

۱۲- آیا در گذشته‌های دور نیز نواحی از نظر اقتصادی با یک‌دیگر در ارتباط بوده‌اند؟

« پاسخ »

در گذشته‌های دور نواحی اقتصادی با یک‌دیگر مانند امروز در ارتباط نبودند به دلیل ضعیف بودن ارتباطات بین نواحی.

۱۳- متن بریده‌ی روزنامه‌های زیر را بخوانید و چند مورد از مبادلات و روابط اقتصادی نواحی را توضیح دهید.

با افت قیمت غله به ویژه ذرت و سویا در بازارهای جهانی، ارزش زمین‌های کشاورزی در ناحیه میدوست (غرب میانه) ایالات متحده آمریکا کاهش یافت و این امر موجب نارضایتی و بدهکاری کشاورزان شد.

واردات نفت ژاپن از ایران در سال ۲۰۱۴ میلادی با رشد ۲۱ درصدی به ۲۶۰ هزار بشکه در روز رسید.

تیمبرهای امروز  
کشورهای عضو اتحادیه اروپا روزانه بیش از یک میلیارد دلار برای واردات انرژی نفت و گاز هزینه می‌کنند.

۱۳۹۵  
اجلاس گفت‌وگوهای فرهنگی ایران و جهان عرب برگزار شد.

در پیمان کیوتو که کشورها برای کاهش صدور گازهای گلخانه‌ای به جو امضا کرده‌اند...

۱۳۸۷  
موافقت نامه فرهنگی بین ایران و چین امضا شد. مبادله هیئت‌های فرهنگی و مؤسسات انتشاراتی

بالا رفتن قیمت برنج وارداتی آسیا، نگرانی کشورهای واردکننده را در زمینه تغذیه مردم افزایش داده است.

بنا به اعلام قانو، وقوع خشکسالی در استرالیا و یخ‌بندان زود هنگام در آرژانتین به تولید غله جهانی صدمه زد. کاهش تولید غله و گرانی آن، شورش‌ها و تظاهراتی را در سنگال، بوركینافاسو و ... به دنبال داشت.

« پاسخ »

مثال اول: بین ایران و ژاپن ارتباط اقتصادی نزدیکی وجود دارد و ایران نفت خود را به این کشور صادر می‌کند.  
مثال دوم: در پیمان کیوتو کشورهای عضو پیمانی را امضا کرده‌اند و برای جلوگیری از ورود گازهای گلخانه‌ای باید تلاش کنند.  
مثال سوم: بین کشورهای اتحادیه اروپا با دیگر کشورهای نفت‌خیز ارتباط وجود دارد و این کشورها روزانه بیش از یک میلیارد دلار برای واردات نفت و گاز هزینه می‌کنند.

۱۴- تصاویر زیر را تفسیر کنید و بگویید شرایط طبیعی هر ناحیه چگونه بر فعالیت‌های انسان تأثیر گذاشته است.



احداث تونل و پل برای عبور قطار در ناحیه‌ای کوهستانی و برف‌گیر - سوئیس



به کارگیری ماشین برف‌روب مجهز به جی‌پی‌اس جاده‌ای برای پاک‌سازی جاده‌ها - کانادا



استفاده از صفحه‌های خورشیدی - اداره برق سمنان



صید ماهی - فیلیپین

« پاسخ »

فضای جغرافیایی بر چگونگی فعالیت‌های انسان اثر دارد. مثلاً در ایران به دلیل گسترش بیابان‌ها در آینده می‌توان از انرژی خورشیدی، برق تولید کرد و حتی بتوان برق به دیگر کشورها صادر کرد ولی این امکان برای کشورهای اروپایی امکان‌پذیر نیست.

۱۵- برای موضوع متن شماره‌ی ۱ (انسان‌ها نواحی را به وجود می‌آورند) مثال دیگری ارائه کنید.

« پاسخ »

انسان‌ها نواحی انسانی را در بستر محیط طبیعی ایجاد می‌کنند. مثلاً ناحیه صنعتی بین تهران و کرج.

۱۶- در ارتباط با مفهوم «کانون ناحیه» کدام گزینه نادرست است؟

- (۱) بیش‌تر عوامل وحدت و همگونی در کانون ناحیه وجود دارد.
- (۲) کاهش عوامل همگونی یک ناحیه به موازات حرکت به سمت مرزهای آن ناحیه رخ می‌دهد.
- (۳) ساوان یک ناحیه‌ی انتقالی بین جنگل‌های بارانی استوایی و صحرای بزرگ آفریقا است.
- (۴) گرما و رطوبت هوا در حاشیه‌ی ناحیه‌ی صحرا منجر به ایجاد استپ‌های بیابانی شده است.

« پاسخ »

گزینه ۴ پاسخ صحیح است. در حاشیه‌ی صحرا به علت خشکی هوا، علفزارهای کوتاه‌قد به استپ بیابانی تبدیل می‌شوند.

۱۷- کدام گزینه به‌ترتیب صحیح یا غلط بودن عبارت‌های زیر را به درستی مشخص می‌کند؟

- الف) در ناحیه‌ی جنگل‌های بارانی استوایی، باران در تمام سال وجود دارد.
- ب) هر چه به سمت بیابان صحرا پیش می‌رویم، علف‌های ساوان بلندتر و انبوه‌تر می‌شوند.
- پ) مراتع مداری، در حاشیه‌ی صحرا به علت خشکی هوا به استپ‌های بیابانی تبدیل می‌شوند.
- ت) با حرکت به سمت مرکز هر ناحیه به تدریج از تمرکز و تعداد کارگاه‌ها و کارخانه‌ها کاسته می‌شود؛ تا این‌که سرانجام در ناحیه‌ی مجاور دیگر اثری از آن‌ها نمی‌بینیم.

(۱) ص - غ - ص (۲) غ - ص - غ (۳) ص - غ - غ (۴) ص - غ - ص - غ

« پاسخ »

گزینه ۴ پاسخ صحیح است. هر چه از کانون یک ناحیه‌ی جغرافیایی دور شویم از عوامل همگونی آن ناحیه کاسته می‌شود. تشریح گزینه‌های نادرست:

- ب) هر چه به سمت بیابان صحرا پیش می‌رویم، بارندگی کم‌تر و علف‌های ساوان کوتاه‌تر و تنک‌تر می‌شوند.
- ت) هر چه از کانون ناحیه، دور و به مرزهای ناحیه‌ی مجاور نزدیک‌تر شویم، از تمرکز و تعداد کارگاه‌ها و کارخانه‌ها کاسته می‌شود، تا این‌که سرانجام در ناحیه‌ی مجاور، دیگر اثری از آن‌ها نمی‌بینیم.

۱۸- صحیح یا غلط بودن گزاره‌های زیر در کدام گزینه به‌ترتیب به درستی مشخص شده است؟

- الف) مرزهای سیاسی و اداری معمولاً بر مرزهای طبیعی و انسانی منطبق هستند.
- ب) در نواحی طبیعی و اداری مرز نواحی دشوارتر از نواحی انسانی است.
- پ) امروزه همه‌ی نواحی طبیعی یا انسانی جهان، تحت مدیریت نهادهای سیاسی و اداری قرار دارند.
- ت) در بخشی که در مجاورت مرز ایالات متحده آمریکا و مکزیک قرار دارد، زبان انگلیسی و فرانسوی رواج دارد.

(۱) ص - غ - ص (۲) غ - ص - غ (۳) غ - ص - غ (۴) ص - ص - غ - غ

« پاسخ »

گزینه ۲ پاسخ صحیح است. تشریح عبارت‌های نادرست:

- الف) مرزهای سیاسی و اداری معمولاً بر مرزهای طبیعی و انسانی منطبق نیستند.
- ب) در نواحی انسانی تعیین مرز نواحی، دشوارتر از نواحی طبیعی است.
- ت) در بخشی که در مجاورت مرز ایالات متحده آمریکا و مکزیک قرار دارد، زبان انگلیسی و اسپانیایی (مختلط) رواج دارد.



۱۹- با توجه به تصاویر زیر به ترتیب:



(۲)



(۱)

- تصاویر (۱ و ۲) مربوط به چه ناحیه‌ای از سطح زمین هستند و کدام عبارت در رابطه با آن‌ها درست است؟
- (۱) ۱ بندری در یونان، ۲ بازاری در تایلند - ۱ یک ناحیه‌ی ساحلی با فعالیت‌های مربوط به تجارت و گردشگری و وجود شهری با نقش بندی در کنار دریا
  - (۲) ۱ بندری در ایتالیا، بازاری در چین - ۱ شیوه‌ی خاص فروش کالا، ناحیه‌ای تجاری و گردشگری به وجود آورده است که تقریباً همه‌ی گردشگران خارجی از آن بازدید می‌کنند.
  - (۳) ۱ بندری در یونان، ۲ بازاری در چین - ۲ از بازهای شناور جالب توجه در شمال شرقی آسیا می‌باشد.
  - (۴) ۱ بندری در ایتالیا، بازاری در تایلند - ۲ منطقه‌ای با قابلیت جذب جمعیت زیاد و فعالیت‌های مربوط به حمل و نقل بار و مسافر

## « پاسخ »

گزینه ۱ پاسخ صحیح است.

تصویر ۱: (بندر پیرائوس - یونان) یک ناحیه‌ی ساحلی با فعالیت‌های مربوط به تجارت و گردشگری است که تجارت دریایی موجب به وجود آمدن شهری با نقش بندی در کنار دریا شده است.

تصویر ۲: بازار شناور بانکوک است که از که دیدنی‌های جالب توجه آسیای جنوب شرقی می‌باشد. این شیوه‌ی خاص فروش کالا (فروختن اجناس توسط دست‌فروشان بر روی قایق‌های چوبی روی رودخانه‌ی اصلی شهر) ناحیه‌ای تجاری و گردشگری به وجود آورده است که تقریباً همه‌ی گردشگران خارجی از آن بازدید می‌کنند.

- ۲۰- عبارت‌های زیر به ترتیب به کدام یک از انواع ارتباط متقابل انسان‌ها با نواحی اشاره می‌کند؟
- الف) انتقال اجباری ساکنان یک ناحیه به ناحیه‌ی دیگر، می‌تواند موجب تغییر نواحی طبیعی و انسانی شود.
  - ب) امروزه همه‌ی نواحی و حتی دورافتاده‌ترین آن‌ها به ویژه از نظر اقتصادی، تحت تأثیر یکدیگرند.
  - (۱) نواحی به فعالیت‌های انسان شکل می‌دهند - نواحی با یکدیگر رابطه و کنش متقابل دارند.
  - (۲) نواحی تحت تأثیر تصمیم‌گیری‌های سیاسی حکومت‌ها هستند - انسان‌ها نواحی را به وجود می‌آورند.
  - (۳) نواحی به فعالیت‌های انسان شکل می‌دهند - انسان‌ها نواحی را به وجود می‌آورند.
  - (۴) نواحی تحت تأثیر تصمیم‌گیری‌های سیاسی حکومت‌ها هستند - نواحی با یکدیگر رابطه و کنش متقابل دارند.

## « پاسخ »

گزینه ۴ پاسخ صحیح است. تشریح عبارت‌ها:

الف: نواحی تحت تأثیر تصمیم‌گیری‌های سیاسی حکومت‌ها هستند.

ب: نواحی با یکدیگر رابطه و کنش متقابل دارند.

۲۱- کدام گزینه در رابطه با نواحی مختلف صنعتی اروپا درست است؟

- ۱) ناحیه صنعتی بیلپائو در نزدیکی مرز اسپانیا و پرتغال واقع شده است.
- ۲) مهم‌ترین ناحیه صنعتی لهستان در نزدیکی مرز اسلواکی قرار دارد.
- ۳) ناحیه صنعتی بارسلونا در غرب اسپانیا و در ساحل دریای مدیترانه قرار دارد.
- ۴) ناحیه صنعتی لیون در شمال فرانسه، از مراکز مهم صنعتی این کشور است.

## « پاسخ »

گزینه ۲ پاسخ صحیح است. تشریح گزینه‌های نادرست:

- گزینه «۱»: ناحیه صنعتی بیلپائو در نزدیکی مرز اسپانیا و فرانسه واقع شده است.
- گزینه «۳»: ناحیه صنعتی بارسلونا در شرق اسپانیا و در ساحل دریای مدیترانه قرار دارد.
- گزینه «۴»: ناحیه لیون تقریباً در ناحیه مرکزی فرانسه است و ناحیه صنعتی شمال فرانسه، ناحیه پاریس است.

۲۲- با توجه به مفهوم کانون و مرزهای ناحیه زیست‌بوم استوایی، کدام مورد درست است؟

- ۱) تنوع و پراکندگی پوشش گیاهی از کانون ناحیه به سمت مرزها، افزایش می‌یابد.
- ۲) تعداد ماه‌های وقوع بارش از مرزهای ناحیه به سمت کانون، کاهش می‌یابد.
- ۳) دوره‌ها و سال‌های خشکسالی از کانون ناحیه به سمت مرزها، افزایش می‌یابد.
- ۴) تعدد و قد درختان از مرزهای ناحیه به سمت کانون، کاهش می‌یابد.

## « پاسخ »

گزینه ۳ پاسخ صحیح است. با دقت بر ویژگی‌های شکل کانون و مرزهای ناحیه جنگل‌های بارانی استوایی در صفحه ۱۶ یازدهم، می‌توان گفت:

هرچه از کانون ناحیه به سمت مرزهای ناحیه حرکت کنیم، دوره‌ها و سال‌های خشکسالی افزایش، تنوع گونه‌ها کاهش، تعداد ماه‌های وقوع بارش کاهش، و در نهایت تعدد و قد درختان کاهش می‌یابد و بالعکس هرچه از مرزهای ناحیه به سمت کانون ناحیه حرکت کنیم موارد فوق حالت عکس پیدا می‌کنند.



۲۳- کدام گزینه تبیین کننده تصویر زیر است؟

۱) در نواحی انسانی مانند نواحی زبانی و قومی، تعیین مرز نواحی دشوارتر از نواحی طبیعی مثل نواحی خاک یا زیست‌بوم‌هاست.

۲) قلمرو و وسعت نواحی، متفاوت است، گاه یک نایه بخشی از یک روستا، یک شهر یا استان یا یک کشور است و گاه چند کشور را دربرمی‌گیرد.

۳) در اثر فعالیت‌های انسانی یا عوامل طبیعی ممکن است ویژگی‌های یک ناحیه از بین برود و وسعت آن کم یا زیاد شود.

۴) مرزهای سیاسی و اداری معمولاً بر مرزهای نواحی طبیعی و انسانی منطبق نیستند، به طوری که گاهی یک ناحیه بین چند استان یا حتی چند کشور قرار می‌گیرد.

« پاسخ »

گزینه ۴ پاسخ صحیح است. مرزهای سیاسی و اداری بر مبنای انتخاب و تصمیم‌گیری انسان‌ها تعیین می‌شوند. در این مرزبندی، گاهی یک ناحیه آب‌وهوایی، ناحیه زبانی و قومی و نظایر آن بین چند استان یا حتی چند کشور قرار می‌گیرد، مانند شکل صورت سؤال که مرز ناحیه قومی بر مرز سیاسی بین افغانستان و پاکستان منطبق نیست.

۲۴- کدام گزینه تعریف «چشم‌انداز» را به درستی آورده است؟

- ۱) نگاه به سکونتگاه شهری و روستایی در یک مکان  
 ۲) منظره‌ی قابل رؤیت از یک مکان  
 ۳) نشان تغییرات محیط طبیعی و انسانی در یک ناحیه  
 ۴) نگاه به شیوه‌ی زندگی مردم در یک ناحیه

« پاسخ »

گزینه ۲ پاسخ صحیح است. چشم‌انداز، منظره‌ی قابل رؤیت از یک مکان است.

۲۵- کدام عبارت صحیح نیست؟

۱) در نواحی انسانی مانند نواحی زبانی و قومی، تعیین مرز نواحی آسان‌تر از نواحی طبیعی مثل نواحی خاک یا زیست‌بوم‌هاست.

۲) گاه یک ناحیه بخشی از یک روستا، یک شهر یا استان یا یک کشور است و گاه چند کشور و قاره را در برمی‌گیرد و مقیاس جهانی دارد.

۳) نواحی طبیعی در سراسر کره زمین گسترده شده‌اند. این نواحی دارای ویژگی‌های طبیعی هستند و بستر زندگی و فعالیت‌های انسان محسوب می‌شوند.

۴) در اثر فعالیت‌های انسانی یا عوامل طبیعی ممکن است ویژگی‌های خاص یک ناحیه از بین برود و وسعت آن کم یا زیاد شود.

« پاسخ »

گزینه ۱ پاسخ صحیح است. در نواحی انسانی مانند نواحی زبانی و قومی، تعیین مرز نواحی دشوارتر از نواحی طبیعی مثل نواحی خاک یا زیست‌بوم‌هاست.

۲۶- کدام گزینه به ترتیب پاسخ صحیح سؤال‌های زیر درباره «ناحیه» است؟

الف) کدام عامل موجب حفظ تغییر یا تخریب نواحی طبیعی و انسانی می‌شود؟  
ب) چه عاملی امروزه همه نواحی و حتی دورافتاده‌ترین آن‌ها را از نظر اقتصادی، فرهنگی، اجتماعی و سیاسی تحت تأثیر قرار داده است؟

پ) به چه دلیل کنش متقابل و وابستگی نواحی در جهان امروزه نسبت به گذشته شدت بیشتری یافته است؟  
۱) تغییرات انسان‌ها در محیط‌های طبیعی - رابطه و کنش متقابل نواحی با یکدیگر - به دلیل افزایش جمعیت و افزایش نیازهای انسان‌ها در نواحی مختلف جهان

۲) برنامه‌ریزی یا تصمیم‌گیری‌های سیاسی حکومت‌ها - رابطه و کنش متقابل نواحی با یکدیگر - به دلیل افزایش جمعیت و افزایش نیازهای انسان‌ها در نواحی مختلف جهان

۳) در اختیار گرفتن نواحی توسط انسان‌ها و شکل دادن به آن‌ها - تصمیم‌گیری‌های یک دولت - به دلیل پراکندگی جمعیت و افزایش سرمایه و تکنولوژی در جهان

۴) برنامه‌ریزی یا تصمیم‌گیری‌های سیاسی حکومت‌ها - کمبود امکانات و عدم تمرکز کارگاه‌ها و کارخانه‌ها در نواحی جغرافیایی - به دلیل کمبود سرمایه و تکنولوژی در جهان

« پاسخ »

گزینه ۲ پاسخ صحیح است.  
الف) برنامه‌ریزی یا تصمیم‌گیری‌های یک دولت برای ایجاد ناحیه گردشگری و پارک‌های ملی یا صنعتی، توسعه کشاورزی در یک ناحیه و ... می‌تواند موجب حفظ تغییر یا تخریب نواحی طبیعی و انسانی شود.

ب) هر ناحیه کره زمین با دیگر نواحی مبادلات اقتصادی، فرهنگی، اجتماعی و سیاسی دارد. نواحی بر روی یکدیگر تأثیر می‌گذارند. امروزه همه نواحی و حتی دورافتاده‌ترین آن‌ها به ویژه از نظر اقتصادی، تحت تأثیر یکدیگرند. (رابطه و کنش متقابل نواحی با یکدیگر)

پ) کنش متقابل و وابستگی نواحی در جهان امروزه نسبت به گذشته شدت بیشتری یافته است، زیرا هم جمعیت افزایش یافته و هم نیازهای انسان‌ها بیشتر شده است.

۲۷- وسعت و قلمرو هر ناحیه با کدام یک، قابل مقایسه است؟

۱) یک روستا تا چند کشور  
۲) یک آکواریوم تا کره زمین  
۳) بخشی از یک روستا تا چند کشور و قاره  
۴) بخشی از یک روستا تا کل یک کشور

« پاسخ »

گزینه ۳ پاسخ صحیح است. وسعت و قلمرو ناحیه‌ها متفاوت‌اند. گاه یک ناحیه بخشی از یک روستا را تشکیل می‌دهد. گاهی یک ناحیه شامل یک شهر یا استان یا یک کشور و گاهی چند کشور و قاره را دربرمی‌گیرد. بنابراین وسعت هر ناحیه بین بخشی از یک روستا تا چند کشور و قاره قرار می‌گیرد.

۲۸- کدام عبارت کانون یک ناحیه را معرفی می‌کند؟

- (۱) قسمتی که بیشترین عوامل وحدت و همگونی در آن وجود دارد.
- (۲) نقطه‌ای که تقریباً از تمامی مرزهای ناحیه فاصله مساوی دارد.
- (۳) محل استقرار افرادی که مدیریت یک ناحیه را به عهده دارند.
- (۴) نقطه‌ای که می‌تواند محل تلاقی ناحیه‌های تقسیم شده از هم باشد.

« پاسخ »

گزینه ۱ پاسخ صحیح است. هر ناحیه‌ی جغرافیایی دارای کانون یا مرکزی است که بیشترین عوامل وحدت و همگونی در آن وجود دارند. معمولاً هرچه از کانون یک ناحیه‌ی جغرافیایی دور می‌شویم و به طرف مرزهای آن حرکت می‌کنیم، به تدریج از عوامل همگونی آن ناحیه کاسته و سرانجام این عوامل ناپدید می‌شوند.

۲۹- ناحیه‌های مجاور با کدام معیار جدا شده باشند، تعیین مرزهای دقیق بین آن‌ها دشوارتر است؟  
(۱) زیست‌بوم (۲) آب و هوا (۳) خاک (۴) زبان

« پاسخ »

گزینه ۴ پاسخ صحیح است. تعیین مرزهای دقیق نواحی دشوار است. البته در نواحی انسانی مانند نواحی زبانی و قومی تعیین مرز نواحی دشوارتر از نواحی طبیعی مثل نواحی خاک، آب و هوا، زیست‌بوم و ... است.

۳۰- چرا قاره‌ی آفریقا یک ناحیه قلمداد نمی‌شود؟

- (۱) از نظر معیارهای فرهنگی و طبیعی متجانس نیست.
- (۲) از نظر معیارهای فرهنگی و طبیعی متجانس است.
- (۳) توزیع ثروت در این قاره عادلانه نیست.
- (۴) از نظر معیارهای انسان متجانس نیست.

« پاسخ »

گزینه ۱ پاسخ صحیح است.

۳۱- ساوان بین کدام نواحی واقع شده است؟

- (۱) جنگل‌های مداری و جنگل‌های استوایی
- (۲) جنگل‌های استوایی و جنگل‌های بارانی استوایی
- (۳) صحرای آفریقا و جنگل‌های بارانی استوایی
- (۴) صحرای آفریقا و جنگل‌های مداری

« پاسخ »

گزینه ۳ پاسخ صحیح است. ساوان یک ناحیه‌ی انتقالی بین صحرای آفریقا و جنگل‌های بارانی استوایی است.

۳۲- همه موارد به ارتباط میان «نوع فعالیت و شیوه زندگی انسان» با محیط طبیعی اشاره می‌کند، به جز:

- (۱) سرمای شدید در اولان باتور
- (۲) بازارهای شناور در بانکوک
- (۳) زندگی شبانی شمال آفریقا
- (۴) صید ماهی در فیلیپین

« پاسخ »

گزینه ۱ پاسخ صحیح است. سرمای شدید در اولان باتور به مفهوم ارتباط میان نوع فعالیت و شیوه زندگی انسان اشاره می‌کند.

۳۳- کدام گزینه زبان‌های رسمی کشور سوئیس را به درستی نشان می‌دهد؟

- (۱) روسی - آلمانی - اسپانیایی - ایتالیایی  
 (۲) آلمانی - فرانسه - ایتالیایی - رمانش  
 (۳) رمانش - اسپانیایی - روسی - انگلیسی  
 (۴) اسپانیایی - فرانسه - انگلیسی - روسی

« پاسخ »

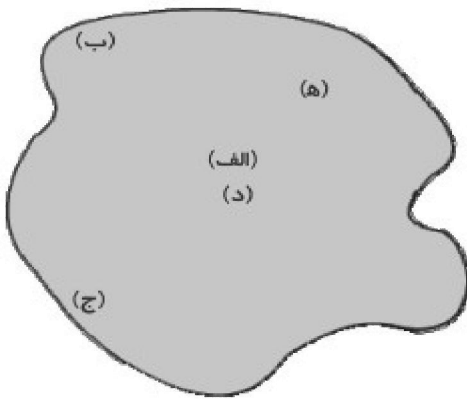
گزینه ۲ پاسخ صحیح است. چهار زبان رسمی در کشور سوئیس، آلمانی، فرانسوی، ایتالیایی و رمانش است.

۳۴- کدام قومیت‌ها در کشور افغانستان به ترتیب کم‌ترین و بیش‌ترین تراکم جمعیت را دارا هستند؟

- (۱) تاجیک - بلوچ  
 (۲) بلوچ - پشتون  
 (۳) تاجیک - ترکمن  
 (۴) ترکمن - پشتون

« پاسخ »

گزینه ۲ پاسخ صحیح است. پشتون بیش‌ترین و بلوچ کم‌ترین تراکم جمعیت را دارا هستند.



۳۵- با توجه به شکل زیر که بیانگر یک ناحیه است، وحدت و همگونی نسبی

در کدام قسمت‌ها بیشتر است؟

- (۱) «ب» و «د»  
 (۲) «ب» و «ه»  
 (۳) «ج» و «ه»  
 (۴) «الف» و «د»

« پاسخ »

گزینه ۴ پاسخ صحیح است. هر ناحیه‌ی جغرافیایی دارای کانون یا مرکز است که بیشترین عوامل وحدت و همگونی در آن وجود دارد.

- ۳۶- در کدام یک از موارد زیر ارتباط بین جملات سمت راست و چپ، به درستی بیان شده است؟
- (الف) هر ناحیه شرایط خاصی را به انسان ارائه می‌کند و انسان در چارچوب آن شرایط دست به عمل می‌زند ← نواحی به فعالیت‌های انسان شکل می‌دهند.
- (ب) امروزه همه‌ی نواحی و نیز حتی دورافتاده‌ترین آن‌ها به‌ویژه از نظر اقتصادی تحت‌تأثیر یکدیگر می‌باشند ← انسان‌ها نواحی را به وجود می‌آورند.
- (ج) در چهل سال اخیر با ایجاد کارخانه‌ها در امتداد محورهای ارتباطی شهر تهران، نواحی صنعتی پیرامون این شهر شکل گرفته است. ← نواحی با یکدیگر رابطه و کنش متقابل دارند.
- (د) تصمیم‌گیری برای ایجاد ناحیه‌ی گردشگری و پارک‌های ملی یا صنعتی و توسعه‌ی کشاورزی در یک ناحیه ← نواحی تحت‌تأثیر تصمیم‌گیری‌های سیاسی حکومت‌ها هستند.
- (۱) «الف» و «ب»      (۲) «ب» و «ج»      (۳) «ج» و «د»      (۴) «الف» و «د»

## « پاسخ »

- گزینه ۴ پاسخ صحیح است.  
بررسی موارد نادرست:  
(ب) مربوط است به: نواحی با یکدیگر رابطه و کنش متقابل دارند.  
(ج) مربوط است به: انسان‌ها نواحی را به وجود می‌آورند.

- ۳۷- علت مهاجرت مردم میانمار به مرزهای بنگلادش چه بوده است؟
- (۱) سیاسی و اقتصادی      (۲) اقتصادی و اجتماعی      (۳) طبیعی و انسانی      (۴) فرهنگی و سیاسی

## « پاسخ »

- گزینه ۴ پاسخ صحیح است.  
کشتار مردم میانمار توسط فرقه‌ی بودایی ← فرهنگی  
منع ساخت مسجد برای مسلمانان میانمار توسط دولت و حکومت و پاک‌سازی قومی توسط دولت میانمار ← سیاسی

- ۳۸- ساختن جزیره‌ای مصنوعی در آب‌های خلیج فارس توسط دولت امارات متحده‌ی عربی به کدام بخش‌ها آسیب رسانده است؟

- (۱) اکوسیستم دریایی و آب‌سنگ‌های مرجانی      (۲) ستون‌های سنگی دریا و طاق‌های دریایی  
(۳) زبانه‌ی ماسه‌ای و آب‌سنگ‌های مرجانی      (۴) طاق‌های دریایی و اکوسیستم دریایی

## « پاسخ »

- گزینه ۱ پاسخ صحیح است.

- ۳۹- در تعیین مرزهای سیاسی و مرزهای طبیعی - انسانی کدام مورد درست است؟
- (۱) ناحیه جنگل‌های بارانی استوایی با مرزهای سیاسی کشور برزیل منطبق است.
  - (۲) مرزهای ناحیه قومی هزاره همانند مرزهای سیاسی، بر مبنای انتخابی انسان‌ها صورت می‌گیرد.
  - (۳) ناحیه قومیتی پشتون با مرزهای سیاسی افغانستان و پاکستان منطبق نیست.
  - (۴) ناحیه بارشی آذربایجان و زاگرس براساس تصمیم‌گیری انسان در یک استان قرار دارد.

## « پاسخ »

گزینه ۳ پاسخ صحیح است. مرزهای سیاسی - اداری بین کشورها و استانی معمولاً بر مرزهای نواحی طبیعی و انسانی منطبق نیستند. بنابراین مرزبندی نواحی طبیعی و انسانی نمی‌تواند لزوماً براساس تصمیم‌گیری انسان با محدوده سیاسی - اداری منطبق باشد.

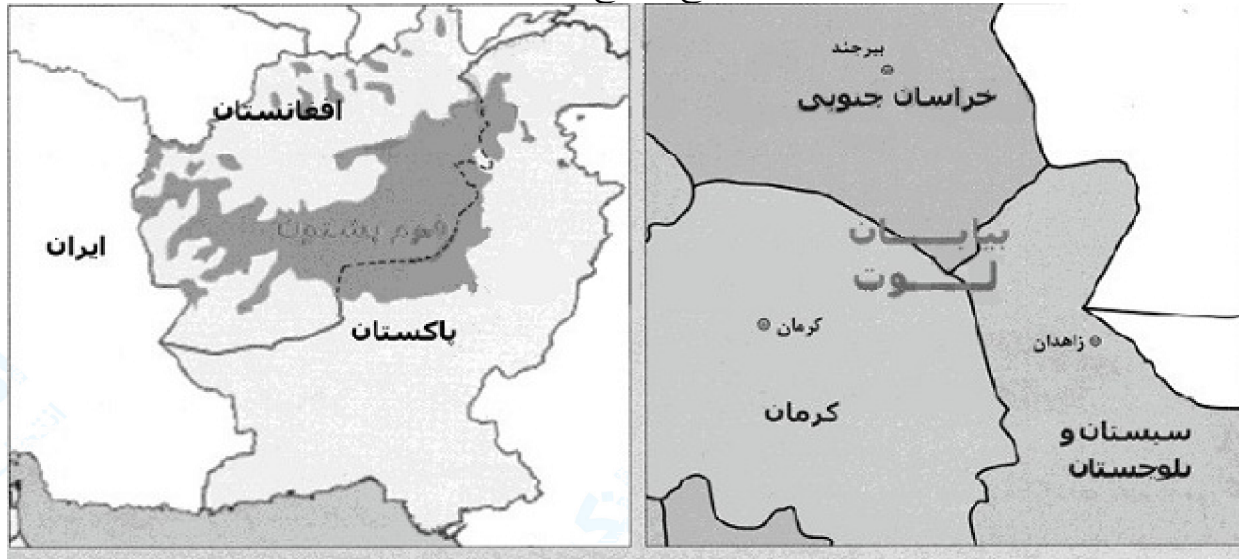
- ۴۰- کدام مورد اشاره درستی به ویژگی‌های کانون و مرزهای یک ناحیه صنعتی تولید سرامیک دارد؟
- (۱) در ناحیه مجاور آن از تعداد و تراکم کارخانه‌ها و کارگاه‌ها کاسته می‌شود.
  - (۲) بیشترین تجمع کارخانه‌ها و کارگاه‌ها در کانون این ناحیه مشاهده می‌شود.
  - (۳) در مرزهای این ناحیه صنعتی هیچ اثری از کارخانه‌ها یافت نمی‌شود.
  - (۴) بیشترین درجه همگونی و وحدت نسبی در مرزهای ناحیه دیده می‌شود.

## « پاسخ »

گزینه ۲ پاسخ صحیح است. در یک ناحیه صنعتی تراکم کارخانجات در کانون قرار دارد و به سمت مرزها کمتر می‌شود و در ناحیه مجاور هیچ اثری از آن یافت نمی‌شود.



۴۱- کدام گزینه با توجه به نقشه‌های شماره (۱) و (۲) پاسخ صحیح سؤال‌ها است؟



(۲)

(۱)

الف) در نقشه شماره (۱)، استان‌های سیستان و بلوچستان، کرمان و خراسان جنوبی چگونه از هم جدا شده‌اند و کدام ناحیه طبیعی در این سه استان گسترده شده است؟

ب) در نقشه شماره (۲)، کشورهای افغانستان و پاکستان چگونه از هم جدا شده‌اند و کدام ناحیه انسانی در هر دو کشور گسترده شده است؟

(۲) مرز قراردادی، بیابان - مرز قرار دادی، قوم پشتون

(۱) مرز طبیعی - مرز قرار دادی، بیابان

(۴) مرز طبیعی - مرز قرار دادی، قوم پشتون

(۳) مرز قراردادی، دشت کویر - مرز قراردادی، بیابان

« پاسخ »

گزینه ۲ پاسخ صحیح است.

الف) در نقشه شماره (۱)، استان‌های سیستان و بلوچستان، کرمان و خراسان جنوبی توسط مرز قراردادی از هم جدا شده‌اند و بیابان در این سه استان گسترده شده است.

ب) در نقشه شماره (۲)، کشورهای افغانستان و پاکستان توسط مرز قرار دادی از هم جدا شده‌اند و قوم پشتون (ناحیه قومی) در هر دو کشور گسترده شده است.

- ۴۲- کدام گزینه صحیح یا غلط بودن عبارت‌های زیر را به درستی بیان می‌کند؟
- الف) نواحی صنعتی اروپا بیشتر در نواحی غربی و شمالی استقرار یافته‌اند.
- ب) ناحیه صنعتی رور آلمان و بوهیمیا در اسلوواکی از نواحی مهم صنعت در قاره اروپا هستند.
- پ) در گذشته برای ناحیه‌بندی از روش‌های کمی و آماری استفاده می‌کردند.
- ت) جغرافی‌دان‌ها پس از تعیین معیارها و شاخص‌های ناحیه‌بندی میزان وحدت و تجانس را در یک ناحیه تعیین می‌کنند و آن را با کمک نمودار نمایش می‌دهند.
- ۱) غ - ص - ص - ص      ۲) غ - ص - غ - ص      ۳) ص - ص - غ - غ      ۴) ص - غ - غ - غ

## « پاسخ »

- گزینه ۴ پاسخ صحیح است. تشریح عبارت‌های نادرست:
- ب) ناحیه صنعتی بوهیمیا در جمهوری چک واقع شده است.
- پ) امروزه برای ناحیه‌بندی از روش‌های جدید به ویژه ریاضی و آماری استفاده می‌شود.
- ت) بعد از تعیین میزان وحدت و تجانس در یک ناحیه آن را روی نقشه نشان می‌دهند.

۴۳- به ترتیب هر یک از جملات زیر به کدام ویژگی نواحی یا مرزهای آن‌ها اشاره دارد؟  
 تلف) وقوع خشکسالی، وسعت یک ناحیه کشاورزی را کاهش می‌دهد یا ممکن است به کلی آن ناحیه را به ناحیه‌ای غیرکشاورزی تبدیل کند.

ب) در مرزبندی کشورها گاهی یک ناحیه زبانی یا قومی بین چند استان یا حتی چند کشور قرار می‌گیرد.  
 پ) گاه یک ناحیه بخشی از یک روستا، یک شهر یا استان یا یک کشور است و گاه مقیاس جهانی دارد.  
 ت) در اثر فعالیت‌های انسانی یا عوامل طبیعی ممکن است ویژگی‌های خاص یک ناحیه از بین برود.  
 ث) در نواحی زبانی و قومی، تعیین مرز نواحی دشوارتر از نواحی طبیعی مثل نواحی خاک یا زیست‌بوم‌هاست.  
 ۱) تعیین مرزهای دقیق نواحی دشوار است - مرزهای سیاسی و اداری معمولاً بر مرزهای نواحی طبیعی و انسانی منطبق نیستند - مرزهای نواحی قابل تغییرند - تعیین مرزهای دقیق نواحی دشوار است - قلمرو و وسعت نواحی متفاوت است.

۲) قلمرو و وسعت نواحی متفاوت است - مرزهای سیاسی و اداری معمولاً بر مرزهای نواحی طبیعی و انسانی منطبق نیستند - تعیین مرزهای دقیق نواحی دشوار است - مرزهای نواحی قابل تغییرند - تعیین مرزهای دقیق نواحی دشوار است

۳) مرزهای نواحی قابل تغییرند - مرزهای سیاسی و اداری معمولاً بر مرزهای نواحی طبیعی و انسانی منطبق نیستند - مرزهای نواحی قابل تغییرند - قلمرو و وسعت نواحی متفاوت است - تعیین مرزهای دقیق نواحی دشوار است  
 ۴) مرزهای نواحی قابل تغییرند - مرزهای سیاسی و اداری معمولاً بر مرزهای نواحی طبیعی و انسانی منطبق نیستند - قلمرو و وسعت نواحی متفاوت است - مرزهای نواحی قابل تغییرند - تعیین مرزهای دقیق نواحی دشوار است

## « پاسخ »

گزینه ۴ پاسخ صحیح است. تعیین مرزهای دقیق نواحی دشوار است. البته در نواحی انسانی مانند زبانی و قومی، تعیین مرز نواحی دشوارتر از نواحی طبیعی مثل نواحی خاک یا زیست‌بوم‌هاست، (عبارت ث)  
 قلمرو و وسعت نواحی متفاوت است. گاهی یک ناحیه بخشی از یک روستا، یک شهر یا استان یا یک کشور است و گاه چند کشور و قاره را دربرمی‌گیرد و مقیاس جهانی دارد. (عبارت پ)  
 مرزها نواحی قابل تغییرند. در اثر فعالیت‌های انسانی یا عوامل طبیعی ممکن است ویژگی‌های یک ناحیه از بین برود و وسعت آن کم یا زیاد شود، برای مثال مهاجرت روستاییان از یک ناحیه یا وقوع خشکسالی، وسعت یک ناحیه کشاورزی را کاهش می‌دهد یا ممکن است به کلی آن ناحیه را به ناحیه‌ای غیرکشاورزی تبدیل کند. (عبارت الف و ت)

مرزهای سیاسی و اداری معمولاً بر مرزهای نواحی طبیعی و انسانی منطبق نیستند.  
 مرزهای سیاسی و اداری بر مبنای انتخاب و تصمیم‌گیری انسان‌ها تعیین می‌شوند. در این مرزبندی، گاهی یک ناحیه آب و هوایی، ناحیه زبانی و قومی و نظایر آن بین چند استان یا حتی چند کشور قرار می‌گیرد. (عبارت ب)

۴۴- به ترتیب کدام گزینه‌ها در ارتباط با تصاویر زیر نادرست است؟



(۲)



(۱)

- (۱) از مهم‌ترین قطب‌های صنایع مصرفی می‌باشند. - شیوه خاص فروش کالا در نواحی تجاری و گردشگری است.
- (۲) این بازار از دیدنی‌های جالب توجه آسیای جنوب شرقی است. - ایجاد کارخانه‌های بزرگ و کوچک در مسیر محورهای ارتباطی
- (۳) دست‌فروشان کالاها را بر روی قایق‌های چوبی روی رودخانه اصلی شهر عرضه می‌کنند. - با توجه به تأثیر ابزار و شیوه‌های انسان برای بهره‌برداری از محیط ایجاد شد.
- (۴) با توجه به تأثیر ابزار و شیوه‌های انسان برای بهره‌برداری از محیط ایجاد شد - در امتداد محورهای ارتباطی شهر تهران، نواحی صنعتی پیرامون این شهر شکل گرفته است.

## « پاسخ »

گزینه ۱ پاسخ صحیح است. بازارهای شناور در بانکوک، پایتخت تایلند از دیدنی‌های جالب توجه آسیای جنوب شرقی است. دست‌فروشان در قایق‌های چوبی روی رودخانه اصلی شهر، اجناس خود را برای فروش عرضه می‌کنند. این شیوه خاص فروش کالا ناحیه‌ای تجاری و گردشگری به وجود آورده است که تقریباً همه گردشگران خارجی از آن بازدید می‌کنند. (تصویر شماره (۱))

در چهل سال اخیر، با ایجاد کارخانه‌های بزرگ و کوچک در امتداد محورهای ارتباطی شهر تهران، نواحی صنعتی پیرامون این شهر شکل گرفته است. به وجود آمدن این نواحی صنعتی، تهران را به مهم‌ترین قطب صنایع مصرفی کشور تبدیل کرده است. (تصویر شماره (۲))

توضیح نکات درسی:

انسانها در محیط‌های طبیعی تغییراتی به وجود می‌آوردند. آنها برای زندگی و بهره‌برداری از محیط طبیعی از شیوه‌های و ابزارهای متفاوتی استفاده می‌کنند و در نتیجه، نواحی مختلفی را پدید می‌آورند یا نواحی طبیعی را تغییر می‌دهند.

- ۴۵- یک ناحیه جغرافیایی با حرکت به کدام سمت به تدریج از عوامل همگونی آن ناحیه کاسته می‌شود و کدام مرتع از علفزارهای کوتاه‌قد تشکیل شده است؟
- (۱) کانون ناحیه - ساوان (۲) مرز ناحیه - مداری (۳) کانون ناحیه - مداری (۴) مرز ناحیه - ساوان

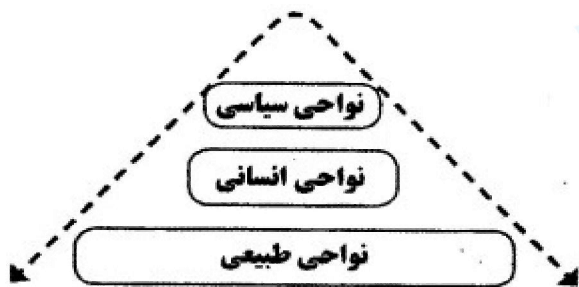
## « پاسخ »

گزینه ۲ پاسخ صحیح است. معمولاً هرچه از کانون یک ناحیه جغرافیایی دور می‌شویم و به طرف مرزهای آن حرکت می‌کنیم، به تدریج از عوامل همگونی آن ناحیه کاسته می‌شود و سرانجام این عوامل ناپدید می‌شوند و مراتع مداری از علفزارهای کوتاه‌قد تشکیل شده است.

- ۴۶- جاهای خالی عبارت‌های زیر در کدام گزینه به ترتیب آمده است؟
- الف) امروزه همه نواحی و حتی دورافتاده‌ترین آنها به ویژه از نظر ..... تحت تأثیر یکدیگرند.
- ب) در نتیجهٔ پاکسازی قومی دولت میانمار، صدها نفر از مردم ناحیهٔ مسلمان‌نشین این کشور به مرزهای ..... مهاجرت کرده و درخواست پناهندگی نموده‌اند.
- پ) کاربری جزیره‌های مصنوعی که امارات در آب‌های خلیج فارس ساخته است، ..... است.
- ۱) فرهنگی - بنگلادش - گردشگری و اداری  
۲) اقتصادی - تایلند - تجاری و تفریحی
- ۳) فرهنگی - تایلند - مسکونی و اداری  
۴) اقتصادی - بنگلادش - تجاری و تفریحی

## « پاسخ »

- گزینه ۴ پاسخ صحیح است.
- الف: امروزه همه نواحی و حتی دورافتاده‌ترین آنها به ویژه از نظر اقتصادی، تحت تأثیر یکدیگرند.
- ب: در نتیجهٔ پاک سازی قومی دولت میانمار، صدها نفر از مردم ناحیهٔ مسلمان‌نشین این کشور به مرزهای بنگلادش مهاجرت کرده و درخواست پناهندگی نموده‌اند.
- پ: کاربری جزیره‌های مصنوعی امارات که مسکونی نیز هستند، تفریحی و تجاری است.



(۴) د و ج

(۳) ب و د

(۲) الف و ج

(۱) الف و ب

۴۷- با توجه به تصویر کدام جمله درست است؟

- الف) شهرها، استان‌ها و کشورها نواحی سیاسی هستند زیرا یک نهاد آنها را اداره می‌کند.
- ب) همه نواحی طبیعی یا انسانی جهان تحت مدیریت نهادهای سیاسی یا اداری قرار دارند.
- ج) مرز میان نواحی قراردادی است و مقیاس جهانی دارد.
- د) هر کشوری برای مشخص کردن قلمرو جغرافیایی خود به تعیین مرز نیاز دارد.

## « پاسخ »

گزینه ۱ پاسخ صحیح است. با توجه به تصویر گزینه الف و ب درست و سایر گزینه‌ها نادرست است.

۴۸- همه عبارات درباره «تعیین مرزهای نواحی» درست است به جز:

- ۱) ناحیه‌بندی سطح زمین براساس انواع خاک ساده‌تر از مرزبندی نواحی مذهبی است.
- ۲) گاهی اوقات در مرزبندی، چند ناحیه زبانی و قومی در یک قلمرو قرار می‌گیرند.
- ۳) مرزهای سیاسی و اداری معمولاً بر مرزهای نواحی طبیعی و انسانی منطبق هستند.
- ۴) مرزهای سیاسی و اداری بر مبنای انتخاب و تصمیم‌گیری انسان‌ها تعیین می‌شود.

## « پاسخ »

گزینه ۳ پاسخ صحیح است. مرزهای سیاسی و اداری معمولاً بر مرزهای نواحی طبیعی و انسانی منطبق نیستند.

- ۴۹- کدام جمله با مفهوم عبارت «نواحی به فعالیت‌های انسان‌ها شکل می‌دهند» ارتباط بیشتری دارد؟
- (۱) واردات نفت ژاپن از ایران  
(۲) احداث کارخانه‌های بزرگ و کوچک  
(۳) ساخت موج شکن  
(۴) پاک‌سازی قومی

« پاسخ »

گزینه ۳ پاسخ صحیح است. ساخت موج‌شکن به خوبی تأثیر محیط طبیعی را بر روی فعالیت‌های انسان نشان می‌دهد.

- ۵۰- انتخاب معیارها برای تعیین «حدود یک ناحیه» به کدام عوامل بستگی دارد؟
- (۱) معیارهای مربوط به عوامل طبیعی و انسانی  
(۲) هدف مطالعه و تحقیق جغرافی دانان  
(۳) طرز تفکر و شیوه کار جغرافی دانان  
(۴) شباهت‌ها و تفاوت‌ها میان مکان‌ها

« پاسخ »

گزینه ۲ پاسخ صحیح است. انتخاب و معیارهای ناحیه‌بندی به هدف مطالعه و تحقیق جغرافی دانان بستگی دارد.

- ۵۱- جمعیت کشور افغانستان حدوداً ۳۰ میلیون نفر می‌باشد. قوم «بلوچ» تقریباً چند نفر از جمعیت این کشور را شامل می‌شود؟

(۱) ۱۳,۰۰۰,۰۰۰ (۲) ۶۰۰,۰۰۰ (۳) ۱۵,۰۰۰,۰۰۰ (۴) ۵,۰۰۰,۰۰۰

« پاسخ »

گزینه ۲ پاسخ صحیح است. با توجه به نقشه‌ی ۴، قوم بلوچ حدوداً ۲٪ جمعیت افغانستان را شامل می‌شود، پس تعداد نفرات آن‌ها به صورت زیر می‌باشد:

$$۳۰,۰۰۰,۰۰۰ \times ۲\% = ۶۰۰,۰۰۰$$