

# استادبانک



نمونه سوالات همراه با جواب و

گام به گام کتاب‌های درسی

به طور کامل رایگان در

اپلیکیشن استادبانک

به جمع ده‌ها هزار کاربر اپلیکیشن رایگان استادبانک پیوندید.

[لینک دریافت اپلیکیشن نمونه سوالات استادبانک \(کلیک کنید\)](#)

\* برای مشاهده نمونه سوالات دانلود شده به صفحه بعد مراجعه کنید.

۱- نخست، عددهای جدول زیر را به درصد تبدیل کنید. سپس نمودار مناسبی بر مبنای درصد برای نمایش اطلاعات جدول ترسیم کنید.

طول مرزهای ایران (کیلومتر)	مرزهای رودخانه‌ای	مرزهای زمینی (خشکی)	مرزهای آبی (دریایی)
۸۷۵۵	۱۹۱۸	۴۱۳۷	۲۷۰۰

« پاسخ »



۲- نام استان‌های مرزی ایران را در مجاورت مرزها بنویسید. چند استان مرزی داریم؟

« پاسخ »



۱۳ استان مرزی داریم.

۳- نام کشورهای همسایه ایران را بنویسید. نام کشورهایی که ایران با آنها مرز آبی (دریایی) دارد را با علامت ستاره معین کنید.

« پاسخ »



- ۴- طرح نقشه ایران و کشورهای همسایه را در نظر بگیرید.  
 الف) حدود مرزهای رودخانه‌ای ایران را روی آن مشخص کنید.  
 ب) بلندترین و کوتاه‌ترین مرز ایران با کشورهای همسایه را با علامت ++ و -- روی نقشه مشخص کنید.



« پاسخ »

الف)



ب)؟؟

۵- چرا کشور یوگسلاوی سابق از هم پاشید و به چند کشور تجزیه شد؟

« پاسخ »

تفاوت‌های فرهنگی، قومی، زبانی و دینی موجب شد که کشور یوگسلاوی سابق از هم بپاشد.

۶- بیندیشیم: دو کشور آلمان غربی و شرقی، و یمن شمالی و جنوبی پس از این‌که سال‌ها به صورت دو کشور جداگانه درآمده بودند و با دو حکومت متفاوت اداره می‌شدند، سرانجام به هم پیوستند و امروز یک کشورند. با توجه به عنصر «ملت» این موضوع را تحلیل کنید. به نظر شما، آیا ممکن است این اتفاق در آینده برای کشور کره‌ی شمالی و جنوبی نیز بیفتد؟

« پاسخ »

وجود یک ملت واحد در این کشورها موجب شد که آلمان شرقی و غربی و یا یمن جنوبی و شمالی با هم یکی شوند. در واقع مردم خواستند و ...

۷- در کدام نظام سیاسی به تفاوت‌های جغرافیایی و فرهنگی بیش‌تر توجه می‌شود؟ در کدام نظام، حفظ همبستگی و وحدت ملی در شرایط بحرانی آسان‌تر است؟

« پاسخ »

در نظام سیاسی فدرال بیش‌تر به تفاوت‌های جغرافیایی و فرهنگی توجه می‌شود و در نظام یکپارچه حفظ همبستگی و وحدت ملی در شرایط بحرانی آسان‌تر است و ...

۸- جدولی با دو ستون رسم کنید و حداقل چهار ویژگی نظام سیاسی تک‌ساخت و چهار ویژگی نظام فدرال را داخل آن بنویسید.

« پاسخ »

چهار ویژگی نظام فدرال	چهار ویژگی نظام سیاسی تک‌ساخت
کشور به چند ایالت تقسیم می‌شود و ایالت‌ها اختیارات زیادی دارند.	کشور به واحدهای سیاسی و اداری کوچک‌تر مانند استان و شهرستان تقسیم می‌شود اما حکومت مرکزی حدود اختیارات آن‌ها را تعیین می‌کند.
حکومت و توزیع قدرت در سرزمین دو سطح دارد: الف) سطح فدرال (ملی و حکومت مرکزی) ب) سطح ایالت (منطقه)	اختیارات محلی محدود و نظام قانون‌گذاری و سیاست‌گذاری متمرکز است.
هر ایالت علاوه بر وجود حکومت و نیروی تصمیم‌گیری در سطح ملی، قوه مقننه و مجریه و قضائیه مستقل نیز دارد.	قدرت سیاسی از یک کانون، یعنی پایتخت، به سایر نواحی کشور اعمال می‌شود و مدیریت‌های محلی، تصمیمات دولت مرکزی را اجرا می‌کنند.
مجلس نمایندگان و سنا در مرکز کشور و مجلس ایالتی در هر ایالت مستقرند و قانون‌گذاری می‌کنند.	یک سطح قانون‌گذاری، یعنی مجلس ملی قانون‌گذاری، در مرکز وجود دارد و قوانین و مقررات و تشکیلات اداری در تمام کشور همسان است.

۹- کدام کشور همسایه‌ی ایران با نظام فدرالی و کدام‌یک با نظام ناحیه‌ای و ترکیبی اداره می‌شود؟

« پاسخ »

روسیه و پاکستان با نظام فدرال اداره می‌شوند و عراق با نظام ناحیه‌ای و ترکیبی اداره می‌شود.

۱۰- با توجه به یک نقشه جهان‌نما، چند کشور دارای نظام فدرال و چند کشور با نظام یکپارچه نام ببرید.

« پاسخ »



با توجه به نقشه کشورهایمانند کانادا، ایالات متحده آمریکا، برزیل، استرالیا، هند، پاکستان، نیجریه، تانزانیا، سودان جنوبی، نیوزلند و آلمان با نظام فدرال اداره می‌شوند و کشورهایمانند چین، ایران، عربستان، فرانسه، الجزایر، اندونزی و ... با نظام یکپارچه اداره می‌شوند. تعداد کشورهایمانند با نظام یکپارچه بیش‌تر از کشورهای فدرال می‌باشد.

۱۱- در سال‌های اخیر، طرح انتقال پایتخت از تهران به مکانی دیگر مطرح شده و حتی در مجلس شورای اسلامی نیز درباره‌ی آن گفت‌وگوهایی صورت گرفته است. این طرح موافقان و مخالفانی دارد. به نظر شما دو مزیت و دو پیامد منفی یا مشکل اجرای این طرح چیست؟

« پاسخ »

به نظر می‌رسد کشور ما اگر دارای دو پایتخت باشد بهتر است یعنی یک پایتخت سیاسی و یک پایتخت اقتصادی و با این کار عدالت فضایی رعایت می‌شود. البته اجرای انتقال پایتخت و یا اجرای دو پایتختی کاری بسیار مشکل است و بعید به نظر می‌رسد که چنین طرحی اجرا شود و ...

۱۲- با توجه به درس تاریخ، عوامل مؤثر در انتخاب تهران به پایتختی را تحلیل کنید.

« پاسخ »

قرار گرفتن تهران بین کوه‌های البرز از طرف شمال و نواحی بیابانی در جنوب به عنوان موانع حمله دشمن به تهران و ...

۱۳- بیندیشیم: به نظر شما، ایجاد پایانه‌های مرزی کالا در نواحی مرزی ایران چه تأثیراتی بر اقتصاد این نواحی دارد؟ توضیح دهید.

« پاسخ »

ایجاد بازارچه‌های مرزی بین دو کشور موجب رونق اقتصادی و ایجاد اشتغال می‌شود و ...

۱۴- اگر تاکنون از یک پایانه‌ی مرزی یا بازارچه‌ی مرزی کشور عبور یا دیدن کرده‌اید، درباره‌ی موقعیت جغرافیایی آن منطقه و مشاهدات خود از سفر به منطقه‌ی مرزی برای هم‌کلاسی‌هایتان توضیح دهید.

« پاسخ »

اگر سفری به عتبات عالیات داشته‌اید می‌توانید مشاهدات خود را از مرز خسروی و مهران بنویسید و در کلاس ارائه کنید.

۱۵- با توجه به ارزش شغل «مرزبانی» نامه‌ای برای قدردانی خطاب به مرزبان‌ها بنویسید. این نامه را در کلاس بخوانید.

« پاسخ »

پاسخ به عهده دانش‌آموز

۱۶- چرا باید از تلاش‌های مرزبانان کشور قدردانی کنیم؟

« پاسخ »

کاری که مرزبانان کشورمان انجام می‌دهند بسیار باارزش است آنان از کشورمان در مقابل هجوم دشمنان دفاع می‌کنند و موجب برقراری امنیت در داخل کشور می‌شوند و ...

۱۷- با مشاهده‌ی یک نقشه‌ی جنوب غربی آسیا، ۱۵ کشوری را که ایران از طریق خشکی و دریا با آنها هم‌مرز است، نام ببرید.

« پاسخ »

۱- عراق ۲- ترکیه ۳- روسیه ۴- آذربایجان ۵- ارمنستان ۶- کویت ۷- عربستان ۸- بحرین ۹- قطر ۱۰- امارات متحده عربی ۱۱- عمان ۱۲- پاکستان ۱۳- افغانستان ۱۴- ترکمنستان ۱۵- قزاقستان

۱۸- در کدام یک از انواع مرزها حداقل کشمکش‌ها و اختلافات مشاهده می‌شود؟ چرا؟ در کدام یک امکان بروز اختلافات و ناآرامی‌ها بیش‌تر است؟ توضیح دهید.

« پاسخ »

در مرزهای قبل از سکونت یا پیش‌تاز حداقل کشمکش سیاسی دیده می‌شود زیرا مردمی که در دو سوی مرز زندگی می‌کنند زمانی ساکن شده‌اند که مرز بین دو کشور وجود داشته است و مردم خود را با مرز تطبیق داده‌اند.

۱۹- چرا بهترین خط مرزی در رودخانه‌های قابل کشتی‌رانی خط تالوگ است؟

« پاسخ »

زیرا هر دو کشور می‌توانند در رودخانه مرزی کشتی‌رانی کنند.



۲۰- بیندیشیم: رود به عنوان یک پدیده‌ی طبیعی برای تعیین مرز سیاسی دو کشور ممکن است طی زمان چه مشکلاتی ایجاد کند؟

« پاسخ »

تغییر مسیر رودها در طی زمان موجب ایجاد مشکلاتی بین دو کشور می‌شود.

۲۱- دوازده مایل دریایی چند کیلومتر است؟ حساب کنید.

« پاسخ »

هر مایل دریایی ۱۸۵۳ متر است و ۱۲ مایل دریایی کمی بیش از ۲۲ کیلومتر می‌باشد.

۲۲- تصویر زیر چه نوع مرزی را نشان می‌دهد؟ با توجه به آنچه درباره اتحادیه اروپا می‌دانید، توضیح دهید.



« پاسخ »

مرز بین بلژیک و هلند مرز غیرطبیعی یا مصنوعی است.

۲۳- تصویر زیر چه نوع مرزی را نشان می‌دهد؟ با مراجعه به نقشه‌ی آمریکای جنوبی، موقعیت کشورها و رودهای مرزی آنرا توضیح دهید.



« پاسخ »

تصویر مرز رودخانه‌ای را نشان می‌دهد که بین سه کشور پاراگوئه و آرژانتین و برزیل واقع شده است. بین برزیل و آرژانتین رود ایگواسو قرار دارد و بین پاراگوئه و کشورهای آرژانتین و برزیل رود پارانا واقع است.



۲۴- به نظر شما، وابستگی و تعلق عاطفی مردم یک کشور به وطن خود چه آثار و پیامدهایی برای آن کشور دارد؟ نظر خود را با مثال، توضیح دهید.

« پاسخ »

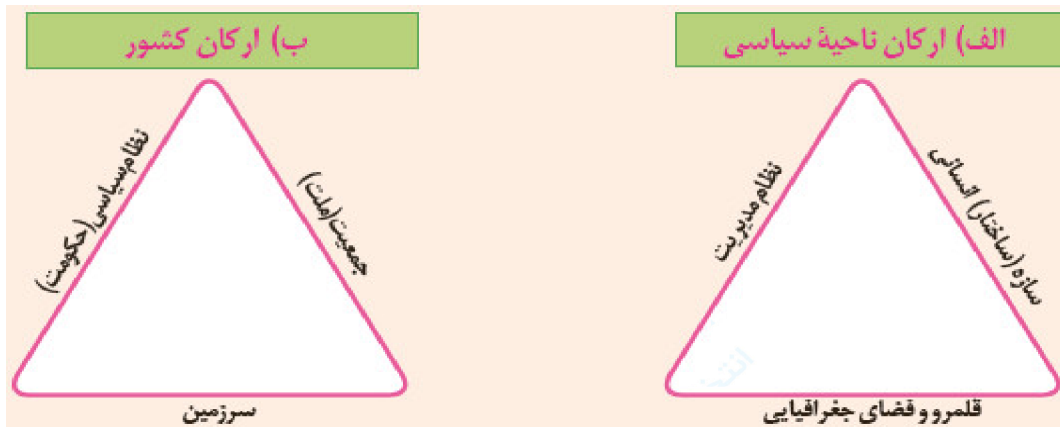
وابستگی و تعلق عاطفی موجب ایجاد وحدت و یکپارچگی در کشور می‌شود و ...

۲۵- فکر کنید که به کدام مکان‌ها احساس تعلق و وابستگی عاطفی دارید. علت احساس تعلق خود را توضیح دهید.

« پاسخ »

هر انسانی به شهر، روستا، استان و کشور خود احساس تعلق و وابستگی عاطفی دارد. این احساس در طول زندگی انسان در محل زندگی‌اش به وجود می‌آید. وقتی شما به مسافرت می‌روید در طول سفر دلتان برای شهر و روستای محل زندگی‌تان تنگ می‌شود و وقتی به شهر و روستای‌تان بازمی‌گردید احساس می‌کنید محل زندگی‌تان را خیلی دوست دارید و ...

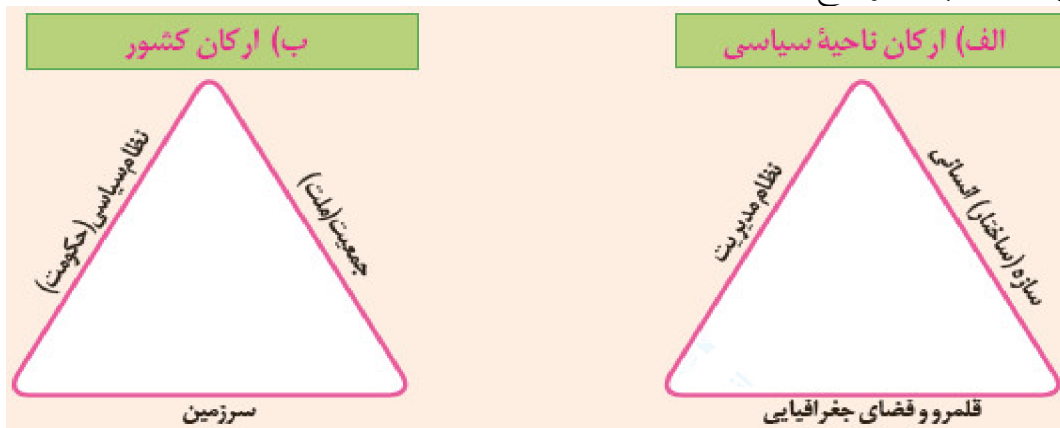
۲۶- آیا می‌توانید با توجه به آنچه در تصویر ب مشاهده می‌کنید، «کشور» را تعریف کنید؟ تعریف خودتان را یادداشت کنید.



« پاسخ »

کشور سرزمینی است که دارای نظام سیاسی (حکومت) و جمعیت است.

۲۷- رابطه‌ی تصویر الف و ب را توضیح دهید.



« پاسخ »

ارکان یک ناحیه سیاسی سازه انسانی، نظام مدیریت و قلمرو و فضای جغرافیایی است. یک کشور هم یک ناحیه سیاسی است. جمعیت سازه انسانی یک کشور است و نظام سیاسی یا حکومت یک کشور جزو نظام مدیریت کشور است و سرزمین هم جزو قلمرو و فضای جغرافیایی کشور است.

۲۸- چند مورد از عبارت‌های زیر درست است؟

الف) فرانسه - انگلیس ← تک ساخت

ب) ایران - آمریکا ← فدرال

پ) جمهوری آذربایجان - عراق ← ناحیه‌ای و ترکیبی

۴) صفر مورد

۳) ۳ مورد

۲) ۲ مورد

۱) ۱ مورد

« پاسخ »

گزینه ۱ پاسخ صحیح است. زیرا فقط مورد پ صحیح می‌باشد.

۲۹- فرانسه از پیشگامان ساخت کشور به شیوهی ..... می‌باشد.

- (۱) تک ساخت  
(۲) ناحیه‌ای - ترکیبی  
(۳) فدرال  
(۴) هیچ کدام از این سه گزینه بالا

« پاسخ »

گزینه ۱ پاسخ صحیح است. فرانسه از پیشگامان ساخت کشور به شیوهی تک ساخت است.

۳۰- در نواحی مرزی ایران در بخش نواحی مرزی زمینی ..... پایانه مسافربری و حدود ..... پایانه مرزی مبادله کالا وجود دارد. (به ترتیب)

- (۱) ۲۰ - ۵۰ (۲) ۲۰ - ۵۰ (۳) ۳۰ - ۴۵ (۴) ۳۰ - ۴۵

« پاسخ »

گزینه ۱ پاسخ صحیح است.

۳۱- «اگر به مرزهای کشور حمله صورت بگیرد فقط سپاه باید اقدام کند.» آیا این جمله درست است؟

- (۱) بله - زیرا وظایف ارتش و نیروی انتظامی این نیست.  
(۲) بله - زیرا سپاه در این زمینه قوی تر است.  
(۳) خیر - زیرا حفظ مرزها در برابر دشمنان بر عهدهی تمامی نهادهای نظامی است.  
(۴) خیر - زیرا سپاه اصلاً نقشی در حفاظت از مرزها ندارد.

« پاسخ »

گزینه ۳ پاسخ صحیح است. زیرا حفظ مرزها در برابر دشمنان بر عهدهی تمامی نهادهای نظامی از جمله سپاه است.

۳۲- مرزبانی برعهدهی ..... می‌باشد.

- (۱) نیروی انتظامی  
(۲) سپاه پاسداران  
(۳) ارتش جمهوری اسلامی ایران  
(۴) هر سه نهاد

« پاسخ »

گزینه ۱ پاسخ صحیح است. مرزبانی برعهدهی نیروی انتظامی است.

۳۳- کشور ما حدود ..... کیلومتر مرز مشترک با ..... کشور همسایه دارد.

- (۱) ۱۶ - ۷۸۵۵ (۲) ۱۶ - ۷۸۵۵ (۳) ۱۵ - ۵۵۸۷ (۴) ۱۵ - ۸۷۵۵

« پاسخ »

گزینه ۴ پاسخ صحیح است.

۳۴- مرز بین کره شمالی و کره جنوبی در مدار ..... واقع است.  
 (۱)  $40^{\circ}$  (۲)  $38^{\circ}$  (۳)  $41^{\circ}$  (۴)  $39^{\circ}$

« پاسخ »

گزینه ۲ پاسخ صحیح است. مرز بین کره شمالی و جنوبی در مدار  $38^{\circ}$  درجه قرار گرفته است.

۳۵- چند مورد از عبارتهای زیر درست است؟

الف) کانادا - آمریکا ← تحمیلی

ب) کانادا - آلاسکا ← تطبیقی

پ) کره شمالی و جنوبی ← پیشتاز

(۱) ۱ مورد (۲) ۲ مورد (۳) ۳ مورد (۴) صفر مورد

« پاسخ »

گزینه ۴ پاسخ صحیح است. هیچ کدام از موارد صحیح نیستند.

۳۶- مرز بین ..... و ..... تطبیقی است.

(۱) هند و پاکستان (۲) کره شمالی و جنوبی (۳) ایران و افغانستان (۴) فرانسه و اسپانیا

« پاسخ »

گزینه ۱ پاسخ صحیح است.

۳۷- بدترین نوع مرزها کدام است؟

(۱) پیشتاز

(۳) تحمیلی

(۲) تطبیقی

(۴) با استفاده از مشخصات جغرافیایی

« پاسخ »

گزینه ۳ پاسخ صحیح است. مرز تحمیلی همواره مورد نارضایتی مردم واقع می‌شود و باعث جدایی مردم هم‌زبان و هم‌فرهنگ از یکدیگر می‌شود.

۳۸- کدام یک از مرزهای بین کشورهای زیر پیشتاز است؟

(۱) کانادا - آمریکا (۲) کانادا - آلاسکا (۳) پاکستان - هند (۴) ایران - افغانستان

« پاسخ »

گزینه ۲ پاسخ صحیح است. مرز بین کانادا و آلاسکا «پیشتاز» می‌باشد.

۳۹- مرز بین کانادا و آمریکا روی ..... ، ..... می‌باشد.

(۱)  $53^{\circ}$  شمالی (۲)  $53^{\circ}$  - جنوبی (۳)  $49^{\circ}$  - شمالی (۴)  $49^{\circ}$  - جنوبی

« پاسخ »

گزینه ۳ پاسخ صحیح است.

۴۰- ..... کشورهای جهان از جمله کشور ما به علت مجاورت با دریا، مرزهای دریایی دارند.

(۱) همه (۲) بسیاری (۳) بعضی از (۴) تعداد کمی از

« پاسخ »

گزینه ۲ پاسخ صحیح است. طبق متن کتاب، قید بسیاری برای این جمله باید استفاده شود.

۴۱- چند مورد از عبارت‌های زیر درست است؟

الف) منطقه انحصاری ۱۸۸ مایل دریایی است.

ب) منطقه نظارت ۱۳ مایل دریایی است.

پ) دریای سرزمینی ۱۲ مایل دریایی است.

(۱) ۲ مورد (۲) ۱ مورد (۳) ۳ مورد (۴) صفر مورد

« پاسخ »

گزینه ۱ پاسخ صحیح است. مورد ب غلط است و باید به جای ۱۳ نوشته شود ۱۲ مایل دریایی

۴۲- در جای خالی کدام گزینه باید قرار گیرد؟ (به ترتیب)

..... → ؟ → دریای سرزمینی → آب‌های داخلی

(۱) منطقه انحصاری (۲) منطقه نظارت (۳) دریای آزاد (۴) شیب اقیانوسی

« پاسخ »

گزینه ۲ پاسخ صحیح است. بعد از دریای سرزمینی منطقه نظارت قرار دارد.

۴۳- منطقه انحصاری اقتصاد ..... مایل می‌باشد.

۱۸۸ (۴)

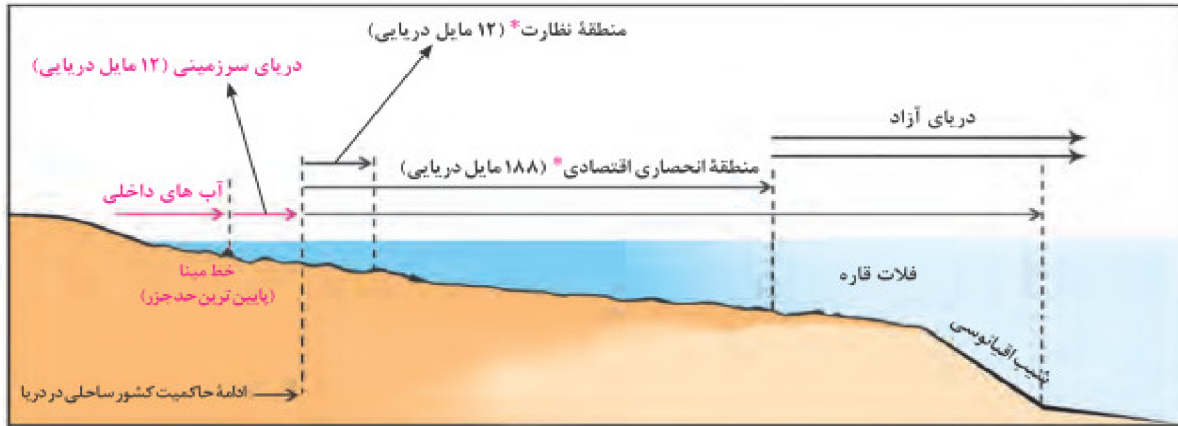
۲۰۰ (۳)

۱۸۰ (۲)

۱۹۰ (۱)

« پاسخ »

گزینه ۴ پاسخ صحیح است.



۴۴- ..... به بخشی از دریا گفته می‌شود که در مالکیت هیچ کشوری قرار ندارد.  
 (۱) دریای آزاد (۲) منطقه انحصاری (۳) آب‌های داخلی (۴) دریای سرزمینی

« پاسخ »

گزینه ۱ پاسخ صحیح است.

۴۵- از خط مبنا به سمت دریا تا حدود ۱۲ مایل دریایی ..... نامیده می‌شود.

(۴) منطقه انحصاری

(۳) آب‌های داخلی

(۲) دریای آزاد

(۱) دریای سرزمینی

« پاسخ »

گزینه ۱ پاسخ صحیح است.

۴۶- به آب‌های پشت خط مبنا (به طرف ساحل) ..... می‌گویند.

(۴) دریای سرزمینی

(۳) دریای آزاد

(۲) منطقه انحصاری

(۱) آب‌های داخلی

« پاسخ »

گزینه ۱ پاسخ صحیح است.

۴۷- خط مبنا ..... ، ..... دریا است.

(۴) پایین‌ترین - مد

(۳) بالاترین - جزر

(۲) پایین‌ترین - جزر

(۱) بالاترین - مد

« پاسخ »

گزینه ۲ پاسخ صحیح است.

۴۸- از خط مبنا به سمت دریا تا حدود ۱۲ مایل (هر مایل دریایی برابر ..... متر است).  
(۱) ۱۸۶۰ متر (۲) ۱۸۷۰ متر (۳) ۱۸۵۲ متر (۴) ۱۹۰۰ متر

« پاسخ »

گزینه ۳ پاسخ صحیح است. مایل دریایی ۱۸۵۲ متر است.

۴۹- کدام یک جزو مرزهای طبیعی نیست؟

- (۱) کوه  
(۲) رود  
(۳) تقسیم‌بندی بر اساس درجات زمین  
(۴) دریا

« پاسخ »

گزینه ۳ پاسخ صحیح است. زیرا تقسیم‌بندی بر اساس درجات زمین مصنوعی است.

۵۰- کشورها برای چه به مرز نیاز دارند؟

- (۱) فعالیت‌های اقتصادی  
(۲) روابط تجاری  
(۳) تعیین قلمرو جغرافیایی  
(۴) عبور و مرور در دو کشور متفاوت

« پاسخ »

گزینه ۳ پاسخ صحیح است.