

استادبانک



نمونه سوالات همراه با جواب و

گام به گام کتاب‌های درسی

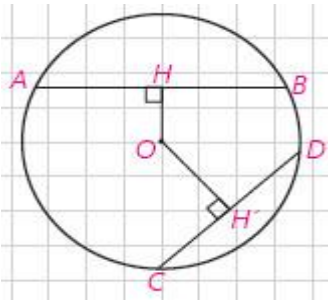
به طور کامل رایگان در

اپلیکیشن استادبانک

به جمع ده‌ها هزار کاربر اپلیکیشن رایگان استادبانک پیوندید.

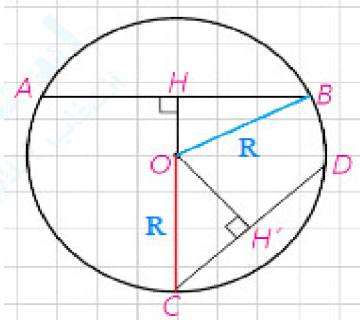
[لینک دریافت اپلیکیشن نمونه سوالات استادبانک \(کلیک کنید\)](#)

* برای مشاهده نمونه سوالات دانلود شده به صفحه بعد مراجعه کنید.



۱- در دایره‌ی $C(O, R)$ نشان دهید $AB > CD$ اگر و تنها اگر $OH < OH'$ (فاصله‌ی O از دو وتر AB و CD هستند).
راهنمایی: O به B و C وصل، و از قضیه‌ی فیثاغورس استفاده کنید.

« پاسخ »



فرض: $AB > CD$

حکم: $OH < OH'$

$$OB = OC = R, \quad BH = \frac{AB}{2}, \quad CH = \frac{CD}{2} \quad (1)$$

$$\triangle OBH: H = 90^\circ \Rightarrow BH^2 = R^2 - OH^2$$

$$\triangle OCH': H' = 90^\circ \Rightarrow CH'^2 = R^2 - OH'^2$$

$$AB > CD \Rightarrow \frac{AB}{2} > \frac{CD}{2} \xrightarrow{(1)} BH > CH' \Rightarrow BH^2 > CH'^2 \Rightarrow R^2 - OH^2 > R^2 - OH'^2$$

$$\Rightarrow -OH^2 > -OH'^2 \xrightarrow{\times(-1)} OH^2 < OH'^2 \xrightarrow{\frac{OH > 0}{OH' > 0}} OH < OH'$$

فرض: $OH < OH'$

حکم: $AB > CD$

$$OB = OC = R, \quad BH = \frac{AB}{2}, \quad CH' = \frac{CD}{2} \quad (1)$$

$$\triangle OBH: H = 90^\circ \Rightarrow OH^2 = R^2 - BH^2$$

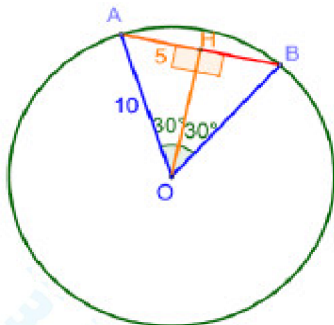
$$\triangle OCH': H' = 90^\circ \Rightarrow OH'^2 = R^2 - CH'^2$$

$$OH < OH' \Rightarrow R^2 - BH^2 < R^2 - CH'^2 \Rightarrow -BH^2 < -CH'^2 \xrightarrow{\times(-1)} BH^2 > CH'^2$$

$$\xrightarrow{\frac{BH > 0}{CH' > 0}} BH > CH' \xrightarrow{(1)} AB > CD$$

۲- در دایره‌ی $C(O, R)$ ، $\widehat{AB} = 60^\circ$ و $AB = 10$ فاصله‌ی O از وتر AB را به دست آورید.

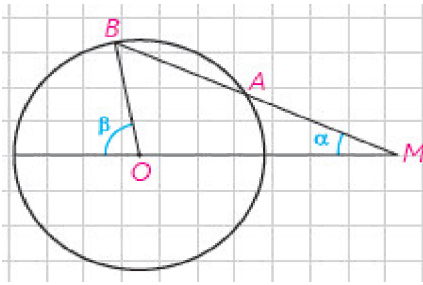
« پاسخ »



می‌دانیم که مثلث OAB متساوی‌الاضلاع است. و برای پیدا کردن فاصله‌ی وتر از مرکز باید نقطه‌ی O را بر وتر عمود کنیم سپس طول پاره‌خط OH را به دست آوریم. قطر عمود بر وتر، وتر را نصف می‌کند بنابراین $AH = 5$ پس در مثلث قائم‌الزاویه‌ی OAH داریم:

$$OH = \sqrt{OA^2 - AH^2} \Rightarrow OH = \sqrt{10^2 - 5^2}$$

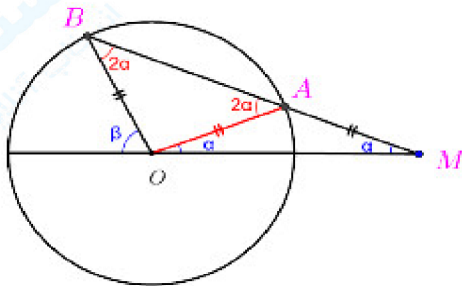
$$= \sqrt{75} = 5\sqrt{3}$$



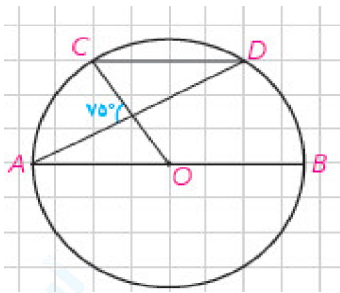
۳- دایره‌ی $C(O, R)$ مفروض است. از نقطه‌ی M در خارج دایره خطی چنان رسم کرده‌ایم که دایره را در دو نقطه‌ی A و B قطع کرده است و $MA = R$ ؛ نشان دهید: $\beta = 3\alpha$

« پاسخ »

با توجه به فرض مسئله، مثلث‌های OAB و OAM متساوی‌الساقین هستند. در مثلث OBM داریم:

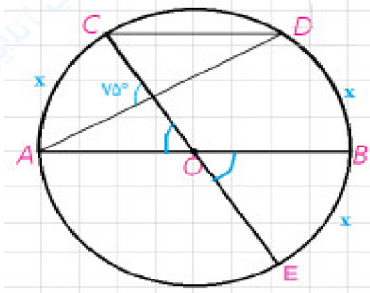


$$\beta = 2\alpha + \alpha = 3\alpha$$



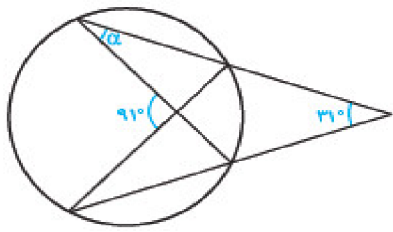
۴- در دایره رسم شده شکل مقابل $CD \parallel AB$ ، اندازه کمان CD را به دست آورید.

« پاسخ »



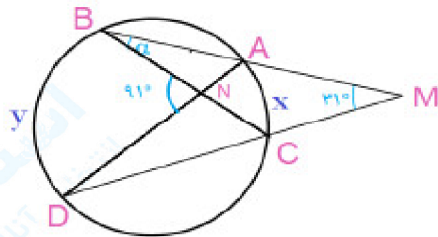
$$75^\circ = \frac{(x + x) + x}{2} \Rightarrow 150^\circ = 3x \Rightarrow x = 50^\circ$$

$$\widehat{CD} = 180^\circ - 2x \Rightarrow \widehat{CD} = 180^\circ - 100^\circ = 80^\circ$$



۵- در شکل مقابل اندازه‌ی زاویه‌ی α را به دست آورید.

« پاسخ »



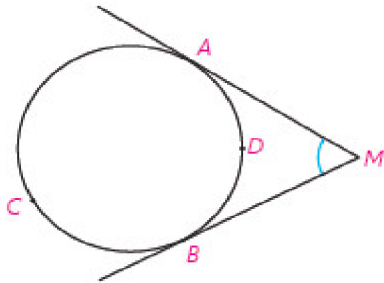
$$\widehat{M} = \frac{y - x}{2} \Rightarrow 2 \times 31^\circ = y - x$$

$$\widehat{N} = \frac{y + x}{2} \Rightarrow 2 \times 91^\circ = y + x$$

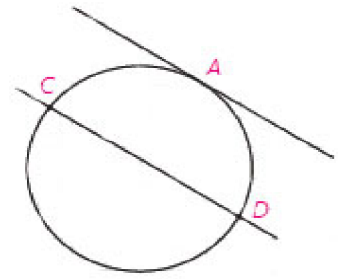
$$\Rightarrow \begin{cases} y - x = 62^\circ \\ y + x = 182^\circ \end{cases} \Rightarrow 2y = 244^\circ \Rightarrow y = 122^\circ \Rightarrow x = 60^\circ$$

مجموعه سوالات استادبانک

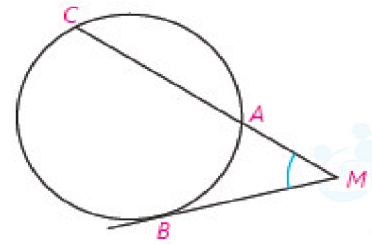
۶- در شکل‌های زیر ثابت کنید:
راهنمایی: از نقطه‌ی B خطی موازی ضلع دیگر زاویه رسم کنید.



$$\widehat{M} = \frac{\widehat{ACB} - \widehat{ADB}}{2} \quad (\text{ب})$$



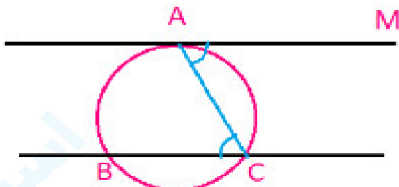
$$\widehat{AC} = \widehat{AD} \quad \text{ثابت کنید } d_1 \parallel d_2$$



$$\widehat{M} = \frac{\widehat{BC} - \widehat{AB}}{2} \quad (\text{پ})$$

« پاسخ »

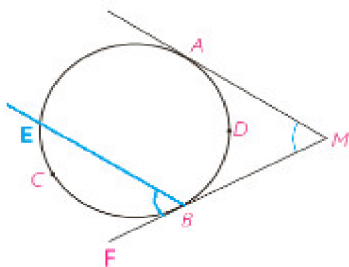
ثابت می‌شود که کمان‌های محصور بین یک مماس و وتر موازی در یک دایره با هم برابرند.



$$\widehat{MAC} = \widehat{BCA} \quad \text{در شکل مقابل بنا بر قضیه خطوط موازی}$$

$$\left. \begin{array}{l} \widehat{MAC} = \frac{1}{2} \widehat{AC} \quad \text{ظلی} \\ \widehat{ACB} = \frac{1}{2} \widehat{AB} \quad \text{محاطی} \end{array} \right\} \xrightarrow{\widehat{MAC} = \widehat{ACB}} \frac{1}{2} \widehat{AC} = \frac{1}{2} \widehat{AB} \Rightarrow \widehat{AC} = \widehat{AB}$$

$$\widehat{M} = \frac{\widehat{ACB} - \widehat{ADB}}{2} \quad (\text{الف})$$



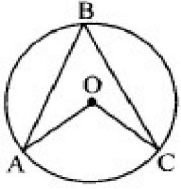
$$\widehat{AMB} = \widehat{EBF} \quad \text{راه اول: بنا بر قضیه خطوط موازی}$$

$$\widehat{AMB} = \widehat{EBF} = \frac{\widehat{EB}}{2} = \frac{\widehat{ACD} - \widehat{AE}}{2} \xrightarrow{\widehat{AE} = \widehat{ADB}} \widehat{AMB} = \widehat{EBF} = \frac{\widehat{ACD} - \widehat{ADB}}{2}$$

راه دوم: از نقطه‌ی A به B وصل می‌کنیم. در مثلث AMB زاویه EBA خارجی است پس:

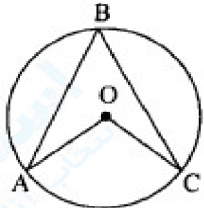
$$\widehat{EBA} = \widehat{MAB} + \widehat{M} \Rightarrow \widehat{M} = \widehat{EBA} - \widehat{MAB}$$

۷- در دایره به مرکز O ، اگر $\widehat{AOC} = (3\alpha + 12)^\circ$ و $\widehat{ABC} = (\alpha + 16)^\circ$ باشد، مقدار α و اندازه زاویه مرکزی



AOC و محاطی ABC را محاسبه کنید.

« پاسخ »



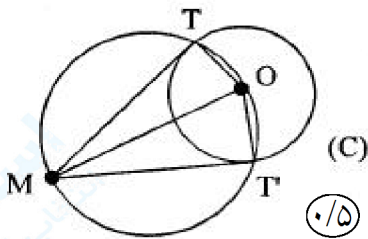
$$\begin{cases} \widehat{ABC} = \frac{\widehat{AC}}{2} \\ \widehat{AOC} = \widehat{AC} \end{cases} \quad (0/5) \Rightarrow \alpha + 16 = \frac{3\alpha + 12}{2} \Rightarrow \alpha = 20 \quad (0/25)$$

$$\Rightarrow \begin{cases} \widehat{ABC} = 36^\circ \\ \widehat{AOC} = 72^\circ \end{cases} \quad (0/25)$$

ص ۶۷

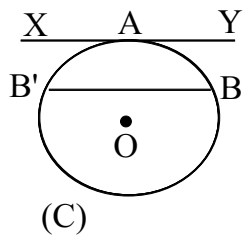
۸- دایره ی (O, R) و نقطه ی M واقع در خارج این دایره داده شده‌اند، از نقطه ی M بر این دایره دو مماس رسم کنید. (مراحل رسم را توضیح دهید).

« پاسخ »



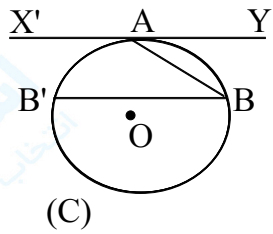
رسم شکل (0/5)

نقطه ی M را به O مرکز دایره ی (C) وصل کرده، دایره ی به قطر OM را رسم می‌کنیم. تا دایره ی (C) را در نقاط T و T' قطع کند. زاویه‌های $\widehat{OTM} = \widehat{OT'M} = 90^\circ$ زیرا زاویه‌های محاطی و روبه‌رو قطر هستند (0/25) پس در نتیجه MT در نقطه ی T و MT' در نقطه ی T' بر دایره ی (C) مماسند. (0/25)



۹- خط XY در نقطه‌ی A بر دایره‌ی (C) مماس است، وتر BB' از دایره را موازی XY رسم کرده‌ایم. ثابت کنید: $AB = AB'$

« پاسخ »



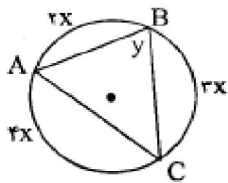
A را B وصل می‌کنیم زاویه‌ی BAY ظلّی و زاویه‌ی ABB' محاطی هستند بنابراین:

$$\widehat{ABB'} = \frac{AB'}{2} \quad (0/25), \quad \widehat{BAY} = \frac{AB}{2} \quad (0/25)$$

با توجه به فرض $BB' \parallel XY$ و AB مورب، پس:

$$\widehat{ABB'} = \widehat{BAY} \quad (0/25) \Rightarrow AB = AB' \quad (0/25)$$

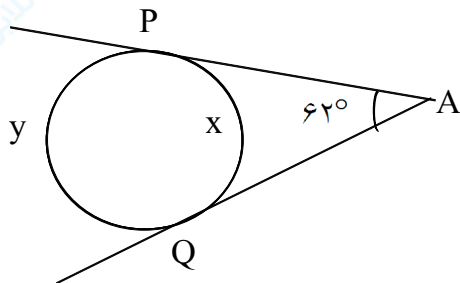
۱۰- با توجه به شکل زیر اندازه‌ی X و Y را تعیین کنید.



« پاسخ »

$$\begin{cases} 2X + 3X + 2X = 360 & (0/25) \Rightarrow X = 40 & (0/25) \\ y = \frac{4X}{2} & (0/25) \Rightarrow y = 2X \Rightarrow y = 80 & (0/25) \end{cases}$$

۱۱- با توجه به شکل X و Y را بیابید.

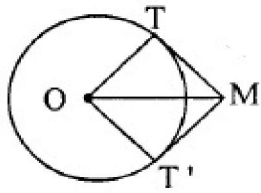


« پاسخ »

$$\frac{y-x}{2} = 62^\circ \quad (0/25)$$

$$\rightarrow y = 242^\circ, x = 118^\circ \quad (0/25)$$

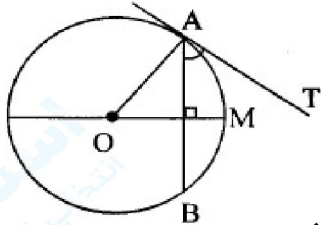
$$x + y = 360^\circ \quad (0/25)$$



۱۲- زاویه ی ظلّی TAB در دایره‌ای به مرکز O داده شده است.

$$\widehat{TAB} = \frac{\widehat{AB}}{۲} \text{ با استفاده از ویژگی قطر عمود بر وتر، ثابت کنید که}$$

« پاسخ »



زاویه ی ظلّی \widehat{BAT} را در دایره‌ای به مرکز O در نظر می‌گیریم، شعاع OA از این دایره را رسم می‌کنیم. می‌دانیم شعاع در نقطه‌ی تماس بر خط مماس عمود است، پس:

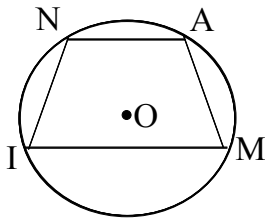
$$\textcircled{۰/۲۵} \widehat{OAB} + \widehat{BAT} = ۹۰^\circ \quad (۱)$$

قطر عمود بر هر وتر، آن وتر و کمان‌های نظیر آن وتر را نصف می‌کند. پس

$$\textcircled{۰/۲۵} \widehat{AM} = \frac{\widehat{AB}}{۲} \quad (۲) \text{ از طرفی} \quad \textcircled{۰/۲۵} \widehat{AOM} = \widehat{AM} = \frac{\widehat{AB}}{۲} \text{ و اندازه ی زاویه ی مرکزی}$$

$$\textcircled{۰/۲۵} \widehat{OAB} + \widehat{AOM} = ۹۰^\circ \quad (۳)$$

از روابط (۱) و (۳) نتیجه می‌شود $\textcircled{۰/۲۵} \widehat{BAT} = \widehat{AOM}$ و با توجه به (۲) نتیجه می‌شود $\textcircled{۰/۲۵} \widehat{BAT} = \frac{\widehat{AB}}{۲}$.

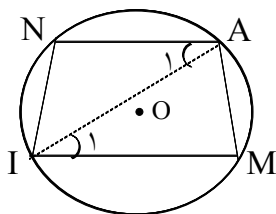


۱۳- در دایره‌ی (O) چهار ضلعی AMIN محاط شده است و داریم $NI = AM$

نشان دهید: $AN \parallel MI$

« پاسخ »

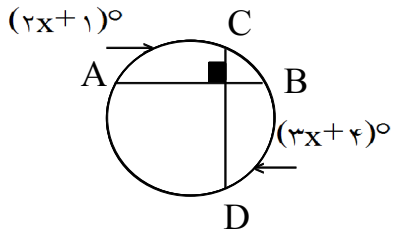
از A به I وصل می‌کنیم $\textcircled{۰/۲۵}$ با توجه به رابطه‌ی $AM = NI$ نتیجه می‌گیریم $\textcircled{۰/۲۵} \widehat{AM} = \widehat{NI}$



$$\textcircled{۰/۵} \text{ زاویه محاطی} \quad \left\{ \begin{array}{l} \widehat{A}_1 = \frac{\widehat{NI}}{۲} \\ \widehat{I}_1 = \frac{\widehat{AM}}{۲} \end{array} \right. \rightarrow \widehat{A}_1 = \widehat{I}_1 \quad \textcircled{۰/۲۵} \text{ داریم}$$

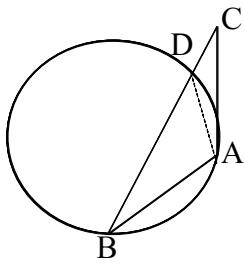
$\textcircled{۰/۲۵} AM \parallel NI$ طبق عکس قضیه خطوط موازی و خط مورب

۱۴- مقدار X را در شکل زیر به دست آورید.



« پاسخ »

$$\frac{2x+1+3x+4}{2} = 90^\circ \quad (0/25) \rightarrow 5x+5=180 \Rightarrow x=35^\circ \quad (0/25)$$



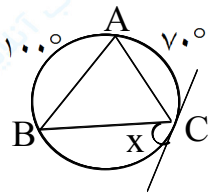
۱۵- در دایره (O, R) مماس AC و وتر AB با یکدیگر مساوی اند خط BC دایره را در نقطه‌ی D قطع کرده است. ثابت کنید مثلث ADC متساوی الساقین است.

« پاسخ »

$$\begin{cases} AC = AB \Rightarrow \hat{B} = \hat{C} \quad (0/25) \\ \hat{B} = \hat{DAC} = \frac{AD}{2} \quad (0/25) \end{cases} \Rightarrow \hat{DAC} = \hat{C} \Rightarrow DC = DA \quad (0/25)$$

مخاطبی ظلّی

۱۶- مقدار X را به دست آورید.

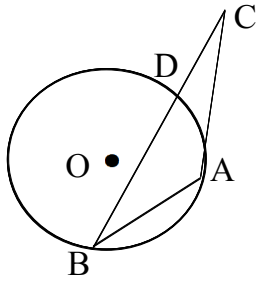


« پاسخ »

$$\widehat{BC} + 100^\circ + 70^\circ = 360^\circ \xrightarrow{(0/25)} \widehat{BC} = 190^\circ$$

$$\hat{x} = \frac{\widehat{BC}}{2} \xrightarrow{(0/25)} \frac{190^\circ}{2} = 95^\circ \quad (0/25)$$

(زاویه ظلّی)

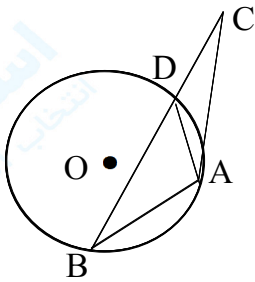


۱۷- در دایره‌ی (O) مماس AC و وتر AB با یکدیگر مساوی‌اند.

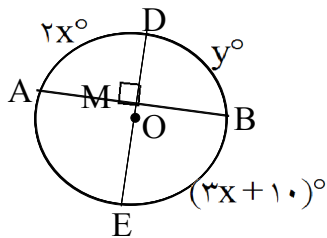
خط BC دایره را در نقطه‌ی D قطع کرده است.

ثابت کنید مثلث ACD، متساوی الساقین است.

« پاسخ »



$$\triangle ABC: \begin{cases} AC = AB \Rightarrow \hat{B} = \hat{C} \quad (0/25) \\ \hat{B} = \frac{\widehat{AD}}{2} \text{ محاطی } (0/25) \Rightarrow \widehat{DAC} = \hat{C} \Rightarrow DC = DA \quad (0/25) \\ \widehat{DAC} = \frac{\widehat{AD}}{2} \text{ ظلی } (0/25) \end{cases}$$



۱۸- در شکل روبه‌رو اگر قطر ED در نقطه‌ی M بر وتر AB از دایره‌ی

$C(O, R)$ عمود باشد، مقادیر X و Y را بیابید.

$$\widehat{AD} = 2x^\circ \quad \widehat{DB} = y^\circ \quad \widehat{BE} = (3x + 10)^\circ$$

« پاسخ »

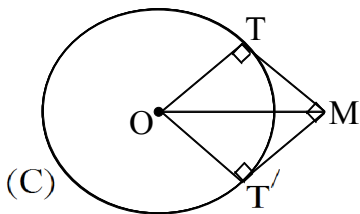
$$\hat{M} = \frac{(2x + 3x + 10)^\circ}{2} \quad (0/25) \Rightarrow 90^\circ = \frac{(5x + 10)^\circ}{2} \quad (0/25)$$

$$5x = 180 - 10 \Rightarrow 5x = 170 \quad (0/25) \Rightarrow x = 34^\circ \quad (0/25)$$

$$y = 2x \quad (0/25) \Rightarrow y = 2(34^\circ) = 68^\circ \quad (0/25)$$

۱۹- از نقطه‌ی M خارج دایره‌ی $C(O, r)$ دو مماس عمود بر هم بر دایره‌ی (C) رسم کرده‌ایم. (مطابق شکل)

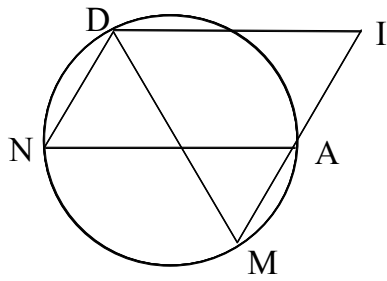
اگر T و T' نقاط تماس دو مماس با دایره باشند، اندازه‌ی MT را بیابید.



« پاسخ »

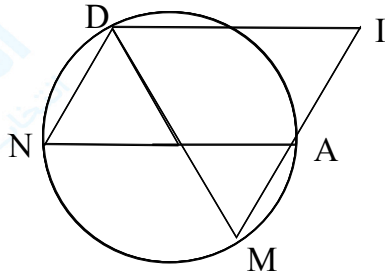
چون از M دو مماس عمود بر هم بر دایره رسم شده است پس OT عمود بر MT بوده $(0/25)$ بنابراین چهارضلعی

OTMT' مربع است $(0/25)$ پس $MT = R = r \quad (0/25)$.



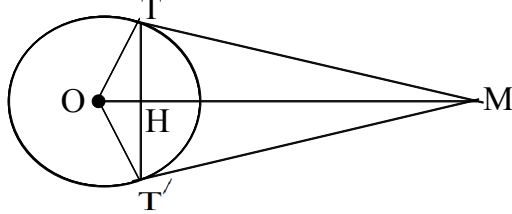
۲۰- در شکل روبرو چهارضلعی DIAN یک متوازی الاضلاع است، و نقطه‌های I و A و M روی یک خط راست قرار دارند، ثابت کنید: $DM = DI$

« پاسخ »



در متوازی الاضلاع DIAN : $\hat{N} = \hat{I} = \frac{0}{25}$ از طرف دیگر \hat{M} و \hat{N} محاطی، $\hat{N} = \hat{M} = \frac{AD}{2}$ در نتیجه $\hat{M} = \hat{I} = \frac{0}{25}$ پس مثلث MDI متساوی الساقین است. پس $DM = DI$ داریم

۲۱- دو خط MT و MT' در نقطه‌های T و T' بر دایره‌ی $C(O, R)$ مماسند. H نقطه‌ی برخورد وتر TT' با خط OM است. ثابت کنید:



(الف) خط OM نیمساز زاویه‌های $\hat{T}'OT$ و $\hat{T}MT'$ است.
(ب) $TT' \cdot OM = 2MT \cdot R$

« پاسخ »

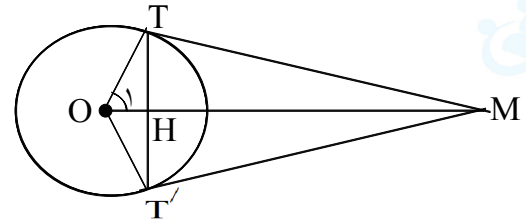
(الف)

$$\left. \begin{array}{l} MT = MT' \text{ مماس} \\ OM = OM \\ OT = OT' = R \end{array} \right\} \xrightarrow{\text{ض ض ض}} \triangle OMT \approx \triangle OMT' \Rightarrow \hat{T}MO = \hat{T}'MO, \hat{T}OM = \hat{T}'OM$$

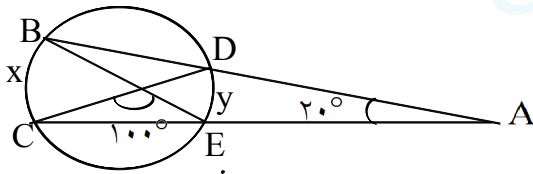
$$\left. \begin{array}{l} \hat{O}_1 = \hat{O}_1 \\ \hat{H} = \hat{T} = 90^\circ \end{array} \right\} \Rightarrow \triangle OTH \sim \triangle OMT \Rightarrow \frac{TH}{MT} = \frac{OT}{OM}$$

$$\left. \begin{array}{l} TH \times OM = MT \times OT \\ OT = R \end{array} \right\} \Rightarrow TT' \times OM = 2MT \times R$$

$$TH = \frac{TT'}{2}$$

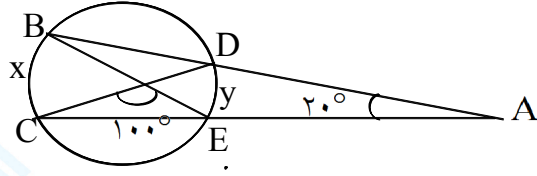


۲۲- در شکل زیر مقادیر x و y را بدست آورید.



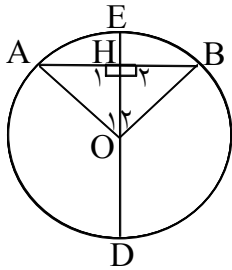
« پاسخ »

$$\begin{cases} x + y = 2(180^\circ - 100^\circ) = 160^\circ \\ x - y = 2 \times 20^\circ \\ \Rightarrow 2x = 200^\circ \Rightarrow x = 100^\circ \Rightarrow y = 60^\circ \end{cases}$$



۲۳- قضیه: ثابت کنید در هر دایره، قطر عمود بر هر وتر، آن وتر و کمان‌های نظیر آن وتر را نصف می‌کند.

« پاسخ »

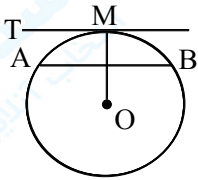


فرض: قطر DE و $\widehat{H} = 90^\circ$ حکم: $\begin{cases} \widehat{AH} = \widehat{HB} \\ \widehat{AD} = \widehat{DB} \end{cases}$ و $\widehat{AE} = \widehat{EB}$

برهان: از O مرکز دایره به A و B وصل می‌کنیم.

$$\left. \begin{array}{l} OA = OB = R \\ OH = OH \\ \widehat{H}_1 = \widehat{H}_2 = 90^\circ \end{array} \right\} \xrightarrow{\text{وتر و یک ضلع}} \triangle AOH \approx \triangle BOH \Rightarrow \begin{cases} AH = HB \\ \widehat{O}_1 = \widehat{O}_2 \end{cases}$$

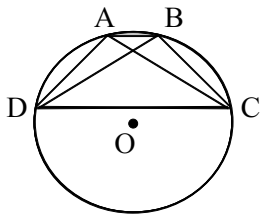
$$\left. \begin{array}{l} \widehat{O}_1 = \widehat{O}_2 \Rightarrow \widehat{AE} = \widehat{EB} \\ \widehat{AD} = 180^\circ - \widehat{AE} \text{ و } \widehat{DB} = 180^\circ - \widehat{EB} \end{array} \right\} \Rightarrow \widehat{AD} = \widehat{DB}$$



۲۴- ثابت کنید مماسی که بر وسط کمانی از دایره رسم شود با وتر آن کمان موازی می‌باشد.

« پاسخ »

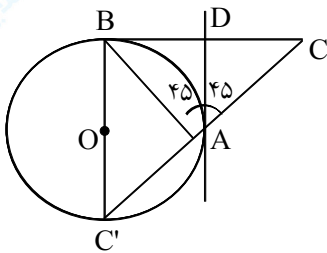
اگر از نقطه O مرکز دایره به نقطه M وصل کنیم OM بر مماس MT عمود است و چون نقطه M وسط کمان AB است پس OM بر AB عمود است یعنی MT و AB متوازیند.



۲۵- ثابت کنید در هر دایره دو وتر متقاطع متساوی قطره‌های یک دوزنقه متساوی‌الساقین هستند.

« پاسخ »

چون $\widehat{AC} = \widehat{DB}$ است پس $\widehat{AC} = \widehat{BD}$. اگر کمان \widehat{AB} را از دو کمان متساوی \widehat{AC} و \widehat{BD} کم کنیم خواهیم داشت: $\widehat{AD} = \widehat{BC}$ و چون کمان‌ها برابرند پس وترهای AD و BC متساویند. از تساوی کمان‌های AD و BC نتیجه می‌شود AB با CD موازی است یعنی چهارضلعی $ABCD$ دوزنقه متساوی‌الساقین می‌باشد.



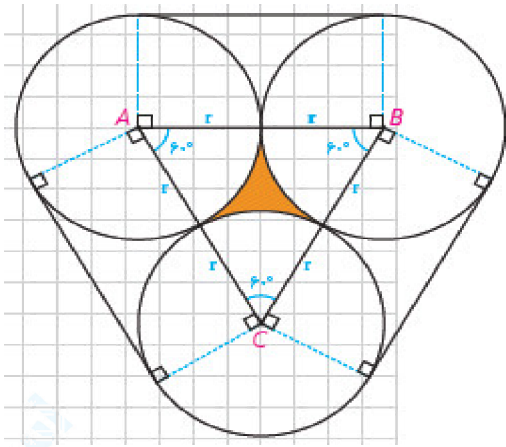
۲۶- کمان AB را مساوی 90° درجه روی محیط دایره انتخاب کرده‌ایم و از نقطه A مماس AD را بر دایره رسم کرده و AC را عمود بر وتر AB و مساوی آن در خارج دایره رسم و BC را وصل می‌کنیم. اولاً ثابت کنید AD عمود است ثانیاً AC را امتداد داده‌ایم تا دایره را در C' قطع کند ثابت کنید BC' قطری از دایره است.

« پاسخ »

زاویه \widehat{BAD} زاویه ظلی است پس $\widehat{BAD} = \frac{\widehat{AB}}{2} = \frac{90^\circ}{2} = 45^\circ$ در نتیجه $\widehat{DAC} = 45^\circ$ است مثلث ABC متساوی‌الساقین است پس نیمساز AD بر ارتفاع مثلث منطبق بوده یعنی AD بر BC عمود است زاویه \widehat{C} بیرونی است. داریم:

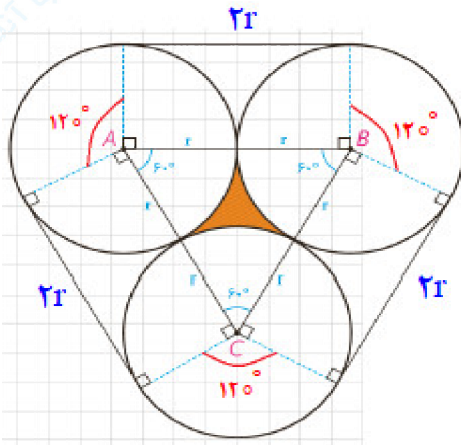
$$\widehat{BC'} = 180^\circ - 45^\circ = \frac{\widehat{BC'} - 90^\circ}{2} \quad \text{یا} \quad \widehat{C} = \frac{\widehat{BC'} - \widehat{AB}}{2}$$

بوده یعنی خط BC' قطر دایره است.



۲۷- سه دایره به شعاع‌های برابر r دو به دو بر هم مماس‌اند. مطابق شکل مقابل این سه دایره به وسیله‌ی نخ‌ی بسته شده‌اند. نشان دهید طول این نخ برابر $6r + 2\pi r$. هم‌چنین نشان دهید مساحت ناحیه محدود به سه دایره برابر $r^2 \left(\sqrt{3} - \frac{\pi}{3} \right)$ است.

« پاسخ »



مجموع سه قطاع با زاویه‌ی 120° درجه تشکیل یک دایره کامل می‌دهد بنابراین داریم:

$$\text{طول نخ} = 6r + 2\pi r = 2r + 2r + 2r + \text{محیط یک دایره}$$

مجموع سه قطاع با زاویه 60° درجه تشکیل یک نیم‌دایره می‌دهد بنابراین داریم:

= مساحت ناحیه هاشور خورده

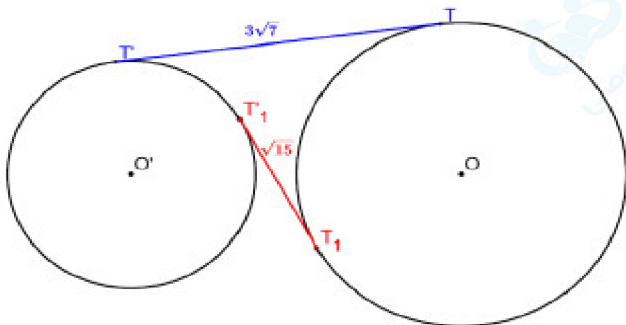
مساحت نیم‌دایره - مساحت مثلث ABC

= مساحت ناحیه هاشور خورده

$$\frac{\sqrt{3}}{4}(2r)^2 - \frac{\pi r^2}{2} = \frac{4\sqrt{3}}{4}r^2 - \frac{\pi r^2}{2} = r^2 \left(\sqrt{3} - \frac{\pi}{3} \right)$$

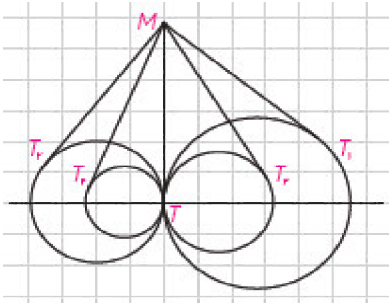
۲۸- طول شعاع‌های دو دایره‌ی متخارج را به دست آورید که طول مماس مشترک خارجی آنها مساوی $3\sqrt{7}$ و طول مماس مشترک داخلی آنها $\sqrt{15}$ و طول خط‌المركزین آنها مساوی ۸ واحد است.

« پاسخ »



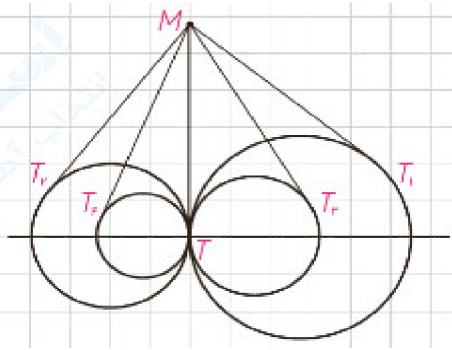
$$\begin{cases} TT_1^2 = d^2 - (R^2 - R')^2 \\ TT_1^2 = d^2 - (R + R')^2 \end{cases} \Rightarrow \begin{cases} 63 = 64 - (R - R')^2 \\ 15 = 64 - (R + R')^2 \end{cases}$$

$$\Rightarrow \begin{cases} R - R' = 1 \\ R + R' = 7 \end{cases} \Rightarrow 2R = 8 \Rightarrow R = 4 \Rightarrow R' = 3$$



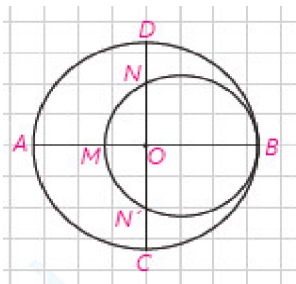
۲۹- مطابق شکل مقابل، تمام دایره‌ها در نقطه T بر هم مماس‌اند و از نقطه M روی مماس مشترک آن‌ها بر دایره‌ها مماس رسم کرده‌ایم؛ ثابت کنید
 $MT_1 = MT_2 = MT_3 = MT_4 = \dots$

« پاسخ »



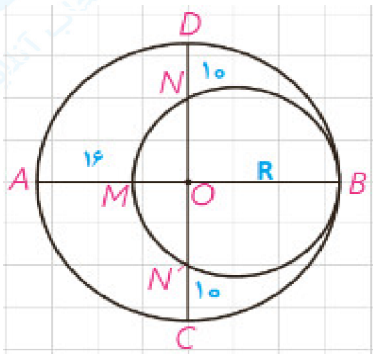
از هر نقطه خارج دایره طول مماس‌های رسم شده با هم برابرند. بنابراین داریم:

$$\begin{aligned} MT &= MT_1 \\ MT &= MT_2 \\ MT &= MT_3 \\ MT &= MT_4 \end{aligned} \left. \vphantom{\begin{aligned} MT &= MT_1 \\ MT &= MT_2 \\ MT &= MT_3 \\ MT &= MT_4 \end{aligned}} \right\} \\ \Rightarrow MT &= MT_1 = MT_2 = MT_3 = MT_4$$



۳۰- در شکل مقابل، دو دایره بر هم مماس و دو قطر AB و CD از دایره بزرگ‌تر بر هم عمودند. اگر $AM = ۱۶$ و $ND = ۱۰$ ، شعاع‌های دو دایره را پیدا کنید.

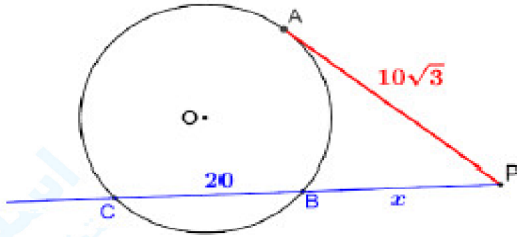
« پاسخ »



$$\begin{aligned} OB \cdot OM &= ON \cdot ON' \Rightarrow R(R - 16) = (R - 10)(R - 10) \\ R^2 - 16R &= R^2 - 20R + 100 \Rightarrow 4R = 100 \Rightarrow R = 25 \\ R' &= \frac{MB}{2} \Rightarrow R' = \frac{2R - 16}{2} \Rightarrow R' = \frac{50 - 16}{2} = 17 \end{aligned}$$

۳۱- از نقطه‌ی P در خارج دایره‌ای مماس PA به طول $10\sqrt{3}$ را بر آن رسم کرده‌ایم (A روی دایره است). هم‌چنین خطی از P گذرانده‌ایم که دایره را در دو نقطه‌ی B و C قطع کرده است و $BC = 20$. طول‌های PB و PC را به دست آورید.

« پاسخ »

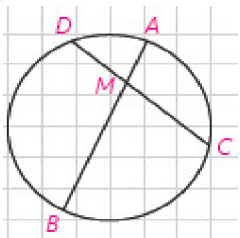


$$PA^2 = PB \cdot PC \rightarrow (10\sqrt{3})^2 = x(x + 20)$$

$$\Rightarrow x^2 + 2x - 300 = 0 \Rightarrow (x - 10)(x + 30) = 0$$

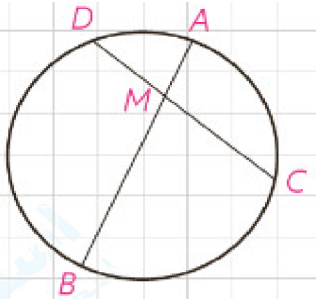
$$\Rightarrow x = 10, \quad x = -30 \text{ غ ق ق}$$

$$\Rightarrow PB = 10, \quad PC = 30$$



۳۲- در دایره‌ی C(O, R)، وتر AB، وتر CD به طول ۹ سانتی‌متر را به نسبت ۱ به ۲ تقسیم کرده است. اگر $AB = 11 \text{ cm}$ ، آن‌گاه وتر CD وتر AB را به چه نسبتی قطع می‌کند؟

« پاسخ »



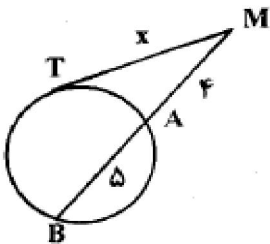
$$\frac{DM}{MC} = \frac{1}{2} \Rightarrow \frac{DM}{DC} = \frac{1}{3} \Rightarrow \frac{DM}{9} = \frac{1}{3} \Rightarrow DM = 3 \Rightarrow MC = 6$$

$$DM \cdot MC = AM \cdot BM \xrightarrow{AM = x} 3 \times 6 = x(11 - x)$$

$$x^2 - 11x + 18 = 0 \Rightarrow (x - 9)(x - 2) = 0$$

$\Rightarrow x = 2, \quad x = 9$ با توجه به شکل غ ق ق

$$\Rightarrow \frac{AM}{MB} = \frac{2}{9}$$



۳۳- در شکل زیر مقدار X را به دست آورید.

« پاسخ »

$$MT^2 = MA \times MB \quad (0/25) \Rightarrow x^2 = 4 \times 5 \quad (0/25) \Rightarrow x = 2 \quad (0/25)$$

۳۴- دو دایره به شعاع ۱ و ۴ سانتی متر، مماس برون هستند. مقدار X را چنان بیابید که اندازه مماس مشترک خارجی آنها برابر $3X + 1$ باشد.

« پاسخ »

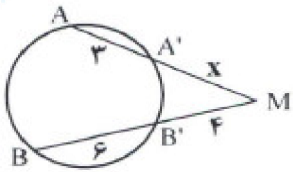
$$R = 4 \quad R' = 1 \Rightarrow d = 5 \quad (0/25) \quad TT' = \sqrt{d^2 - (R - R')^2} \quad (0/25)$$

$$3X + 1 = \sqrt{5^2 - (4 - 1)^2}$$

$$3X + 1 = \sqrt{25 - 9} = \sqrt{16} = 4 \quad (0/25)$$

$$\Rightarrow X = 1 \quad (0/25)$$

ص ۸۲



۳۵- در شکل زیر مقدار X را محاسبه کنید.

« پاسخ »

با توجه به رابطه طولی در مثلث داریم:

$$MA' \times MA = MB' \times MB$$

$$X(X + 3) = 4(4 + 6)$$

$$X^2 + 3X - 40 = 0 \Rightarrow (X + 8)(X - 5) = 0 \Rightarrow X = 5$$

۳۶- مقدار X را چنان بیابید که اندازه مماس مشترک داخلی دو دایره به شعاعهای ۲ و ۳ و خط مرکزین $d = 13$ ، برابر $5X - 8$ باشد.

« پاسخ »

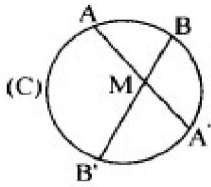
$$R = 2 \quad R' = 3 \quad d = 13 \quad TT' = \sqrt{d^2 - (R + R')^2} \quad (0/25)$$

$$5X - 8 = \sqrt{13^2 - (2 + 3)^2}$$

$$5X - 8 = \sqrt{169 - 25} = \sqrt{144} = 12 \quad (0/25) \Rightarrow X = 4 \quad (0/25)$$

ص ۸۲

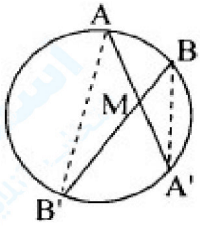
۳۷- قضیه: از نقطه M واقع در داخل دایره (C) دو وتر دلخواه AA' و BB' رسم شده‌اند، ثابت کنید:



$$MA \times MA' = MB \times MB'$$

« پاسخ »

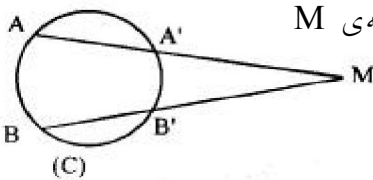
برهان: از A به B' و از B به A' وصل می‌کنیم، دو مثلث AMB' و BMA' متشابه‌اند. (۰/۲۵) زیرا:



$$\begin{cases} \widehat{AMB'} = \widehat{A'MB} \\ \widehat{A} = \widehat{B} = \widehat{A'B'} \end{cases} \quad (۰/۵) \Rightarrow \frac{MA}{MB} = \frac{MB'}{MA'} \quad (۰/۲۵)$$

$$\Rightarrow MA \times MA' = MB \times MB'$$

ص ۷۴

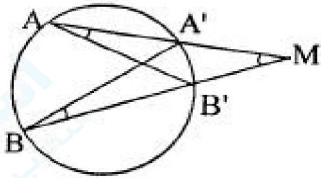


۳۸- ثابت کنید اگر امتداد وترهای AA' و BB' از دایره (C) یکدیگر را در نقطه‌ی M قطع کنند. آن‌گاه:

$$MA \times MA' = MB \times MB'$$

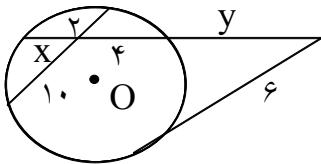
« پاسخ »

ابتدا A را به B' و B را به A' وصل می‌کنیم. دو مثلث AMB' و A'MB متشابه‌اند (۰/۲۵) زیرا:



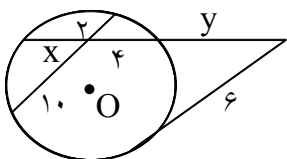
$$\begin{cases} \widehat{A} = \widehat{B} = \widehat{A'B'} \quad (۰/۵) \\ \widehat{M} \text{ مشترک} \end{cases} \Rightarrow \frac{MA}{MB} = \frac{MB'}{MA'} \quad (۰/۲۵)$$

$$\Rightarrow MA \times MA' = MB \times MB'$$



۳۹- در شکل مقابل مقادیرهای X و Y را به دست آورید.

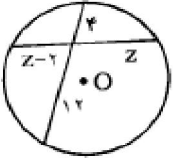
« پاسخ »



$$4 \times X = 2 \times 10 \quad (۰/۲۵) \Rightarrow X = 5 \quad (۰/۲۵)$$

$$6^2 = Y(Y + 9) \quad (۰/۲۵) \Rightarrow Y^2 + 9Y - 36 = 0 \Rightarrow Y = 3 \quad (۰/۲۵)$$

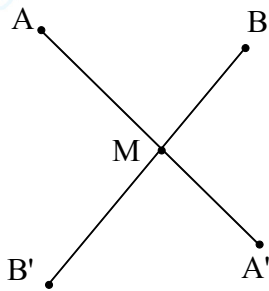
۴۰- با توجه به شکل زیر اندازه‌ی Z را تعیین کنید.



« پاسخ »

$$4 \times 12 = Z(Z - 2) \quad (0/5)$$

$$Z^2 - 2Z - 48 = 0 \Rightarrow (Z - 8)(Z + 6) = 0 \quad (0/25) \Rightarrow Z = 8, Z = -6 \Rightarrow Z = 8 \quad \text{ق ق} \quad (0/25)$$



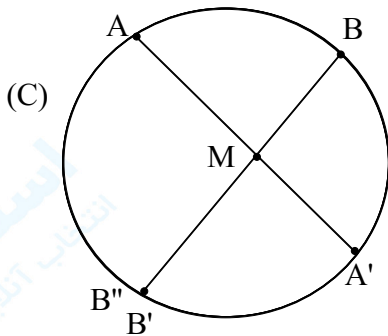
۴۱- قضیه: ثابت کنید اگر دو پاره‌خط AA' و BB' در نقطه‌ی M یکدیگر را طوری قطع کنند که $MA \cdot MA' = MB \cdot MB'$ ، آنگاه چهار نقطه‌ی A, A', B, B' روی یک دایره‌اند.

« پاسخ »

برهان: بر سه نقطه‌ی A, B, A' یک دایره می‌گذرانیم. (دایره‌ی C) اگر این دایره از نقطه‌ی B' بگذرد، حکم ثابت است. (0/25) اما اگر این دایره از B' نگذرد، خط MB را در نقطه‌ی دیگری مانند B'' قطع خواهد کرد، در این صورت خواهیم داشت:

$$MA \cdot MA' = MB \cdot MB'' \quad (0/25)$$

از مقایسه‌ی این رابطه با فرض قضیه، نتیجه می‌شود $MB' = MB''$ (0/25) و این نشان می‌دهد که B'' بر B' منطبق است. یعنی دایره‌ای که بر سه نقطه A, B, A' گذشته‌است، از نقطه‌ی B' نیز می‌گذرد، پس چهار نقطه A, A', B, B' روی یک دایره واقع‌اند.



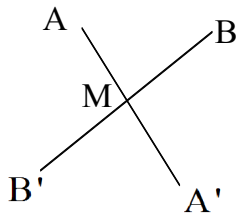
۴۲- دو دایره به شعاع‌های ۲ سانتی‌متر و ۷ سانتی‌متر و خط‌المركزین برابر $2x + 1$ سانتی‌متر مفروضند. اگر اندازه‌ی مماس مشترک خارجی $2x$ را محاسبه کنید.

« پاسخ »

$$TT' = \sqrt{d^2 - (R - R')^2}$$

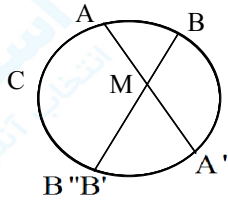
$$2x = \sqrt{(2x + 1)^2 - (7 - 2)^2}$$

$$\rightarrow 4x^2 = 4x^2 + 4x + 1 - 25 \rightarrow x = 6$$



۴۳- عکس قضیه (رابطه طولی در دایره): ثابت کنید اگر دو پاره خط AA' و BB' در نقطه M یکدیگر را طوری قطع کنند که $MA \times MA' = MB \times MB'$ آنگاه چهار نقطه A, A', B, B' روی یک دایره‌اند.

« پاسخ »



بر سه نقطه A, B, A' یک دایره می‌گذرانیم (دایره C) اگر این دایره از نقطه‌ی B' بگذرد، حکم ثابت است (۰/۲۵). اما اگر این دایره از B' نگذرد، خط MB را در نقطه‌ی دیگری مانند B'' قطع خواهد کرد. در این صورت خواهیم داشت:

$$(۰/۲۵) \quad MA \cdot MA' = MB \cdot MB''$$

از مقایسه‌ی این رابطه با فرض قضیه، نتیجه می‌شود $MB' = MB''$ (۰/۲۵) و این نشان می‌دهد که B'' بر B' منطبق است (۰/۲۵) یعنی دایره‌ای که بر سه نقطه A, B, A' گذشته است، از نقطه‌ی B' نیز می‌گذرد. پس چهار نقطه A, A', B, B' روی یک دایره واقع هستند.

۴۴- دو دایره $C (O, ۶)$ و $C' (O', ۴)$ مفروضند. اگر $OO' = d$ باشد، اوضاع دایره را در حالت‌های زیر بنویسید. (با ذکر دلیل)

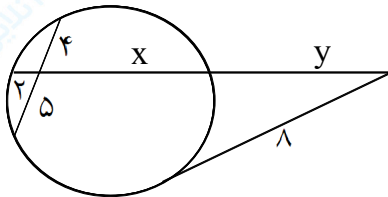
$$d = ۲ \quad (۱) \quad d = ۷ \quad (۲)$$

« پاسخ »

$$(۱) \quad (۰/۲۵) \quad \text{دو دایره مماس درون} \quad (۰/۲۵) \quad d = R - R' = ۶ - ۴ = ۲$$

$$(۲) \quad (۰/۲۵) \quad \text{دو دایره متقاطع} \quad (۰/۲۵) \quad R - R' < d < R + R' \Rightarrow ۶ - ۴ < ۷ < ۶ + ۴$$

۴۵- با توجه به شکل مقدار x و y را بیابید.

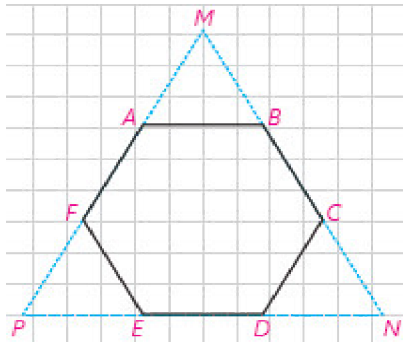


« پاسخ »

$$2x = 20 \Rightarrow x = 10 \quad (۰/۲۵)$$

$$y(y + 10 + 2) = 64 \quad (۰/۲۵) \Rightarrow y^2 + 12y - 64 = 0$$

$$\Rightarrow (y + 16)(y - 4) = 0 \Rightarrow \begin{cases} y = 4 & (۰/۲۵) \\ y = -16 & \text{غ ق ق} \quad (۰/۲۵) \end{cases}$$



۴۶- شش ضلعی منتظم ABCDEF مفروض است با امتداد دادن اضلاع شش ضلعی مطابق شکل، مثلث MNP را ساخته ایم.

(الف) نشان دهید MNP متساوی الاضلاع است.

(ب) نشان دهید مساحت شش ضلعی، دو سوم مساحت مثلث MNP است.

(پ) از نقطه‌ی دلخواه T درون شش ضلعی عمودهای TH، TH'، TH'' را به ترتیب بر BC، ED، AF رسم کنید. مجموع طول‌های این سه عمود با کدام جزء از مثلث MNP برابر است؟

(ت) مجموع مساحت‌های مثلث‌های TBC، TDE، TAF چه کسری از مساحت مثلث MNP است؟ نشان دهید:

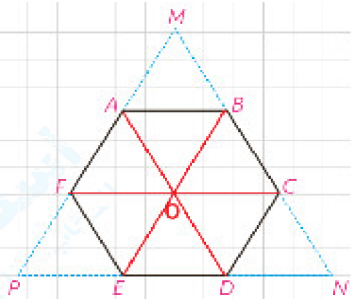
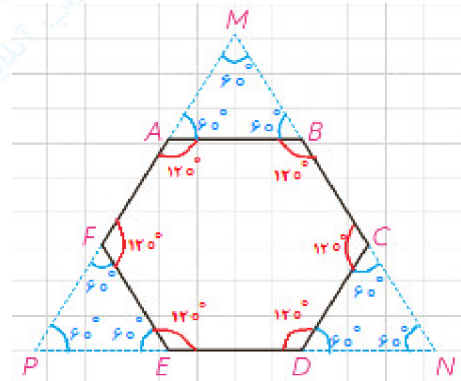
$$S_{TBC} + S_{TDE} + S_{TAF} = S_{TAB} + S_{TEF} + S_{TCD}$$

« پاسخ »

(الف) اندازه هر زاویه داخلی شش ضلعی منتظم 120° است. بنابراین زاویه‌های خارجی 60° است. با توجه به شکل و مجموع زوایای داخلی هر مثلث نتیجه می‌گیریم که $\hat{M} = \hat{N} = \hat{P} = 60^\circ$ و در نتیجه مثلث MNP متساوی الساقین است.

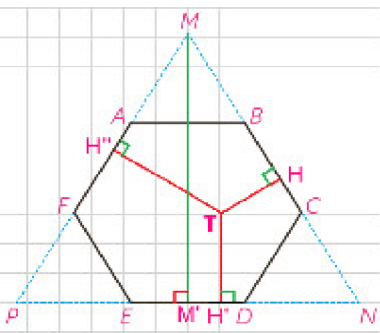
(ب) اگر قطرهای شش ضلعی منتظم را رسم کنیم آنرا به شش مثلث متساوی الاضلاع تقسیم می‌کنیم و در مثلث MNP، ۹ مثلث هم‌نهشت ایجاد می‌شود.

$$\frac{S_{\text{شش ضلعی}}}{S_{MNP}} = \frac{6S_{MAB}}{9S_{MAB}} = \frac{6}{9} = \frac{2}{3}$$



(پ) مجموع فواصل هر نقطه درون مثلث متساوی الاضلاع مقداری ثابت است و این مقدار با طول ارتفاع مثلث برابر است:

$$TH + TH' + TH'' = MM'$$

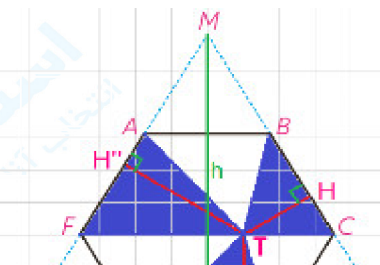


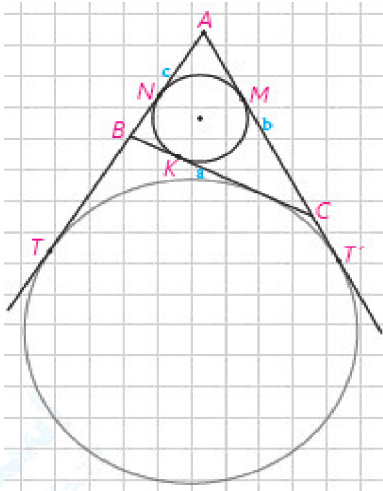
(ت)

$$S_{TBC} + S_{TDE} + S_{TAF} = S_{TAB} + S_{TEF} + S_{TCD}$$

$$S_{TAF} + S_{TDE} + S_{TBC}$$

$$= \frac{1}{2} AF \cdot TH'' + \frac{1}{2} DE \cdot TH' + \frac{1}{2} BC \cdot TH$$

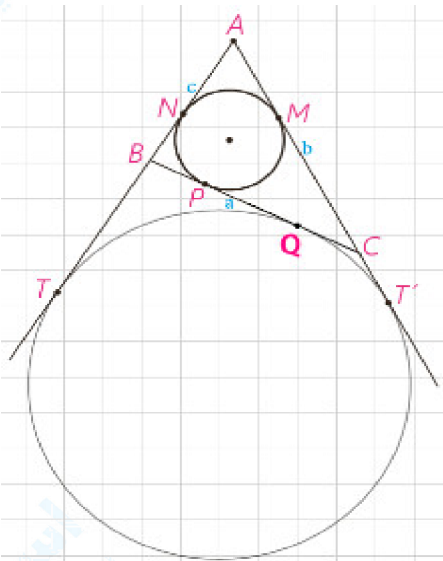




۴۷- اگر نقاط تماس دایره محاطی داخلی مثلث ABC با اضلاع آن M، N و K باشند و T و T' نقطه‌های تماس یک دایره محاطی خارجی با خط‌های شامل دو ضلع باشند، نشان دهید:

$$\begin{aligned} AM &= AN = P - a \\ BN &= BK = P - b, \quad CM = CK = P - c \\ AT &= AT' = P \end{aligned}$$

« پاسخ »



$$\begin{aligned} AM &= AN = P - a \\ \left. \begin{aligned} AN &= c - BN \\ AM &= b - CM \end{aligned} \right\} &\Rightarrow AM + AN \\ &= b + c - (BN + CM) \\ AM &= AN \\ \xrightarrow{CM = CP, \quad BN = BP} \end{aligned}$$

$$\checkmark AM = b + c - \underbrace{(BP + CP)}_a = b + c - a$$

$$\checkmark AM = \checkmark p - \checkmark a \Rightarrow AM = AN = p - a$$

$$BN = BP = P - b$$

$$\left. \begin{aligned} BN &= c - AN \\ BP &= a - CP \end{aligned} \right\} \Rightarrow BN + BP = a + c - (AN + CP) \xrightarrow{\substack{BP = BN \\ AN = AM, \quad CP = CM}}$$

$$\checkmark BN = a + c - \underbrace{(AM + CM)}_b = a + c - b$$

$$\checkmark BN = \checkmark p - \checkmark b \Rightarrow BN = BP = p - b$$

$$CM = CP = P - c$$

$$\left. \begin{aligned} CM &= b - AM \\ CP &= a - BP \end{aligned} \right\} \Rightarrow CM + CP = b + a - (AM + BP) \xrightarrow{\substack{CM = CP \\ AN = AM, \quad BP = BN}}$$

$$\checkmark CM = b + a - \underbrace{(AN + BN)}_c = b + a - c$$

$$\checkmark CM = \checkmark p - \checkmark c \Rightarrow CM = CP = p - c$$

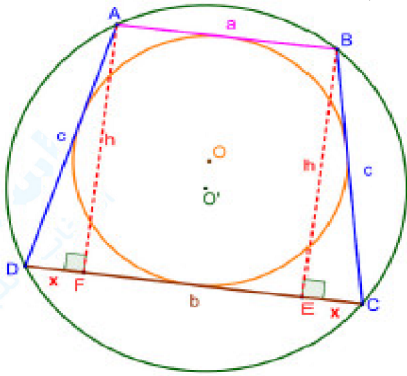
$$AT = AT' = P$$

$$AT + AT' - c + BT + b + CT' \xrightarrow{\substack{AT = AT' \\ BT = BQ, \quad CT' = CQ}} \checkmark AT = c + b + \underbrace{BQ + CQ}$$

۴۸- یک دوزنقه، هم محیطی است و هم محاطی. ثابت کنید مساحت این دوزنقه برابر است با میانگین حسابی دو قاعده آن ضرب در میانگین هندسی آنها

« پاسخ »

چون دوزنقه ی ABCD محاطی است پس متساوی الساقین است و چون محیطی است مجموع دو ضلع مقابل با مجموع دو ضلع مقابل دیگر برابر است. در نتیجه: $2c = a + b$ و مثلث ADF قائم الزاویه است.



$$2c = a + b \Rightarrow c = \frac{a + b}{2}, \quad b = 2x + a \Rightarrow x = \frac{b - a}{2}$$

$$h^2 = c^2 - x^2 \Rightarrow h^2 = \left(\frac{a + b}{2}\right)^2 - \left(\frac{b - a}{2}\right)^2$$

$$\Rightarrow h^2 = \frac{4ab}{4} \Rightarrow h = \sqrt{ab}$$

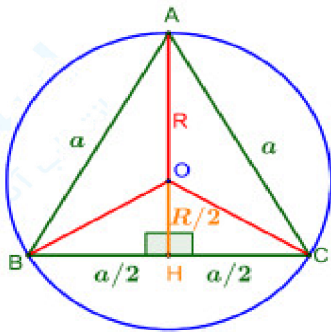
$$S_{ABCD} = \frac{1}{2}(a + b) \times h \Rightarrow S_{ABCD} = \frac{1}{2}(a + b)\sqrt{ab}$$

۴۹- مساحت مثلث متساوی الاضلاعی را به دست آورید که در دایره‌ای به شعاع R محاط شده باشد.

« پاسخ »

مرکز دایره‌ی محیطی نقطه‌ی O محل برخورد عمود منصف‌های اضلاع مثلث است و چون مثلث متساوی‌الاضلاع است نقطه‌ی O محل برخورد میانه‌ها هم هست. بنابراین:
راه اول:

$$AB = BC = AC = a, \quad BH = CH = \frac{a}{2}$$



$$OH = \frac{OA}{2} \Rightarrow OH = \frac{R}{2} \Rightarrow AH = R + \frac{R}{2} = \frac{3}{2}R$$

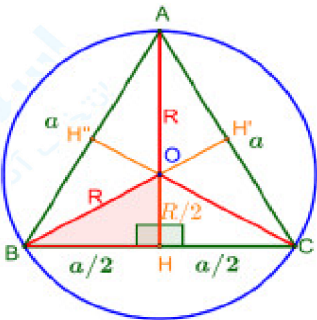
$$\triangle ACH : H = 90^\circ \Rightarrow AH = \sqrt{AC^2 - CH^2}$$

$$\Rightarrow AH = \frac{\sqrt{3}}{2}a$$

$$\Rightarrow \frac{\sqrt{3}}{2}a = \frac{3}{2}R \Rightarrow a = \frac{3R}{\sqrt{3}} \Rightarrow a = R\sqrt{3}$$

$$S_{ABC} = \frac{\sqrt{3}}{4}a^2 \Rightarrow S_{ABC} = \frac{\sqrt{3}}{4}(R\sqrt{3})^2 \Rightarrow S_{ABC} = \frac{3\sqrt{3}}{4}R^2$$

راه دوم: با توجه به شکل مثلث ABC از شش مثلث هم‌نهشت ساخته شده است. این مثلث‌های به حالت (ض ز ض) هم‌نهشت هستند.



$$\triangle OBA : H = 90^\circ \Rightarrow BH = \sqrt{R^2 - \left(\frac{R}{2}\right)^2} = \frac{R}{2}\sqrt{3}$$

$$S_{ABC} = 6S_{OBH} \Rightarrow S_{ABC} = 6 \times \frac{1}{2} \times \frac{R}{2} \times \frac{R}{2}\sqrt{3}$$

$$\Rightarrow S_{ABC} = \frac{3\sqrt{3}}{4}R^2$$

۵۰- در سوالات زیر گزینه درست را انتخاب کنید:

- الف) مرکز دایره محاطی داخلی هر مثلث، محل برخورد آن مثلث است.
- (۱) ارتفاع‌های اضلاع
(۲) عمود منصف‌های اضلاع
(۳) نیم‌سازهای زاویه‌های درونی
(۴) میانه‌های اضلاع
- ب) مرکز دایره محیطی هر مثلث، محل برخورد آن مثلث است.
- (۱) ارتفاع‌های اضلاع
(۲) عمود منصف‌های اضلاع
(۳) نیم‌سازهای زاویه‌های درونی
(۴) میانه‌های اضلاع

« پاسخ »

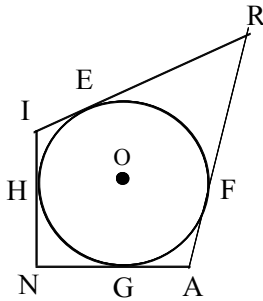
الف) گزینه ۳ پاسخ صحیح است. (۰/۲۵) ص ۵۳

ب) گزینه ۲ پاسخ صحیح است. (۰/۲۵) ص ۵۹

۵۱- ضلع‌های چهارضلعی محیطی IRAN بر دایره مماس‌اند. (شکل روبه‌رو)

ثابت کنید:

$$IR + AN = RA + NI$$



« پاسخ »

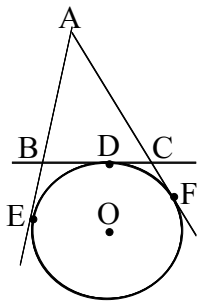
می‌دانیم اگر از هر نقطه دو مماس بر دایره رسم کنیم آن‌گاه اندازه‌های دو مماس برابرند، بنابراین:

$$\begin{cases} RE = RF \\ IE = IH \\ NG = NH \\ AG = AF \end{cases}$$

$$\Rightarrow RE + IE + NG + AG = RF + IH + NH + AF$$

$$\Rightarrow IR + AN = RA + NI$$

رابطه‌ها را با هم جمع می‌کنیم.



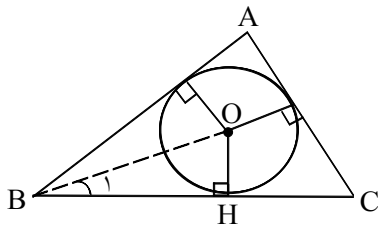
۵۲- خط های AE ، AF و BC به ترتیب در نقطه های E ، F و D بر دایره (O) مماس هستند. مماس BC ، خط های AE و AF را به ترتیب در نقطه های B و C قطع کرده است. ثابت کنید که با تغییر مکان نقطه D روی دایره بین دو نقطه E و F ، محیط مثلث ABC ثابت می ماند.

« پاسخ »

می دانیم که طول مماس های رسم شده از نقطه ای خارج از یک دایره با هم برابر است.

$$\begin{aligned} \text{محیط مثلث} &= AB + AC + BC = AB + AC + BD + DC = AB + AC + BE + CF \quad (0/75) \\ &= AE + AF = 2AE \quad (0/25) \end{aligned}$$

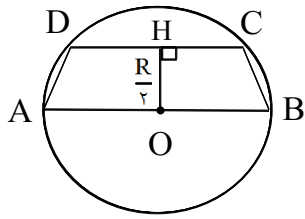
بنابراین محیط مثلث ABC مستقل از نقطه D بوده و مقدار آن ثابت است.



۵۳- مثلی رسم کنید که از آن طول یک ضلع و زاویه مقابل به آن و شعاع دایره محاطی معلوم باشد.

« پاسخ »

چون مرکز دایره محاطی در محل تلاقی نیمسازهای مثلث است پس اگر زاویه B معلوم باشد مثلث OHB را با معلوم بودن OH و $\hat{H} = 90^\circ$ و \hat{B}_1 که معلوم است رسم می کنیم به مرکز O به شعاع $r = OH$ دایره محاطی رسم کرده از B مماس بر دایره رسم می کنیم به اندازه $\frac{B}{4}$ و همچنین مثلث OHC نیز قابل رسم است از C خطی رسم می کنیم که با آن زاویه $\frac{C}{4}$ بسازد تا این دو خط همدیگر را در نقطه A قطع کند مثلث ABC مثلث مطلوب است.



۵۴- ذوزنقه‌ی متساوی‌الساقین ABCD در دایره‌ای به شعاع R چنان محاط است که AB قطر دایره و ارتفاع این ذوزنقه $\frac{R}{2}$ می‌باشد. محیط و مساحت این ذوزنقه را بر حسب R تعیین کنید.

« پاسخ »

از O به D وصل می‌کنیم. در مثلث قائم‌الزاویه OHD داریم:

$$HD^2 = OD^2 - OH^2 = R^2 - \frac{R^2}{4} = \frac{3R^2}{4} \Rightarrow HD = \frac{R\sqrt{3}}{2} \Rightarrow CD = 2HD = R\sqrt{3}$$

در مثلث قائم‌الزاویه ADD' داریم:

$$AD' = AO - OD' = R - \frac{R\sqrt{3}}{2} = R\left(1 - \frac{\sqrt{3}}{2}\right)$$

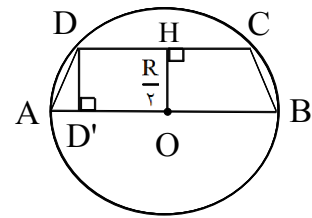
$$DD' = OH = \frac{R}{2}$$

$$\Rightarrow AD^2 = AD'^2 + DD'^2 \Rightarrow AD^2 = R^2\left(1 - \frac{\sqrt{3}}{2}\right)^2 + \frac{R^2}{4} = R^2(2 - \sqrt{3})$$

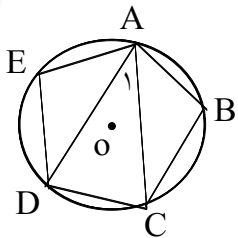
$$\Rightarrow AD = R\sqrt{2 - \sqrt{3}} = BC \text{ اندازه هر ساق ذوزنقه}$$

$$\text{محیط ذوزنقه} = 2R + 2R\sqrt{2 - \sqrt{3}} + R\sqrt{3} = R(2 + \sqrt{3} + 2\sqrt{2 - \sqrt{3}})$$

$$\text{مساحت ذوزنقه} = \frac{1}{2} OH (AB + CD) = \frac{1}{2} \times \frac{R}{2} (2R + R\sqrt{3}) = \frac{R^2}{4} (2 + \sqrt{3})$$



۵۵- در دایره $C(O, R)$ یک پنج‌ضلعی منتظم محاط شده است. زاویه بین دو قطر مرسوم از یک رأس را به دست آورید.



« پاسخ »

پنج‌ضلعی منتظم دایره را به پنج قسمت مساوی تقسیم می‌کند به طوری که اندازه‌ی هر کمان آن $\frac{360}{5}$ می‌باشد.

$$\widehat{A_1} = \frac{\widehat{DC}}{2} = \frac{\frac{360}{5}}{2} = 36$$

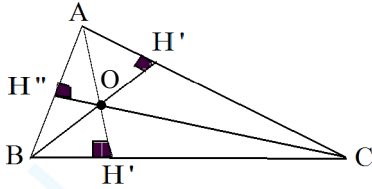
۵۶- ثابت کنید شعاع دایره محاطی داخلی هر مثلث از رابطه‌ی زیر بدست می‌آید. که در آن S مساحت مثلث و P نصف محیط مثلث می‌باشد. $R = \frac{S}{P}$

« پاسخ »

راه حل: فرض کنیم O مرکز دایره محاطی درونی مثلث ABC باشد.

در این صورت نقطه‌ی O از سه ضلع مثلث ABC باشد.

در این صورت نقطه‌ی O از سه ضلع مثلث ABC به یک فاصله خواهد بود، داریم:



$$S_{ABC} = S_{AOB} + S_{AOC} + S_{BOC}$$

$$S = \frac{1}{2} OH'' \times AB + \frac{1}{2} OH' \times AC + \frac{1}{2} OH \times BC$$

$$S = \frac{1}{2} r \cdot AB + \frac{1}{2} r \cdot AC + \frac{1}{2} r \cdot BC$$

$$S = \frac{1}{2} r (AB + AC + BC)$$

$$S = \frac{1}{2} r (2P) \Rightarrow R = \frac{S}{P}$$

۵۷- مثلث ABC در دایره به مرکز O محاط است. نیمساز داخلی زاویه‌ی A دایره O را در نقطه‌ی D و نیمساز خارجی آن دایره را در نقطه‌ی D' قطع می‌کند. ثابت کنید DD' بر BC عمود است.

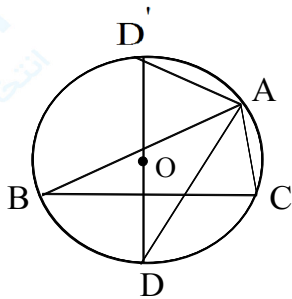
« پاسخ »

می‌دانیم نیمساز داخلی و خارجی یک رأس مثلث بر هم عموداند پس

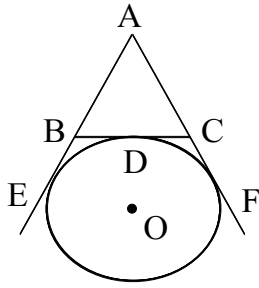
$AD \perp AD'$ به عبارتی $\widehat{DAD'} = 90^\circ$ بنابراین DD' قطر دایره است. از طرفی

D وسط کمان BC است و قطر DD' از وسط کمان BC عبور کرده بنابراین DD'

از وسط وتر BC گذشته و بر آن عمود است یعنی DD' عمود منصف BC است.



۵۸- در شکل مقابل خطهای AE و AF بر دایره مماس هستند. نشان دهید با تغییر مکان نقطه D روی دایره بین دو نقطه ثابت E و F محیط مثلث ABC ثابت می ماند.

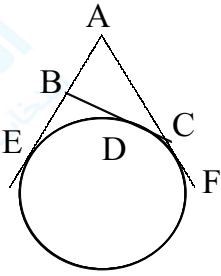


« پاسخ »

فرض: AE و AF بر دایره مماس هستند.

حکم: محیط $\triangle ABC$ ثابت است.

برهان: می دانیم اگر از یک نقطه خارج دایره دو مماس بر دایره بکشیم طول دو مماس با هم برابرند.



$$CD = CF, BC = BE \quad (1)$$

$$AB \text{ محیط} = AB + AC + BC$$

$$= AB + AC + BC + DC \xrightarrow{\text{از (1)}} AB + AC + BE + CF = AE + AF = 2AF$$

پس محیط مثلث بستگی به تغییر نقطه D روی دایره ندارد.

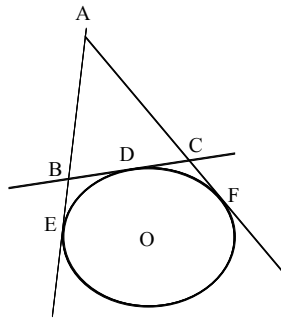
۵۹- خطهای AE , AF و BC به ترتیب در نقطه های E , F و D بر دایره (O) مماس هستند.

مماس BC , خطهای AE و AF را به ترتیب در نقطه های

B و C قطع کرده است. ثابت کنید با تغییر مکان نقطه D

روی دایره بین دو نقطه ثابت E و F , محیط مثلث ABC

ثابت می ماند.



« پاسخ »

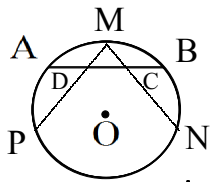
اگر از یک نقطه دو مماس بر دایره رسم کنیم آنگاه اندازه های دو مماس برابرند. پس $BD = BE$ و $CD = CF$

$$\widehat{ABC} \text{ محیط} = AB + BC + AC \rightarrow \widehat{ABC} \text{ محیط} = AB + BD + DC + AC$$

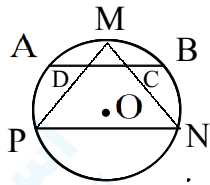
داریم:

$$\widehat{ABC} \text{ محیط} = AB + BE + CF + AC \rightarrow \widehat{ABC} \text{ محیط} = AE + AF \rightarrow \widehat{ABC} \text{ محیط} = \text{مقدار ثابت}$$

۶۰- از نقطه M وسط کمان AB دو وتر دلخواه MN و MP را رسم می‌کنیم تا وتر AB را در نقاط C و D قطع کند. ثابت کنید چهارضلعی CDPN محاطی است.



« پاسخ »



حکم: $C(O, R)$
 $AM = BM \Rightarrow$ محاطی است CDPN

با توجه به شرط محاطی بودن چهارضلعی باید ثابت کرد:

$$\begin{cases} \hat{P} + \hat{D} = 180^\circ \\ \hat{C} + \hat{N} = 180^\circ \end{cases}$$

$$\Rightarrow \hat{P} = \frac{\widehat{MB} + \widehat{BN}}{2} \text{ محاطی است و } \hat{D} = \frac{\widehat{MB} + \widehat{AP} + \widehat{PN}}{2}$$

$$\hat{P} + \hat{D} = \frac{\widehat{MB} + \widehat{BN}}{2} + \frac{\widehat{MB} + \widehat{AP} + \widehat{PN}}{2}$$

$$\hat{P} + \hat{D} = \frac{\widehat{MB} + \widehat{BN} + \widehat{AM} + \widehat{AP} + \widehat{PN}}{2} = \frac{360^\circ}{2} = 180^\circ \text{ و } \hat{C} + \hat{N} = 180^\circ \text{ : به همین ترتیب}$$